

মেশিন টুলস অপারেশন-১

এসএসসি ও দাখিল (ভোকেশনাল)

নবম-দশম শ্রেণি



জাতীয় শিক্ষাক্রম ও পাঠ্যপুস্তক বোর্ড কর্তৃক প্রকাশিত

বাংলাদেশ কারিগরি শিক্ষা বোর্ড কর্তৃক প্রণীত



বাংলাদেশ কারিগরি শিক্ষাবোর্ড কর্তৃক ২০১৭ শিক্ষাবর্ষ থেকে এসএসসি (ভোকেশনাল) ও
দাখিল (ভোকেশনাল) শিক্ষাক্রমের নবম ও দশম শ্রেণির পাঠ্যপুস্তকরূপে নির্ধারিত

মেশিন টুলস অপারেশন-১

Machine Tools Operation-1

প্রথম ও দ্বিতীয় পত্র
নবম ও দশম শ্রেণি

লেখক

ড. প্রকৌশলী হরিপদ চন্দ্র পাল

অধ্যক্ষ

গাজীপুর টেকনিক্যাল স্কুল ও কলেজ

জাতীয় শিক্ষাক্রম ও পাঠ্যপুস্তক বোর্ড, বাংলাদেশ কর্তৃক প্রকাশিত

জাতীয় শিক্ষাক্রম ও পাঠ্যপুস্তক বোর্ড

৬৯-৭০, মতিঝিল বাণিজ্যিক এলাকা, ঢাকা-১০০০

কর্তৃক প্রকাশিত

[প্রকাশক কর্তৃক সর্বস্বত্ব সংরক্ষিত]

প্রথম প্রকাশ : নভেম্বর, ২০১৬
পুনর্মুদ্রণ : আগস্ট, ২০১৭
পরিমার্জিত সংস্করণ : সেপ্টেম্বর, ২০১৮
পুনর্মুদ্রণ : , ২০১৯

ডিজাইন

জাতীয় শিক্ষাক্রম ও পাঠ্যপুস্তক বোর্ড

গণপ্রজাতন্ত্রী বাংলাদেশ সরকার কর্তৃক বিনামূল্যে বিতরণের জন্য

মুদ্রণে:

প্রসঙ্গ-কথা

শিক্ষা জাতীয় জীবনের সর্বতোমুখী উন্নয়নের পূর্বশর্ত। দ্রুত পরিবর্তনশীল বিশ্বের চ্যালেঞ্জ মোকাবেলা করে বাংলাদেশকে উন্নয়ন ও সমৃদ্ধির দিকে নিয়ে যাওয়ার জন্য প্রয়োজন সুশিক্ষিত-দক্ষ মানব সম্পদ। কারিগরি ও বৃত্তিমূলক শিক্ষা দক্ষ মানব সম্পদ উন্নয়ন, দারিদ্র্য বিমোচন, কর্মসংস্থান এবং আত্মনির্ভরশীল হয়ে বেকার সমস্যা সমাধানে গুরুত্বপূর্ণ অবদান রাখছে। বাংলাদেশের মতো উন্নয়নশীল দেশে কারিগরি ও বৃত্তিমূলক শিক্ষার ব্যাপক প্রসারের কোনো বিকল্প নেই। তাই ক্রমপরিবর্তনশীল অর্থনীতির সঙ্গে দেশে ও বিদেশে কারিগরি শিক্ষায় শিক্ষিত দক্ষ জনশক্তির চাহিদা দিন দিন বৃদ্ধি পাচ্ছে। এ কারণে বাংলাদেশ কারিগরি শিক্ষা বোর্ড কর্তৃক এসএসসি (ভোকেশনাল) ও দাখিল (ভোকেশনাল) স্তরের শিক্ষাক্রম ইতোমধ্যে পরিমার্জন করে যুগোপযোগী করা হয়েছে।

শিক্ষাক্রম উন্নয়ন একটি ধারাবাহিক প্রক্রিয়া। পরিমার্জিত শিক্ষাক্রমের আলোকে প্রণীত পাঠ্যপুস্তকসমূহ পরিবর্তনশীল চাহিদার পরিপ্রেক্ষিতে এসএসসি (ভোকেশনাল) ও দাখিল (ভোকেশনাল) পর্যায়ে অধ্যয়নরত শিক্ষার্থীদের যথাযথভাবে কারিগরি শিক্ষায় দক্ষ করে গড়ে তুলতে সক্ষম হবে। অভ্যন্তরীণ ও বহির্বিশ্বে কর্মসংস্থানের সুযোগ সৃষ্টি এবং আত্মকর্মসংস্থানে উদ্যোগী হওয়াসহ উচ্চশিক্ষার পথ সুগম হবে। ফলে রূপকল্প ২০২১ অনুযায়ী জাতিকে বিজ্ঞানমনস্ক ও প্রশিক্ষিত করে ডিজিটাল বাংলাদেশ নির্মাণে আমরা উজ্জীবিত।

গণপ্রজাতন্ত্রী বাংলাদেশ সরকার ২০০৯ শিক্ষাবর্ষ হতে সকলস্তরের পাঠ্যপুস্তক বিনামূল্যে শিক্ষার্থীদের মধ্যে বিতরণ করার যুগান্তকারী সিদ্ধান্ত গ্রহণ করেছে। কোমলমতি শিক্ষার্থীদের আরও আত্মবিশ্বাস, কৌতূহলী ও মনোযোগী করার জন্য মাননীয় প্রধানমন্ত্রী শেখ হাসিনার নেতৃত্বে আওয়ামী লীগ সরকার প্রাক-প্রাথমিক, প্রাথমিক, মাধ্যমিক স্তর থেকে শুরু করে ইবতেদায়ি, দাখিল, দাখিল ভোকেশনাল ও এসএসসি ভোকেশনাল স্তরের পাঠ্যপুস্তকসমূহ চার রঙে উন্নীত করে আকর্ষণীয়, টেকসই ও বিনামূল্যে বিতরণ করার মহৎ উদ্যোগ গ্রহণ করেছে; যা একটি ব্যতিক্রমী প্রয়াস। বাংলাদেশ কারিগরি শিক্ষা বোর্ড কর্তৃক রচিত ভোকেশনাল স্তরের ট্রেড পাঠ্যপুস্তকসমূহ সরকারি সিদ্ধান্তের প্রেক্ষিতে জাতীয় শিক্ষাক্রম ও পাঠ্যপুস্তক বোর্ড ২০১৭ শিক্ষাবর্ষ থেকে সংশোধন ও পরিমার্জন করে মুদ্রণের দায়িত্ব গ্রহণ করে। উন্নতমানের কাগজ ও চার রঙের প্রচ্ছদ ব্যবহার করে পাঠ্যপুস্তকটি প্রকাশ করা হলো।

বানানের ক্ষেত্রে সমতা বিধানের জন্য অনুসৃত হয়েছে বাংলা একাডেমি কর্তৃক প্রণীত বানান রীতি। ২০১৮ সালে পাঠ্যপুস্তকটির তত্ত্ব ও তথ্যগত পরিমার্জন এবং চিত্র সংযোজন, বিয়োজন করে সংস্করণ করা হয়েছে। পাঠ্যপুস্তকটির আরও উন্নয়নের জন্য যে কোনো গঠনমূলক ও যুক্তিসংগত পরামর্শ গুরুত্বের সাথে বিবেচিত হবে। শিক্ষার্থীদের হাতে সময়মত বই পৌঁছে দেওয়ার জন্য মুদ্রণের কাজ দ্রুত করতে গিয়ে কিছু ত্রুটি-বিচ্যুতি থেকে যেতে পারে। পরবর্তী সংস্করণে বইটি আরও সুন্দর, প্রাঞ্জল ও ত্রুটিমুক্ত করার চেষ্টা করা হবে। যারা বইটি রচনা, সম্পাদনা, প্রকাশনার কাজে আন্তরিকভাবে মেধা ও শ্রম দিয়ে সহযোগিতা করেছেন তাঁদের জানাই আন্তরিক ধন্যবাদ। পাঠ্যপুস্তকটি শিক্ষার্থীরা আনন্দের সঙ্গে পাঠ করবে এবং তাদের মেধা ও দক্ষতা বৃদ্ধি পাবে বলে আশা করি।

প্রফেসর নারায়ণ চন্দ্র সাহা

চেয়ারম্যান

জাতীয় শিক্ষাক্রম ও পাঠ্যপুস্তক বোর্ড, বাংলাদেশ

সূচিপত্র

ক্রমিক নং	বিবরণ	পৃষ্ঠা
নবম শ্রেণি, তাত্ত্বিক অংশ		
১	মেশিন টুলস অপারেশন ট্রেড	১-৪
২	মেশিন শপ	৫-১২
৩	ওয়ার্কশপে সতর্কতামূলক ব্যবস্থা	১৩-১৫
৪	মেশিনশপে ব্যবহৃত কাচামাল (ধাতু ও অধাতু)	১৬-২১
৫	টুলস	২২-৩৩
৬	হস্ত চালিত যন্ত্রাদি	৩৪-৩৯
৭	পরিমাপন যন্ত্র বা মেজারিং টুলস	৪০-৪৪
৮	পরীক্ষণ ও পরিমাপকরণ	৪৫-৪৭
৯	মৌলিক লে-আউট বা মার্কিং	৪৮-৫৫
১০	ভার্নিয়ার ক্যালিপার্স	৫৬-৬১
১১	মাইক্রোমিটার	৬২-৭১
১২	আউটসাইড মাইক্রোমিটার	৭২-৭৬
১৩	ডেপথ মাইক্রোমিটার	৭৭-৮০
১৪	বিভেল প্রোট্র্যাক্টর	৮১-৮৩
১৫	ফাইল	৮৪-৯৫
১৬	ফাইলিং প্রক্রিয়া	৯৬-১০০
১৭	হ্যাক সয়িং	১০১-১০৬
১৮	পাওয়ার সয়িং	১০৭-১১১
১৯	শ্লেড	১১২-১১৫
২০	ড্রিলিং	১১৬-১২৫
২১	ড্রিল বিট	১২৬-১৩২
২২	ট্যাপিং	১৩৩-১৪৫
২৩	ডাই	১৪৬-১৫২
নবম শ্রেণি, ব্যবহারিক অংশ		
১	হ্যাকস দিয়ে ধাতু কর্তন	১৫৩-১৫৮
২	ক্রস ফাইলিং পদ্ধতিতে ধাতুর পৃষ্ঠদেশ সমতলকরণ	১৫৯-১৬৩
৩	ধাতুতে খাঁজ ফাইলিং	১৬৪-১৬৮
৪	ধাতুতে ড্র-ফাইলিং	১৬৯-১৭২
৫	পাওয়ার হ্যাকস দ্বারা ধাতু কাটা	১৭৩-১৭৮
৬	ধাতুতে ড্রিল মেশিন দ্বারা ছিদ্রকরণ	১৭৯-১৮৩
৭	হ্যান্ড ট্যাপ দিয়ে ধাতুর ছিদ্রে প্যাঁচ কাটা	১৮৪-১৮৭
৮	হ্যান্ড ডাই দ্বারা ধাতুর বাহিরে প্যাঁচ কাটা	১৮৮-১৯১

ক্রমিক নং	বিবরণ	পৃষ্ঠা
দশম শ্রেণি, তাত্ত্বিক অংশ		
১	মেশিনশপে সতর্কতামূলক ব্যবস্থা	১৯২-১৯৪
২	ওয়ার্কশপের রক্ষণাবেক্ষণ	১৯৫-১৯৬
৩	ভার্নিয়ার হাইট গেজ	১৯৭-১৯৯
৪	সারফেস গেজ	২০০-২০৩
৫	লেদ মেশিনের বিভিন্ন অপারেশন	২০৪-২১৩
৬	ডায়াল ইন্ডিকেটর	২১৪-২১৭
৭	ইনসাইড মাইক্রোমিটার	২১৮-২২১
৮	কম্বিনেশন সেট	২২২-২২৪
৯	ডেপথ মাইক্রোমিটার	২২৫-২২৮
১০	ভার্নিয়ার বিভেল প্রোট্র্যাক্টর	২২৯-২৩২
১১	গিয়ার টুথ ভার্নিয়ার ক্যালিপার	২৩৩-২৩৪
১২	গেজ	২৩৫-২৩৯
১৩	সাইন বার	২৪০-২৪২
১৪	ফিট	২৪৩-২৪৫
১৫	টলারেপ	২৪৬-২৪৮
১৬	সারফেস ফিনিশিং	২৪৯-২৫০
১৭	কার্বন স্টিল	২৫১-২৫৩
১৮	অলৌহজাত সংকর ধাতু	২৫৪-২৫৭
১৯	মেশিনেবিলিটি	২৫৮-২৬১
২০	কাটিং টুলস	২৬২-২৭০
২১	লুব্রিক্যান্টস	২৭১-২৭৪
২২	ধাতুর উপর তাপ প্রক্রিয়াকরণ	২৭৫-২৭৮
২৩	হাইড্রলিক ট্রান্সমিশন	২৭৯-২৮০
২৪	সিএনসি মেশিন	২৮১-২৮৫
দশম শ্রেণি, ব্যবহারিক অংশ		
১	ভার্নিয়ার হাইট গেজ ব্যবহারে দক্ষতা অর্জন	২৮৬-২৮৮
২	সারফেস গেজ ব্যবহারে দক্ষতা অর্জন	২৮৯-২৯১
৩	ডায়াল ইন্ডিকেটর ব্যবহারে দক্ষতা অর্জন	২৯২-২৯৪
৪	ইনসাইড মাইক্রোমিটার ব্যবহারে দক্ষতা অর্জন	২৯৫-২৯৭
৫	কম্বিনেশন সেট ব্যবহারে দক্ষতা অর্জন	২৯৮-২৯৯
৬	ডেপথ মাইক্রোমিটার ব্যবহারে দক্ষতা অর্জন	৩০০-৩০২
৭	ভার্নিয়ার বিভেল প্রোট্র্যাক্টর ব্যবহারে দক্ষতা অর্জন	৩০৩-৩০৫
৮	গিয়ার টুথ ভার্নিয়ার ব্যবহারে দক্ষতা অর্জন	৩০৬-৩০৮
৯	ওয়ার্কশপে গেজ ব্যবহারে দক্ষতা অর্জন	৩০৯-৩১১
১০	সাইন বার ব্যবহারে দক্ষতা অর্জন	৩১২-৩১৪
১১	কাটিং টুল নির্বাচন ও ব্যবহারে দক্ষতা অর্জন	৩১৫-৩১৮
১২	লুব্রিক্যান্ট সম্পর্কে দক্ষতা অর্জন	৩১৯-৩২০

অধ্যায়-১
মেশিন টুলস অপারেশন ট্রেড
(Machine Tools Operation Trade)

১.১ মেশিন টুলস অপারেশন ট্রেড পরিচিতি :

বিজ্ঞান ও প্রযুক্তির নতুন নতুন আবিষ্কার ও উন্নয়নের ধারা হাজার হাজার বছর ধরে চলমান বিধায় আমরা আজ একবিংশ শতাব্দীর এই তথ্য প্রযুক্তির যুগে দাঁড়িয়ে আছি। বর্তমান যুগ বিজ্ঞান ও প্রযুক্তির যুগ। আধুনিক যুগকে যান্ত্রিক সভ্যতার যুগও বলা হয়ে থাকে। মানুষ যেদিন হতে প্রকৃতি প্রদত্ত বিভিন্ন উপাদান থেকে ধাতু আহরণ করতে শিখেছে এবং ঐ ধাতুর মাধ্যমে প্রয়োজনীয় বস্তু তৈরি করে এর সহজ ব্যবহার দ্বারা দৈনন্দিন জীবনের নানাবিধ প্রয়োজন মেটাতে শুরু করেছে, প্রকৃতপক্ষে তখন থেকেই মানুষ যান্ত্রিক যুগে পদার্পণ করেছে। বিভিন্ন যন্ত্রের আবিষ্কারের ফলে বিজ্ঞান ও প্রযুক্তি এখন পৃথিবী শাসন করেছে। যে দেশ বিজ্ঞান ও প্রযুক্তিতে যত বেশি উন্নত সে দেশ তত বেশি ক্ষমতাশীল এবং অর্থনৈতিক, সামাজিক ও রাজনৈতিকভাবে পৃথিবীতে আধিপত্য বিস্তার করে চলেছে। যান্ত্রিক সভ্যতার কল্যাণে একজন মানুষ এখন পূর্বের তুলনায় অনেক বেশি কাজ করতে পারে। মানুষ বিজ্ঞান ও প্রযুক্তির উপর নির্ভরশীল হয়ে পড়ছে বেশি। এসব পরিবর্তনের মূলে মেশিন টুলস এর প্রত্যক্ষ ও পরোক্ষ ব্যবহার ব্যতীত, কম্পিউটার, মহাকাশযান, ডুবোজাহাজ, টেলিফোন, বই, কাগজপত্র, কৃষি যন্ত্রপাতি তৈরি, শিল্পের উন্নয়ন, বিভিন্ন ধরনের আধুনিক বিস্ময়কর আবিষ্কার প্রভৃতি কোনো কিছুই তৈরি করা সম্ভব হতো না। দেশ, জাতি ও সভ্যতার উন্নয়নে মেশিন ও যন্ত্রপাতির ভূমিকা খুবই গুরুত্বপূর্ণ ও অপরিহার্য। বর্তমানে শিল্প ও কল কারখানার প্রধান চাহিদা হলো দক্ষ জনগোষ্ঠী, যারা হাতের কাজে ও চিন্তা চেতনায় দক্ষ হয়ে কাজের মান উন্নয়ন নিজে নিজে ঘটাতে সক্ষম। যন্ত্রপাতি ও কর্মপদ্ধতির ত্রুটি বিচ্যুতি দূর করে যন্ত্রপাতি ও কর্মপদ্ধতির উন্নয়ন ঘটানোও একান্ত দরকার।

কয়েকটি যন্ত্র বা যন্ত্রাংশের সমাবেশ যখন কোন নির্দিষ্ট উৎস হতে শক্তি সঞ্চয় করে প্রয়োজনীয় কার্য সম্পাদনে সক্ষম হয় তখন ঐ সমাবেশকে মেশিন বলা হয়। টুলস হলো যান্ত্রিক সুবিধা সম্বলিত এক প্রকার ডিভাইস বা মাধ্যম যা ব্যবহার করে কাঁচামালকে প্রয়োজন অনুযায়ী পূর্ব নির্ধারিত আকার, আকৃতি এবং মসৃণতার পরিবর্তন করা হয়। যে ট্রেডে তাত্ত্বিক ও ব্যবহারিক শিক্ষালাভ করলে মেশিন টুলস সমূহের ব্যবহার সম্পর্কে সম্যক জ্ঞান লাভ করা যায় এবং মেশিন, টুলস ও কাঁচামালের সমন্বয়ে নতুন নতুন জব, যন্ত্রাংশ ও মেশিন তৈরি করার দক্ষতা অর্জন করা যায়, তাকে মেশিন টুলস অপারেশন ট্রেড বলা হয়। একটি দ্রব্য উৎপাদন করতে অনেক ক্ষেত্রে একাধিক মেশিন ও টুলস ব্যবহার করতে হয়। আবার একটি মেশিনে একাধিক অপারেশন করারও প্রয়োজন হতে পারে। যেমন- একটি লেদ মেশিনে টার্নিং, ফেসিং, নার্লিং, থ্রেড-কাটিং, ড্রিলিং, বোরিং ইত্যাদি অপারেশন করা যায়। মেশিন টুলস অপারেশন বলতে একটি মেশিনের দ্বারা সম্পাদিত সকল অপারেশনগুলোকে বোঝায়, আবার বিভিন্ন মেশিন টুলস-এর জন্য নির্ধারিত অপারেশনগুলোকেও বোঝায়। মেশিন টুলস অপারেশনের পরিধি অনেক বিস্তৃত। একটি নির্দিষ্ট পেশার জন্য পেশাজীবী সম্প্রদায় তৈরি করতে হলে কিছু নির্দিষ্ট মেশিন টুলস-এর অপারেশন আয়ত্ত্ব করতে অথবা এর উপর প্রশিক্ষণ দান করতে হবে। সফলতার সাথে প্রশিক্ষণ গ্রহণ শেষে একজন প্রশিক্ষণার্থী খুব সহজেই সংশ্লিষ্ট পেশা বা বৃত্তিকে অর্থ উপার্জনের মাধ্যম হিসেবে গ্রহণ করতে পারে। মেশিন টুলস অপারেশন ট্রেডে বিভিন্ন প্রকার মেশিনের কাজকে বৃত্তি বা পেশা হিসেবে গ্রহণ করার উপযোগী করে গড়ে তোলার জন্য প্রশিক্ষণ প্রদান করা হয়।

ফর্মা-১, মেশিন টুলস অপারেশন-১, ৯ম-১০ম শ্রেণি

প্রশিক্ষণ বলতে বুঝায় জ্ঞান (Knowledge), দক্ষতা (Skill) ও মনোভাব (Attitude)-এর উন্নয়ন ঘটানো। মেশিন টুলস অপারেশন ট্রেড উত্তীর্ণদের মেশিন টুল অপারেটর বলা হয়। মেশিন টুল অপারেটর হলো এমন এক শ্রেণির কারিগর যারা আত্মনির্ভরশীল হয়ে নিরাপদে সকল প্রকার মেশিন টুল চালনা ও নিয়ন্ত্রণ করে উৎপাদন কাজে বিভিন্ন প্রকার বস্তু বা যন্ত্রাংশ উৎপাদন করতে পারদর্শী হয়।

১.২ মেশিন টুল অপারেটরের জন্য তাত্ত্বিক জ্ঞান :

একজন মেশিন টুল অপারেটরের নিম্নোক্ত বিষয়ে তাত্ত্বিক জ্ঞান থাকা প্রয়োজন-

- (ক) মেশিন শপের কাজের জন্য প্রয়োজনীয় হিসাব নিকাশ,
- (খ) লেআউট ও মার্কিং,
- (গ) পরিমাপ গ্রহণ ও পরিমাপ যাচাইকরণ,
- (ঘ) মেকানিক্যাল ড্রয়িং-এর স্পষ্ট ধারণা,
- (ঙ) মেশিন শপের মৌলিক নিরাপত্তা বিধি,
- (চ) যন্ত্রপাতির রক্ষণাবেক্ষণ,
- (ছ) মেশিন টুলের অ্যাটাচমেন্ট ও অ্যাকসেসরিজ ব্যবহারে দক্ষতা,
- (জ) সঠিক ওয়ার্কহোল্ডিং ডিভাইস ব্যবহার,
- (ঝ) কাটিং টুলের গঠন, ধাতু কাটার পদ্ধতি ও ব্যবহার।
- (ঞ) টুলস গ্রাইন্ডিং ও শার্পেনিং ও
- (ট) মেশিন সেটআপ, চালনা ও নিয়ন্ত্রণ।

১.৩ মেশিন টুল অপারেটরের জন্য ব্যবহারিক দক্ষতা :

একজন মেশিন টুলস ট্রেড বিষয়ে উত্তীর্ণ প্রশিক্ষণার্থী বা একজন মেশিন টুল অপারেটরের নিম্নোক্ত বিষয়ে ব্যবহারিক দক্ষতা থাকা প্রয়োজন-

- (ক) জবের ওপর ড্রয়িং ও হিসাব অনুযায়ী লে-আউট ও মার্কিং করার দক্ষতা।
- (খ) মাইক্রোমিটার ও ভার্নিয়ার ক্যালিপার-এর সাহায্যে জব উৎপাদন কালীন পরিমাপ যাচাইকরণের দক্ষতা।
- (গ) মেকানিক্যাল ড্রয়িং বুঝতে পারা ও নিজে ড্রয়িং করতে পারার দক্ষতা।
- (ঘ) সাধারণ মেশিন টুলের অ্যাটাচমেন্ট ও অ্যাকসেসরিজ এর ব্যবহারে দক্ষতা।
- (ঙ) ওয়ার্ক হোল্ডিং ডিভাইস সঠিক স্থানে সঠিকভাবে বাঁধতে জানা।
- (চ) মেশিন সেটআপ, চালনা ও নিয়ন্ত্রণে দক্ষতা।
- (ছ) ওয়ার্ক পিসের ধাতুর ধর্ম অনুযায়ী এবং মেশিনিং পদ্ধতি অনুসারে সঠিক কাটিং টুল নির্বাচন করার দক্ষতা ও কাটিং টুল সঠিকভাবে গ্রাইন্ডিং করার দক্ষতা
- (জ) কাটিং টুলকে সঠিকভাবে ও সঠিক অ্যাংগলে টুলহোল্ডারের সাথে বাঁধা।
- (ঝ) কাটিং ফ্লুইড ব্যবহার করার দক্ষতা।
- (ঞ) কাটিং ডাটা নির্বাচন ও সেটিং-এ সক্ষম।
- (ট) মেশিন অপারেশন সম্পাদনে সক্ষম।
- (ঠ) মেশিনশপের মৌলিক নিরাপত্তা বিধি পালনের অভ্যাস।
- (ড) উত্তম হাউজ কিপিং -এর অভ্যাস অর্থাৎ মেশিন, যন্ত্রপাতি ও জিনিসপত্র সংরক্ষণে সক্ষম, ইত্যাদি।

১.৪ মেশিন টুল অপারেটরদের সম্ভাব্য কর্মক্ষেত্র :

একজন মেশিন টুলস অপারেশন ট্রেড উত্তীর্ণ প্রশিক্ষণার্থী বা মেশিন টুল অপারেটর সংশ্লিষ্ট জ্ঞান ও দক্ষতাসহ মেশিন টুলস চালনা করার কৌশল আয়ত্ব করতে পারলে শিল্প কারখানায় বিভিন্ন পদে অনায়াসে নিয়োগ পাবে। তারা স্ব স্ব ক্ষেত্রে নিজ দায়িত্ব সুষ্ঠুভাবে সম্পাদন করতে সমর্থ হবে। নিম্নে মেশিন টুল অপারেটরদের কর্মক্ষেত্রের বিভিন্ন পদের নাম দেওয়া হলো-

- (১) মেশিনিস্ট,
- (২) টার্নার বা লেদম্যান,
- (৩) শেপারম্যান,
- (৪) মিলিংম্যান বা মিলার,
- (৫) গ্রাইন্ডার বা গ্রাইন্ডিং মেশিন অপারেটর,
- (৬) ড্রিল মেশিন অপারেটর,
- (৭) প্লেনার অপারেটর,
- (৮) জুনিয়র টেকনিসিয়ান,
- (৯) সিনিয়র টেকনিসিয়ান, ইত্যাদি।

পদোন্নতির পর মেশিন টুল অপারেটরগণ নিম্নের পদগুলোতে নিয়োগ পেতে পারেন-

- (১) মাস্টার টেকনিসিয়ান
- (২) ফোরম্যান/সুপারভাইজার।

তাছাড়া কারিগরি শিক্ষা অধিদপ্তর অথবা জনশক্তি কর্মসংস্থান ও প্রশিক্ষণ ব্যুরোর অধীনে মেশিন টুল অপারেটরগণ নিম্নোক্ত পদে নিয়োগ পেতে পারেন। যথা-

- (১) টুলরুম অ্যাটেন্ডেন্ট,
- (২) স্টোরকিপার,
- (৩) ক্রাফট ইনস্ট্রাক্টর,
- (৪) সিনিয়র ক্রাফট ইনস্ট্রাক্টর, ইত্যাদি।

প্রশ্নমালা-১

অতি সংক্ষিপ্ত প্রশ্ন :

১. বৃত্তি বা পেশা কী?
২. মেশিন টুল ট্রেড উত্তীর্ণ প্রশিক্ষার্থীদেরকে কী বলা হয়?
৩. লেদ মেশিন অপারেটরকে সংক্ষেপে কী বলা হয়?
৪. শেপিং মেশিনে যে ব্যক্তি কাজ করে তাকে কী বলা হয়?
৫. মিলিং মেশিনে যে ব্যক্তি কাজ করে তাকে কী বলা হয়?
৬. পদোন্নতির পর একজন মেশিন টুল অপারেটর কোন কোন পদে কাজ পেয়ে থাকেন?

সংক্ষিপ্ত প্রশ্ন :

১. মেশিন টুলস অপারেশন ট্রেড বলতে কী বোঝায়?
২. প্রশিক্ষণ বলতে কী বোঝায়?
৩. মেশিন টুল অপারেটরদের সাধারণতঃ কী কী পদে চাকুরী হয়?
৪. কী কী পদে একজন মেশিন টুল অপারেটরের পদোন্নতি হয়?
৫. একজন মেশিন টুল অপারেটরের ৫টি তাত্ত্বিক জ্ঞানের বিষয় উল্লেখ কর।
৬. একজন মেশিন টুল অপারেটরের ৫টি ব্যবহারিক দক্ষতার বিষয় উল্লেখ কর।

রচনামূলক প্রশ্ন :

১. মেশিন টুল অপারেশন ট্রেড বলতে কী বোঝায় বর্ণনা কর।
২. মেশিন টুল অপারেটরের কাজগুলি বর্ণনা কর।
৩. একজন মেশিন টুল অপারেটরের কোন কোন বিষয়ে তাত্ত্বিক জ্ঞান থাকা প্রয়োজন তা বর্ণনা কর।
৪. একজন মেশিন টুল অপারেটরের কোন কোন বিষয়ে ব্যবহারিক দক্ষতা থাকা প্রয়োজন তা বর্ণনা কর।
৫. একজন মেশিন টুল অপারেটরের সম্ভাব্য কর্মক্ষেত্রসমূহের বিভিন্ন পদের নাম লেখ।

অধ্যায়-২

মেশিন শপ (Machine Shop)

২.১ মেশিন শপ- এর পরিচিতি (Introduction to Machine Shop) :

মেশিন শপ হলো একটি স্থান, যেখানে ধাতুকে প্রয়োজনীয় আকার, আকৃতি এবং মসৃণতায় কাটা হয় এবং মেশিন বা যন্ত্রাংশ তৈরির জন্য সেগুলোকে সংযোজন করা হয়। অন্যভাবে বলা যায়, মেশিন শপ হলো এমন একটি স্থাপনা যেখানে কার্যবস্তুর ওপর বিভিন্ন প্রক্রিয়া বা অপারেশন সম্পন্ন করার জন্য বিভিন্ন প্রকার মেশিন বিদ্যমান থাকে। যেমন- লেদ মেশিন, মিলিং মেশিন, ড্রিলিং মেশিন, শেপিং মেশিন, গ্রাইন্ডিং মেশিন, ওয়েল্ডিং মেশিন ইত্যাদি। অর্থাৎ এখানে বিভিন্ন যন্ত্রাংশ তৈরি করার জন্য ধাতব বস্তুকে প্রয়োজনীয় পরিমাণে মেশিনিং করা হয়। এভাবে নির্মিত মেশিন বা যন্ত্রাংশগুলি প্রত্যক্ষ বা পরোক্ষভাবে মানুষের বেঁচে থাকার জন্য প্রয়োজনীয় গণ্য সামগ্রী তৈরিতে ব্যবহৃত হয়। মেশিন শপ হলো সকল মেকানিক্যাল উৎপাদনের মূল ভিত্তি।

কাজের ধরন এবং উৎপাদন ক্ষমতার উপর নির্ভর করে মেশিন শপকে তিন ভাগে ভাগ করা যায়-

- (ক) জব শপ (Job shop)
- (খ) সীমিত উৎপাদন শপ (Limited production shop)
- (গ) ব্যাপক উৎপাদন শপ (Mass production shop)

(ক) জব শপ (Job shop) :

জব শপ হলো এক ধরনের মেশিন শপ যা প্রয়োজনীয় সকল প্রকার মেশিন টুল (সাধারণত জেনারেল পারপাস মেশিন সমূহ) এবং কর্মী দ্বারা সুসজ্জিত এবং যেখানে সাধারণত বিশেষ ধরনের বিভিন্ন প্রকার সীমিত সংখ্যক যন্ত্রাংশ বা জব মেশিনিং করা হয়। ডিজাইন ইঞ্জিনিয়ারের ডিজাইনকৃত অথবা আবিষ্কারকের উদ্ভাবিত যন্ত্রাংশ উৎপাদনে জব শপ প্রয়োজনে আসে। স্ট্যান্ডার্ড বা বিশেষ আকৃতির সীমিত পরিমাণ যন্ত্রাংশ তৈরি করতে সাধারণত জব শপ ব্যবহৃত হয়। বৃত্তিমূলক শিক্ষা প্রতিষ্ঠানের বিভিন্ন মেশিন শপসমূহকে এক প্রকার জব শপ বলা চলে।

(খ) সীমিত উৎপাদন শপ (Limited production shop) :

জব শপ এবং ব্যাপক উৎপাদন শপের মধ্যবর্তী উৎপাদন ক্ষমতা সম্পন্ন মেশিন শপকে সীমিত উৎপাদন শপ বলা হয়। কয়েক হাজার পর্যন্ত একই রকম যন্ত্রাংশ তৈরি করতে ইহাকে নির্দিষ্ট করা হয়। বহু সংখ্যক পুনরাবৃত্ত অপারেশন (Repetitive Operations) সমূহের জন্য সীমিত উৎপাদন শপের মেশিন টুল গুলিকে সহজেই এক সেটআপ থেকে অন্য সেটআপে পরিবর্তন করা যায়। বর্তমানে জব শপ ও সীমিত উৎপাদন শপগুলি অটোমেটিক ও নিউমেরিক্যাল (Numerical) কন্ট্রোল পদ্ধতিতে নিয়ন্ত্রিত মেশিন টুল ব্যবহার করছে। বাংলাদেশ ডিজেল প্ল্যান্ট, বিটাক (BITAC), প্রভৃতি সীমিত উৎপাদন শপের অন্তর্ভুক্ত।

(গ) ব্যাপক উৎপাদন শপ (Mass production shop) :

ব্যাপক উৎপাদন শপে বহুল সংখ্যক যন্ত্রাংশ তৈরি করা হয়। এখানে অটোমেটিক ও নিউমেরিক্যাল কন্ট্রোল পদ্ধতিতে নিয়ন্ত্রিত মেশিন টুলগুলি পূর্ণ ক্ষমতায় ব্যবহৃত হয়। মেশিন টুলগুলি নির্দিষ্ট কিছু অপারেশনের জন্য সুনির্দিষ্ট কতিপয় কাটিং টুল সহ সেটআপ করা হয়। প্রায়ই মেকানিক্যাল আর্মের সাহায্যে ওয়ার্কপিস স্থাপন ও পুনরায় স্থাপন করা হয়। কাজেই একজন অপারেটর অনেক ক্ষেত্রে কয়েকটি মেশিন পরিচালনা করতে পারে।

এই জাতীয় শপে নিজস্ব নিউমেরিক্যাল কন্ট্রোল পদ্ধতি, প্রোগ্রাম তৈরির কম্পিউটার এবং টেপ তৈরি বিভাগ থাকে। লুনা-সুইডেন, ব্রিটিশ অ্যারোস্পেস-যুক্তরাজ্য, এস.কে.এফ (বিয়ারিং তৈরির কারখানা), মিটসুবিশি-জাপান প্রভৃতি ব্যাপক উৎপাদন শপের পর্যায়ভুক্ত।

২.২ মেশিন শপে সচরাচর ব্যবহৃত টুলসগুলোর নামঃ

একটি মেশিন শপে বহু ধরনের আকার, আকৃতি এবং মসৃণতার কাজ সম্পাদন করতে হয়। মেশিন শপে এ কাজগুলি সম্পাদন করতে বিভিন্ন প্রকারের টুলস ব্যবহৃত হয়। অধিকতর ব্যবহার এবং কাজের গুরুত্ব বিবেচনা করে মেশিন শপে সচরাচর ব্যবহৃত টুলসগুলোর নাম নিম্নে উল্লেখ করা হলো-

(ক) মেশিন টুলস (Machine Tools) :

মেশিন টুলস বলতে শক্তি চালিত (Power Driven) যান্ত্রিক ব্যবস্থা বা উৎপাদনকারী যন্ত্রকে বুঝায়। মেশিন টুলসের সাহায্যে কাষ্টিং বা ঢালাই, পেটানো লোহা অথবা রোল্ড করা ধাতব বস্তুকে কাটা এবং তা থেকে অতিরিক্ত মেটাল বা ধাতু অপসারিত করা হয়।

মেশিন শপে ব্যবহৃত মেশিন টুলসসমূহ হলো :

১. সেন্টার বা ইঞ্জিন লেদ (Center or Engine Lathe)
২. টারেট লেদ (Turret Lathe)
৩. ক্যাপস্টান লেদ (Capstan Lathe)
৪. সেনসিটিভ ড্রিলিং মেশিন (Sensitive drilling machine)
৫. আপরাইট ড্রিলিং মেশিন (Upright drilling machine)
৬. রেডিয়াল ড্রিলিং মেশিন (Radial drilling machine)
৭. প্লেইন হরাইজন্টাল মিলিং মেশিন (Plain horizontal milling machine)
৮. ইউনিভারসাল হরিজন্টাল মেশিন (Universal horizontal milling machine)
৯. ভার্টিক্যাল মিলিং মেশিন মিলিং (Vertical milling machine milling)
১০. শেপিং মেশিন (শেপার)- Shaping machine (shaper)
১১. প্লেনিং মেশিন (প্লেনার)- Planing machine (Planer)
১২. সারফেস গ্রাইন্ডিং মেশিন (Surface grinding machine)
১৩. সিলিন্ড্রিক্যাল গ্রাইন্ডিং মেশিন (Cylindrical grinding machine)
১৪. টুল অ্যান্ড কাটার গ্রাইন্ডার (Tool and Cutter grinder)
১৫. বোরিং মেশিন (Boring Machine)
১৬. হোনিং মেশিন (Honing machine)
১৭. বেন্ড-স (Bend saw)
১৮. পাওয়ার হ্যাক-স (Power hacksaw)
১৯. শিয়ারিং প্রেস (Shearing Press)
২০. বেন্ডিং মেশিন বা প্রেস ব্রেক (Bending Machine or Press Brake)

(খ) হ্যান্ড টুলস (Hand Tools) :

হস্ত চালিত যন্ত্রকে হ্যান্ড টুলস বলে। সাধারণত হাতে চালিত বা কায়িক পরিশ্রমের দ্বারা যে সকল যন্ত্রপাতি ব্যবহার করে কাঁচামালকে নির্ধারিত আকার, আকৃতি ও মসৃণতায় আনা হয় সেগুলোকে হ্যান্ড টুলস বলা হয়।

মেশিন শপে বহুল ব্যবহৃত হ্যান্ড টুলসসমূহ হলো :

- ১) হাতুড়ি বা হ্যামার (Hammer)
- ২) স্ক্রু-ড্রাইভার (Screw-driver)
- ৩) রেঞ্চ বা স্প্যানার (Wrench or Spanner)
- ৪) প্লায়ার্স (Pliers)
- ৫) ভাইস (Vice)
- ৬) পাঞ্চ (Punch)
- ৭) অ্যানভিল (Anvil)
- ৮) সারফেস প্লেট (Surface plate)

সবচেয়ে সাধারণ এবং সবচেয়ে বেশি যে সমস্ত হ্যান্ড কাটিং টুলস মেশিন শপে ব্যবহৃত হয় উহাদের নাম নিম্নে উল্লেখ করা হলো-

- ১) ফাইল (File)
- ২) হ্যাক-স (Hack-Saw)
- ৩) চিজেল (Chisel)
- ৪) স্ক্র্যাপার (Scraper)
- ৫) ট্যাপ (Tap)
- ৬) ডাই (Die)
- ৭) রিমার (Reamer)
- ৮) পাইপ কাটার (Pipe Cutter)

(গ) মেজারিং টুলস (Measuring Tools) :

মেশিন শপে কোনো জিনিস তৈরি করতে উৎপাদনের বিভিন্ন পর্যায়ে উহার মাপ নেওয়ার প্রয়োজন হয়। মাপ নেওয়ার জন্য বা পরীক্ষা করার জন্য যে সকল যন্ত্রপাতি বা টুলস ব্যবহৃত হয় উহাকে মেজারিং টুলস বলে।

মেশিন শপে সচরাচর ব্যবহৃত মেজারিং টুলসসমূহের নাম হলো-

- ১) ভার্নিয়ার ক্যালিপার্স (Vernier Calipers)
- ২) মাইক্রোমিটার (Micrometer)
- ৩) ডায়াল ইন্ডিকেটর (Dial Indicator)
- ৪) বিভেল প্রোট্রাক্টর (Bevel Protractor)
- ৫) ট্রাই স্কয়ার (Tri-Square)
- ৬) টেলিস্কোপিক গেজ (Telescopic Gauge)
- ৭) ফিলার গেজ (Feeler Gauge)
- ৮) স্ক্রু পিচ গেজ (Screw Pitch Gauge)
- ৯) ভার্নিয়ার হাইট গেজ (Vernier Height Gauge)
- ১০) কম্বিনেশন সেট (Combination Set)

২.৩ মেশিন শপ-এ কর্মরত বিভিন্ন ব্যক্তিদের ভূমিকা :

শিল্পকারখানায় যেখানে মেশিন শপ রয়েছে সেখানে ইচ্ছিত যন্ত্রপাতি উৎপাদন করার লক্ষ্য এবং উদ্দেশ্য অর্জনের জন্য ব্যবস্থাপনার মাধ্যমে মেশিন শপের যাবতীয় কাজ কর্মকে বিভিন্ন পদ এবং পেশার লোকদের মধ্যে দায়িত্ব এবং কর্তব্য হিসেবে বন্টন করে দেওয়া হয়। পদ এবং দায়িত্ব ও কর্তব্যের ভিত্তিতে মেশিন শপে কর্মরত ব্যক্তিদের ভূমিকা নিম্নে উল্লেখ করা হলো-

জেনারেল মেশিনিস্ট (General Machinist) : জেনারেল মেশিনিস্ট হলো এক শ্রেণির দক্ষ কারিগর যারা আত্ম নির্ভরশীল হয়ে নিরাপদে সকল প্রকার জেনারেল পারপাস মেশিন (যেমন- লেদ মেশিন, ড্রিল মেশিন, শেপার মেশিন, মিলিং মেশিন, প্লেনার, গ্রাইন্ডিং মেশিন ইত্যাদি)-গুলো নিয়ন্ত্রণ করে উৎপাদনের কাজে বিভিন্ন প্রকার বস্তু বা যন্ত্রাংশ তৈরি করতে সক্ষম বা পারদর্শী। এই প্রকার দক্ষ কারিগরগণ বিভিন্ন প্রকারের মেশিনিং অপারেশনের মেশিনে ডাটা সেট করা, কার্যবস্তু সেট করা ও প্রয়োজনীয় অ্যাকসেসরিজ-এর নিরাপদ ব্যবহার করা ইত্যাদি বিষয়ে খুবই পারদর্শিতা দেখিয়ে থাকেন। তাছাড়া উৎপাদিত দ্রব্যের গুণগত মান এবং সঠিকতা যাচাইকরণ ক্ষমতা, ব্লুপ্রিন্ট পড়া, খসড়া ড্রয়িং অংকন ক্ষমতা, লেআউট করার দক্ষতা এবং সংশ্লিষ্ট হিসাব নিকাশ করার জ্ঞান ও দক্ষতার অধিকারী হয়ে থাকেন।

স্পেশালাইজড মেশিনিস্ট (Specialized Machinist) : স্পেশালাইজড মেশিনিস্ট হলো উৎপাদনের কাজে নিয়োজিত সেসব দক্ষ কারিগর যারা নিরাপদে আত্মনির্ভরশীলতার সহিত এক বা একাধিক স্পেশ্যাল পারপাস মেশিন (যেমন- হবিং, ব্রোচিং, ল্যাপিং, হোনিং, থ্রেড মিলিং, থ্রেড গ্রাইন্ডিং, ক্র্যাংক শ্যাফট গ্রাইন্ডিং, কপি মিলিং, প্রোফাইল গ্রাইন্ডিং, গিয়ার গ্রাইন্ডিং, ভালভ গ্রাইন্ডিং ইত্যাদি) ব্যবহার করে সফলতার সাথে নির্দিষ্ট মানে বিভিন্ন প্রকার যন্ত্রাংশ তৈরি করতে সক্ষম।

মেশিনিস্ট (Machinist) : প্রায় সকল শিল্পকারখানায় যন্ত্রপাতি রক্ষণাবেক্ষণ কাজের জন্য স্পেয়ার পার্টস (Spare Parts) বা খুচরা যন্ত্রাংশ তৈরি করার উদ্দেশ্যে প্রয়োজনীয় সাধারণ মেশিন যেমন- লেদ, শেপার, গ্রাইন্ডার, মিলিং মেশিন ইত্যাদি রাখা হয় এবং উল্লিখিত মেশিন টুলস ব্যবহার করে ধাতব যন্ত্রাংশ তৈরি করার জন্য মেশিনিস্ট নামক এক শ্রেণির দক্ষ কারিগর নিযুক্ত রাখা হয়। এছাড়া কতগুলি উৎপাদনশীল কারখানা আছে যেখানে সকল প্রকার মেশিন টুলস ব্যবহার করে ধাতব দ্রব্য বা যন্ত্রাংশ উৎপাদন করা হয়। উৎপাদনশীল কারখানায় সকল প্রকার মেশিন টুলস ব্যবহার করার জন্য যে শ্রেণির দক্ষ কারিগর নিযুক্ত রাখা হয় তাদেরকে বলা হয় মেশিনিস্ট। মেশিনিস্ট হলো এক শ্রেণির দক্ষ কারিগর যারা আত্মনির্ভরশীল হয়ে নিরাপদে সকল প্রকার মেশিন টুলস চালনা ও নিয়ন্ত্রণ করে এবং প্রয়োজনীয় ক্ষেত্রে রক্ষণা-বেক্ষণ ও মেরামত করা সহ সম্পর্কযুক্ত সমস্যাদি সমাধান করে বিভিন্ন প্রকার বস্তু বা যন্ত্রাংশ উৎপাদন করতে সক্ষম এবং পারদর্শী। অর্থাৎ মেশিনিস্ট হলো এক শ্রেণির দক্ষ কারিগর যারা মেশিন বা যন্ত্রাংশ তৈরিতে পারদর্শী এবং অভিজ্ঞ। আমাদের দেশের শিল্প কারখানায় মেশিনিস্টের অবস্থান হলো ফোরম্যান বা সুপারভাইজারের নিচে এবং আধা দক্ষ কারিগরের উপরে। তবে অনেক শিল্প প্রতিষ্ঠানে মেশিনিস্ট ফোরম্যানের দায়িত্ব পালন করে থাকে।

মেশিনিস্ট হেলপার (Machinist Helper) : মেশিনিস্ট হেলপার মেশিন শপে মেশিনিস্টের সাহায্যকারী হিসেবে কাজ সম্পাদন করে থাকে। এরা স্বতন্ত্র বা স্বাধীনভাবে মেশিন চালনা করতে পারে না কিন্তু মেশিনিস্টের অধীনে থেকে বিভিন্ন কাজ করতে পারে। অনেক ক্ষেত্রে মেশিনিস্টের স্বল্পকালীন অনুপস্থিতিতে এর মেশিন চালনা এবং বিভিন্ন প্রকার সেট আপ স্থাপনের প্রাথমিক কাজগুলি করতে পারে। মেশিনিস্ট হেলপারগণ কাজের সহিত সম্পর্কযুক্ত বিভিন্ন প্রকার হ্যান্ড টুলস, কাটিং টুলস, মেজারিং টুলস, গেজেস, নির্দিষ্ট মেশিনের

ওয়ার্ক হোল্ডিং ডিভাইস সমূহ, নিরাপত্তার বিষয়াদি প্রভৃতির প্রয়োগ ও ব্যবহার এবং নাম সম্পর্কে জ্ঞান ও দক্ষতা সম্পন্ন হয়। এই শ্রেণির কারিগর একজন সাধারণত বেঞ্চ ওয়ার্কের প্রাথমিক কাজগুলিও করতে পারে।

মেশিন অপারেটর (Machine Operator) : মেশিন অপারেটরের সাধারণ অর্থ হলো মেশিন চালক বা অপারেটর যখন কোনো একজন কারিগর কোনো একটি নির্দিষ্ট মেশিন চালায় তখন উক্ত কারিগরকে সে মেশিনের অপারেটর বলা হয়। যেমন-লেদ অপারেটর, শেপার অপারেটর, মিলিং মেশিন অপারেটর, গ্রাইন্ডিং মেশিন অপারেটর ইত্যাদি। মেশিন অপারেটর কোন একটি নির্দিষ্ট মেশিনের গঠন, বিভিন্ন অংশের কাজ, বিভিন্ন সেটআপ এবং অ্যাটাচমেন্ট সমূহের ব্যবহার, উক্ত মেশিনের কাজের সাথে সম্পর্কযুক্ত বিভিন্ন প্রকার কাটিং টুলস, হ্যান্ড টুলস এবং মেজারিং টুলসের ব্যবহার, মেশিনের কাজের সহিত সম্পর্কযুক্ত ড্রয়িং পড়া এবং খসড়া ড্রয়িং অংকন প্রভৃতির উপর সাধারণ জ্ঞান সম্পন্ন হয়। মেশিন চালনার ক্ষেত্রে উপযুক্ত দক্ষতার সাথে আত্মনির্ভরশীল হয়ে নিরাপদে উক্ত মেশিনটি চালনা ও নিয়ন্ত্রণ করে এবং প্রয়োজনীয় ক্ষেত্রে রক্ষণাবেক্ষণ ও মেরামত করাসহ সম্পর্কযুক্ত সমস্যা সমাধান করে বিভিন্ন প্রকার বস্তু বা যন্ত্রাংশ উৎপাদন করতে সক্ষম এবং পারদর্শী।

মেশিন সেটআপ ম্যান (Machine Setup Man) : মেশিন সেটআপ ম্যান হলো একজন পূর্ণাঙ্গভাবে অভিজ্ঞ মেশিনিস্ট। কিছু দক্ষ মেশিনিস্ট, জব বা প্রডাকশন শপে সেটআপ ম্যান হিসেবে কাজ করে। এদের কাজ হলো মেশিনগুলিকে উৎপাদনের জন্য সেটআপ এবং সমন্বয় করা যাতে অল্প দক্ষ কারিগরগণ সহজেই উক্ত মেশিন চালনা করে বিভিন্ন প্রকার বস্তু বা যন্ত্রাংশ উৎপাদন করতে পারে। এছাড়া মেশিন সেটআপ ম্যান কাজটি কীভাবে করতে হবে তা মেশিন অপারেটরকে দেখিয়ে দেয় এবং সংশ্লিষ্ট অন্যান্য তথ্যাদি বুঝিয়ে দেয়।

লেআউট ম্যান (Layout Man) : লেআউট ম্যান হলো একজন অভিজ্ঞ মেশিনিস্ট। জব বা প্রডাকশন শপে কিছু দক্ষ মেশিনিস্ট, লেআউট ম্যান হিসেবে কাজ করে। এদের কাজ হলো উৎপাদনের জন্য প্রদত্ত ড্রয়িং বা ব্লুপ্রিন্ট অনুযায়ী বিভিন্ন প্রকার প্রয়োজনীয় সূক্ষ্ম মেজারিং ও মার্কিং টুলস ব্যবহার করে কার্য বস্তুর তলের উপর ঐ ড্রয়িং অংকন করে মার্কিং করে রাখা যা দেখে মেশিন অপারেটর সহজেই প্রয়োজনীয় অপারেশনগুলি সম্পাদন করতে পারবে।

পরিদর্শক (Inspector) : শিল্প ক্ষেত্রে উৎপাদিত দ্রব্যের বা পণ্যের গুণগত মান নিয়ন্ত্রণ এবং মাপ সঠিক আছে কিনা তা নিরূপণের জন্য কাঁচামাল থেকে আরম্ভ করে ফিনিশড প্রডাক্ট পর্যন্ত নিয়মিত পরিদর্শন ও পরিমাপের প্রয়োজন হয়। অন্যথায় ইন্সপেক্ট গুণাগুণ ও সঠিক পরিমাপের শিল্প দ্রব্য উৎপাদিত না হলে, উৎপন্ন দ্রব্য নিম্ন মানের হবে এবং ক্রেতা সাধারণের নিকট তা গ্রহণ যোগ্য হবে না। সে জন্য উৎপন্ন দ্রব্যের মান ও মাপের সঠিকতার জন্য পরিদর্শনের প্রয়োজন। শিল্প কারখানা বা মেশিন শপে যারা এই পরিদর্শনের কাজটি সফলতার সহিত সম্পাদন করেন তাদের বলা হয় পরিদর্শক বা ইনস্পেক্টর। একজন পরিদর্শক ব্লুপ্রিন্ট রিডিং বা ওয়ার্কিং ড্রয়িং এর উপর অভিজ্ঞ হবেন এবং মেট্রোলজি বিষয়ের উপর যথেষ্ট জ্ঞান ও দক্ষতার অধিকারী হবেন। অর্থাৎ উৎপাদন ক্ষেত্রে যে সকল মাপন ও টেস্টিং যন্ত্র ব্যবহার হয় উহাদের ব্যবহার পদ্ধতি, মাপন প্রক্রিয়া, ত্রুটি নির্ণয়, রক্ষণাবেক্ষণ প্রভৃতি সম্পর্কে একজন পরিদর্শক খুবই অভিজ্ঞ হবেন। এছাড়া একজন পরিদর্শক ফিট এবং ফিট এর প্রয়োগ সম্পর্কে জ্ঞান ও দক্ষতা সম্পন্ন হবেন।

মিলরাইট (Mill-Write) : একজন মিলরাইট মেশিন শপে মেশিন ইকুইপমেন্ট সড়ানো এবং স্থাপনের কাজ করে। মিলরাইটগণ মেশিনের পুরাতন ভিত্তি ভাঙ্গা, মেরামত এবং প্রয়োজনীয় ক্ষেত্রে চাহিদা অনুযায়ী

নতুন ভিত্তি তৈরি করতে সক্ষম এবং পারদর্শী। এছাড়া এ শ্রেণির কারিগরগণ মেশিন শপের বিভিন্ন প্রকার মেশিনের যন্ত্রাংশ খোলা এবং পুনরায় সংযোজন করা, প্রয়োজনীয় ক্ষেত্রে লুব্রিক্যান্ট প্রদান, রুটিন মেনটেইনেন্স কাজ, রিপেয়ার কাজ প্রভৃতিতে অভিজ্ঞ এবং পারদর্শী হয়ে থাকে। অনেক মেশিন শপে মেরামত এবং রক্ষণাবেক্ষণ কাজের জন্য ভিন্ন শাখা থাকে এবং এই শাখার অধীনে কাজ করে মিলরাইটগণ মেশিন শপের যাবতীয় মেশিন সচল এবং কার্যোপযোগী রাখেন।

টুল অ্যান্ড ডাইমেকার (Tool and Diemaker) : মেশিন শপে কর্মরত সকল কারিগরের মধ্যে টুল অ্যান্ড ডাই মেকারের কাজ অধিকতর সূক্ষ্ম এবং গুরুত্বপূর্ণ। টুল অ্যান্ড ডাই মেকারগণ মেশিনশপের মেশিনিং কাজে ব্যবহৃত বিভিন্ন প্রকার কাটিং টুলস, জিগ এবং ফিকচার তৈরি করে থাকেন। এছাড়াও ডাইমেকারগণ ফোর্জিং, ফর্মিং, বেঙ্কিং, ড্রয়িং (যেমন-শ্যালো ড্রয়িং, কোল্ড ড্রয়িং, টিউব ড্রয়িং, ওয়্যার ড্রয়িং ইত্যাদি), ডাই কাটিং ও প্লাস্টিক মোল্ডিং-এ ব্যবহৃত ডাই তৈরি করেন। একজন ডাই মেকার মেশিন শপের যে কোনো মেশিন প্রয়োজনীয় কাজের জন্য সেট করতে এবং কাজ সম্পাদনে পারদর্শী ও অভিজ্ঞ হয়ে থাকেন। এছাড়া একজন ডাইমেকার ব্লুপ্রিন্ট পড়া, খসড়া ড্রইং অংকন সহ বিভিন্ন প্রকার হ্যান্ড টুলস, মেজারিং টুলস, মার্কিং টুলস, লেআউট টুলস, প্রভৃতি দক্ষতার সাথে নিরাপদে ও প্রয়োজনীয় সূক্ষ্মতা মাত্রায় ব্যবহার করতে পারেন।

বেঞ্চ মেকানিক্স বা বেঞ্চ ফিটার (Bench Mechanics or Bench Fitter) : একজন বেঞ্চ মেকানিক্স এর কাজ হলো ওয়ার্ক বেঞ্চার উপর হ্যান্ড টুলস ব্যবহার করে উৎপাদিত দ্রব্য বা মেরামতকৃত দ্রব্যের ফিনিশিং দেওয়া। বেঞ্চ মেকানিক্স বা ফিটারগণ ব্লুপ্রিন্ট বা ওয়ার্কিং ড্রইং পড়তে পারেন এবং বিভিন্ন প্রকার বেঞ্চ ওয়ার্ক যেমন-ফাইলিং, ক্লেপিং, পাম্পিং, ট্যাপিং, চিপিং প্রভৃতিতে দক্ষ এবং পারদর্শী হয়ে থাকেন।

স্টোর কিপার (Store Keeper) : মেশিন শপের বিভিন্ন ব্যতীত সমুদয় যাবতীয় ফিটিংস, মেশিন ও যন্ত্রপাতি, কাঁচামাল, প্রভৃতি যে ব্যক্তির দায়িত্বে রেকর্ডকৃত অবস্থায় মজুত থাকে সেই দায়িত্ব পালনকারী ব্যক্তির পদের নাম স্টোর কিপার। মেশিনসমূহ সাধারণত স্থায়ীভাবে স্থাপন করা থাকে। কাঁচা মাল এবং যন্ত্রপাতি নিয়মিত ভাবে দৈনন্দিন গ্রহণ করতে হয় এবং কাজ শেষ হবার পর ফেরত বা জমা নিতে হয়। বৃত্তিমূলক শিক্ষা প্রতিষ্ঠানের মেশিন শপে স্টোর কিপার সাধারণত যন্ত্রপাতি ও কাঁচামাল সরবরাহ এবং ফেরত গ্রহণ করে থাকে। প্রশিক্ষণার্থী সংখ্যা বেশী হলে অনেক মেশিন শপে স্টোর কিপারকে সাহায্য করার জন্য সহকারী স্টোর কিপার থাকে। সহকারী স্টোর কিপার, স্টোর কিপারের অধীনে স্টোর কিপারের সাহায্যকারী হিসেবে কাজ করে মজুত মালামাল নিয়ন্ত্রনে গুরুত্বপূর্ণ ভূমিকা পালন করে। বৃত্তিমূলক শিক্ষা প্রতিষ্ঠানের মেশিন শপে বিভিন্ন বিষয়ের ব্যবহারিক অংশের ক্লাশ অনুষ্ঠিত হয়ে থাকে। শ্রেণি প্রশিক্ষকের চাহিদা অনুসারে স্টোর কিপার ব্যবহারিক বিষয়ের নির্দিষ্ট অংশের জন্য প্রয়োজনীয় যন্ত্রপাতি ও কাঁচামাল সরবরাহ করে দৈনন্দিন কাঁচামাল খরচ, যন্ত্রপাতি নষ্ট হওয়া বা হারিয়ে যাওয়া সম্পর্কিত তথ্যাদি রেকর্ড করে রাখে। মেশিন শপের ট্রেনিং কার্যক্রম সূষ্ঠ ভাবে সম্পাদনের জন্য স্টোর কিপারকে বাৎসরিক, ষাণ্মাসিক এবং প্রয়োজনীয় ক্ষেত্রে জরুরী চাহিদাপত্র তৈরি করতে হয়। ট্রেনিং এর স্বার্থে স্টোর কিপারকে অনেক সময় স্পট কোটেশনের মাধ্যমে মালামাল ক্রয়ের জন্য সংশ্লিষ্ট ব্যক্তিদের সাহায্যে করতে হয়। মালামাল ক্রয়ের ক্ষেত্রে স্টোর কিপারকে ট্রেনিং কার্যক্রমের সঙ্গে সম্পর্কযুক্ত প্রশিক্ষক, ওয়ার্কশপ সুপারিনটেনডেন্ট বা ওয়ার্কশপ ইনচার্জ এবং প্রতিষ্ঠান প্রধান যেমন-অধ্যক্ষ, সুপারিনটেনডেন্ট এর পরামর্শ এবং নির্দেশ গ্রহণ করে ক্রয়কার্য সম্পাদন করতে হয়। স্টোরে সংরক্ষিত মালামাল ও মেশিন যা রেকর্ডে সংরক্ষিত আছে উহা হারিয়ে যাওয়া, নষ্ট হওয়া, ভেঙ্গে যাওয়া, খরচ হয়ে যাওয়া প্রভৃতি সকল কাজের জন্য স্টোর কিপার ব্যক্তিগতভাবে দায়ী থাকে। এছাড়া স্টোর কিপারকে স্টোরের যাবতীয় রেকর্ডপত্র দায়িত্বপ্রাপ্ত অফিসার/ওয়ার্কশপ সুপারিনটেনডেন্ট বা ওয়ার্কশপ ইনচার্জ এর অনুমোদন বা অনুস্বাক্ষর করে রাখতে হয়।

ক্রাফট ইনস্ট্রাকটর বা দক্ষ বাহক (Craft Instructor or Skill Bearer) : বৃত্তিমূলক বা কারিগরি শিক্ষা প্রতিষ্ঠানের মেশিন শপে ব্যবহারিক ক্লাশে বিভিন্ন কাজে প্রশিক্ষার্থীদের, শ্রেণির প্রশিক্ষককে এবং স্টোর কিপারকে সাহায্যে করা ক্রাফট ইনস্ট্রাকটর বা দক্ষ বাহকগণের কাজ। মেশিন শপের যাবতীয় মালামাল দেখাশুনা করা, মেশিন ও যন্ত্রপাতি রক্ষণা-বেক্ষণ করা, শপের যাবতীয় বৈদ্যুতিক সুইচ নিয়ন্ত্রণ করা, শপের মধ্যে উত্তম হাউজ কিপিং অবস্থা বজায় রাখা একজন ক্রাফট ইনস্ট্রাকটর বা দক্ষ বাহকের দায়িত্ব এবং কর্তব্যের অন্তর্গত।

প্রশিক্ষক বা ট্রেনার (Instructor or Trainer) : বিভিন্ন বিষয়ের ব্যবহারিক অংশের উপর প্রশিক্ষণ দান করার জন্য মেশিন শপে কর্মরত যেসব ব্যক্তি দায়িত্বপ্রাপ্ত হয় তারা হলো প্রশিক্ষক বা ট্রেনার। ব্যবহারিক কাজ সম্পর্কিত সংশ্লিষ্ট তথ্যাদি পরিবেশন, ব্যবহারিক কাজের বিভিন্ন অংশের উপর ব্যবহারিক নির্দেশনা প্রদান, কাজের অনুশীলনের সময় তদারকী করা এবং নিরাপদে নির্দিষ্ট দক্ষতা মানে ব্যবহারিক ক্লাশের কাজ সম্পাদন করা অর্থাৎ প্রশিক্ষার্থীদের নির্দিষ্ট জ্ঞান ও দক্ষতা মানে কাজ করিতে সমর্থ করে তোলা একজন প্রশিক্ষকের প্রধান দায়িত্ব এবং কর্তব্য। প্রশিক্ষার্থীদের গঠনমূলক ইতিবাচক মনোভাব সৃষ্টি করা, উত্তম কর্ম পরিবেশ নিশ্চিত করা। দুর্ঘটনা এবং অপচয়ের হার কমানো প্রভৃতি ক্ষেত্রে প্রশিক্ষকগণ গুরুত্বপূর্ণ ভূমিকা পালন করে। মেশিন শপের জন্য চাহিদাপত্র তৈরি, মেশিন ও যন্ত্রপাতি মেরামত ও রক্ষণাবেক্ষণ, সঠিক মালামাল প্রাপ্তি নিশ্চিত করা প্রভৃতি ক্ষেত্রে প্রশিক্ষকগণ সর্বদা স্টোর কিপারকে সাহায্য করে। প্রতিষ্ঠান ব্যবস্থাপনা কর্তৃক গৃহীত বিভিন্ন কাজ বাস্তবায়নে প্রশিক্ষকগণ বিভিন্নভাবে প্রশাসনকে সাহায্য করে থাকেন।

ওয়ার্ক সুপারিনটেনডেন্ট/ওয়ার্কশপ ইনচার্জ (Workshop Superintendent/Workshop Incharge) : ওয়ার্কশপ সুপারিনটেনডেন্ট বা ওয়ার্কশপ ইনচার্জ হলো ব্যবস্থাপনা বা প্রশাসন কর্তৃক নিয়োগকৃত প্রধান দায়িত্বপ্রাপ্ত কর্মকর্তা। এসব কর্মকর্তা মেশিন শপের যাবতীয় রেকর্ডে স্বাক্ষর করেন এবং স্টোর কিপারকে তার কাজের জন্য তাদের নিকট জবাবদিহি করতে হয়। ওয়ার্কশপ সুপারিনটেনডেন্ট বা ওয়ার্কশপ ইনচার্জ উর্ধ্বতন কর্তৃপক্ষের সঙ্গে সরাসরি যোগাযোগ করেন এবং প্রতিষ্ঠানের আইন কানুন ও শান্তি শৃঙ্খলা রক্ষায় গুরুত্বপূর্ণ ভূমিকা পালন করেন। তিনি মালামাল ক্রয় ও বিক্রয়, মেশিন ও যন্ত্রপাতি অকেজো হয়ে যাওয়া, ভেঙ্গে বা হারিয়ে যাওয়া, চুরি হওয়া প্রভৃতি বিষয়গুলি সরাসরি তদারকী করেন এবং অনেক ক্ষেত্রে উর্ধ্বতন কর্তৃপক্ষের নিকট এসব বিষয়গুলির কারণে জবাবদিহি করতে হয়। তিনি প্রত্যক্ষ এবং পরোক্ষভাবে প্রশিক্ষণের গুণগত মান, কাঁচামালের মিতব্যয়ী ব্যবহার, মেশিন ও যন্ত্রপাতির সুষ্ঠু এবং নিয়মসম্মত ব্যবহার প্রভৃতি নিয়ন্ত্রণ করে থাকেন। মেশিন শপ ব্যবস্থার সফলতা ওয়ার্কশপ সুপারিনটেনডেন্ট ওয়ার্কশপ ইনচার্জের দায়িত্ব ও কর্তব্য পালনের সফলতার উপর অনেকাংশে নির্ভর করে।

ওয়ার্কশপ পিয়ন বা খালাসী (Workshop Peon or Khalashi) : মেশিন শপের মধ্যে স্টোরের বাহিরে খোল অবস্থায় রক্ষিত বিভিন্ন মেশিন, যন্ত্রপাতি ও কাঁচামাল প্রভৃতি হারানো বা চুরি হওয়া রোধ করা, মরিচা পড়া ও ধুলা পড়া থেকে জিনিসপত্র বাঁচানো, বিভিন্ন যন্ত্রাংশের প্রয়োজনীয় জায়গায় তৈল দেওয়া, উত্তম কর্ম পরিবেশের স্বার্থে যন্ত্র ও কাঁচামাল নির্দিষ্ট জায়গায় সংরক্ষণ করা (হাউজ কিপিং) প্রভৃতি একজন পিয়ন বা খালাসীর অন্যতম প্রধান দায়িত্ব এবং কর্তব্য। ওয়ার্কশপ পিয়ন বা খালাসী, ওয়ার্কশপ সুপারিনটেনডেন্ট ও ওয়ার্কশপ ইনচার্জ, স্টোর কিপার, ব্যবহারিক ক্লাশে প্রশিক্ষণ দান কাজে নিয়োজিত প্রশিক্ষক, প্রত্যেককে তাদের কাজ সুষ্ঠুভাবে সম্পাদনের জন্য সরাসরিভাবে সাহায্য করে। ওয়ার্কশপ সুপারিনটেনডেন্ট বা ওয়ার্কশপ ইনচার্জের সরাসরি তত্ত্বাবধানে ওয়ার্কশপ পিয়ন বা খালাসীগণ তাদের দায়িত্ব এবং কর্তব্য সম্পাদন করে থাকে।

প্রশ্নমালা-২

অতি সংক্ষিপ্ত প্রশ্ন :

১. মেশিন বলতে কী বোঝায়?
২. মেশিন শপকে কয়ভাগে ভাগ করা যায়?
৩. মেশিন শপকে সাধারণত কয়টি শাখায় ভাগ করা যায়?
৪. ফাইল কোন শ্রেণির টুল?
৫. মেশিন টুলসকে প্রধানতঃ কয়ভাগে ভাগ করা যায়?
৬. স্টোরের দায়িত্বে যে ব্যক্তি থাকেন তাঁর পদের নাম কী?
৭. মেশিন শপের সার্বিক তত্ত্বাবধান যিনি করেন তাঁর পদের নাম কি?
৮. লেদ কোন ধরনের টুলস?
৯. মেশিন শপের গুণগত মান কোন বিভাগ দ্বারা নিশ্চিত করা হয়?
১০. হার্ডেনিং মেশিন শপের কোন শাখায় করা হয়?

সংক্ষিপ্ত প্রশ্ন :

১. মেশিন শপ বলতে কী বোঝায়?
২. মেশিন শপের ৫টি শাখার নাম লেখ।
৩. ৫টি মেশিন টুলস এর নাম লেখ।
৪. মেশিন শপে ব্যবহৃত ৫টি মেজারিং টুলস এর নাম লেখ।
৫. জেনারেল মেশিনিস্ট কাকে বলে?
৬. মেশিন অপারেটর বলতে কী বোঝায়?
৭. টার্নার এর কাজ বর্ণনা কর।
৮. মেশিন সেটআপ ম্যানের কাজ কী?
৯. ড্রাফট ইনস্ট্রাক্টরের কাজ বর্ণনা কর।
১০. স্টোর কিপারের কাজ কী?

রচনামূলক প্রশ্ন :

১. মেশিন শপ বলতে কী বোঝায়? মেশিন শপের যে কোন ৫টি শাখার কার্যাবলী বর্ণনা কর।
২. পরিদর্শন শাখার কার্যাবলী ও গুরুত্ব বর্ণনা কর।
৩. ফিটিং শাখার কার্যাবলী ও গুরুত্ব বর্ণনা কর।
৪. ১০টি মেশিন টুলস এর নাম লেখ।
৫. জেনারেল মেশিনিস্ট এবং স্পেশালাইজড মেশিনিস্ট কাকে বলে? এদের কাজের গুরুত্ব বর্ণনা কর।
৬. মেশিন শপের কাজে দক্ষ বাহক এবং ইন্সট্রাক্টরের কাজের পার্থক্য বুঝিয়ে দাও।
৭. ওয়ার্কশপ সুপারিনটেনডেন্টের কাজের গুরুত্ব এবং পরিধি বর্ণনা কর।

অধ্যায়-৩

ওয়ার্কশপে সতর্কতামূলক ব্যবস্থা (Safety Precautions on Workshop)

৩.১ ওয়ার্কশপে সতর্কতা বিধি পালনের প্রয়োজনীয়তা ও গুরুত্ব :

একটি দুর্ঘটনা দ্বারা ব্যক্তিগত, সামাজিক ও জাতীয় পর্যায়ে প্রচুর ক্ষতিসাধন সহ বহুবিধ সমস্যার সৃষ্টি হয়। দুর্ঘটনা কবলিত ব্যক্তি আহত বা নিহত হতে পারে। আহত বা নিহত ব্যক্তির পরিবার ক্ষতিগ্রস্ত হয়। একটি ছোট দুর্ঘটনার কারণে একটি কারখানা ধ্বংসপ্রাপ্ত হয়ে যেতে পারে আবার একজন দক্ষ কর্মী আহত বা নিহত হলে দেশ, জাতি ও পরিবার ক্ষতিগ্রস্ত হয়। সুতরাং কাজ করার সময় ঐ সকল দুর্ঘটনা হতে নিজেদের রক্ষা করার জন্য প্রত্যেক কারিগরের সতর্কতা অবলম্বন করা উচিত। ওয়ার্কশপে দক্ষ কারিগর এবং যন্ত্রপাতি উভয়ই মূল্যবান সম্পদ। কারিগররা সতর্কতার সাথে এবং নিরাপদে বিভিন্ন মেশিনটুলে কাজ করে লাভজনক দ্রব্যাদি বা যন্ত্রাংশ উৎপাদন করবে এটাই কাম্য। অন্যথায় সতর্কতার অভাবে দুর্ঘটনাজনিত কারণে কারিগরদের দৈহিক ক্ষয়ক্ষতি ও মেশিনটুলের ক্ষয়ক্ষতি অলাভজনক উৎপাদনের কারণ হয়, এটা আদৌ কাম্য নয়। বিভিন্ন মেশিনটুল ওয়ার্কশপে সতর্কতার সাথে কাজ করলে দুর্ঘটনা এড়ানো সম্ভব হয়। সেফটি বিশেষজ্ঞগণ বলেন, শিক্ষা প্রতিষ্ঠানে লক্ষ সতর্কতা ও নিরাপত্তামূলক মনোভাব এবং আচরণ কর্মজীবনে সরাসরি প্রতিফলিত হয়। এ জন্য শিক্ষা প্রতিষ্ঠানে সতর্কতা বিধিসমূহ অনুশীলন করা উচিত। সতর্কতা দুর্ঘটনার হার কমায়। এক সমীক্ষায় দেখা যায় হ্যান্ড টুলস ব্যবহারে দুর্ঘটনার হার ৮%। দুর্ঘটনা ক্ষতি ছাড়া মজল বয়ে আনে না। এ জন্য দুর্ঘটনা রোধকল্পে সতর্কতা বিধি পালনের প্রয়োজন রয়েছে।

নিম্নে ওয়ার্কশপে সতর্কতা বিধি পালনের প্রয়োজনীয়তা উল্লেখ করা হলো-

- ওয়ার্কশপে কর্মরত টেকনিসিয়ানদের জীবনের নিরাপত্তার জন্য।
- টেকনিসিয়ানদের শরীরের বিভিন্ন অঙ্গ প্রত্যঙ্গের নিরাপত্তার জন্য।
- ওয়ার্কশপে ব্যবহৃত টুলস ও যন্ত্রপাতির নিরাপত্তার জন্য।
- ওয়ার্কশপে ব্যবহৃত কাঁচামাল ও অন্যান্য আনুষঙ্গিক জিনিসপত্র সঠিকভাবে ব্যবহার করে অপচয় কমিয়ে আনা।
- সময়ের সূচু ব্যবহার নিশ্চিত করা।
- উত্তম কর্ম পরিবেশ বজায় রেখে সূচুভাবে কাজ পরিচালনা করার জন্য।

৩.২ ওয়ার্কশপের জন্য প্রয়োজনীয় সতর্কতা বিধিসমূহ :

ওয়ার্কশপে কর্মরত অবস্থায় বিভিন্ন প্রকার যন্ত্র বা মেশিন হতে অনেক প্রকার দুর্ঘটনা ও বিপদের আশঙ্কা থাকে। বিভিন্ন প্রকার বিধি পালন করে এ সমস্ত বিপদ বা দুর্ঘটনা হতে মুক্ত থাকা সম্ভব।

নিম্নে ওয়ার্কশপে পালনীয় সতর্কতামূলক বিধিসমূহ উল্লেখ করা হলো-

- ❖ কাজের ধরন অনুসারে সঠিক যন্ত্রের ব্যবহার।
- ❖ কাজ করার সময় যন্ত্রসমূহ যথাস্থানে রেখে কাজ করা।
- ❖ কাজ শেষে যন্ত্রগুলো নির্দিষ্ট একটি বাক্সে যথাস্থানে রাখা।
- ❖ ফাইল (File), স্কেপার (Scraper) ও স্ক্রু-ড্রাইভার (Screw-driver) ইত্যাদি যন্ত্রে উপযুক্ত হাতল লাগিয়ে কাজ করা।

- ◆ হাতুড়ির হাতল ও ফিলক ঠিকমতো আছে কী না দেখে নেওয়া।
- ◆ “শান” (Grinding) করার সময় সঠিক চশমা ব্যবহার করা।
- ◆ মাপ নেবার যন্ত্রপাতিসমূহকে সঠিক স্থানে রেখে কাজ করা।
- ◆ টিলা জ্বালা কাপড়, পায়জামা, চালর, টাই, মাকলার ইত্যাদি পরিধান করে কাজ না করে আটসটি পোশাক তথা অ্যাথোন পরিধান করে কাজ করা।
- ◆ কাজ করার সময় ঘড়ি, বালা, আংটি ইত্যাদি হাতে না পড়া।
- ◆ খালি পায়ে বা স্যাভেল পড়ে ওয়ার্কশপে প্রবেশ না করা।
- ◆ অন্ধকারে, কম আলোতে বা অতিরিক্ত আলোতে কাজ করা উচিত নয়। চোখ ঝলসানো আলো বের হয় এমন কাজে সানপ্রাস ব্যবহার করতে হবে।
- ◆ ওয়ার্কশপে প্রয়োজনীয় পরিমাণ অগ্নিনির্বাপক বহ্ন প্রকাশ্যে ও সুবিধামত জায়গায় সবসময় প্রস্তুত রাখা।

৩.৩ ওয়ার্কশপে ব্যবহৃত নিরাপদ পোশাক ও সরঞ্জামাদির নাম :

ওয়ার্কশপে কাজ করার সময় যে কোন দুর্ঘটনা এড়াণোর জন্য অবশ্যই নিরাপদ পোশাক ও নিরাপদ সরঞ্জামাদি পরিধান করা দরকার। নিম্নে মেশিনশপে নিরাপদ পোশাক ও সরঞ্জামাদির তালিকা দেওয়া হলো-

নিরাপদ পোশাক ও সরঞ্জামসমূহ :

১. মোটা কটন বা জিনসের তৈরি অ্যাথোন,
২. আটসটি পোশাক,
৩. ল্যান্ডারের তৈরি হ্যান্ড-গ্লাভস,
৪. সেকটি গগলস,
৫. হ্যান্ড শিল্ড
৬. ল্যান্ডারের তৈরি শক্ত তলা বিশিষ্ট জুতা,
৭. অগ্নিনির্বাপক বহ্ন, ইত্যাদি।



(১)



(২)



(৩)



(৪)



(৫)



(৬)



(৭)

চিত্র-৩.১ : নিরাপদ পোশাক ও সরঞ্জামাদি

প্রশ্নমালা-৩

অতিসংক্ষিপ্ত প্রশ্ন :

১. দুর্ঘটনা কী ?
২. কর্মীদের মাঝে নিরাপদ কার্যাভ্যাস গড়ে তোলার দায়িত্ব কার ?
৩. দুর্ঘটনা থেকে রক্ষা পাওয়ার জন্য প্রত্যেক কারিগরের কী অবলম্বন করা উচিত ?
৪. কাজের সময় চোখ রক্ষা করার জন্য কী ব্যবহার করা উচিত ?
৫. মেশিনশপে কাজের সময় কী ধরনের জুতা পরিধান করা উচিত ?
৬. নিরাপত্তার জন্য গৃহিত কার্যক্রমকে কী বলা হয় ?

সংক্ষিপ্ত প্রশ্ন :

১. কোনো কারখানায় দুর্ঘটনা ঘটার ৫টি কারণ লেখ।
২. নিরাপত্তাবিধি বলতে কী বোঝায়? ব্যাখ্যা কর।
৩. ৫টি সতর্কতামূলক ব্যবস্থার উল্লেখ কর।
৪. মেশিনশপের জন্য বিপদজনক ৫টি অবস্থা উল্লেখ কর।
৫. মেশিনশপে সতর্কতা বিধি পালন করা কেন প্রয়োজন উল্লেখ কর।
৬. নিরাপদ পোশাক বলতে কী বোঝায়? উদাহরণসহ লেখ।
৭. মেশিনশপে নিরাপদ পোশাক এবং সরঞ্জামাদি কেনো ব্যবহার করা প্রয়োজন উল্লেখ কর।

রচনামূলক প্রশ্ন :

১. দুর্ঘটনা কী? কিভাবে দুর্ঘটনা এড়ানো যায় বর্ণনা কর।
২. মেশিনশপে সতর্কতা বিধি পালনের প্রয়োজনীয়তা উল্লেখ কর।
৩. মেশিনশপে পালনীয় ১০টি সতর্কতা বিধি লেখ।
৪. মেশিনশপের বিপদজনক অবস্থাদি বর্ণনা কর।
৫. বিপদমুক্ত কার্যাভ্যাস বলতে কী বোঝায় ? বর্ণনা কর।
৬. মেশিনশপে কী ধরনের নিরাপদ সরঞ্জামাদি পরিধান করা উচিত ? বর্ণনা কর।
৭. মেশিনশপে কাজ করার সময় কীভাবে যত্নপাতি সুবিন্যস্ত করা প্রয়োজন, তা বর্ণনা কর।
৮. টুলরুমে যত্নপাতি সংরক্ষণের প্রক্রিয়া বর্ণনা কর।
৯. ওয়ার্কশপের তিনটি বিপদজনক অবস্থা উল্লেখ কর এবং এ ব্যাপারে তোমার করণীয় ব্যবস্থাদি বর্ণনা কর।

অধ্যায়-৪

মেশিনশপে ব্যবহৃত কাচামাল (ধাতু ও অধাতু)

৪.১ মেশিন শপে সচরাচর ব্যবহৃত ধাতু ও অধাতুসমূহের নাম :

মেশিনশপে সাধারণত যে সকল ধাতু ব্যবহৃত হয় উহাদেরকে দুইটি শ্রেণিতে বিভক্ত করা যায়। যেমন-

- ১) লৌহজাত ধাতু (Ferrous Metals)
- ২) অলৌহজাত ধাতু (Non-Ferrous Metals)

লৌহজাত ধাতু (Ferrous Metals) : যে সকল ধাতুর মধ্যে লৌহ বিদ্যমান থাকে সেগুলোকে লৌহজাত ধাতু বলা হয়। মেশিনশপে যে সকল লৌহজাত ধাতু ব্যবহৃত হয় তা হলো-

- ১) মাইল্ড স্টিল (Mild Steel)
- ২) মিডিয়াম কার্বন স্টিল (Medium Carbon Steel)
- ৩) হাই কার্বন স্টিল (High Carbon Steel)
- ৪) টুল স্টিল (Tool Steel)
- ৫) গ্রে-কাস্ট আয়রন (Gray Cast Iron)
- ৬) হোয়াইট কাস্ট আয়রন (White Cast Iron)
- ৭) চিল্ড কাস্ট আয়রন (Chilled Cast Iron)
- ৮) ম্যালিয়েবল কাস্ট আয়রন (Malleable Cast Iron)
- ৯) হাই-স্পিড স্টিল (High Speed Steel)
- ১০) রট আয়রন (Wrought Iron)
- ১১) স্টেইনলেস স্টিল (Stainless Steel)
- ১২) স্প্রিং স্টিল (Spring Steel)
- ১৩) নিকেল স্টিল (Nickel Steel)
- ১৪) ক্রোমিয়াম স্টিল (Chromium Steel)
- ১৫) টাংস্টেন স্টিল (Tungsten Steel), প্রভৃতি।

অলৌহজাত ধাতু (Non-Ferrous Metals) : যে সকল ধাতুর মধ্যে লৌহ বা আয়রন থাকে না সেগুলোকে অলৌহজাত ধাতু বলা হয়। মেশিনশপে যে সকল অলৌহজাত ধাতু ব্যবহৃত হয় সেগুলো হলো-

- ১) ব্রাস (Brass)
- ২) ব্রোঞ্জ (Bronze)
- ৩) গান মেটাল (Gun Metal)
- ৪) অ্যালুমিনিয়াম (Aluminium)
- ৫) তামা (Copper)
- ৬) দস্তা (Zinc)
- ৭) অ্যালুমিনিয়াম ব্রোঞ্জ (Aluminium Bronze)
- ৮) ফসফর ব্রোঞ্জ (Phosphor Bronze)

- ৯) বেল মেটাল (Bell Metal)
- ১০) সীসা (Lead)
- ১১) নিকেল (Nickel)
- ১২) টিন (Tin), প্রভৃতি।

মেশিনশপে সাধারণত যে সকল অধাতু ব্যবহৃত হয় সেগুলো হলো-

- ১) সালফার (Sulphur)
- ২) ফসফরাস (Phosphorous)
- ৩) প্লাস্টিক (Plastic)
- ৪) কাঁচ (Glass)
- ৫) ডায়মন্ড (Diamond)
- ৬) গ্র্যাফাইট (Graphite)
- ৭) কার্বন (Carbon)
- ৮) সিলিকন (Silicon)
- ৯) পলিথিলিন (Polythelene), ইত্যাদি।

৪.২ ধাতু ও অধাতু সম্পর্কে ধারণা :

ধাতু (Metals) : যে সকল পদার্থের বিশেষ দ্যুতি আছে, আঘাত সহ্য করার ক্ষমতা বিদ্যমান, পিটিয়ে পাতলা পাত বানানো যায়, টেনে সরু ও লম্বা করা যায়, আঘাত করলে বিশেষ ধাতব শব্দ হয় এবং তাপ ও বিদ্যুত সুপরিবাহী তাদেরকে ধাতু বলে। যেমন- লোহা, তামা, দস্তা, সোনা, রূপা, ইত্যাদি।

অধাতু (Non-Metals) : যে সকল মৌলিক পদার্থ বা যৌগিক পদার্থ সাধারণত তাপ ও বিদ্যুত পরিবাহী নয়, কোনো দ্যুতি নেই, অপেক্ষাকৃত ভঙ্গুর এবং আঘাত করলে ধাতব শব্দ হয় না তাদেরকে অধাতু বলা হয়। যেমন- সালফার, ফসফরাস, প্লাস্টিক, কাঁচ, ডায়মন্ড, গ্র্যাফাইট, কার্বন, সিলিকন, পলিথিলিন, ইত্যাদি অধাতুর উদাহরণ।

৪.৩ মেশিনশপে সচরাচর ব্যবহৃত লৌহজাত ধাতু ও অলৌহজাত ধাতু :

লৌহজাত ধাতু (Ferrous Metals) : যে সকল ধাতুর মধ্যে লৌহ বিদ্যমান থাকে সেগুলোকে লৌহজাত ধাতু বলা হয়। মেশিনশপে যে সকল লৌহজাত ধাতু ব্যবহৃত হয় উহারা হলো-

মাইল্ড স্টিল, মিডিয়াম কার্বন স্টিল, হাই কার্বন স্টিল, টুল স্টিল, গ্রে-কাস্ট আয়রন, হোয়াইট কাস্ট আয়রন, চিল্ড কাস্ট আয়রন, ম্যালিয়েবল কাস্ট আয়রন, হাই-স্পীড স্টীল, রট আয়রন, স্টেইনলেস স্টীল, স্প্রিং স্টীল, নিকেল স্টীল, ক্রোমিয়াম স্টীল, টাংস্টেন স্টীল প্রভৃতি।

অলৌহজাত ধাতু (Non-Ferrous Metals) : যে সকল ধাতুর মধ্যে লৌহ বা আয়রন থাকে না সেগুলোকে অলৌহজাত ধাতু বলা হয়। মেশিনশপে যে সকল অলৌহজাত ধাতু ব্যবহৃত হয় সেগুলো হলো- ব্রাস, ব্রোঞ্জ, গান মেটাল, অ্যালুমিনিয়াম, তামা, দস্তা, অ্যালুমিনিয়াম ব্রোঞ্জ, ফসফর ব্রোঞ্জ, বেল মেটাল, সীসা, নিকেল, টিন প্রভৃতি।

৪.৪ লৌহজাত ধাতু শনাক্ত করণ :

মেশিনশেপে ব্যবহৃত ধাতুসমূহকে খালি চোখে দেখে ব্যবহারের জন্য অতি সহজেই শনাক্ত করা যায়। ধাতব পদার্থের বাইরের আবরণ-এর চাকচিক্য, রং বা বর্ণ এবং যে কোনো দাগ বা চিহ্ন ঐ ধাতুর বাহ্যিক রূপের অন্তর্গত। তাই অনেক ধাতুকে বাহ্যিক রূপ দেখে অতি সহজেই চেনা যায়। সাধারণত লৌহজাত ধাতু চুম্বক আকর্ষণ করে থাকে। তাই একটি চুম্বক ব্যবহার করে অতি সহজেই অধিকাংশ লৌহজাত ধাতুকে শনাক্ত করা যায়। ধাতব পদার্থের বাহ্যিক রূপ দেখে লৌহজাত ধাতু শনাক্তকরণের জন্য নিম্নে একটি তালিকা দেওয়া হলো-

ধাতুর নাম	ধাতুর বাহ্যিক রূপ
পিগ আয়রন	ব্লাস্ট ফার্নেসে আকরিক লৌহ গলানোর পর অন্তর্বর্তীকালীন প্রডাক্ট হলো পিগ আয়রন, যার মধ্যে সিলিকা ও ৩.৫-৪.৫% কার্বন থাকে। ফলে এটি ভঙ্গুর হয়ে থাকে এবং সরাসরি কোনো মেশিনিং এর কাজে ব্যবহার করা যায় না। পিগ আয়রন ইংগট বা পিগ আকারে থাকে যা কিউপোলা ফার্নেসে গলিয়ে কাস্ট আয়রনের মোল্ড তৈরি করা হয়।
কাস্ট আয়রন	এ ধাতুর আবরণ অমসৃণ, বর্ণ ধূসর এবং বালুকণায়ুক্ত। প্রায়ই ঢালাই চিহ্ন থাকে। ভাঙলে এর ভেতরের অংশ স্ফটিকের ন্যায় দানা বিশিষ্ট দেখায়।
রট আয়রন	অল্প লাল আভাযুক্ত মলিন, উপরে আঁশের ন্যায় আবরণ থাকায় উপরিভাগ অমসৃণ হয়। ভেঙ্গে গেলে এর ভেতরের অংশ আঁশযুক্ত (Fibrous) বোধ হয় এবং উহা রেশমের ন্যায় দ্যুতি যুক্ত নীলাভ বর্ণের হয়।
মাইল্ড স্টিল	এর আবরণ মসৃণ এবং বর্ণ মরিচাহীন অবস্থায় নীলাভ কৃষ্ণবর্ণ দেখায়। মরিচা পড়লে একে লালচে বাদামী দেখায়। ভাঙলে ভেতরের অংশ অল্প আঁশযুক্ত বোধ হয়।
মিডিয়াম কার্বন স্টিল	এর আবরণ মসৃণ এবং বর্ণ মরিচাহীন অবস্থায় নীলাভ কৃষ্ণবর্ণ দেখায়। মরিচা পড়লে একে লালচে বাদামী দেখায়। ভাঙলে ভেতরের অংশ ক্ষুদ্র দানায়ুক্ত দেখায়।
হাই-কার্বন স্টিল	এর আবরণ মসৃণ এবং বর্ণ মরিচাহীন অবস্থায় গাঢ় নীলাভ কৃষ্ণবর্ণ দেখায়। মরিচা পড়লে একে লালচে বাদামী দেখায়। ভাঙলে ভেতরের অংশ ক্ষুদ্র দানায়ুক্ত দেখায়।
কাস্ট স্টিল	এর আবরণ খুব মসৃণ এবং উজ্জ্বল কৃষ্ণবর্ণ দেখায়। এর কোণগুলো তীক্ষ্ণ হয়। ভাঙলে ভেতরের অংশ খুবই ক্ষুদ্র দানায়ুক্ত দেখায়।
হাইস্পিড-স্টিল	কাস্ট স্টিল হতে কম মসৃণ এবং বর্ণ লালচে হয়।

৪.৫ অলৌহজাত ধাতু শনাক্তকরণ :

অলৌহজাত ধাতুসমূহকে তাদের বর্ণ দেখে অতি সহজেই চেনা যায়। তাছাড়া চুম্বক অলৌহজাত ধাতুসমূহকে আকর্ষণ করে না বলে চুম্বক দিয়েও খুব সহজে এদেরকে শনাক্ত করা যায়। ধাতব পদার্থের বাহ্যিক রূপ দেখে অলৌহজাত ধাতু শনাক্তকরণের জন্য নিম্নে একটি তালিকা দেওয়া হলো-

ধাতুর নাম	ধাতুর বাহ্যিক রূপ
অ্যালুমিনিয়াম	এর আবরণ মসৃণ এবং বর্ণ উজ্জ্বল এবং অল্প নীল আভাযুক্ত সাদা। এর উপরিভাগ বাতাসের জলীয় বাষ্প দ্বারা আক্রান্ত হয় না বিধায় এর বর্ণ সহজে মলিন হয় না।
কাস্ট অ্যালুমিনিয়াম	এর আবরণ অমসৃণ এবং দেখতে নীলাভ সাদা।

কপার বা তামা	এর আবরণ মসৃণ। শুষ্ক অবস্থায় এর বর্ণ লাল এবং উজ্জ্বল কিন্তু আর্দ্র বায়ুর প্রভাবে উপরিভাগে নীলাভ কালো বর্ণের অক্সাইড তৈরি হয়। ফলে উপরিভাগ মলিন দেখায়। বিশুদ্ধ অবস্থায় কপার নরম থাকে।
কপার বা তামা	এর আবরণ মসৃণ। শুষ্ক অবস্থায় এর বর্ণ লাল এবং উজ্জ্বল কিন্তু আর্দ্র বায়ুর প্রভাবে উপরিভাগে নীলাভ কালো বর্ণের অক্সাইড তৈরি হয়। ফলে উপরিভাগ মলিন দেখায়। বিশুদ্ধ অবস্থায় কপার নরম থাকে।
ব্রাস বা পিতল	এর আবরণ মসৃণ। ইহা দেখতে উজ্জ্বল এবং হরিদ্রাবর্ণ।
ব্রোঞ্জ	এর আবরণ মসৃণ হয়। ব্রোঞ্জ ব্রাস অপেক্ষা শক্ত এবং দেখতে লাল আভাযুক্ত হরিদ্রাবর্ণের হয়ে থাকে।
লেড বা সীসা	এর উপরিভাগ অমসৃণ হয়। ইহা দেখতে নীল আভাযুক্ত ধূসর বর্ণ এবং উজ্জ্বল। কিন্তু আর্দ্র বায়ুর অক্সিজেনের সাথে বিক্রিয়া করে অক্সাইড উৎপন্ন করে বলে উপরিভাগ মলিন দেখায়। সীসা নরম এবং ভারী ধাতু। এর সাহায্যে কাগজের উপর রেখা টানা যায়।
জিঙ্ক বা দস্তা	এর আবরণ অমসৃণ হয়। বিশুদ্ধ অবস্থায় এর বর্ণ উজ্জ্বল এবং নীল আভাযুক্ত সাদা হয়। ভাঙলে এর ভিতরের অংশ দানাদার দেখা যায়।
টিন বা রাস	এর বর্ণ উজ্জ্বল হরিদ্রা আভাযুক্ত সাদা। ভাঙলে এর ভেতরের অংশ দানাদার দেখায়।
নিকেল	এর উপরিভাগ মসৃণ হয়। এর বর্ণ খুব উজ্জ্বল এবং রৌপ্যের ন্যায় সাদা। বায়ুর অক্সিজেন দ্বারা আক্রান্ত হয় না বিধায় এর উপরিভাগ সর্বদা উজ্জ্বল থাকে।

৪.৬ ধাতুর যান্ত্রিক গুণাবলী (Mechanical Properties of Metal) :

বাহ্যিক বল প্রয়োগের ফলে ধাতুর মধ্যে যে সমস্ত বৈশিষ্ট্য পরিলক্ষিত হয় সেগুলোকে ধাতুর যান্ত্রিক ধর্ম বলে। যেমন-

ধাতুর যান্ত্রিক গুণাবলীর নাম	ধাতুর যান্ত্রিক গুণাবলীর বর্ণনা
স্ট্রেংথ (Strength)	কোন পদার্থের উপর বল প্রয়োগ করলে সেই বল প্রতিরোধ করে নিজের আকৃতি ও গুণাবলী ঠিক রাখার ক্ষমতাকে ঐ পদার্থের স্ট্রেংথ বলা হয়।
স্ট্রেস (Stress)	কোন বস্তুর উপর বাহির হতে বল প্রয়োগ করলে সেই বলকে প্রতিরোধ করার জন্য পদার্থের একক প্রস্থচ্ছেদের ক্ষেত্রফলের উপর বিপরীতমুখী আভ্যন্তরীণ প্রতিক্রিয়া বলের পরিমাণ কে স্ট্রেস বলা হয়। স্ট্রেস = (বল ক্ষেত্রফল) নিউটন/মিটার ^২
স্ট্রেইন (বাক্তরহ)	বাহ্যিক বল প্রয়োগে বস্তুর দৈর্ঘ্য বা আয়তনের মোট পরিবর্তন ও আদি দৈর্ঘ্য বা আয়তনের অনুপাতকে স্ট্রেইন বলে। স্ট্রেইন = (আদি দৈর্ঘ্য বা আয়তন বল প্রয়োগের ফলে বর্ধিত দৈর্ঘ্য বা আয়তন)
কাঠিন্যতা (Hardness)	যে গুণের জন্য কোনো পদার্থ এর উপর অতিসূক্ষ্ম দাগাঙ্কিতকরণ, ঘর্ষণ, ক্ষয় বা গর্তকরণে প্রতিরোধের সৃষ্টি করে পদার্থের গুণকে কাঠিন্যতা বলা হয়।
ভঙ্গুরতা (Brittleness)	যে গুণের জন্য পদার্থের উপর আঘাত করলে সামান্যতম বিকৃত না হয়ে চূর্ণ বিচূর্ণ হয়ে যায়, পদার্থের সেই গুণকে ভঙ্গুরতা বলা হয়।

তান্তবতা (Ductility)	যে গুণের জন্য কোনো পদার্থকে টেনে লম্বা করে তারের আকৃতি প্রদান করা যায়, পদার্থের সেই গুণকে তান্তবতা বলা হয়। স্বর্ণের তান্তবতা সবচেয়ে বেশি এবং সীসার তান্তবতা কম।
পাততা (Malleability)	যে গুণের জন্য পদার্থকে হাতুড়ি দ্বারা পিটিয়ে বা আঘাতের মাধ্যমে অতি পাতলা পাত্রে পরিণত করা যায়। সে গুণকে পাততা বলা হয়। পাততার নিম্ন ক্রমানুযায়ী ধাতুসমূহ হচ্ছে— সোনা, রূপা, অ্যালুমিনিয়াম, তামা, টিন, প্লাটিনাম, সীসা, দস্তা, লোহা, নিকেল ইত্যাদি।
ঘাতসহতা (Toughness)	কোন বস্তুর উপর বল প্রয়োগ করলে উহা স্থিতিস্থাপক সীমা অতিক্রম করার পূর্ব পর্যন্ত যে পরিমাণ শক্তি শোষণ বা গ্রহণ করতে পারে, তাকে ঘাতসহতা (Toughness) বলা হয়।
স্থিতিস্থাপকতা (Elasticity)	পদার্থের যে গুণের জন্য উহার উপর বাহ্যিক বল প্রয়োগে সৃষ্ট বিকৃতিকে বল সরিয়ে নেওয়ার সঙ্গে সঙ্গে ঐ পদার্থ তার পূর্বাবস্থা ফিরে পায়, সে গুণকে স্থিতিস্থাপকতা বলে।
রেজিলিয়েন্স (Resilience)	কোন পদার্থের উপর বল প্রয়োগ করলে ঐ পদার্থ নিজের আকার আকৃতি ঠিক রেখে একক আয়তনের উপর সর্বোচ্চ পরিমাণ শক্তি গ্রহণ বা সঞ্চয় করে রাখার ক্ষমতাকে রেজিলিয়েন্স বলা হয়।

প্রশ্নমালা-৪

অতিসংক্ষিপ্ত প্রশ্ন :

১. ধাতু কাকে বলে ?
২. অধাতু কাকে বলে ?
৩. লৌহজাত ধাতু কাকে বলে ?
৪. অলৌহজাত ধাতু কাকে বলে ?
৫. ৫টি ধাতুর নাম লেখ।
৬. ৫টি অধাতুর নাম লেখ।
৭. ৫টি লৌহজাত ধাতুর নাম লেখ।
৮. ৫টি অলৌহজাত ধাতুর নাম লেখ।
৯. স্টেইনলেস স্টিল বলতে কী বোঝায় ?
১০. হাই-স্পিড স্টিল বলতে কী বোঝায় ?
১১. রট আয়রন কী ?
১২. কাস্ট আয়রন কী ?

সংক্ষিপ্ত প্রশ্ন :

১. ধাতু ও অধাতুর উদাহরণসহ পার্থক্য লেখ।
২. লৌহজাত ধাতু ও অলৌহজাত ধাতুর উদাহরণসহ পার্থক্য লেখ।
৩. লোহার শ্রেণিবিভাগ দেখাও।
৪. মাইল্ড স্টিলের শ্রেণিবিভাগ দেখাও।
৫. হাই কার্বন স্টিল ও কাস্ট আয়রনের মধ্যে পার্থক্য কী ?
৬. ধাতুর যান্ত্রিক গুণাবলী বলতে কী বোঝায় ?
৭. হার্ডনেস এর সংজ্ঞা দাও।
৮. ধাতুর তান্তবতা বলতে কী বোঝায় ?
৯. ধাতুর ঘাতসহতা বলতে কী বোঝায় ?
১০. ধাতুর স্থিতিস্থাপকতা গুণ বলতে কী বোঝায় ?

রচনামূলক প্রশ্ন :

১. ধাতু ও অধাতু বলতে কী বোঝায় ? এদের মধ্যে উদাহরণসহ পার্থক্য লেখ।
২. ধাতুর যান্ত্রিক গুণাবলী বলতে কী বোঝায় ? ৫টি যান্ত্রিক গুণাবলীর বর্ণনা দাও।
৩. বিভিন্ন প্রকার স্টিলের ব্যবহার ও গুণাবলী বর্ণনা দাও।
৪. লৌহজাত ধাতুর শ্রেণিবিভাগ বর্ণনা কর।
৫. বিভিন্ন প্রকার কাস্ট আয়রনের ব্যবহার ও গুণাবলী বর্ণনা কর।

অধ্যায়-৫

টুলস (Tools)

৫.১ টুলস-এর সংজ্ঞা :

কোনো জব বা ওয়ার্কশিসকে প্রয়োজন অনুযায়ী পূর্বনির্ধারিত আকার, আকৃতি এবং মসৃণতার পরিবর্তন করার জন্য যান্ত্রিক সুবিধা সমন্বিত যে ডিজাইন সমূহ বা মাধ্যম সমূহ ব্যবহার করা হয় তাদেরকে টুলস বলা হয়। অন্যভাবে বলা যায় টুলস হলো এক প্রকার যন্ত্র বা যন্ত্রাংশের সমষ্টি যা কোনো ধাতু বা ওয়ার্কশিস থেকে অতিরিক্ত অপ্রয়োজনীয় ধাতু কেটে বা ক্ষয় করে নির্দিষ্ট আকার, আকৃতি এবং মসৃণতা দেওয়ার কাজে ব্যবহৃত হয়। অর্থাৎ টুলস হলো এক প্রকার হাতিয়ার যা ব্যবহারের মাধ্যমে দুঃসাহ্য কাজ সহজসাধ্য হয় এবং হাতের কার্যবস্ত্র সুন্দর এবং সঠিকভাবে সম্পাদনে সহায়তা করে।

৫.২ টুলস-এর শ্রেণি বিভাগ:

মেশিনশে যে সব টুলস ব্যবহৃত হয় তাদের কাজের ধরন ও বৈশিষ্ট্য অনুসারে তাদেরকে প্রধানতঃ ৫ (পাঁচ) ভাগে বিভক্ত করা যেতে পারে। যথা-

- ১) মার্কিং বা লেআউট টুলস (Marking or Layout Tools)
- ২) কাটিং টুলস (Cutting Tools)
- ৩) মেজারিং টুলস (Measuring Tools)
- ৪) আনুষঙ্গিক হাত টুলস (Related Hand Tools)
- ৫) মেশিন টুলস (Machine Tools)

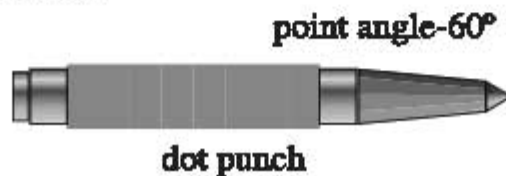
৫.৩ বিভিন্ন প্রকার টুলস সমালোচনা :

মার্কিং বা লেআউট টুলস (Marking or Layout Tools) :

কাজ আরম্ভ করার পূর্বে অথবা কাজের সময় ড্রয়িং অনুযায়ী ধাতু থেকে উপরিভাগে যে সকল টুলস দ্বারা মার্কিং করা হয় বা দাগ কেটে চিহ্ন দেওয়া হয় বা চিহ্নিত করার কাজে সাহায্য করে, সেসব টুলসকে মার্কিং বা লেআউট টুলস বলা হয়। প্রথম ড্রয়িং অনুসারে কার্যবস্ত্র উপরিতলে ড্রয়িং বা নকশা অঙ্কন করাকে মার্কিং অথবা লেআউট বলা হয়। কাগজের উপর পেনসিল ব্যবহার করে যে নিয়মে মেকানিক্যাল ড্রয়িং করা হয় অনুক্রম নিয়মে মার্কিং অথবা লেআউট টুলস ব্যবহার করে কার্যবস্ত্র তৈরি করার জন্য ওয়ার্কশিসের উপর মার্কিং অথবা লেআউট করা হয়। বেঞ্চ ওয়ার্ক, পিট মেটাল ওয়ার্ক, ড্রিনিং এর ক্ষেত্রে কেন্দ্রের অবস্থান চিহ্নিত করার জন্য লেআউট ওয়ার্ক খুবই গুরুত্বপূর্ণ ভূমিকা পালন করে।

বিভিন্ন প্রকার মার্কিং অথবা লেআউট টুলসগুলো হলো-

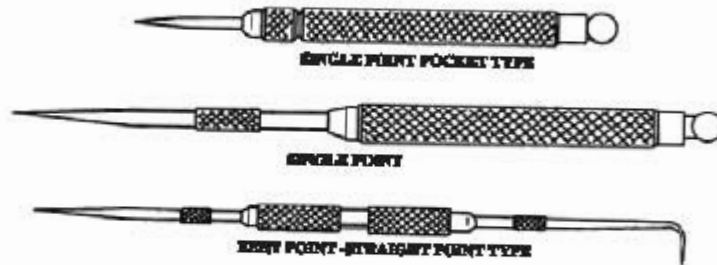
১) ডট পান্চ (Dot Punch) :



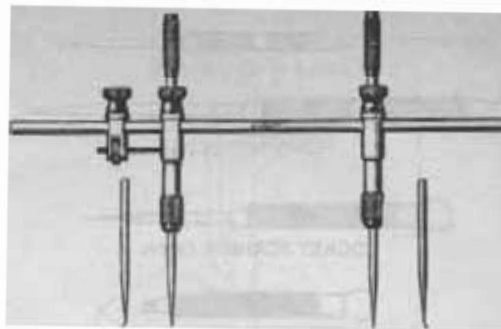
২) সেন্টার পান্চ (Centre Punch) :



৩) স্ক্রাইবার (Scriber) :



৪) ট্রাম্মেল (Trammel) :



৫) হার্মাফ্রোডিট ক্যালিপার্স (Hermafrodite Calipers) :



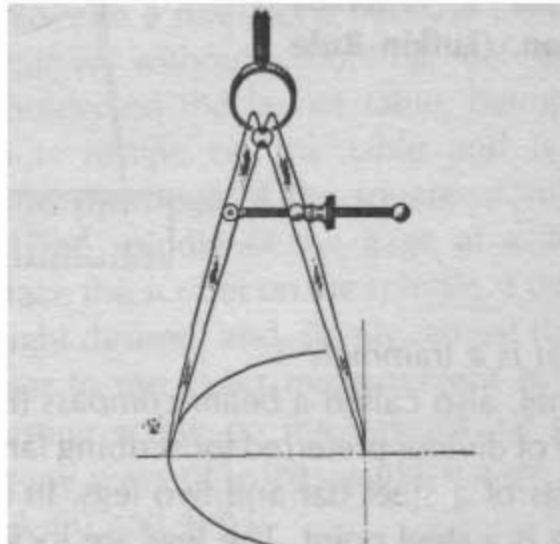
৩) ইনসাইড ক্যালিপার্স (Inside Calipers) :



৭) আউটসাইড ক্যালিপার্স (Outside Calipers) :



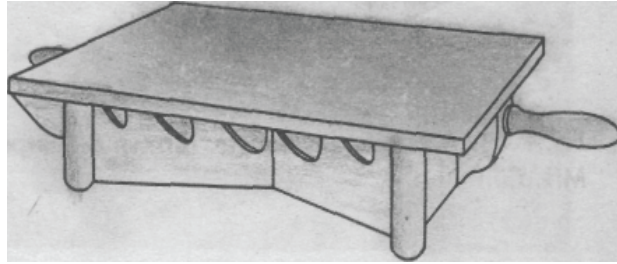
৮) ডিভাইডার (Divider) :



৯) সারফেস গেজ (Surface Gauge) :



১০) সারফেস প্লেট (Surface Plate) :



১১) ভার্নিয়ার হাইট গেজ (Vernier Height Gauge) :



১২) ট্রাই-স্কয়ার (Tri-Square) :



১৩) কম্বিনেশন সেট (Combination Set) :



১৪) স্টিল রুল (Steel Rule) :



১৫) প্যারালেল ক্লাম্প (Parallel Clamp) :



কাটিং টুলস (Cutting Tools) : যে সকল টুলস দ্বারা ধাতুকে কাটা বা ক্ষয় করা যায় সে সকল টুলসকে কাটিং টুলস বলা হয়।

যেমন-

১) ফাইল (File) :



২) বাগিশী (Chisel) :



৩) হ্যাক-স (Hack-Saw) :



৪) ট্যাপ (Tap) :



e) ডাই ও ডাই হোল্ডার (Die and Die Holder) :



৬) রিয়ার (Reamer) :




৭) পাইপ কাটার (Pipe Cutter) :




৮) ড্রিল বিট (Drill Bit) :



৯) লেন টুল বিট (Lathe Tool Bit) :



১০) শেপার টুল বিট (Shaper Tool Bit) :



১১) মিলিং কটার (Milling Cutter) :



১২) কাউন্টার সিংকিং ড্রিল (Counter Sinking Drill) :



১৩) কম্বিনেশন সেন্টার ড্রিল (Combination Centre Drill) :



১৪) কাউন্টার বোরিং কটার (Counter Boring Cutter) :



মেজারিং টুলস : যে সকল টুলস মাপ গ্রহণ করতে, মাপ জানতে, ও মাপ পরীক্ষা করতে ব্যবহৃত হয় সে সকল টুলসকে মেজারিং টুলস বা মেজারিং ইনস্ট্রুমেন্টস বলা হয়। মেজারিং টুলস এর মধ্যে যে সকল টুলস সাধারণত মাপ পরীক্ষা করার কাজে ব্যবহার করা হয় তাদেরকে আলাদাভাবে টেস্টিং টুলস বলা হয়। যেমন- ট্রাই-স্কয়ার, কম্বিনেশন স্কয়ার, বিভেল প্রোট্রাক্টর, স্কেইট এজ, স্টিল রুল ইত্যাদি। মেজারিং টুলস এর মধ্যে যে সকল টুলস তৈরি করা বস্তুর কাজের উপযোগী কী না, ইহার মাপ গ্রহণযোগ্য সীমার মধ্যে আছে কী না ইত্যাদি বিশেষ বিশেষ ক্ষেত্রে পরীক্ষা করার কাজে ব্যবহৃত হয়, সে সকল মেজারিং টুলসকে গেজ বলা হয়। যেমন- প্রাণ গেজ, রিং গেজ, স্ক্রায় গেজ, রেডিয়ার গেজ, ইন্ডিকেটিং হোল গেজ, ক্ল-পিচ গেজ, ফিলার গেজ, ইত্যাদি।

বিভিন্ন প্রকার মেজারিং টুলসগুলো হলো-

- (১) স্টিল রুল (Steel Rule)
- (২) ইনসাইড ক্যালিপার্স (Inside calipers)
- (৩) আউট সাইড ক্যালিপার্স (Outside Calipers)
- (৪) ভার্নিয়ার ক্যালিপার্স (Vernier Calipers)
- (৫) মাইক্রোমিটার (Micrometre)
- (৬) ভার্নিয়ার বিভেল প্রোট্রাক্টর (Vernier Bevel Protractor)
- (৭) সাইন বার (Sine Bar)
- (৮) টেলিস্কোপিক গেজ (Telescopic Gauge)
- (৯) স্পিরিট লেভেল (Spirit Level)

- (১০) ইন্ডিকেটিং হোল গেজ (Indicating Hole Gauge)
- (১১) স্লিপ গেজ বা গেজ ব্লক (Slip Gauge or Gauge Block)
- (১২) থ্রেড গেজ (Thread Gauge)
- (১৩) ডায়াল ইন্ডিকেটর (Dial Indicator)
- (১৪) ভার্নিয়ার হাইট গেজ (Vernier Height Gauge)
- (১৫) সেন্টার গেজ (Centre Gauge)
- (১৬) ওয়্যার গেজ (Wire Gauge), ইত্যাদি।

আনুষঙ্গিক হ্যান্ড টুলস (Related Hand Tools) : মেশিনশপে বা ফিটিং বিভাগের সাধারণ কাজে অথবা অন্য টুলস এর সহকারী যন্ত্র হিসাবে যে সকল টুলস ব্যবহৃত হয় তাদেরকে আনুষঙ্গিক টুলস বলা হয়। যেমন- হাতুড়ি, প্রায়ার, ভাইস, রেঞ্চ, স্ক্রু-ড্রাইভার, ট্যাপ রেঞ্চ, ডাই স্টক, ড্রিল চাক, চাক-কী, নাম্বার পাঞ্চ, লেটার পাঞ্চ, স্ক্রু একসট্রাক্টর, ট্যাপ একসট্রাক্টর, হ্যান্ড ভাইস, পিন ভাইস, কী-ড্রিফট, প্যারালাল ক্ল্যাম্প, ইত্যাদি।

মেশিন টুলস (Machine Tools) : মেশিন টুলস হলো শক্তি চালিত যান্ত্রিক ব্যবস্থা যা কাটিং টুলের সাহায্যে ওয়াকপিস থেকে নির্ধারিত পরিমাণ ধাতু অপসারণ করে প্রয়োজনীয় আকার, আকৃতি ও মসৃণতা প্রদানে ব্যবহৃত হয়। যেমন- লেদ মেশিন, শেপার মেশিন, প্লেনার, ড্রিলিং মেশিন, মিলিং মেশিন, গ্রাইন্ডিং মেশিন, বোরিং মেশিন, হোনিং মেশিন, পাওয়ার হ্যাক-স, বেভ-স ইত্যাদি।

৫.৪ কাজের জন্য উপযুক্ত টুল নির্বাচন :

টুলস নির্বাচন করার সময় কাজের ধরন, কার্যবস্তুর আকৃতি, কার্যবস্তুর পদার্থের যান্ত্রিক গুণাবলী, ইত্যাদি বিবেচনা করে নিম্নলিখিত তালিকা হতে অতি সহজেই মেশিন শপের কাজের জন্য টুলস নির্বাচন করা যায়।

যথা-

- ১) ফাইল (File)
- ২) চিজেল (Chisel)
- ৩) হ্যাক-'স' (Hack-Saw)
- ৪) হাতুড়ি (Hammer)
- ৫) রেঞ্চ (Wrench)
- ৬) স্ক্রু-ড্রাইভার (Screw Driver)
- ৭) প্ল্যাসার্স (Pliers)
- ৮) ভাইস (Vice)
- ৯) ট্রাই স্কোয়ার (Tri-square)
- ১০) ইনসাইড ক্যালিপার্স (Inside Calipers)
- ১১) আউটসাইড ক্যালিপার্স (Outside Calipers)
- ১২) ভার্নিয়ার ক্যালিপার্স (Vernier Calipers)
- ১৩) স্টিল রুল (Steel Rule)
- ১৪) মাইক্রোমিটার (Micrometer)
- ১৫) কম্বিনেশন স্কয়ার (Combination Square)
- ১৬) বিভেল প্রোট্রাক্টর (Bevel Protractor)

- ১৭) ট্যাপ (Tape)
- ১৮) ডাই (Die)
- ১৯) ড্রিল গেজ (Drill Gauge)
- ২০) সারফেস প্লেট (Surface Plate)
- ২১) অ্যাংগেল প্লেট (Angle Plate)
- ২২) সারফেস গেজ (Surface Gauge)
- ২৩) মার্কিং ব্লক (Marking Block)
- ২৪) রিমার (Reamer)
- ২৫) পাঞ্চ (Punch)
- ২৬) স্কাইবার (Scriber)
- ২৭) স্কেপার (Scraper)
- ২৮) ভি-ব্লক (V-Block)
- ২৯) ড্রিলিং মেশিন (drilling Machine)
- ৩০) গ্রাইন্ডিং মেশিন (Grinding Machine)
- ৩১) লেদ মেশিন (Lathe Machine)

প্রশ্নমালা-৫

অতি সংক্ষিপ্ত প্রশ্ন :

১. টুলস কাকে বলে?
২. টুলস কে প্রধানত কয়ভাগে ভাগ করা যায়?
৩. মার্কিং টুলস কাকে বলে?
৪. মেজারিং টুলস কাকে বলে?
৫. কাটিং টুলস কাকে বলে?
৬. হ্যান্ড টুলস কাকে বলে?

সংক্ষিপ্ত প্রশ্ন :

১. টুলস এর শ্রেণিবিভাগ উল্লেখ কর।
২. মার্কিং বা লেআউট টুলস বলতে কী বোঝায়? ৪টি মার্কিং বা লেআউট টুলস এর নাম লিখ।
৩. মেজারিং টুলস বলতে কী বোঝায়? ৪টি মেজারিং টুলস এর নাম লেখ।
৪. কাটিং টুলস বলতে কী বোঝায়? ৪টি কাটিং টুলস এর নাম লেখ।
৫. মেশিন টুলস বলতে কী বোঝায়? ৪টি মেশিন টুলস এর নাম লেখ।
৬. গেজ কাকে বলে? ৪টি গেজের নাম লেখ।

রচনামূলক প্রশ্ন :

১. উৎপাদনের ক্ষেত্রে টুলস এর গুরুত্ব ব্যাখ্যা কর।
২. টুলস এর প্রকারভেদ উল্লেখ কর এবং প্রত্যেক প্রকারের ৪টি করে টুলস এর নাম লেখ।
৩. হ্যান্ড টুলস এবং মেশিন টুলস কাকে বলে? এদের মধ্যে পার্থক্য দেখাও।
৪. মেশিন টুলস কাকে বলে? ১০টি মেশিন টুলসের নাম লেখ।

অধ্যায়-৬

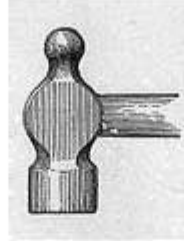
হস্ত চালিত যন্ত্রাদি (Hand Tools)

৬.১ হস্ত চালিত যন্ত্র (Hand Tool) :

মেশিনশপে বা ওয়ার্কশপে যে সকল যন্ত্রাদি মানুষের শারীরিক শক্তির সাহায্যে পরিচালিত হয়ে ওয়ার্কশপের সাধারণ কাজ অথবা অন্য যন্ত্রের সাহায্যকারী হিসেবে ব্যবহৃত হয় তাদেরকে হস্ত চালিত যন্ত্র বা হ্যান্ড টুলস বলা হয়। এ সকল টুলস পরিচালনা করতে ব্যক্তিক শক্তির প্রয়োজন হয় না এবং এগুলো ওজনে হালকা ও দামে সস্তা হয়। তবে এই ধরনের টুলসের কর্ম পরিধি বিস্তৃত হলেও কর্মদক্ষতা সীমিত। প্রত্যেক প্রশিক্ষণার্থী বা কারিগরকে হ্যান্ড টুলসের ব্যবহার ভালোভাবে আয়ত্ত্ব করতে হয়। যেখানে যে টুল ব্যবহার করা উচিত সেখানে কেবল তাই ব্যবহার করতে হবে। তা না হলে ভালো কাজ শেখা বা উন্নত মানের দক্ষতার কাজ করা কখনও সম্ভব নয়। হস্ত চালিত যন্ত্রাদি বিভিন্ন ধরকার ও গঠনের হয়। যেমন- হাতুড়ি, কাইল, হ্যাক-স, ক্রস-পিন হ্যামার, রেক বা স্পেনার, ট্যাপ রেক, ডাই স্টক, ড্রিল চাক, চাক-স্কী, নাচার পাঞ্চ, লেটার পাঞ্চ, পিন পাঞ্চ, ড্রিফট পাঞ্চ, ক্রস এক্সট্রাক্টর, ট্যাপ এক্সট্রাক্টর, ডিম্বেল, গায়ার, আইস, ইত্যাদি।

৬.২ সচরাচর ব্যবহৃত হস্ত চালিত যন্ত্রাদি ও তাদের বিভিন্ন অংশ :

হাতুড়ি (Hammer) : হাতুড়ি অতি প্রাচীনতম একটি হ্যান্ড টুল। সত্যতার উদাহরণ থেকেই হাতুড়ির ব্যবহার চলে আসছে এবং ক্রমোন্নতি লাভ করে গঠন বৈচিত্র্য আনয়নের মাধ্যমে কহবিধ কাজে আজও ব্যাপকভাবে ব্যবহৃত হচ্ছে। মূলত যে টুলের সাহায্যে আঘাত করে রকমারি কাজ সম্পাদন করা হয় তাকে হাতুড়ি বা হ্যামার বলা হয়।



চিত্র-৬.১ : হাতুড়ি

গঠন ও ব্যবহার অনুযায়ী হাতুড়ি অনেক প্রকার হয়। এগুলোর মধ্যে মেশিনশপ বা শিল্প কারখানার যেসব হাতুড়ি ব্যবহৃত হয় সেগুলো হলো-

১. ইঞ্জিনিয়ার্স হ্যামার (Engineer's Hammer) :

- (ক) বল-পিন হ্যামার (Ball-peen Hammer)
- (খ) স্ট্রেইট পিন হ্যামার (Straight-peen Hammer)
- (গ) ক্রস পিন হ্যামার (Cross-peen Hammer)

২. সফট হ্যামার (Soft Hammer)

৩. রিভেটিং হ্যামার (Riveting Hammer)

৪. স্লেজ হ্যামার (Sledge Hammer)

৫. ক্ল-হামার (Claw Hammer)

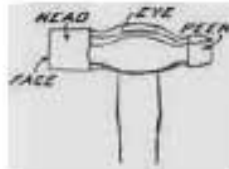
৬.৩ হস্ত চালিত বহাঙ্গিন ব্যবহার :-

বল পিন হামার : এটি দু'খণ্ডে সমন্বিত এবং মাথা গোলাকায় বিখ্যাত এবং দাঁত বল পিন হামার। যেসময় বল পিন হামারের প্রচলন সক্রমে বেশি। সাধারণ কাজে এর ক্ল্যাট বা সমতল মুণ্ডের ব্যবহার হয় এবং রিজেন্ট দিয়ে জোড়া দেওয়ার কাজে গোলাকায় মাথা ব্যবহার করা হয়।



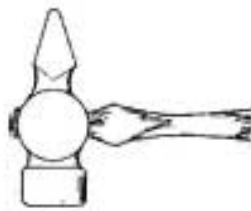
চিত্র-৬.১ : বল পিন হামার

স্ট্রেইট পিন হামার : এই হামার রিজেন্টের উপর আঘাত করে রিজেন্ট করার কাজে ব্যবহৃত হয়।




চিত্র-৬.২ : স্ট্রেইট পিন হামার

কল পিন হামার : এক প্রান্ত সমতল এবং অপর প্রান্ত স্ট্রেইট পিন হামারের হাতই মাথাটি চ্যাপ্টা কিংবা হাতলের সমান্তরাল বা থেকে সমকোণে থাকে। চ্যানেল অথবা কোণাকার খর্বের ভিতর কাজ করা, বাতু খর্বকে হকিয়ে দেওয়া, রিজেন্ট করা প্রভৃতি কাজে এই হাতুড়ি ব্যবহৃত হয়।



চিত্র-৬.৩ : কল পিন হামার

সকট হামার বা ম্যাল্লেট : সীসা, তামা, পিত্তল, স্ট্রোয়াইট মেটাল, অ্যালুমিনিয়াম, কাঠ, পতর কাঁচ চামড়া, প্লাস্টিক প্রভৃতি দ্বারা তৈরি হাতুড়িকে সকট হামার বা ম্যাল্লেট বলা হয়। বহাংশ সত্ত্বোজন ও বিভিন্নরূপে কাজে মৃদু আঘাত করার জন্য, মৃদু ও নরম খাতুকে আঘাত করা, মেশিনে ওয়ার্কশিপ সেট করা প্রভৃতি কাজে সকট হামার ব্যবহার করা হয়।



চিত্র-৬.৪ : সফট হ্যাভার বা ম্যালিট

রিভেটিং হ্যাভার ৷ এ হ্যাভার রিভেটের উপর আঘাত করে রিভেটিং করার কাজে ব্যবহৃত হয়।



(১) পিউমোটিক রিভেটিং হ্যাভার



(২) শিট মেটাল রিভেটিং হ্যাভার

ব্লো হ্যাভার ৷ এই হ্যাভার এর মাথা ভারী এবং হাতল বেশ দৃঢ় হয়। এর উভয় প্রান্তই সমতল থাকে। মেশিনপন, কোর্ভিং শপ এবং নির্মাণ সফলতর ভারী কাজের জন্য এই হাতুড়ি ব্যবহৃত হয়। সাধারণত এই হাতুড়ির তাল ৩ কেজি থেকে ৫ কেজি এবং হাতলের দৈর্ঘ্য ৯০ সেমি থেকে ১০ সেমি পর্যন্ত হতে পারে।



চিত্র-৬.৫: ব্লো হ্যাভার

লেগ অইস ৷ কারখানাশালায় ব্যবহৃত হয় বলে একে কেউ কেউ ব্ল্যাক শিফ অইসও বলে থাকেন। এটির নিচের দিকে পুঞ্জের মত যে দীর্ঘ অংশটি থাকে তাকে লেগ বা পা বলা হয়। এটি ছাড়া কোনো বড় কার্যকরকে সুদক্ষতবে আঁকড় করে কাঁচ করার জন্য ব্যবহার করা হয়।



চিত্র-৬.৬: লেগ অইস

রেক্স : নাট, বোল্ট বা স্ট্যান্ডের ক্ষু অংশকে আটকানো বা খোলার জন্য যে টুলস ব্যবহৃত হয় উহাকে রেক্স বলে। কখনো এটিকে স্প্যানারও বলা হয়। বোল্ট এর সাথে নাটকে টাইট দেওয়ার জন্য রেক্স ব্যবহার করা হয়।



adjustable wrench



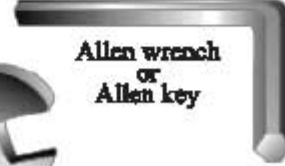
Socket Wrench



Socket



Double end box wrench



Allen wrench
or
Allen key



Combination wrench

চিত্র-৬.৫ঃ রেক্স বা স্প্যানার

বেঞ্চ ভাইস : এই শ্রেণির ভাইসকে নাট ও বোল্টের সাহায্যে টেবিল বা বেঞ্চের উপর আবদ্ধ করে ব্যবহার করা হয়। সাধারণত ইহা কাস্ট স্টিল দ্বারা তৈরি হয়। এ ভাইসের 'জ' দুইটি টেম্পার করা স্টিলের তৈরি থাকে এবং ভিতরের দিকে খাঁজ কাটা থাকে। যে সব কার্যবস্তুকে দাগ পড়া থেকে রক্ষা করার প্রয়োজন হয়, সেসব ক্ষেত্রে 'জ' এর উপর নরম ধাতুর তৈরি ভাইস ক্লাম্প লাগানো হয়। বিভিন্ন কার্যবস্তুকে কাঁচিলিং, চিপিং, হ্যামারিং, 'স'রিং ইত্যাদি কাজের জন্য বেঞ্চ ভাইস ব্যবহার করা হয়।



চিত্র-৬.৭ঃ বেঞ্চ ভাইস

ক্ষু ড্রাইভার : ক্ষু ড্রাইভার এক ধরনের হ্যান্ড টুলস বা দিরে ক্ষুকে ঘুরিয়ে খোলা অথবা লাগানো যায়।



চিত্র-৬.৮ : স্ক্রু-ড্রাইভার

গ্লান্সার্স : কোনো পাতলা শিট বা তারকে খরে কাজ করার জন্য, বৈদ্যুতিক তারের জোড়া দেওয়া ও বিদ্যুৎচারিত অবস্থায় কেবল এর সাথে তারের সংযোগ দেওয়ার জন্য, তার কাটার জন্য প্রভৃতি কাজে গ্লান্সার্স ব্যবহার করা হয়।



চিত্র-৬.৯ : গ্লান্সার্স

৬.৪ হস্ত চালিত যন্ত্রাঙ্গের রক্ষণাবেক্ষণ :

নিম্নে হস্ত চালিত যন্ত্রাঙ্গের রক্ষণাবেক্ষণ পদ্ধতি আলোচনা করা হলো-

- (১) প্রত্যেক টুলসকে উহার জন্য নির্দিষ্ট কাজে ব্যবহার করতে হবে। যেমন- স্ক্রু ড্রাইভারের সাহায্যে পাঞ্চের কাজ, রেঙ্কের সাহায্যে হাতুড়ির কাজ ইত্যাদি না করা।
- (২) টুলস এর সাহায্যে কাজ করার সময় এর উপর অতিরিক্ত জোর বা চাপ প্রয়োগ করে কাজ না করা।
- (৩) ব্যবহারের পর প্রতিটি টুলসকে ময়লা ও তিপস মুক্ত করে এর জন্য নির্ধারিত নির্দিষ্ট জায়গায় সংরক্ষণ করা।
- (৪) প্রত্যেক টুলসকে সব সময় পৃথক পৃথক ভাবে সংরক্ষণ করতে হবে।
- (৫) কাইল দ্বারা কাজ করার পর কাইলকে কার্ড দ্বারা সুন্দরভাবে পরিষ্কার করে তারপর আলাদাভাবে সংরক্ষণ করতে হবে।
- (৬) ভাইস, রেঙ্ক, র্যাচট স্ক্রু-ড্রাইভার প্রভৃতি মাঝে মাঝে পরিষ্কার করে উহার চলনশীল অংশসমূহের সংযোগস্থলে তৈল অথবা গিঞ্জ দিতে হবে।
- (৭) সুনির্দিষ্ট কাজের জন্য নির্ধারিত মাপের উপযুক্ত হ্যান্ড টুলস ছাড়া অন্য টুলস ব্যবহার না করা। যেমন- বড় স্ক্রু ড্রাইভারের কাজ ছোট স্ক্রু ড্রাইভারের সাহায্যে না করা। নাট বা বোল্টকে টাইট দেওয়া বা টিলা করার সময় সঠিক মাপের রেঙ্ক না ব্যবহার করে বড় সাইজের রেঙ্ক ব্যবহার করা থেকে বিরত থাকা।

প্রশ্নমালা-৬

অতি সংক্ষিপ্ত প্রশ্ন :

১. হ্যান্ড টুলস কাকে বলে ?
২. ইঞ্জিনিয়ার্স হ্যামার কয় প্রকার ও কী কী ?
৩. সফট হ্যামার বা ম্যালিট কী দিয়ে তৈরি করা হয় ?
৪. রেঞ্চ কাকে বলে ?
৫. ভাইস কাকে বলে ?

সংক্ষিপ্ত প্রশ্ন :

১. হ্যান্ড টুলস বলতে কী বোঝায় ? ৫টি হ্যান্ড টুলস এর নাম লিখ ।
২. হাতুড়ির শ্রেণিবিভাগ দেখাও ।

রচনামূলক প্রশ্ন :

১. হাতুড়ির শ্রেণিবিভাগসহ ব্যবহার বর্ণনা কর ।
২. ১০টি হ্যান্ড টুলস এর ব্যবহার বর্ণনা কর ।
৩. হস্ত চালিত যন্ত্রাদির রক্ষণাবেক্ষণ পদ্ধতি বর্ণনা কর ।

অধ্যায়-৭

পরিমাপন যন্ত্র বা মেজারিং টুলস (Measuring Tools)

৭.১ মেজারিং টুলস :

যে সকল টুল বা হাতিয়ার দ্বারা কোনো বস্তুর, জবের বা ওয়ার্কপিসের দৈর্ঘ্য, প্রস্থ, উচ্চতা, গভীরতা, ভর, ওজন, গতি, চাপ, তাপ, ইত্যাদি মাপা যায় তাদেরকে মেজারিং টুলস বা মাপন যন্ত্র বলা হয়। ওয়ার্কশপ বা কারখানায় মাপ প্রণালী সমূহের মধ্যে মেজারিং রুল দিয়ে মাপা প্রাচীনতম। এটি একটি প্রত্যক্ষ সরল মাপক যন্ত্র। ধাতু, কাঠ বা কাপড় দিয়ে তৈরি হয় এবং অনেক প্রকার গঠন ও আকৃতি বিশিষ্ট হয়ে থাকে। মেজারিং টুলের মাপ দশমিক ভগ্নাংশে ও সাধারণ ভগ্নাংশে হয়ে থাকে। একক হিসেবে মিটার বা ফুট এবং এদের ভগ্নাংশে পাওয়া যায়।

৭.২ মেজারিং টুলস এর শ্রেণিবিভাগ :

মেজারিং টুলস প্রধানতঃ দুই প্রকার, যথা-

- ❖ নন-ফ্লেক্সিবল মেজারিং টুলস (Non-flexible measuring tools) :
যেমন- স্টিল রুল, উড রুল, ফিলেট রুল, কী-সেট রুল, ইত্যাদি।
- ❖ ফ্লেক্সিবল মেজারিং টুলস (flexible measuring tools) :
যেমন- স্টিল টেপ রুল, লিনেন টেপ রুল, মেজারিং টেপ, ইত্যাদি।

আবার, মেজারিং টুলের ব্যবহার ও গঠন অনুসারে সেগুলোকে একাধিক ভাগে ভাগ করা যায়। যেমন-

- ১) প্লেইন স্টিল রুল (Plain Steel Rule)
- ২) ফোল্ডিং রুল (Folding Rule)
- ৩) বক্স উড রুল (Box wood Rule)
- ৪) স্টিল টেপ রুল (Steel Tape Rule)
- ৫) এন্ড রুল (End Rule)
- ৬) হুক রুল (Hook Rule)
- ৭) কী-সিট রুল (Key Seat Rule)
- ৮) ডেপথ রুল (Depth Rule)
- ৯) লিনেন টেপ রুল (Linen Tape Rule) ইত্যাদি

৭.৩ বিভিন্ন প্রকার মেজারিং টুলের সাহায্যে পরিমাপন পদ্ধতি ও তাদের ব্যবহারঃ

প্লেইন স্টিল রুল : মেশিন শপে জব তৈরিতে বিভিন্ন মাপ গ্রহণে সবচেয়ে সরল ও সাধারণ মাপ যন্ত্র হলো প্লেইন স্টিল রুল বা সংক্ষেপে ইহাকে স্টিল রুল বলা হয়। এটি সাধারণত ১৫ সে.মি. এবং ৩০ সে.মি. লম্বা হয়। এতে সর্বনিম্ন ০.৫ মি.মি. মাপ নেওয়া যায়। এটি স্টেইনলেস স্টিলের তৈরি হয় এবং এর সাহায্যে জবের দৈর্ঘ্য, প্রস্থ, বেধ এবং উচ্চতার মাপ সরাসরি গ্রহণ করা যায়। অনেক সময় স্টিল রুল মার্কিং বা লেআউট করার সময় লাইন টানার কাজে ব্যবহার করা হয়। ইহা ছাড়া ক্যালিপার্স, ডিভাইডার, হারমাফ্রোডাইট ক্যালিপার্স ইত্যাদি যন্ত্রের সাহায্যে মাপ গ্রহণেও ব্যবহার করা হয়।



চিত্র- ৭.১ : প্লেইন স্টিল রুল

ফোল্ডিং রুলঃ নির্মাণ কাজে বেশি ব্যবহৃত হয়।




চিত্র- ৭.২ : ফোল্ডিং রুল

বক্স উড রুলঃ ইহা কাঠ দ্বারা তৈরি হয় এবং ঘর্ষণে ক্ষয় হয় বলে প্রধানত কাঠের কাজে এবং যে স্থলে সূক্ষ্ম মাপ লওয়ার প্রয়োজন থাকে না, ঐ স্থলে ইহা ব্যবহৃত হয়। এ প্রকার রুল সাধারণত ২ ফুট লম্বা হয়।



চিত্র- ৭.৩ : বক্স উড রুল

স্টিল টেপ রুলঃ এটি একটি স্টিল দ্বারা তৈরি একটি ফিতা রুল। এর ফিতা নমনীয় কিন্তু বর্ধিত অবস্থায় নিজে থেকে লম্বভাবে ধারণ করতে পারে। এর দৈর্ঘ্য সাধারণত ২ মিটার এবং প্রস্থ ১২ মি.মি. হয়। স্টিল টেপ রুল একটি স্টিলের খাপ/বাক্সের মধ্যে কুণ্ডলীর আকারে আবদ্ধ থাকে। এর এক পার্শ্ব সে.মি. এবং অপর পার্শ্ব ইঞ্চিতে দাগ কাটা থাকে। যে সকল মাপ স্টিল রুলের দৈর্ঘ্যের বেশি হয়ে থাকে সেখানে স্টিল টেপ রুল ব্যবহৃত হয়। এটিকে সংক্ষেপে স্টিল টেপ বলা হয়।



চিত্র- ৭.৪ : স্টিল টেপ রুল

ফর্মা-৬, মেশিন টুলস অপারেশন-১, ৯ম-১০ম শ্রেণি

এড রুল : যে ছোট ছোট স্টিল রুল একটি হাতলের মধ্যে আবদ্ধ করে মাপের জন্য ব্যবহার হয় তাকে এড রুল বলে। এড রুল কাউন্টার বোর দ্বারা তৈরি হিট্রের বা কোনো কটিলের মাপ গ্রহণে ব্যবহার করা হয়।




চিত্র- ৭.৫ : এড রুল

হুক রুল : সাধারণ স্টিল রুলের প্রান্তে বাঁকান একটি পাত (Hook) ব্যবহার করলে যে আকৃতির রুল পাওয়া যায় তাকে হুক রুল বলে। হুক রুলের মাধ্যমে সহজে বস্তুর প্রান্ত হতে এবং স্তরের মাপ সঠিকভাবে নেওয়ার জন্য ব্যবহার হয়। হুক রুলের সাহায্যে ডিকইডার এবং ইনলাইড ক্যালিপার্সের মাপ পাঠ করা সুবিধাজনক।




চিত্র- ৭.৬ : হুক রুল

কী-সিট রুল : কোন সোলাকার শ্যাকটের ন্যায় বস্তুর উপরিভাগে কী-ওয়ে কটির জন্য পরস্পর দুইটি সমান্তরাল সরলরেখা টেনে সে-আর্ডট করতে কী-সিট রুল ব্যবহার করা হয়। এ কাজে সাধারণ স্টিল রুলের সাথে চিহ্নানুযায়ী এক জোড়া কী-সিট ক্ল্যাম্প ব্যবহার করতে হয়।



চিত্র- ৭.৭ : কী-সিট রুল

স্কেপথ রুল : একটি বাঁজযুক্ত স্টিল হেড, যার স্কেপথ দিয়ে সরু রুল ব্যবহার করা হয় এবং এই রুল স্কেপথের স্কেপথ দিয়ে বাঁজারাত করতে পারে তাকে স্কেপথ রুল বলে। একে স্কেপথ রুল লেজও বলা হয়। রুলটি মার্শিং নাটের সাহায্যে প্রয়োজনীয় স্থানে আবদ্ধ করে মাপ গ্রহণ করা হয়। ছোট ছিদ্র বা কোনো স্লটের গভীরতা মাপার জন্য এ রুল ব্যবহার করা হয়।



চিত্র- ৭.৮ : ভেলভ কল

লিনেন টেপ রুল : কাপড় দ্বারা তৈরি এক প্রকার রুল যার দৈর্ঘ্য ১৫ মিটার বা ২০ মিটার এবং প্রস্থ ১২ মি.মি. বা ১৬ মি.মি. হয়ে থাকে। সম্মুখিতাকে চামড়ার একটি গোল আকারের মধ্যে গুটাইয়া রাখা যায়। সাধারণত অনেক দীর্ঘ বস্তুকে পরিমাপ করতে এবং জরিপের কাজে ইহা ব্যবহৃত হয়।



চিত্র- ৭.৯ : লিনেন টেপ রুল

৭.৪ মেজারিং টুলের যত্ন ও রক্ষাবেক্ষণ :

- ১) মেজারিং টুলকে সব সময় আর্দ্রতামুক্ত আবহাওয়ার পৃথকভাবে সুনির্দিষ্ট জায়গায় সংরক্ষণ করতে হবে।
- ২) মেজারিং টুলের উপরিভাগের তলগুলি যেন কোনো অবস্থাতেই যথা লেগে ক্ষতিগ্রস্ত না হয় সে দিকে যত্ন নিতে হবে।
- ৩) মেজারিং টুলকে ব্যবহারের সময় অন্যান্য টুলস এর সাথে রাখা যাবে না। বিশেষ করে কাটিং টুলের নিকট হতে সর্বদা দূরে রাখতে হবে।
- ৪) চাপ লেগে বা ওপর থেকে পড়ে যেন মেজারিং টুলের উপরিভাগ বাঁকা বা ভাঁজ পড়ে না যায় সে বিষয়ে খেয়াল রাখতে হবে।
- ৫) যে সব মেজারিং টুল খাপ বা বাক্সসহ পাওয়া যায় সেগুলো যেন খাপ বা বাক্সের মধ্যে দীর্ঘদিন অব্যবহৃত থেকে নষ্ট হয়ে না যায় সে জন্য মাঝে মাঝে খুলে পরিষ্কার করতে হবে।
- ৬) দীর্ঘ সময় সংরক্ষণের জন্য মেজারিং টুলকে পরিষ্কার করে মরিচারোধী তৈল লাগিয়ে তারপর সংরক্ষণ করতে হবে।

প্রশ্নমালা -৭

অতি সংক্ষিপ্ত প্রশ্ন :

১. মেজারিং টুল বলতে কী বোঝায়?
২. মেজারিং টুল প্রধানত কয় প্রকার ও কী কী?
৩. ফ্লেক্সিবল মেজারিং টুল কী কাজে ব্যবহৃত হয়?
৪. স্টিল রুলের সাহায্যে সর্বনিম্ন কত মিলিমিটার পর্যন্ত মাপ নেওয়া যায়?
৫. এড রুল কী কাজে ব্যবহৃত হয়?
৬. ফিলেট রুল কী কাজে ব্যবহৃত হয়?
৭. লুক রুল কী কাজে ব্যবহৃত হয়?
৮. ডেপথ রুল কী কাজে ব্যবহৃত হয়?
৯. স্টিল টেপ রুলের দৈর্ঘ্য সাধারণত কত মিটার হয়?
১০. ফোল্ডিং রুল কী কাজে ব্যবহৃত হয়?

সংক্ষিপ্ত প্রশ্ন:

১. নন-ফ্লেক্সিবল মেজারিং রুলের ব্যবহার বর্ণনা কর।
২. ফ্লেক্সিবল মেজারিং রুলের ব্যবহার বর্ণনা কর।
৩. প্লেইন স্টিল রুলের গঠন ও ব্যবহার উল্লেখ কর।
৪. ডেপথ রুলের গঠন ও ব্যবহার বর্ণনা কর।
৫. স্টিল টেপ রুলের গঠন ও ব্যবহার উল্লেখ কর।
৬. বিভিন্ন প্রকার মেজারিং টুলের নাম লেখ।

রচনামূলক প্রশ্ন:

১. বিভিন্ন প্রকার মেজারিং রুলের গঠন ও বৈশিষ্ট্য বর্ণনা কর।
২. বিভিন্ন প্রকার মেজারিং রুলের ব্যবহার বর্ণনা কর।
৩. মেজারিং রুল কাকে বলে? উহা কত প্রকার ও কী কী? কমপক্ষে দুইটি মেজারিং রুলের গঠন ও ব্যবহার বর্ণনা কর।
৪. মেজারিং রুলের যত্ন ও রক্ষণাবেক্ষণ বর্ণনা কর।

অধ্যায়-৮

পরীক্ষণ ও পরিমাপকরণ (Inspection and Measurement)

৮.১ পরীক্ষণ ও পরিমাপকরণ :

পরীক্ষা (Inspection) : কার্যবস্তুর বাস্তব মাপকে পূর্ব নির্ধারিত মাপের সাথে তুলনা করাকে পরীক্ষণ বলে। যেমন- প্লাগ গেজের সাহায্যে কোনো ছিদ্রের ব্যাস পরীক্ষা করা। পরীক্ষণের সাহায্যে কার্যবস্তুটি গ্রহণযোগ্য সীমার মধ্যে আছে কী না তা জানা যায়।

পরিমাপকরণ (Measurement) : কোনো কার্যবস্তুর বা ওয়ার্কপিসের দৈর্ঘ্য, প্রস্থ, ব্যাস, উচ্চতা বা গভীরতা মেজারিং টুলের সাহায্যে সরাসরি মেপে নেওয়াকে পরিমাপকরণ বলা হয়। যেমন- ভার্নিয়ার ক্যালিপার-এর সাহায্যে একটি শ্যাফটের বাহিরের ব্যাস নির্ণয় করাকে পরিমাপকরণ বলা যায়।

৮.২ সচরাচর ব্যবহৃত পরীক্ষণ ও পরিমাপক যন্ত্রপাতিসমূহ :

- (১) আউটসাইড মাইক্রোমিটার (Outside Micrometer)
- (২) ইনসাইড মাইক্রোমিটার (Inside Micrometer)
- (৩) ডেপথ মাইক্রোমিটার (Depth Micrometer)
- (৪) ভার্নিয়ার ক্যালিপার্স (Vernier Calipers)
- (৫) ভার্নিয়ার হাইট গেজ (Vernier Height Gauge)
- (৬) স্টিল রুল (Steel Rule)
- (৭) ইনসাইড ক্যালিপার্স (Inside Calipers)
- (৮) আউটসাইড ক্যালিপার্স (Outside Calipers)
- (৯) টেলিস্কোপিক গেজ (Telescopic Gauge)
- (১০) ফিলার গেজ (Filler Gauge)
- (১১) ভার্নিয়ার বিভেল প্রোট্রাক্টর (Vernier Bevel Protractor)
- (১২) ট্রাই-স্কয়ার (Tri-Square)
- (১৩) কম্বিনেশন সেট (Combination Set)
- (১৪) স্কয়ার হেড (Square Head)
- (১৫) সেন্টার হেড (Center Head)
- (১৬) প্লাগ গেজ (Plug Gauge)
- (১৬) স্লিপ গেজ (Slip Gauge)
- (১৭) স্ক্রু-পিচ গেজ (Screw-Pitch Gauge)
- (১৮) ডায়াল ইন্ডিকেটর (Dial Indicator)

৮.৩ পরিমাপের প্রকারভেদঃ

পরিমাপের পদ্ধতি অনুসারে পরিমাপ দুই প্রকার, যথা-

১. **প্রত্যক্ষ পরিমাপ (Direct Measurement) :** কার্যবস্তুর মাপ সরাসরি পরিমাপ করার পদ্ধতিকে প্রত্যক্ষ পরিমাপ বলা হয়। যে সব মেজারিং টুলস দিয়ে প্রত্যক্ষ পরিমাপ করা যায় সেগুলো হলো- স্টিল রুল, ভার্নিয়ার ক্যালিপার্স, মাইক্রোমিটার, ইত্যাদি।

২. **পরোক্ষ পরিমাপ (Indirect Measurement) :** যে পরিমাপ পদ্ধতিতে সরাসরি মাপ গ্রহণ করা যায় না, অন্য কোনো পরোক্ষ মেজারিং টুলস দিয়ে প্রথমে মাপ নিয়ে পরে প্রত্যক্ষ মেজারিং টুলস দিয়ে সেই মাপ যাচাই করে পরিমাপ করা হয়, সেই পরিমাপ পদ্ধতিকে পরোক্ষ পরিমাপ বলা হয়। কতিপয় পরোক্ষ পরিমাপক টুলসগুলো হলো- ইনসাইড ক্যালিপার্স, আউটসাইড ক্যালিপার্স, টেলিস্কোপিক গেজ, ব্লক গেজ, ইত্যাদি।

পরিমাপের সূক্ষ্মতা অনুসারে পরিমাপকে আরও দুই ভাগে ভাগ করা যায়, যথা-

- (১) **সূক্ষ্ম পরিমাপ (Precision Measurement) :** ব্রিটিশ প্রণালিতে রৈখিক পরিমাপের ক্ষেত্রে ০.০০১ ইঞ্চি থেকে শুরু করে এর চাইতে সকল ক্ষুদ্র পরিমাপকে সূক্ষ্ম পরিমাপ ধরা হয়।
- (২) **অসূক্ষ্ম পরিমাপ (Non-Precision Measurement) :** ব্রিটিশ প্রণালিতে রৈখিক পরিমাপের ক্ষেত্রে ০.০০১ ইঞ্চি অপেক্ষা সকল স্থূল পরিমাপকে অসূক্ষ্ম পরিমাপ ধরা হয়।

৮.৪ সূক্ষ্মতা মাত্রার ভিত্তিতে পরিমাপের শ্রেণিবিভাগ :

সরল এবং কৌণিক মাপের সূক্ষ্মতার উপর ভিত্তি করে পরিমাপের সূক্ষ্মতার মাত্রা নির্ধারিত হয় এবং সূক্ষ্মতার পরিমাপ উল্লেখসহ সূক্ষ্মতা মাত্রার ভিত্তিতে পরিমাপের শ্রেণিবিভাগ নিম্নের ছকে দেওয়া হলো-

পরিমাপের প্রকার (সূক্ষ্মতা মাত্রা অনুসারে)	সরল মাপ		কৌণিক মাপ	
	হইতে	পর্যন্ত	হইতে	পর্যন্ত
নন-প্রিসিশন	স্থূল মাপ	০.৫ মি.মি. ও ১/৬৪ ইঞ্চি	স্থূল মাপ	১ ডিগ্রি
সেমি-প্রিসিশন	০.১ মি.মি. ও ১/৬৪ ইঞ্চি	০.০২ মি.মি. ও ১/১২৮ ইঞ্চি	১ ডিগ্রি থেকে ছোট	১ ডিগ্রি
প্রিসিশন	০.০১ মি.মি. ও ০.০০১ ইঞ্চি	০.০০১ মি.মি. ও ০.০০০১ ইঞ্চি	১ ডিগ্রি থেকে ছোট	৫ মিনিট
হাই-প্রিসিশন	০.০০১ মি.মি. ও ০.০০০১ ইঞ্চি	অধিকতর সূক্ষ্ম মাপ	৫ মিনিট	অধিকতর সূক্ষ্ম মাপ

৮.৫ পরীক্ষণ ও পরিমাপকরণ যন্ত্রাদির যত্ন ও রক্ষণাবেক্ষণ :

পরীক্ষণ ও পরিমাপকরণ যন্ত্রাদি ব্যবহার করার পর ভালোভাবে পরিষ্কার করে তৈল বা গ্রিজ লাগিয়ে নির্দিষ্ট বাক্সে বা সেলফে বা আলমারিতে সুন্দরভাবে গুছিয়ে রাখতে হবে যাতে কাজের সময় খুঁজতে সহজ হয়। দীর্ঘ দিন ব্যবহার করা না হলেও মাঝে মাঝে পরিষ্কার করে পুনরায় তৈল বা গ্রিজ দিয়ে যত্ন করে পূর্বের জায়গায় রেখে দিতে হবে। কোনক্রমেই মরিচা পড়তে দেওয়া যাবে না। মরিচা পড়লে পরীক্ষণ ও পরিমাপকরণ যন্ত্রাদির সূক্ষ্মতা নষ্ট হয়ে যায় এবং সঠিকভাবে কাজে ব্যবহার করা যায় না। তাই প্রত্যেক পরীক্ষণ ও পরিমাপকরণ যন্ত্র ব্যবহারের আগে ও পরে ওয়েস্ট কটন দিয়ে পরিষ্কার করতে হবে। ব্যবহার শেষে পরিষ্কার করে শ্রেণি ভিত্তিতে তৈল বা গ্রিজ লাগিয়ে নির্দিষ্ট বাক্সে রেখে দিতে হবে। মেশিন চলন্ত অবস্থায় ঘুরন্ত কার্যবস্তুর মাপ গ্রহণ করা থেকে বিরত থাকতে হবে। পরীক্ষণ ও পরিমাপকরণ যন্ত্রাদি কাটিং টুলের সাথে ও কোনো রাফ সারফেসের সংস্পর্শে রাখা যাবে না।

প্রশ্নাবলী-৮

অতি সংক্ষিপ্ত প্রশ্নাবলীঃ

১. পরিমাপ কাকে বলে?
২. পরীক্ষণ কাকে বলে?
৩. প্রত্যক্ষ মাপক যন্ত্র কাকে বলে?
৪. পরোক্ষ মাপক যন্ত্র কাকে বলে?
৫. সূক্ষ্মতার মাত্রা অনুসারে পরিমাপ কতপ্রকার ও কী কী?

সংক্ষিপ্ত প্রশ্নাবলীঃ

১. প্রত্যক্ষ মাপক যন্ত্র কাকে বলে? ৫টি প্রত্যক্ষ মাপক যন্ত্রের নাম লেখ।
২. পরীক্ষণ ও পরিমাপ করণের পার্থক্য উল্লেখ কর।
৩. সূক্ষ্ম পরীক্ষণ ও পরিমাপকরণ যন্ত্র কাকে বলে? এ প্রকার ৫টি যন্ত্রের নাম লেখ।
৪. অসূক্ষ্ম পরীক্ষণ ও পরিমাপকরণ যন্ত্র কাকে বলে? এ প্রকার ৫টি যন্ত্রের নাম লেখ।
৫. প্রত্যক্ষ ও পরোক্ষ মাপক যন্ত্রের মধ্যে পার্থক্য উল্লেখ কর।

রচনামূলক প্রশ্নাবলীঃ

১. পরীক্ষণ ও পরিমাপকরণ বলতে কী বোঝায়? সচরাচর ব্যবহৃত পরীক্ষণ ও পরিমাপকরণ যন্ত্রপাতিসমূহের নাম লেখ।
২. পরীক্ষণ ও পরিমাপকরণ যন্ত্রাদির যত্ন ও রক্ষণাবেক্ষণ পদ্ধতি বর্ণনা কর।
৩. সূক্ষ্ম ও অসূক্ষ্ম পরীক্ষণ ও পরিমাপকরণের প্রয়োগ ক্ষেত্র বর্ণনা কর।

অধ্যায়-৯

মৌলিক লে-আউট বা মার্কিং (Fundamental of Layout or Marking)

৯.১ লে-আউট বা মার্কিং :

ধাতু খণ্ডকে নির্দিষ্ট মাপ এবং আকারে পরিণত করার জন্য এর কোন স্থানকে কতটুকু ক্ষয় করতে হবে, ছিদ্র বা নালী করতে হলে তা কোন স্থানে কত গভীর এবং কী আকারের করতে হবে, ছিদ্রের মধ্যে জু-থ্রেড করতে হবে কী না ইত্যাদি বিষয় কাজ আরম্ভ করার পূর্বেই স্থির করে নেওয়া প্রয়োজন হয়। এটা না করে প্রথমেই যদি কাজে অগ্রসর হওয়া যায়, তাহলে, ধাতুখণ্ড অর্থাৎ বস্তুটি কখনও যথাযথ আকার বা মাপের হতে পারে না। এজন্য, কাজ আরম্ভ করার আগে প্রত্যেক বস্তুর বা ধাতু খণ্ডের উপরিভাগে নক্সা অনুসারে কতকগুলো রেখা টেনে এবং চিহ্ন দেওয়ার প্রণালিকে মার্কিং অফ (Marking off) বা লেইয়িং আউট (Laying Out) বলে। একে সংক্ষেপে কেবল মার্কিং বা লে-আউট করা বলা হয়ে থাকে।

৯.২ লে-আউট ও মার্কিং কাজে ব্যবহৃত যন্ত্রপাতিসমূহঃ

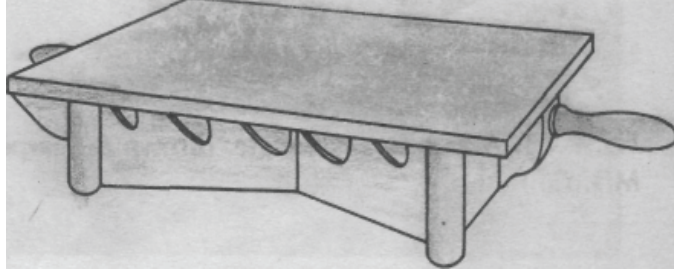
মার্কিং বা লে-আউট করার জন্য যে সকল যন্ত্র ও সরঞ্জামাদি সাধারণভাবে ব্যবহৃত হয় উহাদের নাম এবং ব্যবহার নিম্নে উল্লেখ করা হলো-

- ১) সারফেস প্লেট (Surface Plate)
- ২) মার্কিং ব্লক (Marking Block)
- ৩) পাঞ্চ (Punch)
- ৪) প্রিক বা ডট পাঞ্চ (Prick or Dot Punch)
- ৫) সেন্টার পাঞ্চ (Centre Punch)
- ৬) সেন্টার হেড (Centre Head)
- ৭) স্ক্রাইবার (Scriber)
- ৮) ডিভাইডার (Divider)
- ৯) স্কয়ার হেড (Square Head)
- ১০) ট্রাই স্কয়ার (Tri-Square)
- ১১) সারফেস গেজ (Surface Gauge)
- ১২) ভার্নিয়ার হাইট গেজ (Vernier Height Gauge)
- ১৩) ভি-ব্লক (Vee-Block)
- ১৪) অ্যাংগেল প্লেট (Angle Plate)
- ১৫) হাতুড়ি (Hammer)
- ১৬) হারম্যাফ্রোডাইট ক্যালিপার (Hermaphrodite Caliper)

৯.৩ লে-আউট ও মার্কিং কাজে প্রয়োজনীয় যন্ত্রপাতির ব্যবহারঃ

সারফেস প্লেট (Surface Plate) :

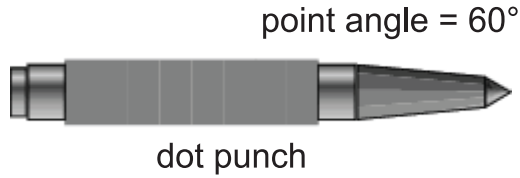
সারফেস প্লেটের ওপর সারফেস গেজ, মার্কিং ব্লক, ইত্যাদি যন্ত্র রেখে বস্তুর উপরিভাগের সমতলতা পরীক্ষা করা যায়। তাছাড়া ওয়ার্কপিসকে সাধারণত সারফেস প্লেটের ওপর রেখে মার্কিং করা হয়।



চিত্র-৯.১ : সারফেস প্লেট

প্রিক বা ডট পাঞ্চ (Prick or Dot Punch) :


এই পাঞ্চ ওয়ার্কপিসের ওপর কোনো বিন্দু বা রেখাকে অল্প গভীরতায় চিহ্নিত করে রাখতে ব্যবহৃত হয়। এই পাঞ্চের মুখ ৬০ ডিগ্রি কোণ বিশিষ্ট হয়।



চিত্র-৯.২ : প্রিক বা ডট পাঞ্চ

সেন্টার পাঞ্চ (Centre Punch) :

প্রিক পাঞ্চের তুলনায় সেন্টার পাঞ্চ আকারে বড় হয়। সাধারণতঃ সেন্টার পাঞ্চের মুখ ৬০ ডিগ্রি কোণ বিশিষ্ট হয় এবং ইহার সাহায্যে প্রিক পাঞ্চের কাজ করা যায়। ড্রিলিং করার পূর্বে ছিদ্রের কেন্দ্রকে অধিকতর গভীর করার জন্য ৯০ ডিগ্রি কোণ বিশিষ্ট মুখের সেন্টার পাঞ্চ ব্যবহৃত হয়।



চিত্র-৯.৩ : সেন্টার পাঞ্চ

স্ক্রাইবার (Scriber) :

ওয়ার্কপিস বা জবের উপর ড্রয়িং-এর মাপ অনুযায়ী দাগ টানার জন্য স্ক্রাইবার ব্যবহৃত হয়। সরল ভাষায় একে আঁচড়া বলে। পেন্সিল দ্বারা কাগজের উপর যেভাবে রেখা টানা হয় স্ক্রাইবার দ্বারা ধাতু খণ্ডের রং করা উপরিভাগের উপর ঐভাবে রেখা টানা হয়ে থাকে। স্ক্রাইবারের মুখ সর্বদা তীক্ষ্ণ থাকা প্রয়োজন। তীক্ষ্ণ না হলে এ দিয়ে যে রেখা টানা হয় তা মোটা হয়ে যায়। তীক্ষ্ণ রাখার জন্য স্ক্রাইবারের মুখটিকে মাঝে মাঝে অয়েল স্টোন শান পাথরের ওপর ঘষে নিতে হয়। স্ক্রাইবার দিয়ে স্টিল রুল বা ট্রাই-স্কয়ার এর ধার ঘেঁষে ওয়ার্কপিসের ওপর সরল রেখা টানতে হয়।

ফর্মা-৭, মেশিন টুলস অপারেশন-১, ৯ম-১০ম শ্রেণি



চিত্র-৯.৪ঃ ডাইভার (ব্লক সহ)

ডাইভার (Divider) :


এটি দুই পা বিশিষ্ট একটি পরস্পর পরীক্ষণ ও মাপন হ্যান্ড টুল। এটিকে মার্কিং এর কাজে সবচেয়ে বেশি ব্যবহার করতে হয়। ডাইভারের পা দুইটি ড্রাম্পল সরু হয়ে ঠোঙ ভাগ সূঁচালো থাকে। এটির সাহায্যে স্টিল রুল থেকে মাপ তোলা, বৃত্ত বা বৃত্তচাপ অঙ্কন, দুইটি বিন্দু বা রেখার দূরত্ব নির্ণয় করা এবং রেখাকে বিভক্ত করা যায়। ব্যবহার করার সময় ডাইভার সাধারণত উহার দৈর্ঘ্য অপেক্ষা বেশি বিকৃত করা হয় না। ডাইভারের দৈর্ঘ্য বসতে উহার পায়ের সংযোগের কেন্দ্র হতে সূঁচালো মুখ পর্যন্ত দূরত্বকে বুঝায়।



চিত্র-৯.৬ঃ ডাইভার

সেন্টার হেড (Centre Head) :

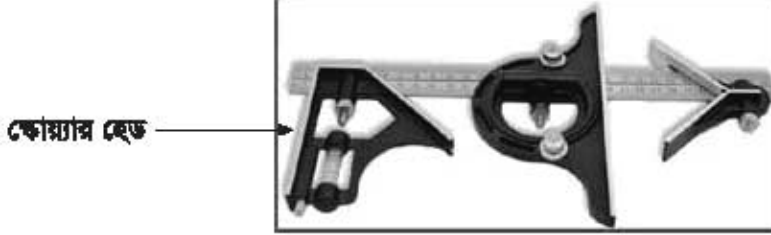
গোলাকার বস্তুর কেন্দ্র নির্ণয় করতে সেন্টার হেড ব্যবহৃত। ইহা কম্বিনেশন সেন্টার একটি অংশ।



চিত্র-৯.৭ঃ সেন্টার হেড

স্কয়ার হেড (Square Head) :

টি কবিনেশন সেটের একটি অংশ। সূক্ষ্মভাবে বস্তুর সমকোণ ও সমতলতা পরীক্ষা করা ছাড়াও এটি কোনো বস্তুর ওপর সূক্ষ্মভাবে সমান্তরাল সরলরেখা টানতে ব্যবহৃত হয়। স্কয়ার হেডের সাহায্যে ৪৫° কোণে এবং ৯০° কোণে সরলরেখা টানা যায়।



চিত্র-৯.৮ঃ স্কয়ার হেড সহ কবিনেশন সেট

ট্রাই স্কয়ার (Tri-Square) :

ট্রাই স্কয়ার এক প্রকার প্রত্যক্ষ কোণিক মাপক যন্ত্র। এটি কোনো বস্তুর সন্নিহিত দুইটি তল পরস্পরের সাথে এক সমকোণে আছে কী না অথবা কোনো তলের উপরিভাগের সমতলতা পরীক্ষা করা এবং মার্কিং করার সময় সরলরেখা টানতে ব্যবহৃত হয়।



চিত্র-৯.৯ঃ ট্রাই- স্কয়ার

সারফেস গেজ (Surface Gauge) :

ওয়ার্কপিসের বা জবের অনুভূমিক (Horizontal) ও উল্লম্ব (Vertical) তলের ওপর সরলরেখা টানতে সারফেস গেজ ব্যবহৃত হয়।



চিত্র-৯.১০ঃ সারফেস গেজ

ভার্নিয়ার হাইট গেজ (Vernier Height Gauge) :


এটি একটি প্রত্যক্ষ, সূক্ষ্ম ও সরল উচ্চতা ও উলম্ব দূরত্ব মাপক যন্ত্র। মেশিনশপে ও মেটাল ওয়ার্কিংশপে জবের উপর লে-আউট ও মার্কিং করার জন্য বিশেষভাবে এটি ব্যবহৃত হয়। ভার্নিয়ার হাইট গেজের গঠন ও কার্যপ্রণালি ভার্নিয়ার ক্যালিপার্সের মতই। তবে এটি উচ্চতা পরিমাপ করা বা উচ্চতা পরীক্ষা করা ছাড়াও সারফেস গেজের অনুরূপ মার্কিং করতে ব্যবহার করা হয়। এর প্রধান স্কেলের দন্ডটি খাড়াভাবে বেসের উপর শক্ত করে আটকানো থাকে। এ যন্ত্রে দুইটি 'জ' এর পরিবর্তে একটি 'জ' থাকে। এবং 'জ' এর সাথে একটি ধারালো ক্রাইবার জু-এর সাহায্যে আবদ্ধ করা থাকে। ক্রাইবারের স্থলে রড সংযুক্ত করে এর সাহায্যে ডেপথ গেজের ন্যায় গভীরতাও মেপে নেওয়া যায়। এ ছাড়া ক্রাইবারের পরিবর্তে ডায়াল ইন্ডিকেটর সংযুক্ত করে আরও সূক্ষ্ম এবং সঠিকভাবে পরিমাপ করা সম্ভব হয়। Base-এর তলদেশ এবং ক্রাইবারের মুখের নিচের অংশের লম্ব দূরত্বকে স্কেলের মাধ্যমে পরিমাপ হিসাবে গ্রহণ করা হয়। Base-এর তলদেশ এবং ক্রাইবারের নিচের অংশ যখন একই সমতলে আসে তখন বিম স্কেলের শূন্য দাগ একই সরলরেখায় এসে মিলিত হয়। ভার্নিয়ার হাইট গেজ দ্বারা মাপের পাঠ নেওয়ার নিয়ম ভার্নিয়ার ক্যালিপার্সের অনুরূপ কিন্তু ব্রিটিশ পদ্ধতিতে ভার্নিয়ার কনস্ট্যান্ট ০.০০১ ইঞ্চি এবং মেট্রিক পদ্ধতিতে ভার্নিয়ার কনস্ট্যান্ট ০.০২ মি.মি. অর্থাৎ এই গেজের সাহায্যে ০.০০১ ইঞ্চি এবং ০.০২ মি.মি. পর্যন্ত মাপ সঠিকভাবে নেওয়া যায়। উলম্ব তলের ওপর সরলরেখা টানতে এবং কোনো জবের বিভিন্ন বিন্দুর উচ্চতা নির্ণয়ে ভার্নিয়ার হাইট গেজ ব্যবহৃত হয়।



চিত্র-৯.১১ঃ ভার্নিয়ার হাইট গেজ

ভি-ব্লক (Vee-Block) :

গোলাকার বা সিলিন্ড্রিক্যাল ওয়ার্কপিসকে আটকিয়ে মার্কিং করার কাজে ভি-ব্লক ব্যবহৃত হয়।



চিত্র-৯.১২ঃ ভি-ব্লক

অ্যাংগেল প্লেট (Angle Plate) :

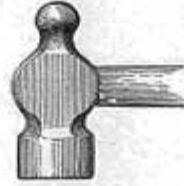
অসমতল কার্ভবল্লকে আটকিয়ে মার্কিং করা এবং লম্ব উপরিভাগে সরলরেখা টানতে সাপোর্ট হিসেবে অ্যাংগেল প্লেট ব্যবহৃত হয়।



চিত্র-৯.১৩ঃ অ্যাংগেল প্লেট

হাতুড়ি (Hammer) :

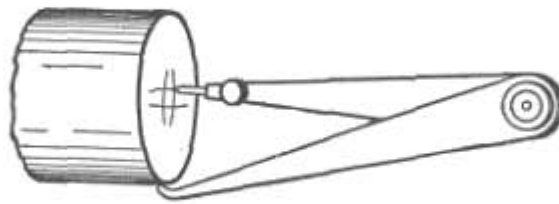
মার্কিং এর কাজে সাধারণত ১১০ গ্রাম থেকে ২২৫ গ্রাম ওজনের বলপিল হাতুড়ি ব্যবহৃত হয়। ইহার সাহায্যে প্রধানত পাকের মাথার আঘাত করে বিন্দু বিন্দু আকারে কোনো রেখা বা স্থানকে চিহ্নিত করা হয়।



চিত্র-৯.১৪ঃ হাতুড়ি

হারম্যাফ্রোডাইট ক্যালিপার (Hermaphrodite Caliper) :

ধাতব ওয়াকপিলের ওপর বৃত্তচাপ অঙ্কন, বস্তুর কেন্দ্র নির্ণয় ও সে-আউট করার কাজে হারম্যাফ্রোডাইট ক্যালিপার ব্যবহার করা হয়।



চিত্র-৯.১৫ঃ হারম্যাফ্রোডাইট ক্যালিপার

মার্কিং ব্লক (Marking Block) :

সারফেস গেজের তুলনার ইহা অপেক্ষাকৃত সজা এবং সরল পঠন বিশিষ্ট হওয়ার কারণে বা মেসিনলপে সারফেস গেজের পরিবর্তে মার্কিং ব্লক বস্তুটি প্রায়ই ব্যবহৃত হয়। সারফেস গেজের প্রায় সব কাজই মার্কিং ব্লকের সাহায্যে করা হয়। তবে ক্রাইবারের মুখকে সূক্ষ্মভাবে নিয়ন্ত্রণ করার ব্যবস্থা না থাকার কাজের সূক্ষ্মতা কম হয় এবং ব্যবহারে সময় বেশি লাগে। লোম মেসিনে জব সেট করতে খুব বেশি ব্যবহৃত হয়।



চিত্র-৯.১৬ঃ মার্কিং ব্লক

৯.৪ সে-আউট ও মার্কিং যন্ত্রাণির রক্ষাবেক্ষণ :

- ১) ব্যবহারের পূর্বে প্রতিটি মার্কিং ও সে-আউট টুলকে পরিষ্কার করে নিতে হবে।
- ২) মার্কিং ও সে-আউট কার্ব সম্পাদনের পর প্রতিটি টুলকে আবার পরিষ্কার করে উহার জন্য নির্দিষ্ট জায়গায় বা বাক্সে সংরক্ষণ করতে হবে।
- ৩) দীর্ঘ সময় ধরে সংরক্ষণ করার জন্য মার্কিং ও সে-আউট টুলস সমূহকে মরিচারোধক তৈল, মকিল, গ্রিজ, ইত্যাদি লাগানোর পরে সংরক্ষণ করতে হবে।
- ৪) মার্কিং করার যাবতীয় কাজ সাধারণত সারকেস প্রেটের ওপর রেখে করা হয়। কাজ শেষ হওয়া যাত্র সকল আনুষ্ঠানিক যত্নপাতি সারকেস প্রেট থেকে সরিয়ে ফেলতে হবে।
- ৫) যে সকল মার্কিং টুলের তীক্ষ্ণ ধাতু বা ধারালো ধাতু আছে, সে ধাতুগুলো যাতে ক্ষতিগ্রস্ত না হয় সেদিকে খেয়াল রাখতে হবে।

প্রশ্নমালা-৯

অতি সংক্ষিপ্ত প্রশ্নঃ

১. মার্কিং বা লে-আউট কাকে বলে?
২. মার্কিং টুল কাকে বলে?
৩. ডট পাঞ্চ দিয়ে কী করা হয়?
৪. সেন্টার হেড দিয়ে কী করা হয়?
৫. ডিভাইডার দিয়ে কী করা হয়?
৬. ভি-ব্লক কী কাজে ব্যবহৃত হয়?
৭. মার্কিং এর কাজে হাতুড়ি কেন ব্যবহার করা হয়?
৮. সাধারণত কিসের ওপর রেখে মার্কিং করা হয়।

সংক্ষিপ্ত প্রশ্নঃ

১. মার্কিং বা লে-আউট বলতে কী বোঝায়?
২. সারফেস প্লেটের ব্যবহার বর্ণনা কর।
৩. মার্কিং টেবিলের ব্যবহার বর্ণনা কর।
৪. মার্কিং ব্লকের ব্যবহার বর্ণনা কর।
৫. পাঞ্চ কী কাজে ও কীভাবে ব্যবহার করা হয় বর্ণনা কর।
৬. স্ক্রাইবারের ব্যবহার উল্লেখ কর।
৭. হারমাফ্রোডাইট ক্যালিপারের চিত্র সহ ব্যবহার লেখ।
৮. ট্রাই স্কয়ার এর ব্যবহার উল্লেখ কর।
৯. মার্কিং এর কাজে হাতুড়ির ব্যবহার পদ্ধতি বর্ণনা কর।
১০. চিত্র সহ ডিভাইডারের ব্যবহার লেখ।

রচনামূলক প্রশ্নঃ

১. মার্কিং বা লে-আউট বলতে কী বোঝায়? বিভিন্ন প্রকার মার্কিং টুলের সংক্ষিপ্ত ব্যবহার উল্লেখ কর।
২. মার্কিং এর ক্ষেত্রে সতর্কতার বিষয়াদি বর্ণনা কর।
৩. মার্কিং বা লে-আউট টুলসসমূহের যত্ন ও রক্ষণাবেক্ষণ ব্যাখ্যা কর।

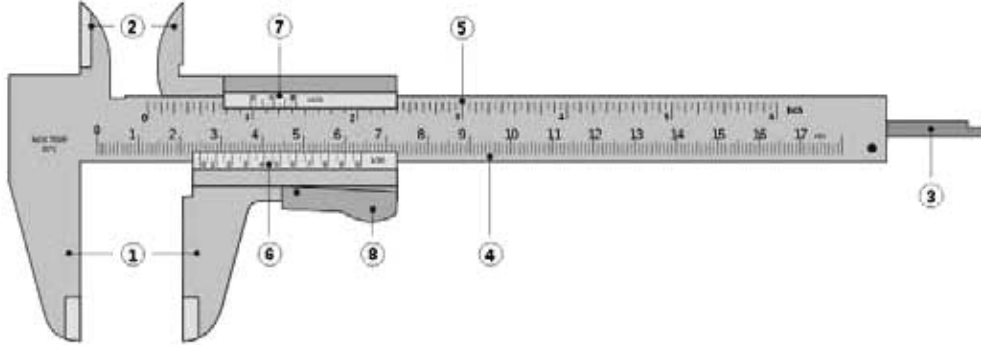
ভার্নিয়ার ক্যালিপার্স (Vernier Calipers)

১০.১ ভার্নিয়ার ক্যালিপার :

ভার্নিয়ার ক্যালিপার হলো একটি সূক্ষ্ম পরিমাপক ও পরীক্ষণ যন্ত্র, যার সাহায্যে কোন বস্তুর বা ওয়ার্কপিসের ভিতর, বাহির এবং গভীরতার মাপ সূক্ষ্মভাবে নেওয়া যায় বা পরীক্ষা করা যায়। এটি একটি প্রত্যক্ষ সেমি প্রিনশন সরল মাপক যন্ত্র। এটির দুইটি আউটসাইড 'জ' এবং দুইটি ইনসাইড 'জ' থাকে। এই 'জ'-গুলো হাই কোয়ালিটি টুল স্টিল বা স্টেইনলেস স্টিলের তৈরি এবং একটি বিমের সাথে দৃঢ়ভাবে আবদ্ধ থাকে। বিমের দুই ধারে সে.মি. এবং ইঞ্চিতে প্রধান স্কেল দাগাঙ্কিত থাকে। চলমান 'জ' দুইটি একটি রিটেইনারের সাহায্যে প্রধান স্কেলের উপর দিয়ে নড়া চড়া করতে পারে। চলমান 'জ' দুইটি এবং রিটেইনারটি একটি ভার্নিয়ার স্কেলের সাথে সংযুক্ত থাকে। প্রতি জোড়া 'জ' মিলিত অবস্থায় ভার্নিয়ার স্কেলের এক পার্শ্ব বিম বা প্রধান স্কেলের সাথে শূন্য দাগে অবস্থান করে। ভার্নিয়ার ক্যালিপার দ্বারা কোন প্রকার অতিরিক্ত হিসাব ছাড়াই এক পার্শ্ব দিয়ে আউটসাইড এবং অপর পার্শ্ব দিয়ে ইনসাইড মাপ গ্রহণ করা যায়। তাছাড়া কোন কোন ভার্নিয়ার ক্যালিপারে মাথার দিকে ডেপথ প্রব (Depth Probe) থাকে যার সাহায্যে একই স্কেলের মাধ্যমে গভীরতার মাপও নেওয়া যায়।

১০.২ ভার্নিয়ার ক্যালিপারের বিভিন্ন অংশসমূহ :

একটি ভার্নিয়ার ক্যালিপার বিভিন্ন অংশের সমন্বয়ে গঠিত হয়। নিম্নে একটি চিত্রের সাহায্যে একটি আদর্শ ভার্নিয়ার ক্যালিপারের বিভিন্ন অংশ দেখানো হলো-



চিত্র-১০.১১ ভার্নিয়ার ক্যালিপার

ভার্নিয়ার ক্যালিপারের বিভিন্ন অংশসমূহ:

1. আউটসাইড 'জ'স (Outside jaws)
2. ইনসাইড 'জ'স (Inside jaws)
3. ডেপথ প্রব (Depth probe)
4. প্রধান স্কেল (Main scale)- মেট্রিক পদ্ধতি
5. প্রধান স্কেল (Main scale)- ব্রিটিশ পদ্ধতি
6. ভার্নিয়ার স্কেল (Vernier scale)-মেট্রিক পদ্ধতি
7. ভার্নিয়ার স্কেল (Vernier scale)- ব্রিটিশ পদ্ধতি
8. রিটেইনার (Retainer)

আউটসাইড 'জ'স (Outside jaws) : কার্যবস্তুর বাহিরের ব্যাস, প্রস্থ বা বেধ মাপার জন্য ব্যবহৃত হয়।

ইনসাইড 'জ'স (Inside jaws) : কার্যবস্তুর ভিতরের ব্যাস, অল্প ফাঁকা স্থানের প্রস্থ বা বেধ মাপার জন্য ব্যবহৃত হয়।

ডেপথ প্রব (Depth probe) : কোন গর্ত বা ছিদ্রের গভীরতা মাপার জন্য ব্যবহৃত হয়।

প্রধান স্কেল, মেট্রিক (Main scale, Metric) : ০.০৫ সে.মি. পর্যন্ত মাপ নেওয়া যায়।

প্রধান স্কেল, ব্রিটিশ (Main scale, British) : সর্বনিম্ন ১/৬৪ ইঞ্চি পর্যন্ত মাপ নেওয়া যায়।

ভার্নিয়ার স্কেল (Vernier scale) : ১০, ২০ ও ২৫ ভাগ দাগ কাটা থাকে যেখানে প্রধান স্কেলের যথাক্রমে ৯, ১৯ ও ২৪ ঘরের সমান হয়।

রিটেইনার (Retainer) : চলমান চোয়াল বা 'জ' গুলো এবং ভার্নিয়ার স্কেল দুইটিকে দৃঢ় ভাবে ধরে রেখে বিম স্কেলের উপর দিয়ে নড়া চড়া করতে সাহায্য করে।

১০.৩ ভার্নিয়ার ধ্রুব (Vernier Constant) নির্ণয় পদ্ধতি :

প্রধান স্কেলের আকার অনুযায়ী ভার্নিয়ার স্কেলের আকার রৈখিক বা গোলাকার হয়ে থাকে। সকল ভার্নিয়ার স্কেল একই নীতিতে তৈরি হয় না। তৈরির নীতি অনুযায়ী ভার্নিয়ার স্কেলের ধ্রুবক নির্ধারিত হয়ে থাকে। প্রধান স্কেলের ক্ষুদ্রতম এক ঘরের মান এবং ভার্নিয়ার স্কেলের ক্ষুদ্রতম এক ঘরের মানের মধ্যকার পার্থক্যকে ভার্নিয়ার ধ্রুবক বলা হয়।

ধরা যাক,

একটি ভার্নিয়ার স্কেলের মোট ভাগ সংখ্যা ২০ এবং ভার্নিয়ার স্কেলের এই ২০ ঘরের দূরত্ব প্রধান স্কেলের ১৯ ঘরের সমান অর্থাৎ ১৯ মি.মি.।

সুতরাং, ভার্নিয়ার স্কেলের ২০ ভাগের দৈর্ঘ্য = ১৯ মি.মি.

অতএব, ভার্নিয়ার স্কেলের ১ ভাগের দৈর্ঘ্য = $\frac{১৯}{২০}$ মি.মি. = ০.৯৫ মি.মি.

∴ ভার্নিয়ার ধ্রুবক = প্রধান স্কেলের ক্ষুদ্রতম ১ ভাগের দৈর্ঘ্য - ভার্নিয়ার স্কেলের ক্ষুদ্রতম ১ ভাগের দৈর্ঘ্য
= ১ মি.মি. - ০.৯৫ মি.মি.
= ০.০৫ মি.মি.

সাধারণত নিম্নে উল্লিখিত সূত্রের সাহায্যে ভার্নিয়ার ধ্রুবক নির্ণয় করা হয়ে থাকে। যথা-

ভার্নিয়ার কনস্ট্যান্ট = প্রধান স্কেলের ক্ষুদ্রতম এক ভাগের মান ÷ ভার্নিয়ার স্কেলের মোট ভাগ সংখ্যা।

উদাহরণ-১ : একটি ভার্নিয়ার ক্যালিপারের ভার্নিয়ার স্কেলের মোট ভাগ সংখ্যা ১০ যা প্রধান স্কেলের ৯ ভাগের দূরত্বের সমান। প্রধান স্কেলের ১ ভাগের মান ১ মি.মি.। ভার্নিয়ার প্রবক বাহির কর।

সমাধান :

আমরা জানি,

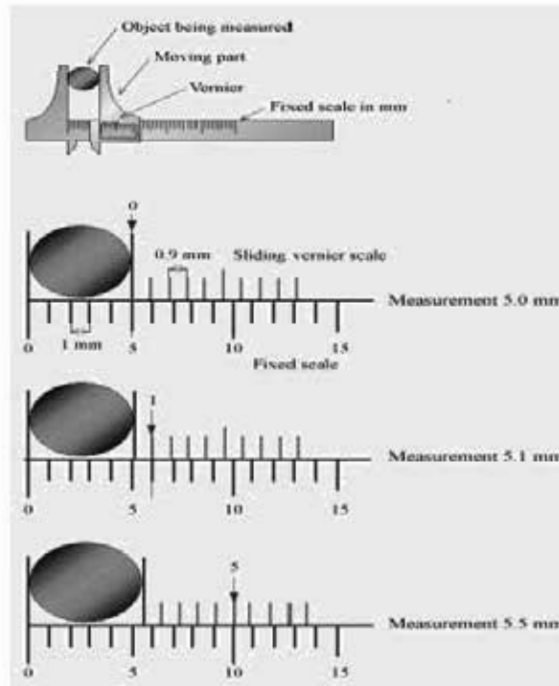
$$\begin{aligned}\text{ভার্নিয়ার কনস্ট্যান্ট} &= \text{প্রধান স্কেলের ক্ষুদ্রতম এক ভাগের মান} + \text{ভার্নিয়ার স্কেলের মোট ভাগ সংখ্যা} \\ &= 1 \text{ মি.মি} \div 10 \\ &= 0.1 \text{ মি.মি.।}\end{aligned}$$

উত্তর: ভার্নিয়ার কনস্ট্যান্ট হবে ০.১ মি.মি.।

১০.৪ ভার্নিয়ার ক্যালিপারের পরিমাপ পদ্ধতি :

(১) ভার্নিয়ার ক্যালিপারের পরিমাপ পদ্ধতি (সেট্রিক):

বস্তুর প্রকৃত পরিমাপ সবসময় পূর্ণ সংখ্যায় হয় না। ভার্নিয়ার স্কেলের শূন্য দাগ যদি প্রধান স্কেলের যে কোন দাগের সাথে মিলে যায় তাহলে পরিমাপ তত মিমি হয়। কিন্তু ভার্নিয়ার স্কেলের শূন্য দাগ যদি প্রধান স্কেলের দুইটি দাগের মধ্যবর্তী কোন স্থানে অবস্থান করে তাহলে ভার্নিয়ার স্কেল থেকে যাণ পড়ার প্রয়োজন হয়। এক্ষেত্রে ভার্নিয়ার স্কেলের শূন্য চিহ্নিত দাগটি প্রধান স্কেলের যে দাগ অতিক্রম করে সে দাগ পর্বত দূরত্বকে বস্তুর পূর্ণ পরিমাপ ধরা হয়। আবার ভার্নিয়ার স্কেলে যত সংখ্যক দাগটি প্রধান স্কেলের একটি মাত্র দাগের সাথে একই সরলরেখায় চলে আসে বা সবচেয়ে কাছাকাছি হয় তার সাথে ভার্নিয়ার প্রবক গুণ করে যা পাওয়া যায় তাকে ইতিপূর্বে প্রাপ্ত পূর্ণমাপের সাথে যোগ করে বস্তুর প্রকৃত পরিমাপ নির্ধারণ করা হয়।



চিত্র-১০.২ঃ ভার্নিয়ার ক্যালিপারের পরিমাপ পদ্ধতি

(২) ডার্নিয়েল ক্যালিপারের পরিমাপ পদ্ধতি (ব্রিটিশ):

প্রধান স্কেল এবং ডার্নিয়েল স্কেলের সমন্বয়ে মোট পরিমাপ নির্ধারিত হয়। এর প্রধান স্কেল ইঞ্চিতে দাগ কাটা থাকে। সাধারণত প্রতিটি ইঞ্চি সমান ১০ ভাগে বিভক্ত করে অপেক্ষাকৃত কম লম্বা দাগ সহ ছোট আকারের সংখ্যা দ্বারা চিহ্নিত করা থাকে যার মান ০.১ ইঞ্চি। এ ভাগগুলো আবার সমান ৪ (চার) ভাগে ভাগ করা থাকে যার মান $\frac{0.1}{8} = 0.025$ ইঞ্চি অর্থাৎ ইঞ্চি পদ্ধতির ডার্নিয়েল ক্যালিপার্সে প্রধান স্কেলের প্রত্যেকটি ক্ষুদ্রতম ভাগ বা ঘরের মান ০.০২৫ ইঞ্চি। এ প্রকারের ডার্নিয়েল ক্যালিপার্সে ডার্নিয়েল স্কেলের মোট দাগ সংখ্যা থাকে ২৫। সুতরাং ডার্নিয়েল গ্রুবক হলো $\frac{0.025}{25} = 0.001$ ইঞ্চি।

ব্রিটিশ পদ্ধতিতে ডার্নিয়েল ক্যালিপার দ্বারা মাপ নেওয়ার জন্য প্রথমে ডার্নিয়েল স্কেলের শূন্য চিহ্নিত রেখাটি কয়টি পূর্ণ ইঞ্চি রেখা অতিক্রম করেছে এবং কয়টি এক ইঞ্চির ১০ ভাগের ১ ভাগ রেখা অতিক্রম করেছে ও কত সংখ্যক ৪০ ভাগের এক ভাগ রেখা অতিক্রম করেছে সেদিকে খেয়াল রাখতে হয়। এর পর লক্ষ করা হয় যে ডার্নিয়েল স্কেলের কত নম্বর রেখাটি প্রধান স্কেলের একটি মাত্র রেখার সাথে পূর্ণভাবে সরলরেখায় মিলিত হয়েছে। ডার্নিয়েল স্কেলের শূন্য দ্বারা অতিক্রান্ত প্রত্যেকটি রেখার মাপ বোঝা করে তার সাথে ডার্নিয়েল স্কেলের মিলিত দাগ সংখ্যাকে ডার্নিয়েল গ্রুবক দ্বারা গুণ করে গুণফল পূর্বের যোগফলের সাথে যোগ করলে মোট যোগফল ডার্নিয়েল ক্যালিপারের মোট মাপ নির্দেশ করে।

১০.৫ ডিজিটাল ডার্নিয়েল ক্যালিপার ও ইহার ব্যবহার:

ডিজিটাল ডার্নিয়েল ক্যালিপার একটি সূক্ষ্ম পরিমাপক যন্ত্র যা দ্বারা কোন জব বা কার্যবস্তুর ভিতর ও বাহিরের পরিমাপ অতি সূক্ষ্মভাবে নির্ণয় করা যায় এবং পরিমাপ একটি এলসিডি ডিসপ্লে-এর মাধ্যমে সরাসরি গেসে উঠে। ইঞ্চি অথবা মিলিমিটার বাটন চেপে পাঠ পছন্দমত সংগ্রহ করা যায়।

যে জব বা কার্যবস্তুর পরিমাপ নিতে হবে সেটিকে ডিজিটাল ডার্নিয়েল ক্যালিপারের এক্সটারনাল 'জ' এর মধ্যে স্থাপন করে আলতোভাবে স্পর্শ করানো হয়, ডিজিটাল ডিসপ্লেতে তখন পাঠ ভেসে ওঠে।



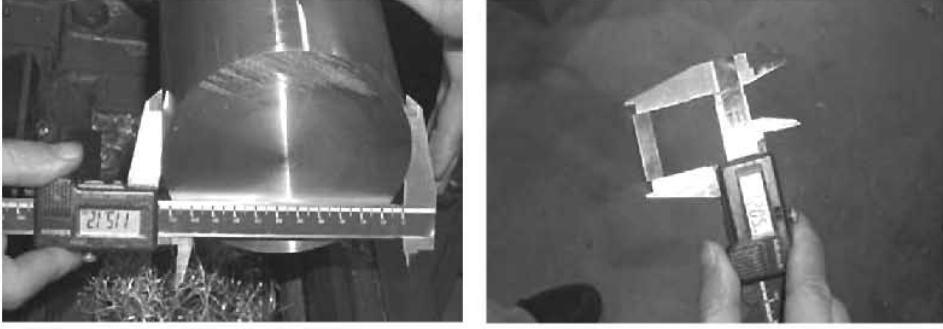
চিত্র-১০.৪ ডিজিটাল ডার্নিয়েল ক্যালিপার

১০.৬ ডার্নিয়েল ক্যালিপারের ব্যবহার :

কোন মসৃণ তলের দৈর্ঘ্য, প্রস্থ বা চওড়া, বেধ বা পুরুত্ব পরিমাপ করার জন্য ডার্নিয়েল ক্যালিপার্স ব্যবহৃত হয়। ডাছাড়া গোলক, সিলিন্ডার ইত্যাদির ব্যাস পরিমাপে এটি ব্যবহৃত হয়। পরীক্ষণ কাজেও ডার্নিয়েল ক্যালিপার্স ব্যবহার করা হয়। কোন পাইপ বা সিলিন্ডার এর আন্তঃস্থরীণ ব্যাস পরিমাপে এটি ব্যবহৃত হয়। এছাড়া দুইটি

১০২০

তলের মধ্যকার ভেতরের মাপ গ্রহণ করতেও ভার্নিয়ার ক্যালিপার্স ব্যবহৃত হয়। গর্ত বা স্লটের গভীরতা, দুইটি তলের উচ্চতার পার্থক্য বা গভীরতা পরীক্ষা করতে বা পরিমাপ গ্রহণ করতে ভার্নিয়ার ক্যালিপার্স ব্যবহৃত হয়।



চিত্র-১০.৩ : ভার্নিয়ার ক্যালিপারের ব্যবহার

১০.৭ ভার্নিয়ার ক্যালিপারের যত্ন ও রক্ষণাবেক্ষণ পদ্ধতি :

- ১) ভার্নিয়ার ক্যালিপার ব্যবহার করার সময় অতিরিক্ত চাপ প্রয়োগ করা উচিত নয়, এতে মাপের সঠিকতা নষ্ট হওয়ার সম্ভাবনা থাকে।
- ২) মেশিন চলন্ত অবস্থায় কার্যবস্তুর বা যন্ত্রাংশের মাপ ভার্নিয়ার ক্যালিপার দ্বারা নেওয়া নিষেধ।
- ৩) ক্যালিপার ব্যবহার করার পর পরিষ্কার করে যথাযথ স্থানে রেখে দিতে হবে।
- ৪) ভার্নিয়ার ক্যালিপারকে কাটিং টুলের সাথে রাখা নিষেধ।
- ৫) স্থির চোয়াল বা 'জ'-কে কার্যবস্তুর এক ধারে স্থাপন করে স্লাইডিং 'জ' কে ধীরে ধীরে অন্য পাশে স্থাপন করতে হয়।
- ৬) ভার্নিয়ার ক্যালিপার দ্বারা রাফ সারফেসের মাপ গ্রহণ করা যাবে না।
- ৭) ভার্নিয়ার ক্যালিপারকে কোন চুম্বকের সংস্পর্শে রাখা যাবে না।
- ৮) ভার্নিয়ার ক্যালিপারের কোন অংশ যাতে মরিচা না পড়ে এবং চলনশীল অংশ যাতে সহজেই চলাচল করতে পারে সেজন্য বিম স্কেলের উপরিভাগে ও স্ক্রু থ্রেডের বিভিন্ন স্থানে কিছু দিন পর পর মসৃণকারক তৈল বা গ্রিজ প্রয়োগ করতে হবে।

প্রশ্নামালা-১০

অতি সংক্ষিপ্ত প্রশ্নঃ

১. ভার্নিয়ার ক্যালিপার কী ধরনের টুলস ?
২. প্রধান স্কেল বলতে কী বোঝায় ?
৩. ভার্নিয়ার স্কেল কোথায় লাগানো থাকে ?
৪. লকিং স্ক্রু কেন ব্যবহার করা হয় ?
৫. ভার্নিয়ার ক্যালিপারে পাঞ্চ চিহ্ন কেন ব্যবহার করা হয় ?
৬. ভার্নিয়ার ক্যালিপারের সূক্ষ্মতা মাত্রা কত মিমি ?
৭. ভার্নিয়ার ক্যালিপারের সূক্ষ্মতা মাত্রা কত ইঞ্চি ?
৮. ভার্নিয়ার ক্যালিপার কী ধাতু দিয়ে তৈরি করা হয় ?
৯. রিটেইনারের কাজ কী ?
১০. ডেপ্থ প্রবের সাহায্যে কী মাপা যায় ?

সংক্ষিপ্ত প্রশ্ন :

১. ভার্নিয়ার ক্যালিপারের বিভিন্ন অংশগুলোর নাম লেখ।
২. ভার্নিয়ার প্রবক বলতে কী বোঝায় ?
৩. ভার্নিয়ার ক্যালিপারের প্রধান স্কেলের গঠন সংক্ষেপে লেখ।
৪. ভার্নিয়ার ক্যালিপারের ব্যবহার সংক্ষেপে উল্লেখ কর।
৫. ভার্নিয়ার ক্যালিপারের ভার্নিয়ার স্কেলের গঠন সংক্ষেপে লেখ।
৬. ভার্নিয়ার স্কেলের কাজ সংক্ষেপে বর্ণনা কর।
৭. একটি ভার্নিয়ার ক্যালিপারের ভার্নিয়ার স্কেলের মোট ভাগ সংখ্যা ৫০ যাহার দৈর্ঘ্য প্রধান স্কেলের ৪৯ ভাগের দূরত্বের সমান। প্রধান স্কেলের এক ভাগের মান ০.৫ মি.মি.। ভার্নিয়ার প্রবক বের কর।

(উত্তরঃ ০.০১ মি.মি.)

রচনামূলক প্রশ্ন :

১. চিত্রসহ একটি ভার্নিয়ার ক্যালিপারের বিভিন্ন অংশের নাম লেখ।
২. একটি ভার্নিয়ার ক্যালিপারের বিভিন্ন অংশের কার্যাবলী বর্ণনা কর।
৩. মেট্রিক প্রণালিতে ভার্নিয়ার ক্যালিপারের পাঠ কীভাবে গ্রহণ করা হয় বর্ণনা কর।
৪. ব্রিটিশ প্রণালিতে ভার্নিয়ার ক্যালিপারের পাঠ কীভাবে গ্রহণ করা হয় বর্ণনা কর।
৫. ভার্নিয়ার ক্যালিপারের যত্ন ও রক্ষণাবেক্ষণ প্রণালি বর্ণনা কর।

মাইক্রোমিটার (Micrometer)

১১.১ মাইক্রোমিটার :

মাইক্রোমিটার এক প্রকার সরাসরি বা প্রত্যক্ষ মাপন যন্ত্র (Direct Measuring Instrument)। একে ছু-পেজও বলা হয়। ছিন্ন নাটের ক্ষেত্র দিয়ে ছু-প্রোভ কাটা দণ্ড বা বোর্স্টের যাওয়া আসা নীতির উপর ভিত্তি করে মাইক্রোমিটার তৈরি করা হয়। নাটের ন্যায় ত্রিমাত্রিক অংশকে বিবল এবং বোর্স্টের ন্যায় ত্রিমাত্রিক অংশকে ব্যারেল বা শ্রীত বলা হয়।



চিত্র-১১.১৪ আউট সাইড মাইক্রোমিটার

ব্যারেলের উপর রৈখিক স্কেল দাগাক্রিত থাকে যাকে প্রধান স্কেল বলা হয়। বিবলের বিভেল বা ঢালু প্রান্তে বৃজাকার স্কেল বা বিবল স্কেল থাকে।

১১.২ মাইক্রোমিটারের পরিমাপ পদ্ধতি :

মোটরিক পদ্ধতিতে মাপ নেওয়ার জন্য ব্যবহৃত মাইক্রোমিটারের প্রধান স্কেলে রৈখিক দাগ ও দাগের মান উপর ও নিচে দুই দিকে থাকে। উপরের ও নিচের রৈখিক স্কেলের মাঝে ব্যারেলের অক্ষ বরাবর একটি সরলরেখা বা দাগ থাকে। উপরের রৈখিক স্কেলের ক্ষুদ্র এক ডাগের মান ১ মি.মি.। আবার নিচের স্কেলে উপরের প্রতি ঘরের মাঝ বরাবর দাগ কাটা থাকে যাতে করে উপরের প্রতি ঘরের সৈর্যের অর্ধেক মাপ নেওয়া সহজ হয়। কলে রৈখিক স্কেল হতে সর্বমিল্ল ০.৫ মি.মি. মাপ নেওয়া যায়।



চিত্র-১১.২৪ মাইক্রোমিটারের পরিমাপ পদ্ধতি

বৃত্তাকার কেসের বিষলকে এক পাক ঘুরালে রৈখিক দাগ বরাবর ০.৫ মি.মি. অগ্রসর হয় বা পিছিয়ে আসে। সুতরাং রৈখিক কেসের ০.৫ মিমি দূরত্ব বৃত্তাকার কেসের ৫০ ভাগের সমান।

$$\begin{aligned} \text{অতএব, বৃত্তাকার কেসের এক ভাগের মান} &= (0.5 \div 50) \text{ মি.মি.} \\ &= 0.01 \text{ মি.মি.।} \end{aligned}$$

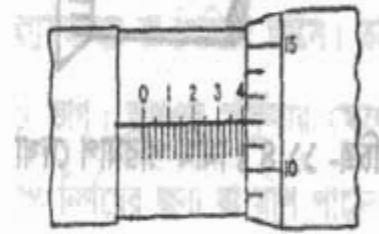
এটিকে মাইক্রোমিটার কনস্ট্যান্ট বলা হয়। মাইক্রোমিটার দিয়ে পাঠ নেওয়ার সময় বিষলের বিভ্রেল প্রান্ত ব্যারেল কেসের যত দাগ অতিক্রম করেছে সেই অতিক্রান্ত দাগের মাপ নির্ণয় করে এর সাথে সার্কুলার কেসের যে দাগ ডেটাম লাইনের সাথে মিলেছে অর্থাৎ প্রায় একই সরলরেখায় এসেছে সেই দাগ সংখ্যাকে মাইক্রোমিটার কনস্ট্যান্ট দিয়ে গুণ করে গুণফলকে যোগ করতে হবে। সর্বমোট যোগফলই হবে নির্ণয় পরিমাপ।

উদাহরণঃ ১

পার্শ্বের চিত্রে দেখানো মাইক্রোমিটার রিডিং দেখে মোট পাঠ বের কর।

সমাধানঃ

$$\begin{aligned} \text{প্রধান কেসের ৪ ভাগের মান} &= 4 \times 0.1 = 0.400 \text{ ইঞ্চি} \\ \text{প্রধান কেসের ক্ষুদ্রতম ০ ভাগ} &= 0 \times 0.025 = 0.000 \text{ ইঞ্চি} \\ \text{বৃত্তীয় কেসের ১২ ভাগের মান} &= 12 \times 0.001 = 0.012 \text{ ইঞ্চি} \\ &= 0.412 \text{ ইঞ্চি} \end{aligned}$$



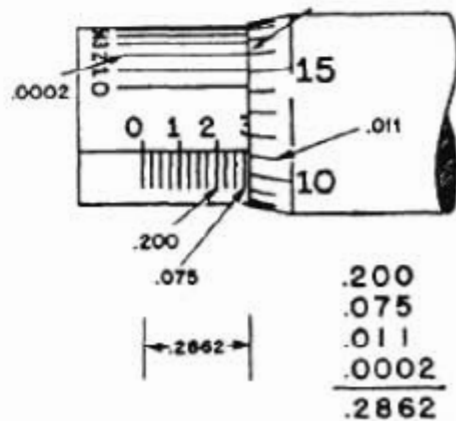
উত্তরঃ মোট পাঠ = ০.৪১২ ইঞ্চি

উদাহরণঃ ২

চিত্রানুযায়ী ইঞ্চি আর্নিয়ার মাইক্রোমিটারের মোট পাঠ নির্ণয় কর।

সমাধানঃ

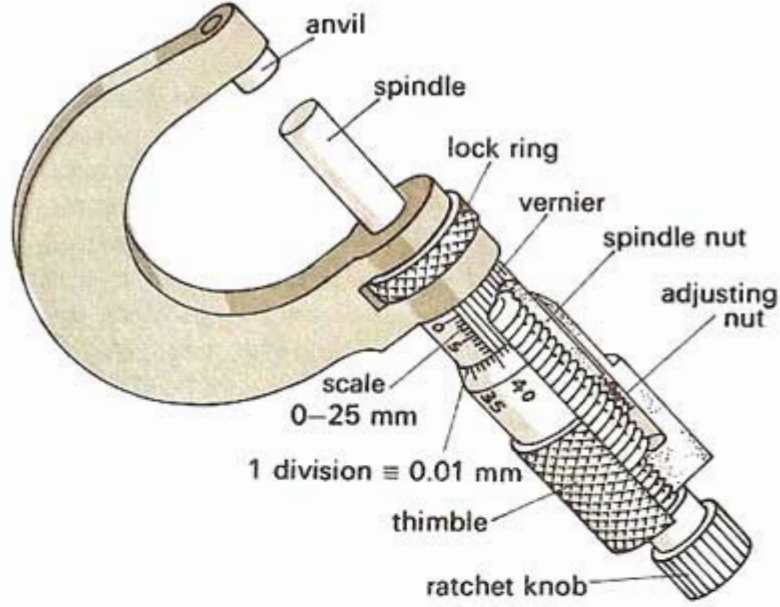
$$\begin{aligned} \text{প্রধান কেসের ২ ভাগের মান} &= 2 \times 0.1 = 0.200 \text{ ইঞ্চি} \\ \text{প্রধান কেসের ক্ষুদ্রতম ৩ ভাগের মান} &= 3 \times 0.025 \\ &= 0.075 \text{ ইঞ্চি} \\ \text{বৃত্তীয় কেসের ১১ ভাগের মান} &= 11 \times 0.001 \\ &= 0.011 \text{ ইঞ্চি} \end{aligned}$$



আর্নিয়ার পাঠ = ০.০০০২ ইঞ্চি

$$\begin{aligned} \text{মোট পাঠ} &= (0.200 + 0.075 + 0.011 + 0.0002) \text{ ইঞ্চি} \\ &= 0.2862 \text{ ইঞ্চি।} \end{aligned}$$

১১.৩ মাইক্রোমিটারের বিভিন্ন অংশের নাম :



চিত্র-১১.২ : আউট সাইড মাইক্রোমিটারের বিভিন্ন অংশ

একটি আউটসাইড মাইক্রোমিটারের বিভিন্ন অংশগুলো হলো-

- (১) ফ্রেম (Frame)
- (২) ব্যারেল (Barrel)
- (৩) স্পিন্ডল (Spindle)
- (৪) থিম্বল (Thimble)
- (৫) অ্যানভিল (Anvil)
- (৬) লক রিং (Lock ring)
- (৭) র্যাচেট নব (Ratchet Knob)
- (৮) অ্যাডজাস্টিং নটি (Adjusting nut)
- (৯) স্পিন্ডল নটি (Spindle nut)
- (১০) মেইন স্কেল (Main scale)
- (১১) ভার্নিয়ার স্কেল (Vernier scale)

ফ্রেম (Frame) :

এই অংশটা দেখতে অনেকটা ইংরেজি ইউ অক্ষরের ন্যায় এবং এটি কার্ভ স্টিলের তৈরি। এখানে মাইক্রোমিটারের সঠিক উল্লেখ থাকে। এছাড়া ফ্রেমের সাথে একদিকে অ্যানভিল এবং অন্যদিকে ব্যারেল সংযুক্ত থাকে। ফ্রেম সমস্ত বডিকে ধরে রাখে।

ব্যারেল (Barrel) :

ব্যারেল একটি টিউবের ন্যায় অংশ যা ফ্রেমের সাথে স্থায়ীভাবে যুক্ত। ব্যারেলের ভিতরে স্পিন্ডল আঁটানো থাকে। এর বাহিরের সারফেসে দৈর্ঘ্য বরাবর রেখা টেনে ইঞ্চি বা মিলিমিটার সংক্রান্ত দাগ কাটা থাকে। এই দাগের স্কেলকে রৈখিক স্কেল বলা হয়। এতে ডেটাম লাইন নামে একটি সরল রেখা থাকে যার সাথে সমন্বয় করে সার্কুলার স্কেলের মাপ নির্ণয় করা হয়। এই লাইনকে ইনডেক্স রেখাও বলা হয়।

স্পিন্ডল (Spindle) :

এটা এনভিলের বিপরীত পার্শ্বে ফ্রেমের সাথে সমন্বয়কৃত একটি চলমান অংশ। এটা ব্যারেলের ভিতর দিয়ে চলাচল করে। এর শেষ প্রান্তের কিছু অংশ প্যাঁচ কাটা থাকে। এই প্যাঁচ ইঞ্চি মাপের মাইক্রোমিটারে প্রতি ইঞ্চিতে ৪০টি এবং মেট্রিক মাইক্রোমিটারে প্রতি সেন্টিমিটারে ২০টি অর্থাৎ পিচ ০.৫ মি.মি. থাকে। স্পিন্ডলটি থিম্বল ও র্যাচেট স্টপের সাথে সংযুক্ত থাকায় র্যাচেট স্টপ এবং থিম্বল ঘুরালে স্পিন্ডলটিও ঘুরতে থাকে। স্পিন্ডলের মুখ বা প্রান্ত টাংস্টেন কারবাইড স্টিলের তৈরি।

অ্যানভিল (Anvil) :

এটি ফ্রেমের সাথে এক প্রান্তে স্থায়ীভাবে আবদ্ধ থাকে। এর মুখ সমতল এবং টাংস্টেন কারবাইড স্টিল দ্বারা তৈরি হয়। ফলে বার বার স্পিন্ডল প্রান্ত বা ওয়াকপিসের সাথে ঘর্ষণ লাগলেও ক্ষয়প্রাপ্ত হয় না।

থিম্বল (Thimble) :

এটা ফাঁপা সিলিন্ডার আকৃতির। এর সাথে র্যাচেট স্টপ ও স্পিন্ডল সংযুক্ত থাকে। থিম্বলের পার্শ্বের কিছু অংশ বিভেল আকৃতির হয়। মিলিমিটার মাইক্রোমিটারে এতে সমান ব্যবধানে ৫০টি দাগ কাটা থাকে এবং ইঞ্চি মাইক্রোমিটারে ২৫ টি দাগ কাটা থাকে। একে সার্কুলার বা বৃত্তাকার স্কেল বলা হয়। ঘুরানোর সুবিধার্থে এর বাহিরের কিছু অংশ নার্লিং করা থাকে।

র্যাচেট নব (Ratchet knob) :

এটা সিলিন্ডার আকৃতির এবং পৃষ্ঠ দেশের প্রান্তে নার্লিং করা থাকে। এতে ঘুরানোর সুবিধা হয়। কার্যবস্তুতে এনভিল এবং স্পিন্ডল যাতে নির্দিষ্ট চাপে মাপ নেওয়া যায় সেজন্য র্যাচেট নব ব্যবহার করে পাঠ লওয়া হয়। স্পিন্ডল এবং র্যাচেট নবের মাঝে একটি স্প্রিং বসানো থাকে যা র্যাচেটের মাধ্যমে স্পিন্ডলে অতিরিক্ত চাপ প্রয়োগে বাধা দেয়। র্যাচেট নব সংযুক্ত থাকায় সমচাপে সকল পরিমাণ গ্রহণ করা সম্ভব হয়। ফলে চাপের তারতম্য না হওয়ায় মাপের কোন পরিবর্তন হয় না। একে র্যাচেট স্ক্রুও বলা হয়ে থাকে।

লকিং নাট (Locking Nut) :

কোন মাপ নেওয়ার পর গৃহীত মাপ যাতে পরিবর্তিত হয়ে না যায় সেজন্য লকিং নাট বা পিনকে ঘুরিয়ে স্পিন্ডলকে ফ্রেমের সাথে সংযুক্ত বা আবদ্ধ করে রাখার জন্য লকিং নাট ব্যবহৃত হয়। অর্থাৎ মাপ গ্রহণ করার পর নাটটি আটকে দিলে মাপ নড়চড় হতে পারে না।

এটা ছাড়াও মাইক্রোমিটারের আরও কতগুলো অংশ আছে। যেমন, স্পিন্ডল নাট, স্লটের নাট, থিম্বল নাট প্রভৃতি।

১১.৪ মাইক্রোমিটারের শ্রেণিবিভাগ :

কাজের ধরন এবং ব্যবহার অনুসারে মাইক্রোমিটার বিভিন্ন আকারের হয়। মাপ গ্রহণ বা পরীক্ষা গ্রহণ করার প্রকৃতি অনুযায়ী মাইক্রোমিটারকে প্রধানত তিনভাগে ভাগ করা যায়।

ফর্মা-৯, মেশিন টুলস অপারেশন-১, ৯ম-১০ম শ্রেণি

যেমন-

- ১) আউট সাইড মাইক্রোমিটার (Outside Micrometer)
- ২) ইনসাইড মাইক্রোমিটার (Inside Micrometer)
- ৩) ডেপথ মাইক্রোমিটার (Depth Micrometer)



চিত্র-১১.৩: আউট সাইড, ইনসাইড ও ডেপথ মাইক্রোমিটার।

আউট সাইড মাইক্রোমিটার :

কোন কার্বকঙ্কর বা জবের বাইরের পরিমাপ অর্থাৎ সৈর্য, গ্রহ, উচ্চতা, ব্যাস, বেধ প্রভৃতির মাপ গ্রহণ ও মাপ পরীক্ষাকরণের জন্য আউটসাইড মাইক্রোমিটার ব্যবহৃত হয়। আউট সাইড মাইক্রোমিটার সাধারণত নিম্নলিখিত প্রকারের হয়ে থাকে। যথা-

- ১) প্লেইন আউট সাইড মাইক্রোমিটার (Plain outside micrometer)
- ২) স্ক্রু-থ্রেড মাইক্রোমিটার (Screw thread micrometer)
- ৩) ডিস্ক টাইপ মাইক্রোমিটার (Disk type micrometer)
- ৪) টিউব মাইক্রোমিটার (Tube micrometer)
- ৫) বল-এন্ড মাইক্রোমিটার (Ball-end Micrometer)
- ৬) ব্লেড টাইপ মাইক্রোমিটার (Blade type micrometer)
- ৭) বেঞ্চ মাইক্রোমিটার (Bench Micrometer)
- ৮) ইন্ডিকেটর মাইক্রোমিটার (Indicator Micrometer)

প্লেইন আউটসাইড মাইক্রোমিটার :

এই ধরনের মাইক্রোমিটারের অ্যানভিল এবং স্পিন্ডলের মুখ সমতল হয়। কার্বকঙ্কর সৈর্য, গ্রহ, পুরুত্ব, ব্যাস প্রভৃতি অতি সূক্ষ্মভাবে মাপার কাজে ও মাপ পরীক্ষণের কাজে ব্যবহৃত হয়।



চিত্র-১১.৪: প্লেইন আউটসাইড মাইক্রোমিটার

ফ্লু-শ্রেড মাইক্রোমিটার :

ফ্লু-শ্রেড মাইক্রোমিটার এর আকার ও আকৃতি ঠান সাধারণ আউটসাইড মাইক্রোমিটারের অনুরূপ হয়ে থাকে। এটির অ্যানজিট্রাল ইলেকট্রিক 'ভি' (V) আকৃতির ঝাঁজ কাটা থাকে এবং স্পিন্ডলের অগ্রভাগ যোচাকৃতি হয়ে থাকে। এই ধরনের মাইক্রোমিটার দ্বারা ফ্লু এর পিচ ব্যাস বাহির করা হয়।



চিত্র-১১.৫১ ফ্লু-শ্রেড মাইক্রোমিটার

ডিক টাইপ মাইক্রোমিটার :

ডিক টাইপ মাইক্রোমিটার এর অ্যানজিট্রাল এবং স্পিন্ডলের ঝাঁজ ডিক বা চাকতির মতো হয়ে থাকে। এই মাইক্রোমিটার দিয়ে পাডলা শিট, কাগজের পুরুত্ব বা অনুরূপ কার্যকর পুরুত্ব নির্ণয়ে ব্যবহার করা হয়। এই শ্রেণির মাইক্রোমিটারকে পেশারগেজ মাইক্রোমিটারও বলা হয়।



চিত্র-১১.৬১ ডিক টাইপ মাইক্রোমিটার

টিউব মাইক্রোমিটার :

টিউব মাইক্রোমিটার এর অ্যানজিট্রাল স্পিন্ডলের সাথে লম্বভাবে থাকে এবং গোলাকার ও নিরেট হয়ে থাকে। এ প্রকারের মাইক্রোমিটার কেবল নল বা অনুরূপ কাঁপা বস্তুর বেধ বা পুরুত্ব নির্ণয়ে ব্যবহৃত হয়। সাধারণ মাইক্রোমিটার দিয়ে নল বা গোলাকার দেয়ালগুলো কার্যকর মাপ নিলে ভুল মাপ পাওয়া যাবে। টিউব বা নলের দেয়ালের বেধ বা থিকনেস মাপার জন্য অ্যানজিট্রাল মুখে বল লাগানো মাইক্রোমিটার ব্যবহার করা হয়।



চিত্র-১১.৭১ টিউব মাইক্রোমিটার

এতে কেবলমাত্র এক জায়গায়ই স্পিডলের মুখ এবং অ্যানভিলের বলের প্রান্ত স্পর্শ করবে এবং সঠিক মাপ পাওয়া যাবে। এই মাইক্রোমিটারের বল-এন্ড অ্যানভিল থেকে খুলেও রাখা যায়। তখন অ্যানভিলের ক্ল্যাট সারফেস বেরিয়ে পড়ে। এ প্রকারের মাইক্রোমিটার দিয়ে মাপ নিতে হলে যা মাপ পাওয়া যাবে তা থেকে বলের ডায়ামিটার বাদ দিতে হবে। আর এক রকমের বল এন্ড মাইক্রোমিটার আছে যার অ্যানভিল এবং স্পিডলের মুখে বল লাগানো থাকে। এগুলো স্কেট, এন্ড বা পর্ড করা এবং কার্ভড বা বাঁকানো সারফেসের মাপ লওয়ার জন্য ব্যবহৃত হয়। অ্যানভিল এবং স্পিডল ব্যতীত এ মাইক্রোমিটারের অন্যান্য অংশ প্রেইন আউট সাইড মাইক্রোমিটারের অনুরূপ। এ মাইক্রোমিটারের অ্যানভিল এবং স্পিডলের প্রান্ত চ্যাপ্টা হয়। এজন্য খাঁজের গভীরতা বা অনুরূপ সরু অংশের মাপ গ্রহণ করতে এ মাইক্রোমিটার ব্যবহার হয়।

বেঞ্চ মাইক্রোমিটারঃ

এ মাইক্রোমিটারের স্পিডল এবং অ্যানভিল উভয়ই পাঠ গ্রহণের জন্য চলাচল করতে পারে। চলমান অ্যানভিলে ইন্ডিকেটর সংযুক্ত থাকার একে কম্পারেটর হিসেবে ব্যবহার করা যায়। বেঞ্চ মাইক্রোমিটারের অ্যানভিল এবং স্পিডল মজবুত ক্রেমের সাথে সংযুক্ত থাকায় তিন তার বা দুই তার পদ্ধতিতে ফ্লুরের পিচ-চ্যান নির্ধরে বিশেষভাবে উপযোগী।



চিত্র-১১.৮৪ বেঞ্চ মাইক্রোমিটার

ইন্ডিকেটর মাইক্রোমিটারঃ

ইন্ডিকেটর মাইক্রোমিটার সাধারণ মাইক্রোমিটারের অনুরূপ মাপ গ্রহণের ক্ষমতা আছে। এ মাইক্রোমিটারের বিশেষ সুবিধা হলো এতে পৃথক অভিন্ন একটি ক্ষেত্র থাকায় কম্পারেটর বা ভুলনামূলক মাপ বা নিরীক্ষা করা যায়। কোন নির্দিষ্ট মাপ নিরীক্ষা করতে প্রথমে ঐ মাপ সেট করে কার্যকরভাবে মাপ গ্রহণকালে নির্ধারিত মাপ অপেক্ষা কত কম বা বেশি আছে তা সরাসরি ইন্ডিকেটর ক্ষেত্র থেকে পাঠ করা যায়। মাইক্রোমিটার অংশ হতে ০.০১ মি.মি সূক্ষতায় এবং ইন্ডিকেটর অংশ হতে ০.০০১ মি.মি সূক্ষতায় মাপের সঠিকতা যাচাই করা যায়।



চিত্র-১১.৯৪ ইন্ডিকেটর মাইক্রোমিটার

ইনসাইড মাইক্রোমিটার :

কোন বস্তুর মাপ অর্থাৎ দুইটি তলের অভ্যন্তরীণ দূরত্ব মাপ গ্রহণ ও পরীক্ষা ও নিরীক্ষা করতে ইনসাইড মাইক্রোমিটার ব্যবহৃত হয়। ইনসাইড মাইক্রোমিটারের মাপ পাঠ পদ্ধতি আউট মাইক্রোমিটারের মাপ পাঠ পদ্ধতির অনুরূপ। ইনসাইড মাইক্রোমিটার প্রধানত দুই প্রকার হয়। যথা-

১) ক্যালিপার টাইপ ইনসাইড মাইক্রোমিটার :



চিত্র-১১.১০ (ক): ক্যালিপার টাইপ ইনসাইড মাইক্রোমিটার (ম্যাকানিক্যাল)



চিত্র-১১.১০ (খ): ক্যালিপার টাইপ ইনসাইড মাইক্রোমিটার (ডিজিটাল)

২) রড টাইপ ইনসাইড মাইক্রোমিটার :



চিত্র-১১.১১: রড টাইপ ইনসাইড মাইক্রোমিটার

ডেপথ মাইক্রোমিটার (Depth Micrometer) :

দুইটি তলের উচ্চতায় পার্থক্য অর্থাৎ কোন বস্তুর গভীরতার মাপ গ্রহণ ও পরীক্ষা করতে ডেপথ মাইক্রোমিটার ব্যবহৃত হয়। অন্যান্য মাইক্রোমিটারের ন্যায় ডেপথ মাইক্রোমিটারেও থিম্বল এবং ব্যারেল বা স্পিন্ডলের মাধ্যমে একই পদ্ধতিতে মাপ গ্রহণ করা হয়। স্পিন্ডলের নিচে দুইদিকের বর্ধিত ভূমির তলদেশ অর্থাৎ হেড কে ছিদ্র বা খাঁজের দুইদিকে সমভাবে বসিয়ে বা অবস্থান করে বাম হাতের আঙ্গুল দ্বারা হালকা চাপ প্রয়োগ করে ডান হাতে থিম্বলকে ঘুরিয়ে মাপ গ্রহণ করতে হয়। এ মাইক্রোমিটারে অ্যানভিল থাকে না এবং হেড এর তলদেশ ও স্পিন্ডল বা রডের প্রান্ত দুয়টুকুই গভীরতা হিসেবে বিবেচনা করা হয় অর্থাৎ গভীরতার মাপ নির্দেশ করে।



চিত্র-১১.১২ঃ ডেপথ মাইক্রোমিটার

১১.৬ মাইক্রোমিটারের যত্ন ও রক্ষাবেক্ষণ :

- ১) মাইক্রোমিটার সর্বদা পরিষ্কার রাখা প্রয়োজন। অন্যথায় ধূলা বা ময়লা জমলে ভুল মাপ দেখাবে এবং মরিচা পরার সম্ভাবনা থাকে।
- ২) মাইক্রোমিটারের কোনো অংশে যাতে মরিচা না পরে সেজন্য মাঝে মাঝে তেতরে ও বাহিরে মসৃণ কার্বক তৈল দিয়ে রাখতে হয়।
- ৩) এনভিল এবং স্পিন্ডলকে কার্ভবস্তুর সাথে বেশি চাপ দিয়ে ব্যবহার করা অনুচিত। স্যাচেট ব্যবহার করতে হবে এবং স্যাচেট না থাকলে কার্ভবস্তুর সাথে চাপ না দিয়ে কেবলমাত্র স্পর্শ করা অবস্থায় পরিমাপ নিতে হবে।
- ৪) মাইক্রোমিটারকে সর্বদা পরিষ্কার স্থানে যত্ন সহকারে রাখতে হবে।
- ৫) মাইক্রোমিটারের সাহায্যে চলন্ত বস্তু এবং রাক সারফেস- এর মাপ গ্রহণ অনুচিত।
- ৬) মাইক্রোমিটারকে চুম্বকের নিকট রাখা যাবে না।
- ৭) মাইক্রোমিটারের উপর কোন টুলস রাখা যাবে না।
- ৮) ব্যবহারের পর পরিষ্কার এবং ত্রুটিমুক্ত অবস্থায় সংরক্ষণ করতে হবে।
- ৯) মাইক্রোমিটারকে সব সময় নির্দিষ্ট আধারে রাখা উচিত।
- ১০) মাইক্রোমিটারে ত্রুটি থাকলে সুদক্ষ কারিগর দ্বারা সংশোধন করে নিতে হবে।
- ১১) মাইক্রোমিটার যাতে টেবিল হতে বা ব্যবহারকালে মেঝেতে পড়ে না যায় সেদিকে সতর্ক থাকা প্রয়োজন এবং যত্ন সহকারে ব্যবহার করতে হবে।

প্রশ্নমালা-১১

অতি সংক্ষিপ্ত প্রশ্নঃ

১. মাইক্রোমিটার কী?
২. মাইক্রোমিটার প্রধানত কয় প্রকার ও কী কী?
৩. আউট সাইড মাইক্রোমিটারের প্রধান অংশগুলোর নাম লেখ।
৪. পিচ কাকে বলে?
৫. মাইক্রোমিটারের ক্রটি কয় প্রকার ও কী কী?
৬. মাইক্রোমিটারের শূন্য ক্রটি বলতে কী বুঝায়?
৭. মাইক্রোমিটার ধ্রুবক বা লঘিষ্ঠ মান কাকে বলে?
৮. মেট্রিক মাইক্রোমিটারের থিম্বলে সার্কুলার স্কেলের মোট ভাগের সংখ্যা কত?
৯. ইঞ্চি মাইক্রোমিটারের থিম্বলে সার্কুলার স্কেলের ভাগের সংখ্যা কত?
১০. মাইক্রোমিটারের ধ্রুবক বা লঘিষ্ঠ মান ০.০১ মি.মি. বলতে কী বুঝায়?
১১. টিউব মাইক্রোমিটার কী কাজে ব্যবহৃত হয়?
১২. স্ক্রু থ্রেড মাইক্রোমিটার কী কাজে ব্যবহৃত হয়?

সংক্ষিপ্ত প্রশ্নঃ

১. মাইক্রোমিটার বলতে কী বুঝায় ব্যক্ত কর।
২. মাইক্রোমিটার সাইজ বলতে কী বুঝায় উল্লেখ কর।
৩. ব্যারেলের গঠন বর্ণনা কর।
৪. থিম্বলের গঠন বর্ণনা কর।
৫. র্যাচেট ব্যবহারের সুবিধা উল্লেখ কর।
৬. মাইক্রোমিটারের ক্রটি বলতে কী বুঝায়?
৭. লক রিং কেন ব্যবহার করা হয় বুঝিয়ে লেখ।

রচনামূলক প্রশ্নঃ

১. মাইক্রোমিটারের প্রধান অংশসমূহের নাম এবং উহাদের ব্যবহার সংক্ষেপে বর্ণনা কর।
২. মাইক্রোমিটারের মূলনীতি ব্যাখ্যা কর।
৩. মাইক্রোমিটারের ক্রটি ব্যাখ্যা কর।
৪. মাইক্রোমিটারের ক্ষেত্রে মেট্রিক পরিমাপ গ্রহণ পদ্ধতি বর্ণনা কর।
৫. মাইক্রোমিটারের ক্ষেত্রে ইঞ্চি পরিমাপ গ্রহণ পদ্ধতি বর্ণনা কর।
৬. মাইক্রোমিটারের সাইজ বলতে কী বুঝায় বর্ণনা কর।
৭. মাইক্রোমিটার রেঞ্জ বলতে কী বুঝায় বর্ণনা কর।
৮. মাইক্রোমিটারের প্রকারভেদ বর্ণনা কর।
৯. মাইক্রোমিটারের ধ্রুবক নির্ণয় পদ্ধতি ব্যাখ্যা কর।
১০. ডেপথ মাইক্রোমিটারের গঠন ও ব্যবহার বর্ণনা কর।
১১. মাইক্রোমিটারের যত্ন ও রক্ষণাবেক্ষণ পদ্ধতি বর্ণনা কর।

আউটসাইড মাইক্রোমিটার (Outside Micrometer)

১২.১ আউটসাইড মাইক্রোমিটারের পরিচিতি :

পরিমাপ ও পরীক্ষণের কাজে আউটসাইড মাইক্রোমিটার বহুল ব্যবহৃত হয়। এই যন্ত্রের সাহায্যে বাহ্যিকের ব্যাস, বেধ, পতীরতা, উচ্চতা প্রভৃতি পরিমাপ করা যায়। এটি একটি সূক্ষ্ম পরিমাপক ও পরীক্ষণ যন্ত্র যার সাহায্যে ব্রিটিশ পদ্ধতিতে ০.০০১ ইঞ্চি সূক্ষ্মতা এবং মেট্রিক প্রণালিতে ০.০১ মি.মি. পর্যন্ত সূক্ষ্মতা বজায় রেখে পরিমাপ ও পরীক্ষণ করা যায়।



চিত্র-১২.১ : আউট সাইড মাইক্রোমিটার

১২.২ মাইক্রোমিটার প্রবক (Vernier Constant) :

মাইক্রোমিটারের সাহায্যে সবচেয়ে সর্বনিম্ন বে সৈর্য পরিমাপ করা যায়, তা মাইক্রোমিটার প্রবক নামে পরিচিত। প্রকৃতপক্ষে যিখল স্কেলের প্রতিটি ক্ষুদ্রতম ভাগের মানই হলো মাইক্রোমিটার প্রবক। মাইক্রোমিটারে ব্যবহৃত স্কেলের পিচকে যিখল স্কেল বা সার্কুলার স্কেলের মোট ভাগ সংখ্যা ধারা ভাগ করলে মাইক্রোমিটার প্রবক পাওয়া যায়।

অর্থাৎ মাইক্রোমিটার প্রবক = যিখল স্কেলের পিচ ÷ যিখল স্কেলের মোট ভাগ সংখ্যা

অথবা,

মাইক্রোমিটার প্রবক = প্রধান স্কেলের ক্ষুদ্রতম এক ভাগের মান + বৃত্তাকার স্কেলের মোট ভাগ সংখ্যা

১২.৩ মাইক্রোমিটার প্রবক নির্ণয় করার পদ্ধতি :



চিত্র-১২.২ মাইক্রোমিটার প্রবক নির্ণয়

মেট্রিক পদ্ধতি-

এখানে পিচ ০.৫ মি.মি. বিশিষ্ট থিম্বলকে পূর্ণ এক পাক ঘুরালে স্পিন্ডলটি মাত্র ০.৫ মি.মি. অগ্রসর হয়। থিম্বলটি ৫০টি সমান ভাগে ভাগ করা থাকে। সুতরাং প্রত্যেক ভাগের মান $\frac{০.৫}{৫০} = ০.০১$ মি.মি. এবং এটিই হচ্ছে মাইক্রোমিটার প্রুবক।

অথবা, মাইক্রোমিটার প্রুবক = থিম্বলের থ্রেডের পিচ ÷ থিম্বল স্কেলের মোট ভাগ সংখ্যা

$$= \frac{০.৫}{৫০} ০.০১ \text{ মি.মি.}$$

ব্রিটিশ পদ্ধতি-

ব্রিটিশ পদ্ধতিতে মাইক্রোমিটারের ব্যারেল স্কেলে এক ইঞ্চি দূরত্বকে সাধারণত প্রধান ১০ (দশ) টি ভাগে বিভক্ত করা থাকে। সুতরাং ব্যারেল স্কেলের প্রতিটি প্রধান ক্ষুদ্রতর ভাগ ০.১ ইঞ্চি মাপকে সূচিত করে। আবার এই প্রতিটি ক্ষুদ্রতর ভাগকে আবার সমান চার ভাগে বিভক্ত করা থাকে। অর্থাৎ ব্যারেল স্কেলের এক ইঞ্চি দূরত্ব মোট $৪ \times ১০ = ৪০$ ভাগে বিভক্ত হয়। কাজেই ব্যারেল স্কেলের ক্ষুদ্রতম এক ভাগের মান হয় $\frac{১}{৪০}$ ইঞ্চি বা ০.০২৫ ইঞ্চি। এই ধরনের মাইক্রোমিটারের থিম্বলকে পূর্ণ এক পাক ঘুরালে স্পিন্ডলের মুখ ০.০২৫ ইঞ্চি দূরত্ব অতিক্রম করে। থিম্বল বা বৃত্তীয় স্কেলে আবার সম্পূর্ণ পরিধি জুড়ে সমান ২৫ টি ভাগ করা থাকে। সুতরাং থিম্বল স্কেলের প্রতিটি ভাগের মান হয় $০.০২৫ \div ২৫ = ০.০০১$ ইঞ্চি। এটিই হচ্ছে ব্রিটিশ পদ্ধতিতে মাইক্রোমিটারের প্রুবক বা মাইক্রোমিটার কনস্ট্যান্ট।

১২.৪ আউটসাইড মাইক্রোমিটারের কার্যনীতি :

আমরা জানি কোন একটি থ্রেড যুক্ত বোল্টের সাথে একই মাপের থ্রেড যুক্ত একটি নাটকে এক পঁচাত্তর ঘুরালে নাটটি বোল্টের উপর এক পিচ পরিমাণ দৈর্ঘ্য অগ্রসর হয়। নাট ও বোল্টের এই নীতির উপর ভিত্তি করে মাইক্রোমিটার তৈরি করা হয়। মাইক্রোমিটারের স্পিন্ডলকে এক পাক ঘুরালে উহার পিচ অনুসারে থিম্বল ০.০২৫ ইঞ্চি অথবা ০.৫ মি.মি. সরে যায়। সাধারণ আউটসাইড মাইক্রোমিটারের ব্যারেলের উপর অঙ্কিত স্কেলের নির্দেশক রেখার উপর এক ইঞ্চি স্থানকে সমান ৪০ ভাগে অথবা ২৫ মি.মি. স্থানকে ৫০ ভাগে বিভক্ত করা থাকে।

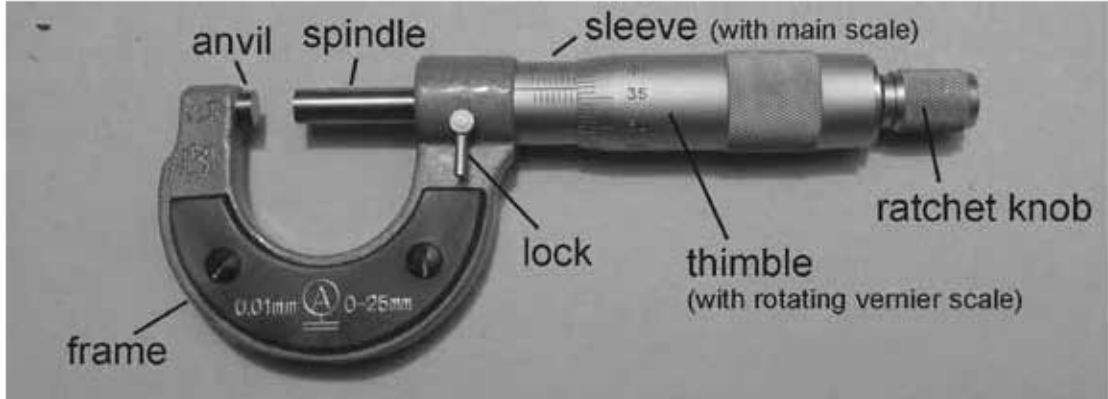
ব্রিটিশ পদ্ধতিতে তৈরি আউটসাইড মাইক্রোমিটারের ব্যারেল এবং থিম্বলে প্রতি ইঞ্চিতে ৪০টি স্কু-থ্রেড থাকে।

ফলে, স্পিন্ডলকে পূর্ণ এক পাক ঘুরালে উহা $\frac{১}{৪০}$ ইঞ্চি বা ০.০২৫ ইঞ্চি অগ্রসর হয় অথবা পঁচাত্তর দিকে পিছিয়ে আসে। স্পিন্ডলকে ডানদিকে পূর্ণ এক পাক ঘুরালে স্পিন্ডল এবং অ্যানভিলের মুখ দুইটির ব্যবধান ০.০২৫ ইঞ্চি কমে যায়। আবার যদি বাম দিকে ঘুরানো হয়, তবে স্পিন্ডল এবং অ্যানভিলের মুখ দুইটির দূরত্বের ব্যবধান ০.০২৫ ইঞ্চি বেড়ে যায়। স্পিন্ডল এবং থিম্বল পরস্পর থ্রেড দ্বারা যুক্ত থাকায় থিম্বলের সঙ্গে স্পিন্ডল ঘুরতে থাকে। ব্যারেলের উপরিভাগে এক ইঞ্চি পরিমাণ স্থান সমান ৪০ ভাগে ভাগ করা থাকে। সুতরাং ব্যারেলের প্রতি বিভাগের মান $\frac{১}{৪০}$ ইঞ্চি বা ০.০২৫ ইঞ্চি। এখন থিম্বল স্কেলে মোট ভাগ সংখ্যা হলো ২৫। এখন থিম্বল স্কেলের এক ভাগ ঘুরালে উহা $০.০২৫ \div ২৫ = ০.০০১$ ইঞ্চি স্থান অতিক্রম করে। মাপ নির্ণয়ের সময় লক্ষ

রাখতে হয় যে বিষলের প্রান্ত ব্যারেলের কোন অঙ্ক চিহ্নিত রেখাটি ও কয়টি ক্ষুদ্র রেখা অতিক্রম করেছে ও বিষলের কোন রেখাটি 'নির্দেশক রেখা' -এর সাথে ঠিক মিলে গিয়েছে। এখন রেখাগুলোর সম্পর্কযুক্ত মাপগুলো যোগ করলেই সম্পূর্ণ মাপ পাওয়া যাবে।

আবার মিলিমিটার পদ্ধতিতে নির্মিত মাইক্রোমিটার এর কার্বনীতিও নাট ও বোল্টের অনুরূপ। ব্যারেলের অংশটি নাটের ন্যায় এবং স্পিন্ডলের অংশটি বোল্টের ন্যায় কাজ করে। ব্যারেল ও বিষল উভয়েরই প্রেড ০.৫ মি.মি. পিচ বিশিষ্ট। বিষলকে পূর্ণ এক পাক ডান দিকে ঘুরালে স্পিন্ডল ও এনভিলের মুখ দুইটির ব্যবধান ০.৫ মিমি কমে যায় এবং বাম দিকে ঘুরালে ব্যবধান ০.৫ মি.মি. বেড়ে যায়। বিষল ও স্পিন্ডল পরস্পর যুক্ত থাকার ফলে বিষলকে ঘুরালে স্পিন্ডল ঘুরে ব্যারেলের উপর দিয়ে যাতায়াত করে। ব্যারেলের উপরিভাগে ২৫ মি.মি. স্থান ৫০ ভাগে বিভক্ত করা থাকে। তাই ব্যারেলের প্রতিটি বিভাগ ০.৫ মি.মি. মাপ সূচিত করে। বিষলকে পূর্ণ এক পাক ঘুরালে ব্যারেলের ০.৫ মি.মি. বিভাগের একটি রেখা অতিক্রম করে। বিষল ফেলে মোট ভাগ সংখ্যা হলো ৫০। এখন বিষল ফেলের এক ভাগ ঘুরালে উহা $0.5 \div 50 = 0.01$ মি.মি. স্থান অতিক্রম করে। মাপ নির্ণয়ের সময় লক্ষ রাখতে হয় যে বিষলের প্রান্ত ব্যারেলের কোনো অঙ্ক চিহ্নিত রেখাটি ও কয়টি ক্ষুদ্র রেখা অতিক্রম করেছে ও বিষলের কোনো রেখাটি 'নির্দেশক রেখা' -এর সাথে ঠিক মিলে গিয়েছে। এখন রেখাগুলোর সম্পর্কযুক্ত মাপগুলো যোগ করলেই সম্পূর্ণ মাপ পাওয়া যাবে।

১২.৫ আউটসাইড মাইক্রোমিটারের বিভিন্ন অংশের গঠন ও কার্যকলাপ :



চিত্র-১২.৩: আউট সাইড মাইক্রোমিটারের বিভিন্ন অংশ

মাইক্রোমিটারের বিভিন্ন অংশসমূহ

- ১) ফ্রেম (Frame)
- ২) ব্যারেল (Barrel)
- ৩) স্পিন্ডল (Spindle)
- ৪) থিম্বল (Thimble)
- ৫) আনভিল (Anvil)
- ৬) লক নাট (Lock Nut)
- ৭) র্যাচেট নব (Ratchet Knob)

ফ্রেম (Frame) :

এই অংশটা দেখতে অনেকটা ইংরেজি ইউ (U) অক্ষরের ন্যায় এবং কাস্ট স্টিলের তৈরি। এখানে মাইক্রোমিটারের সাইজ উল্লেখ থাকে। এছাড়া ফ্রেমের সাথে একদিকে অ্যানভিল এবং অন্যদিকে ব্যারেল সংযুক্ত থাকে। ফ্রেম সমস্ত বডিকে ধরে রাখে।

ব্যারেল (Barrel) :

ব্যারেল একটি টিউবের ন্যায় অংশ যা ফ্রেমের সাথে স্থায়ীভাবে যুক্ত। ব্যারেলের ভিতরে স্পিন্ডল আঁটানো থাকে। এর বাহিরের সারফেসে দৈর্ঘ্য বরাবর রেখা টেনে ইঞ্চি বা মিলিমিটার-এ দাগ কাটা থাকে। এই দাগের স্কেলকে রৈখিক স্কেল বলা হয়। এতে ডেটাম লাইন নামে একটি সরল রেখা থাকে যার সাথে সমন্বয় করে সার্কুলার স্কেলের মাপ নির্ণয় করা হয়। এই লাইনকে ইনডেক্স রেখাও বলা হয়।

স্পিন্ডল (Spindle) :

এটা এনভিলের বিপরীত পার্শ্বে ফ্রেমের সাথে সমন্বয়কৃত একটি চলমান অংশ। এটা ব্যারেলের ভিতর দিয়ে চলাচল করে। এর শেষ প্রান্তের কিছু অংশ প্যাঁচ কাটা থাকে। এই প্যাঁচ ইঞ্চি মাপের মাইক্রোমিটারে প্রতি ইঞ্চিতে ৪০টি এবং মেট্রিক মাইক্রোমিটারে প্রতি সেন্টিমিটারে ২০টি অর্থাৎ পিচ ০.৫ মি.মি. থাকে। স্পিন্ডলটি থিম্বল ও র্যাচেট স্টপের সাথে সংযুক্ত থাকায় র্যাচেট স্টপ এবং থিম্বল ঘুরালে স্পিন্ডলটিও ঘুরতে থাকে। স্পিন্ডলের মুখ বা প্রান্ত টাংস্টেন কারবাইড স্টিলের তৈরি।

অ্যানভিল (Anvil) :

এটি ফ্রেমের সাথে এক প্রান্তে স্থায়ীভাবে আবদ্ধ থাকে। এর মুখ সমতল এবং টাংস্টেন কারবাইড স্টিল দ্বারা তৈরি হয়। ফলে বার বার স্পিন্ডলের প্রান্ত ওয়ার্কপিসের সাথে ঘর্ষণ লাগলেও ক্ষয়প্রাপ্ত হয় না।

থিম্বল (Thimble) :

এটা ফাঁপা সিলিন্ডার আকৃতির সাথে র্যাচেট স্টপ ও স্পিন্ডল সংযুক্ত থাকে। থিম্বলের পার্শ্বের কিছু অংশ বিভেল আকৃতির হয়। মিলিমিটার মাইক্রোমিটারে এতে সমান ব্যবধানে ৫০টি দাগ কাটা থাকে এবং ইঞ্চি মাইক্রোমিটারে ২৫টি দাগ কাটা থাকে। একে সার্কুলার বা বৃত্তাকার স্কেল বলা হয়। ঘুরানোর সুবিধার্থে এর বাহিরের কিছু অংশ নার্লিং করা থাকে।

র্যাচেট নব (Ratchet Knob) :

এটা সিলিন্ডার আকৃতির এবং পৃষ্ঠ দেশের প্রান্তে নার্লিং করা থাকে। এতে ঘুরানোর সুবিধা হয়। কার্যবস্তুতে এনভিল এবং স্পিন্ডল যাতে নির্দিষ্ট চাপে মাপ নেওয়া যায় সেজন্য র্যাচেট নব ব্যবহার করে পাঠ লওয়া হয়। স্পিন্ডল এবং র্যাচেট নবের মাঝে একটি স্প্রিং বসানো থাকে যা র্যাচেটের মাধ্যমে স্পিন্ডলে অতিরিক্ত চাপ প্রয়োগে বাধা দেয়। র্যাচেট নব সংযুক্ত থাকায় সমচাপে সকল পরিমাপ গ্রহণ করা সম্ভব হয়। ফলে চাপের ভারতম্য না হওয়ায় মাপের কোন পরিবর্তন হয় না। একে র্যাচেট স্ক্রুও বলা হয়ে থাকে।

লক নাট (Lock Nut) : কোন মাপ নেওয়ার পর গৃহীত মাপ যাতে পরিবর্তিত হয়ে না যায় সেজন্য লকিং নাট বা পিনকে ঘুরিয়ে স্পিন্ডলকে ফ্রেমের সাথে সংযুক্ত বা আবদ্ধ করে রাখার জন্য লকিং নাট ব্যবহৃত হয়। অর্থাৎ মাপ গ্রহণ করার পর নাটটি আটকে দিলে মাপ নড়চড় হতে পারে না।

প্রশ্নমালা-১২

অতিসংক্ষিপ্ত প্রশ্ন :

১. আউটসাইড মাইক্রোমিটার কী ?
২. আউটসাইড মাইক্রোমিটার-এর কয়টি অংশ আছে ?
৩. আউটসাইড মাইক্রোমিটার-এর বিভিন্ন অংশগুলির নাম লেখ ।
৪. মাইক্রোমিটার ধ্রুবক বা লঘিষ্ট মান কাকে বলে ?
৫. আউটসাইড মাইক্রোমিটারের প্রকারভেদ উল্লেখ কর ।
৬. মেট্রিক আউটসাইড মাইক্রোমিটারের থিম্বলে সার্কুলার স্কেলের ভাগ সংখ্যা কত ?

সংক্ষিপ্ত প্রশ্ন :

১. আউটসাইড মাইক্রোমিটারের বিভিন্ন অংশগুলির নাম লেখ ।
২. আউটসাইড মাইক্রোমিটার কত প্রকার ও কী কী ?
৩. আউটসাইড মাইক্রোমিটার-এর ব্যারেলের গঠন বর্ণনা কর ।
৪. আউটসাইড মাইক্রোমিটার-এর থিম্বলের গঠন বর্ণনা কর ।
৫. আউটসাইড মাইক্রোমিটার-এর ফ্রেমের গঠন বর্ণনা কর ।
৬. আউটসাইড মাইক্রোমিটার-এর র্যাচেট নবের সুবিধা বর্ণনা কর ।
৭. আউটসাইড মাইক্রোমিটার-এর লকিং নাটের কাজ বর্ণনা কর ।

রচনামূলক প্রশ্ন :

১. মাইক্রোমিটার ধ্রুব বের করার পদ্ধতি ব্যাখ্যা কর ।
২. আউট সাইড মাইক্রোমিটারের কার্যনীতি বর্ণনা কর ।
৩. আউটসাইড মাইক্রোমিটারের বিভিন্ন অংশের গঠন ও কার্যাবলী বর্ণনা কর ।

ডেপথ মাইক্রোমিটার (Depth Micrometer)

১৩.১ ডেপথ মাইক্রোমিটার পরিচিতি :

যে মাইক্রোমিটার দ্বারা সূক্ষ্মভাবে এক হাজার ভাগের একভাগ পর্যন্ত কোন যন্ত্রাংশের গভীরতা, ছিদ্র ও ঘাটের গভীরতা মাপা যায়, তাহাকে ডেপথ মাইক্রোমিটার বলে।



চিত্র-১৩.১ঃ ডেপথ মাইক্রোমিটার

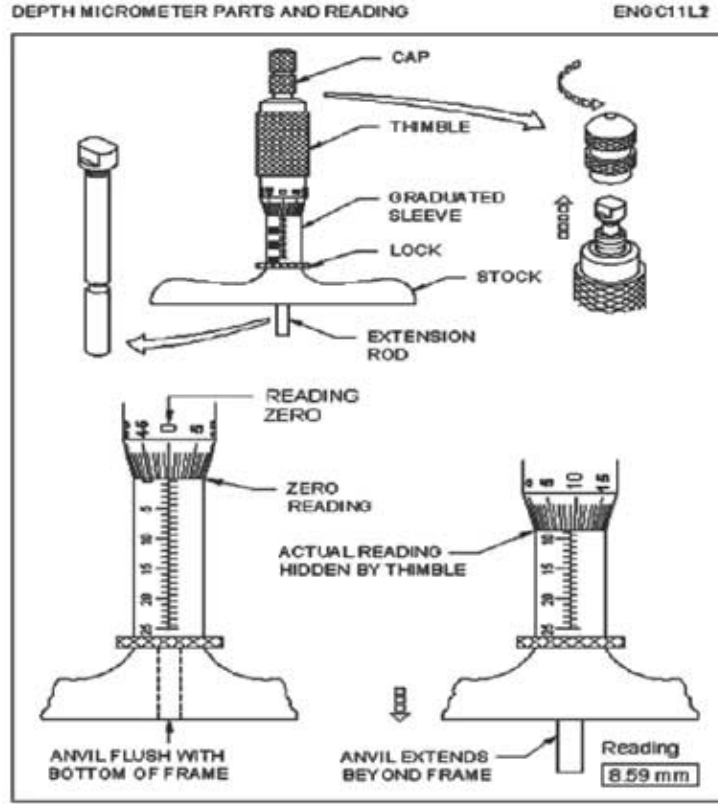
দুইটি তলের উচ্চতার পার্থক্য অর্থাৎ কোন বস্তুর গভীরতার মাপ গ্রহণ ও পরীক্ষা করতে ডেপথ মাইক্রোমিটার ব্যবহৃত হয়।

অন্যান্য মাইক্রোমিটারের ন্যায় ডেপথ মাইক্রোমিটারেও থিম্বল এবং ব্যারেল বা স্লিভের মাধ্যমে একই পদ্ধতিতে মাপ গ্রহণ করা হয়। স্লিভের নিচে দুইদিকের বর্ধিত বেইস বা ভূমির তলদেশ অর্থাৎ হেড (Head) কে ছিদ্র বা খাতের দুইদিকে সমভাবে বসাতে হবে। তারপর বাম হাতের আঙ্গুল দ্বারা হালকা চাপ প্রয়োগ করে ডান হাতে থিম্বলকে ঘুরিয়ে মাপ গ্রহণ করতে হবে। এ মাইক্রোমিটারে অ্যানভিল থাকে না এবং হেড এর তলদেশ ও স্পিডল বা রডের প্রান্ত দূরত্বকেই গভীরতা হিসেবে বিবেচনা করা হয় অর্থাৎ গভীরতার মাপ নির্দেশ করে।

১৩.২ ডেপথ মাইক্রোমিটারের বিভিন্ন অংশের নাম :

নিম্নের চারটি অংশ নিয়ে ডেপথ মাইক্রোমিটার গঠিত-

- ১) স্টক (Stock)
- ২) থিম্বল (Thimble)
- ৩) ব্যারেল বা স্লিভ (Barrel or Sleeve)
- ৪) এক্সটেনশন রড (Extension rod)
- ৫) র্যাচেট স্টপ (Ratchet stop)
- ৬) লক রিং (Lock ring)



চিত্র-১৩.২ঃ ডেপথ মাইক্রোমিটারের বিভিন্ন অংশ ও পাঠ নেওয়ার পদ্ধতি

১৩.৩ ডেপথ মাইক্রোমিটারের বিভিন্ন অংশের পঠন ও কর্মাবলী :

স্টক (Stock) : ইহা বস্তুর উপর স্থাপন করে ছিদ্রের বা নালীর গভীরতা মাপ করতে ব্যবহার হয়।

থিম্বল (Thimble) : ইহা কাঁশা সিলিন্ডার যার এক প্রান্ত চালু এবং সার্কুলার স্কেল যুক্ত।

স্লিভ বা ব্যারেল (Sleeve or Barrel) : ইহা একটা টিউবের মত যার অভ্যন্তরে ইন্টারনাল স্কেল যুক্ত এবং বাহিরের পোশাকার ভাগে স্কেল খচিত থাকে।

এক্সটেনশন রড (Extension rod) : ইহা থিম্বলের সাথে যুক্ত করে গভীরতা মাপ নিতে ব্যবহার হয়।

র্যাচটেট নব (Ratchet knob) : এটি অ্যানভিল বা এক্সটেনশন রড ওয়াক্সিসের ভল স্পর্শ করার সাথে সাথে স্লিভ বা ব্যারেলকে বিশেষ শব্দ করে থামিয়ে দেয়। ফলে ওয়াক্সিসের সঠিক গভীরতার মাপ পাওয়া যায়।

১৩.৪ ডেপথ মাইক্রোমিটার-এর সাহায্যে পরিমাপ গ্রহণ পদ্ধতি :

ইনসাইড মাইক্রোমিটারের মত থিম্বল ও ব্যারেল আছে। শুধু ব্যারেলের দাপের উপর যে সংখ্যা লেখা থাকে, তা অন্যান্য মাইক্রোমিটারের তুলনায় বিপরীত দিক থেকে অর্থাৎ উপর হতে সংখ্যাজলো লেখা থাকে। থিম্বলকে

যতই সামনের দিকে ঘুরান হয়, ততই মাপের পঞ্জীরতা বাড়তে থাকে। এই মাইক্রোমিটারে কতগুলি বর্ধিত আকারের দণ্ড ব্যবহার করা হয়। এই সব দণ্ড ডেপথ মাইক্রোমিটারের পিছনের দিকে স্ল্যাটে বুদ্ধ ক্যাপকে খুলে লাগানো হয়। এটি ব্যবহারের সময় স্টকের উপর বাম হাতের আঙ্গুল দ্বারা হালকা চাপ প্রয়োগ করে ডান হাতে খিমলকে ঘুরাতে হয়।



চিত্র-১৩.৩৪ ডেপথ মাইক্রোমিটার এর সাহায্যে পরিমাপ গ্রহণ পদ্ধতি।

এই মাইক্রোমিটারের আকারের পাল্লা (Range) হিসাবে বিভিন্ন সৈর্যের দণ্ড দেওয়া থাকে। যেমন- ০-৩ ইঞ্চি আকারের ডেপথ মাইক্রোমিটারের তিনটি দণ্ড, ০-৬ ইঞ্চিতে ৬টি দণ্ড এবং ০-৯ ইঞ্চিতে ৯টি দণ্ড থাকে। প্রত্যেকটি দণ্ড নিজস্ব লম্বা আকারের সাথে অধিক ইঞ্চি লম্বা থাকে, তা শুধু খিমলের ভিতরে থাকার জন্য। এই দণ্ডগুলি ক্রম ইঙ্গিত দিয়ে সুপার কিনিশিং করে তৈরি করা হয়। ডেপথ মাইক্রোমিটারের সাহায্যে এক ইঞ্চির এক হাজার ভাগের এক ভাগ পর্যন্ত সূক্ষ্মতার পরিমাপ করা যায়।



চিত্র-১৩.৪৪ ডেপথ মাইক্রোমিটার এর সাহায্যে বস্তুটির ভিতরের পঞ্জীরতা মাপার কৌশল।

১৩.৫ ডেপথ মাইক্রোমিটারের যত্ন ও রক্ষণাবেক্ষণ :

ডেপথ মাইক্রোমিটার একটি সূক্ষ্ম যন্ত্র। ইহা খুব সাবধানে ও যত্ন সহকারে ব্যবহার করবে। ব্যবহার করার পূর্বে ইহাকে ভালোভাবে পরিষ্কার করে নিতে হয়। ডেপথ মাইক্রোমিটারের কোন অংশে বাত্রে মরিচা না পড়ে সেজন্য এটির বাহিরে এবং ভিতরের স্ক্রু-থ্রেডে এবং এক্সটেনশন রডে কিছু দিন পর পর মসৃণ কারক তৈল সিতে হবে। প্রতিবার কাজ শেষে নির্দিষ্ট স্থানে অর্থাৎ নির্ধারিত বাক্সে সংরক্ষণ করতে হবে।

অনুশীলনী-১৩

অতিসংক্ষিপ্ত প্রশ্ন :

১. ডেপথ মাইক্রোমিটার কী ?
২. ডেপথ মাইক্রোমিটার-এর কয়টি অংশ আছে ?
৩. ডেপথ মাইক্রোমিটার -এর বিভিন্ন অংশগুলির নাম লেখ।

সংক্ষিপ্ত প্রশ্ন :

১. চিত্রসহ ডেপথ মাইক্রোমিটার -এর বিভিন্ন অংশগুলির নাম লেখ।
২. ডেপথ মাইক্রোমিটার কত প্রকার ও কী কী ?
৩. ডেপথ মাইক্রোমিটার-এর ব্যারেলের গঠন বর্ণনা কর।
৪. ডেপথ মাইক্রোমিটার-এর থিম্বলের গঠন বর্ণনা কর।
৫. ডেপথ মাইক্রোমিটার-এর র্যাচেট স্টপের সুবিধা বর্ণনা কর।
৬. ডেপথ মাইক্রোমিটার-এর এক্সটেনশন রডের কাজ বর্ণনা কর।

রচনামূলক প্রশ্ন :

১. ডেপথ মাইক্রোমিটার বলতে কী বোঝায় ? ডেপথ মাইক্রোমিটারের বিভিন্ন অংশের নাম লেখ।
২. ডেপথ মাইক্রোমিটারের বিভিন্ন অংশের গঠন ও কার্যাবলী বর্ণনা কর।
৩. ডেপথ মাইক্রোমিটার-এর সাহায্যে পরিমাপ গ্রহণ পদ্ধতি বর্ণনা কর।
৪. ডেপথ মাইক্রোমিটারের যত্ন ও রক্ষণাবেক্ষণ পদ্ধতি বর্ণনা কর।

অধ্যায়-১৪

বিভেল প্রোট্রাক্টর (Bevel Protractor)

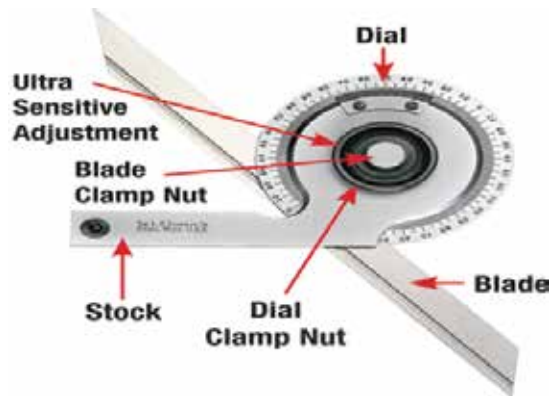
১৪.১ বিভেল প্রোট্রাক্টর পরিচিতি :

এটা এক প্রকার কৌণিক মাপন যন্ত্র যার সাহায্যে 1° সূক্ষ্মতায় যে কোন কোণ পরিমাপ এবং নিরীক্ষা করা যায়। প্রোট্রাক্টরের হেড ব্লড বরাবর মুক্তভাবে স্লাইড করতে পারে এবং অর্ধ বৃত্তাকার ডিস্কে 0° থেকে 90° পর্যন্ত উভয় দিকে 1° করে দাগ কাটা থাকে। প্রোট্রাক্টরের স্পিরিট লেভেলের সাহায্যে কৌণিক বা ঢালু তলের লেবেল পরীক্ষা করা যায়। প্রয়োজনে ব্লড অংশের সাহায্যে সাধারণ দৈর্ঘ্যের মাপও নেওয়া যায়।



১৪.২ বিভেল প্রোট্রাক্টর-এর বিভিন্ন অংশের নামঃ

একটি বিভেল প্রোট্রাক্টরের বিভিন্ন অংশ নিম্নের চিত্রের সাহায্যে দেখানো হলো-



চিত্র-১৪.২ঃ বিভেল প্রোট্রাক্টরের বিভিন্ন অংশ।

- ১) প্রোট্রাক্টর হেড বা স্টক (Protractor Head or Stock)
- ২) ডায়াল (Dial)
- ৩) ব্লড (Blade)
- ৪) ব্লড ক্ল্যাম্প নাট (Blade Clamp Nut)
- ৫) ডায়াল ক্ল্যাম্প নাট (Dial Clamp Nut)
- ৬) আলট্রা সেনসিটিভ অ্যাডজাস্টমেন্ট (Ultra Sensitive Adjustment)

প্রোট্র্যাক্টর হেড বা স্টক (Protractor Head or Stock) :

এটি বিভেল প্রোট্র্যাক্টরের প্রধান অংশ। অন্যান্য অংশসমূহ এই অংশের উপর ভিত্তি করে গঠিত। প্রোট্র্যাক্টরের উপর অর্ধবৃত্তাকার ডিস্কে ০° থেকে ৯০° পর্যন্ত উভয় দিকে ১° করে দাগ কাটা থাকে। তাছাড়া এতে স্পিরিট লেভেল আছে। কাজেই এটির সাহায্যে স্পিরিট লেভেলের কাজ করা যায় এবং স্পিরিট লেভেল ব্যবহার করে শুধু প্রোট্র্যাক্টর হেড দিয়েও কোন কোণের পরিমাপ জানা যায় বা কার্যবস্তুর নির্দিষ্ট কোণে স্থাপন করা যায়। প্রোট্র্যাক্টর হেড দুইটি অংশে বিভক্ত। এক অংশে ইন্ডিকেটিং লাইন আছে যা শূন্য দ্বারা চিহ্নিত করা এবং অপর অংশে ডিগ্রির ভাগে দাগাঙ্কিত থাকে। এই দুই অংশের সমন্বয়ে আমরা মাপ পাই।

ব্লেড (Blade) :

এটি একটি স্টিল রুলার যার উপর রৈখিক মাপ মি.মি. বা ইঞ্চিতে দাগ কাটা থাকে। ফলে এর সাহায্যে স্টিল রুলারের কাজ করা যায়। তাছাড়া ব্লেডের লম্বালম্বি বরাবর একটি গ্রন্থ বা খাঁজ কাটা থাকে। এই খাঁজের সাহায্যে ব্লেড প্রোট্র্যাক্টরের সাথে স্লাইডিং (Sliding) বা নড়াচড়া করতে পারে।

ব্লেড ক্ল্যাম্প নাট (Blade Clamp Nut) :

ক্ল্যাম্প নাট সংযুক্ত স্ক্রু এর সাহায্যে ব্লেডকে প্রোট্র্যাক্টর হেডের সাথে যুক্ত করে রাখে। নাটের মধ্যে একটি স্প্রিং থাকে যা ব্লেডকে প্রয়োজনীয় দৈর্ঘ্যে সেট করার সময় নাট, ব্লেড এবং হেডের মধ্যে সমন্বয় রক্ষা করে।

ডায়াল ক্ল্যাম্প নাট (Dial Clamp Nut) :

প্রোট্র্যাক্টর হেডের সাথে ডায়ালটি এই ক্ল্যাম্প নাট দ্বারা সংযুক্ত থাকে। এটি প্রোট্র্যাক্টর হেডের দুইটি অংশকে সংযুক্ত করে রাখে। বিভিন্ন কোণে প্রোট্র্যাক্টরকে সেট করতে হলে ডায়াল ক্ল্যাম্প নাটটি টিলা করা হয় এবং প্রয়োজনীয় ডিগ্রির সাথে শূন্য দাগাঙ্কিত রেখাকে মিলিয়ে আবার ক্ল্যাম্প নাট-কে টাইট করে দিতে হয়। ফলে সেট করা মাপের হেরফের হয় না।

১৪.৩ বিভেল প্রোট্র্যাক্টরের পরিমাপ পদ্ধতি :

(১) কোন কার্যবস্তুর কোণের পরিমাণ সরাসরি জানতে হলে ক্ল্যাম্প স্ক্রু টিলা করে প্রোট্র্যাক্টরকে কার্যবস্তুর উপর স্থাপন করতে হবে এবং যে দুইটি তল দ্বারা কোণ গঠিত উক্ত তল দুইটিকে প্রোট্র্যাক্টরের তলের সাথে এমনভাবে স্থাপন করতে হবে যাতে কোন প্রকার ফাঁক বা বিচ্যুতি না থাকে। সঠিকভাবে ক্ল্যাম্পের স্ক্রু -কে টাইট দিতে হবে এবং ইন্ডিকেটিং লাইন সংযুক্ত দাগাঙ্কিত রেখা কোণের পরিমাপ নির্দেশ করে।

(২) কোন কার্যবস্তুর নির্দিষ্ট কোণ পরিমাপ করতে প্রোট্র্যাক্টরের সঠিক কোণে সেট করে কার্যবস্তুতে স্থাপনের পর যদি কোন ফাঁক বা বিচ্যুতি থাকে তবে ফিলার গেজের ব্লেড কার্যবস্তু এবং প্রোট্র্যাক্টরের মধ্যে স্থাপন করে ত্রুটির পরিমাণ নিরীক্ষা করা যায়।

(৩) ঢালু তলের কোণের পরিমাণ নির্ণয়ে প্রোট্র্যাক্টরের সাথে অতিরিক্ত ব্লেড ব্যবহারের প্রয়োজন হয় না। প্রোট্র্যাক্টর কৌণিক বা ঢালু তলে স্থাপনের পর স্পিরিট লেভেলকে এরূপে ঘুরানো হয় যতক্ষণ না লেভেল সঠিকভাবে অনুভূমিক তলে অবস্থান করে। এমন অবস্থায় প্রোট্র্যাক্টর স্কেল থেকে সরাসরি কোণের মান পাঠ করে ঢালুর পরিমাপ নির্ণয় করা যায়। প্রোট্র্যাক্টরের সাহায্যে ০° থেকে ৯০° পর্যন্ত কোণ সরাসরি মাপা যায়। কিন্তু কোণের মাপ ৯০° থেকে বেশি হলে ১৮০° হতে পাঠকৃত মান বিয়োগ করে প্রকৃত মাপ পাওয়া যায়।

১৪.৪ বিভেল প্রোট্রাক্টরের যত্ন ও রক্ষণাবেক্ষণ :

- ১) নির্দিষ্ট বাস্ক হতে নিয়ে কাজ করে পুনরায় নির্দিষ্ট বাস্কে রাখতে হবে।
- ২) ব্যবহারের পূর্বে এবং পরে ভালোভাবে পরিষ্কার করে নিবে।
- ৩) কাজ করার সময় ইহাকে খালি জায়গায় না রেখে পরিষ্কার কাপড় বা কাগজের উপর রাখতে হবে।
- ৪) খোলা অবস্থায় অন্যান্য যন্ত্রের সাথে রাখবে না।
- ৫) মরিচা যাতে না পড়ে, তার জন্য কটন ওয়েস্ট দিয়ে ভালোভাবে মুছে তৈলের পাতলা আবরণ দিয়ে রাখতে হবে।
- ৬) স্লাইডিং হেডকে নিয়মিত পরিষ্কার করে লুব্রিকেটিং ব্যবহার করতে হবে।
- ৭) প্লাঞ্জার গাইড যেন আঘাত প্রাপ্ত না হয় সেদিকে বিশেষ দৃষ্টি রাখতে হবে, যেহেতু এই গাইড ব্লেডের ক্ষেত্রে সর্বদা সমন্বয় করে অন্যান্য অংশকে পরিচালিত করে।

অনুশীলনী-১৪

অতিসংক্ষিপ্ত প্রশ্ন :

১. বিভেল প্রোট্রাক্টর কী ?
২. বিভেল প্রোট্রাক্টর কী কাজে ব্যবহৃত হয় ?
৩. ক্ল্যাম্প নাট কী কাজে ব্যবহৃত হয় ?
৪. বিভেল প্রোট্রাক্টর-এর সূক্ষ্মতামাত্রা কত ডিগ্রি ?
৫. বিভেল প্রোট্রাক্টর এর স্পিরিট লেভেল কোন কাজে ব্যবহার করা হয় ?
৬. প্লাঞ্জার গাইড কী ?
৭. বিভেল প্রোট্রাক্টর এর ব্যবহারের সময় বিচ্যুতি নিরীক্ষা করার কাজে কী গেজ ব্যবহার করা হয় ?

সংক্ষিপ্ত প্রশ্ন :

১. বিভেল প্রোট্রাক্টর বলতে কী বোঝায় ?
২. বিভেল প্রোট্রাক্টরের বিভিন্ন অংশের নাম লেখ।
৩. ব্লেডের কাজ বর্ণনা কর।
৪. ক্ল্যাম্প নাটের কাজ বর্ণনা কর।
৫. ক্ল্যাম্প স্ক্রু এর কাজ বর্ণনা কর।

রচনামূলক প্রশ্ন :

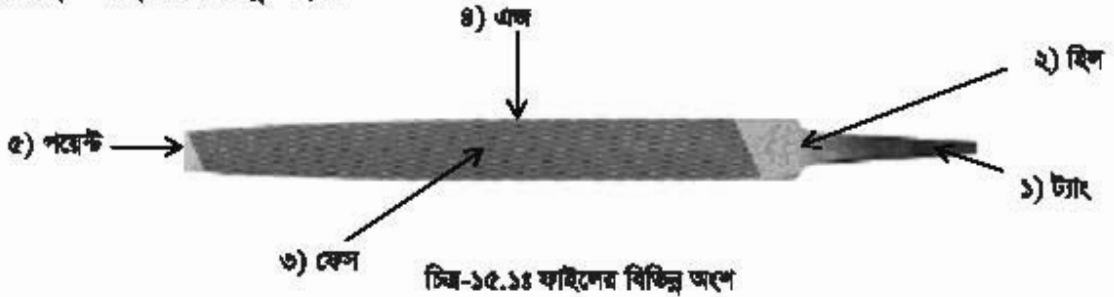
১. বিভেল প্রোট্রাক্টরের বিভিন্ন অংশসমূহের নাম লেখ এবং উহাদের কার্যাবলী সংক্ষেপে বর্ণনা কর।
২. বিভেল প্রোট্রাক্টরের পরিমাপ পদ্ধতি বর্ণনা কর।
৩. বিভেল প্রোট্রাক্টরের যত্ন ও রক্ষণাবেক্ষণ পদ্ধতি উল্লেখ কর।

ফাইল (File)

১৫.১ ফাইলের পরিচিতি :

ফাইল এক প্রকার হস্ত চালিত কাটার যন্ত্র (Hand Cutting Tool) যা কোন কার্যবস্তু বা যন্ত্রাংশের তলের উপরিভাগের অতিরিক্ত খালু গুড়া আকারে ক্ষয় করে নির্দিষ্ট আকার এবং আকৃতিতে আনার কাজে ব্যবহৃত হয়। হাতের কাজের মধ্যে সবচেয়ে দরকারী এবং গুরুত্বপূর্ণ কাজ হলো ফাইলের কাজ। যে কোন মেকানিক বা টেকনিশিয়ানকে কর্মজীবনের প্রথমেই ফাইলিং শিখতে হয়। ফাইলের কাজে দক্ষতা অর্জন করতে হলে ধৈর্য ও অধ্যবসায়ের সাহায্যে দীর্ঘ দিন অনুশীলন করতে হয়। হাই কার্বন স্টিল বা টুল স্টিল দিয়ে ফাইল তৈরি করা হয়। ফাইলের উপরিভাগে দাঁত কাটা থাকে এবং এই দাঁতের সাহায্যে ফাইল কোন বস্তুকে ক্ষয় করে বা যবে যবে কাটে। ফাইলের দাঁতগুলি উপযুক্তভাবে হার্ডেনিং এবং টেম্পার করা থাকে, ফলে দাঁতগুলির খার সহজে নষ্ট হয় না। ফাইলের প্রধান অংশ দুইটি- একটির নাম ব্লড বা বডি আর অন্যটির নাম ট্যাং। এই ট্যাং অংশটিই হাতলের মধ্যে ঢুকানো থাকে। ফাইলের সম্মুখ বা মাথার দিককে ফেস এবং পালের দিককে এজ বলা হয়। ট্যাং এর কাছাকাছি জায়গার নাম হিল।

১৫.২ ফাইলের বিভিন্ন অংশ :



ফাইলের বিভিন্ন অংশগুলো হলো -

- ◆ ট্যাং (Tang)
- ◆ হিল (Heel)
- ◆ ফেস (Face)
- ◆ এজ (Edge)
- ◆ পয়েন্ট (Point)

১৫.৩ ফাইলের শ্রেণিবিন্যাস :

বিভিন্ন বিষয়ের উপর ভিত্তি করে ফাইলকে শ্রেণিবিন্যাস করা হয়ে থাকে। বর্ধা-


(ক) ফাইলের আকৃতি অনুসারে ফাইল নিম্নলিখিত প্রকারের হয়ে থাকে :

- ১) ফ্ল্যাট ফাইল (Flat File)
- ২) স্কয়ার ফাইল (Square File)

- ৪) রাউন্ড ফাইল (Round File)
- ৫) হাফ রাউন্ড ফাইল (Half Round File)
- ৬) ট্রাই-এঙ্গুলার ফাইল (Triangular File)
- ৭) পিলার ফাইল (Pillar File)
- ৮) মিল ফাইল (Mill File)
- ৯) ক্রোচেট বা কটার ফাইল (Crochet or Cotter File)
- ১০) ক্রসিং ফাইল (Crossing File)
- ১১) ওয়ার্ডিং ফাইল (Warding File)
- ১২) ব্যারট ফাইল (Barret File)
- ১৩) নাইফ ফাইল (Knife File)
- ১৪) জয়েন্ট রাউন্ড এজ ফাইল (Joint Round Edge File)
- ১৫) চেকারিং ফাইল (Checkering File)
- ১৬) পিপিং ফাইল (Pippin File)
- ১৭) স্লিটিং ফাইল (Slitting File)
- ১৮) নিডল ফাইল (Needle File)
- ১৯) ভিক্সেন বা ড্রেড নট ফাইল (Vixen File or dread Naught File)
- ২০) রাম্প ফাইল (Ramp File)

(খ) কাইলের খেঁচ অনুসারে কাইলের শ্রেণিবিভাগ :

১. রাফ ফাইল (Rough File)
২. বাস্টার্ড ফাইল (Bastard File)
৩. সেকেন্ড কাট ফাইল (Second Cut File)
৪. স্মুথ ফাইল (Smooth File)
৫. ডেড স্মুথ ফাইল (Dead Smooth File)



চিত্র-১৫.২ঃ স্মুথ, সেকেন্ড কাট এবং বাস্টার্ড কাইল

(গ) কাট অনুসারে কাইলের শ্রেণিবিভাগ :

১. সিঙ্গেল কাট ফাইল
২. ডবল কাট ফাইল



চিত্র-১৫.৩ঃ ডবল কাট ফাইলের দাঁত

(খ) এছের আকৃতি অনুসারে ফাইলের প্রকারভেদঃ

১. ভ্রাণ্ট ফাইল (Bhunt File)
২. টেপার ফাইল (Taper File)

(গ) সেক এজ ফাইল (Safe Edge File)

(ঙ) ডায়মন্ড ফাইল (Diamond File)

১৫.৪ বিভিন্ন প্রকার ফাইলের পঠন :

(১) ফ্ল্যাট ফাইল (Flat File) :

এর আকৃতি ত্রুশন সরা (Taper) এবং পাতলা থাকে। সৈর্ঘ্যে এটা ৫০ মি.মি. ক্রমে বর্ধিত হয়ে ১৫০ মি.মি. থেকে ৪৫০ মি.মি. পর্যন্ত হয়। এটার ফেস ডবল কাট এবং এজ সিঙ্গেল কাট বিশিষ্ট হয়। এই ফাইল সকল স্কেলের হয়ে থাকে।



চিত্র-১৫.৪ঃ ফ্ল্যাট ফাইল

(২) হ্যান্ড ফাইল (Hand File) :

এর প্রস্থ সমান হয় এবং পুরুত্ব পয়েন্টের দিকে টেপার থাকে। এটার ফেস ডবল কাট এবং একটি পার্শ্ব দাঁত শূন্য থাকে বিধায় এটি সেক এজ বিশিষ্ট হয়। সৈর্ঘ্যে এটা ৫০ মি.মি. ক্রমে বর্ধিত হয়ে ১৫০ মি.মি. থেকে ৪০০ মি.মি. পর্যন্ত হয়।



চিত্র-১৫.৫ঃ হাত ফাইল

(৩) মিল ফাইল (Mill File) :

এটা লিম্বেল কাট বিশিষ্ট এবং সাধারণত ১৫০ মি.মি. থেকে ৩০০ মি.মি. পর্যন্ত দীর্ঘ হয়। এটা টেম্পার এবং ব্লাইট উভয় প্রকারই হয়। এক বা প্রান্তভাগের ফ্ল্যাট বা পোলাকাঁর হতে পারে। এটি বান্টার্ড এবং সেকেন্ড কাট প্রেডে পাওয়া যায়।



চিত্র-১৫.৬ঃ মিল ফাইল

(৪) পিলার ফাইল (Pillar File) :

এই ফাইলের এক প্রান্তে অশেফাকৃত কম এবং পুরুত্ব অশেফাকৃত বেশি। পুরুত্ব বা বেধ ক্রমশঃ পরেটের দিকে টেম্পার হয়। এর একটি পার্শ্ব বা উভয় পার্শ্ব দাঁত বিহীন থাকে। এই ফাইল দৈর্ঘ্যে সাধারণত ২০০ মি.মি. থেকে ৩০০ মি.মি. পর্যন্ত হয়ে থাকে। পিলার ফাইল স্নাক এবং সেকেন্ড কাট প্রেডে বিশিষ্ট হয়ে থাকে।



চিত্র-১৫.৭ঃ পিলার ফাইল

(৫) ক্রোচেট বা কটার ফাইল (Crochet or Cotter File) :

এই ধরনের ফাইলের প্রস্থ সমান এবং বেধ বা পুরুত্ব পয়েন্টের দিকে টেলার হয়। এটি ডবল কাট বিশিষ্ট এবং পার্শ্ব দুইটি গোলাকার হয়ে থাকে। এই ফাইল সেকেন্ড কাট এবং শ্লুথ থ্রেড বিশিষ্ট হয়ে থাকে। এগুলো সাধারণত দৈর্ঘ্যে ১০০ মি.মি. থেকে ২০০ মি.মি. পর্যন্ত হয়ে থাকে।



চিত্র-১৫.৭ঃ ক্রোচেট বা কটার ফাইল

(৬) রাউন্ড ফাইল (Round File) :

গোলাকার প্রস্থচ্ছেদ বিশিষ্ট ফাইলকে রাউন্ড ফাইল বলা হয়। ফাইলের দৈর্ঘ্যের উপর ব্যাস নির্ভর করে। দৈর্ঘ্য বাড়লে ব্যাস বাড়ে এবং দৈর্ঘ্য কমলে ব্যাস কমে। যেমন- ১০০ মি.মি. দৈর্ঘ্য বিশিষ্ট রাউন্ড ফাইলের ব্যাস ২ মি.মি. হয়ে থাকে আবার ৪৫০ মি.মি. দৈর্ঘ্য বিশিষ্ট রাউন্ড ফাইলের ব্যাস ২২ মি.মি. হয়ে থাকে। এই ধরনের ফাইল সিঙ্গেল কাট ও ডবল কাট উভয় প্রকারেরই হয়ে থাকে। এর উপরিভাগের দাঁতগুলো ফ্লু-এর ন্যায় মুদানো থাকে এবং একদিক থেকে কাটা থাকে।



চিত্র-১৫.৮ঃ রাউন্ড ফাইল

(৭) হাফ রাউন্ড ফাইল (Half Round File) :

হাফ রাউন্ড অর্ধ অর্ধ গোলাকার। নামে এটি অর্ধগোলাকার হলেও প্রকৃতপক্ষে এটির প্রস্থচ্ছেদ সম্পূর্ণ অর্ধগোলাকার নয়, গোলকের একটি অংশ মাত্র। প্রস্থচ্ছেদের ব্যাসার্ধ ফাইলের দৈর্ঘ্যের উপর নির্ভর করে। ফলে বিভিন্ন দৈর্ঘ্যের ফাইলের ব্যাসার্ধ বিভিন্ন মাপের হয়ে থাকে। এই জন্য কোন গোলাকার ছিদ্রের ভিতরে কাইলিং করার জন্য ঐ ছিদ্রের ব্যাস অনুযায়ী উপযুক্ত দৈর্ঘ্যের ফাইল নির্বাচন করতে হয়। হাফ রাউন্ড ফাইল ১০০ মি.মি. হতে ৪৫০ মি.মি. দৈর্ঘ্য বিশিষ্ট হয়ে থাকে এবং সাধারণত এর অগ্রভাগ ক্রমশ সরু হয়ে থাকে। এটি সকল থ্রেডের হয়ে থাকে। সেকেন্ড কাট এবং শ্লুথ থ্রেডের জন্য এটির গোলাকার উপরিভাগ সিঙ্গেল কাট কিন্তু সমতল উপরিভাগ ডবল কাট বিশিষ্ট থাকে।



চিত্র-১৫.৯ঃ হাফ রাউন্ড ফাইল

(৮) স্কয়ার ফাইল (Square File) :

এই ফাইল টেপার এবং ব্লান্ট উভয় প্রকারেরই হয়ে থাকে। টেপার শ্রেণির স্কয়ার ফাইল ১০০ মি.মি. থেকে ৪৫০ মি.মি. পর্যন্ত এবং ব্লান্ট শ্রেণি ২৫০ মি.মি. থেকে ৫০০ মি.মি. পর্যন্ত দীর্ঘ হয়ে থাকে। উভয় শ্রেণিই ডবল কাট বিশিষ্ট হয়ে থাকে এবং প্রস্থচ্ছেদ বর্গাকার হয়ে থাকে। সেফ এজ বা এক পাশ দাঁত শূন্য স্কয়ার ফাইলও পাওয়া যায়। স্কয়ার ফাইল সকল গ্রেডের হয়ে থাকে।



চিত্র-১৫.১০ঃ স্কয়ার ফাইল

(৯) ট্রাই-এঙ্গুলার ফাইল (Triangular File) :

এই ধরনের ফাইলের প্রস্থচ্ছেদ ত্রিকোণাকার এবং পয়েন্টের দিকে টেপার হয়। এটি সিঙ্গেল ও ডবল কাট উভয় প্রকারেরই হয়ে থাকে। এটি ১০০ মিমি থেকে ৪০০ মিমি পর্যন্ত দীর্ঘ হয়। বাসটার্ড এবং সেকেন্ড কাট গ্রেড বিশিষ্ট ট্রাই-এঙ্গুলার ফাইল বেশি ব্যবহৃত।

ফর্মা-১২, মেশিন টুলস অপারেশন-১, ৯ম-১০ম শ্রেণি



চিত্র-১৫.১১ঃ ট্রাই-এঙ্গলার ফাইল

(১০) ডিকেন বা ড্রেড নট ফাইল (Vixen File or Dread Naught File) :

এই ধরনের ফাইলের কেস সমতল এবং দাঁতগুলি বক্রাকার ভাবে কাটা থাকে। এটির সুবিধা এই যে, ফাইল চালনা করার সময় খাত্তূর্ন দাঁতের মধ্যে আবদ্ধ না থেকে অতি সহজে বেয় হয়ে আসে। সীসা, ব্যাটিং বেটাল, ব্রাস, কপার, অ্যালুমিনিয়াম ইত্যাদি বিভিন্ন ধরনের খাত্তূ কর করার কাজে এবং লেন মেশিনে গোলাকার বস্তুরকে উন্নতরূপে মসূণ করতে এই ফাইল ব্যবহৃত হয়।



চিত্র-১৫.১২ঃ ডিকেন ফাইল

(১১) নাইফ ফাইল (Knife File) :

এই ফাইল ডবল কাট বিশিষ্ট হয়। এর পঠন ছুরির ন্যায় কলে একে নাইফ ফাইল বলা হয়। এটির এক পার্শ্ব পাতলা এবং অপর পার্শ্ব মোটা। এহু এবং পুরুত্ব পরোক্ষের দিকে ক্রমশ টেপার হয়ে করতে থাকে। এটি ১৫০ মি.মি. থেকে ৩০০ মি.মি. পর্যন্ত দীর্ঘ হয় এবং এর শূধ গ্রেড ৩ সেকেন্ড কাট গ্রেডের ফাইলই বেশি ব্যবহৃত হয়।



চিত্র-১৫.১৩ঃ নাইফ ফাইল

(১২) ওয়ার্ডিং ফাইল (Warding File) : এই ধরনের ফাইল খুব পাতলা ও ডবল কাট বিশিষ্ট হয়ে থাকে। এটির অগ্রভাগ পরেরটির দিকে ক্রমশ সরু হয়ে থাকে। চাবি তৈরিতে, খাঁজ কাটার কাজে ওয়ার্ডিং ফাইল ব্যবহার করা হয়।



চিত্র-১৫.১৩: ওয়ার্ডিং ফাইল

(১৩) নিডল ফাইল (Needle File) এটি হাতলসহ সূক্ষ্ম এবং হালকা ফাইল। এটির অপর নাম স্ক্রোলার্স ফাইল। সাধারণতঃ এটি ৭৫ মি.মি. হতে ১৫০ মি.মি. পর্যন্ত দীর্ঘ হয়।



চিত্র-১৫.১৪: নিডল ফাইল

(১৪) রাম্প ফাইল (Ramp File) : এর অপর নাম ক্যাবিনেট ফাইল। এর দাঁতগুলি মোটা, খাড়া এবং পরস্পর অনুল্লগ্ন। এর একটি কেস সমতল এবং অন্যটি উত্তোলিত এবং গোলাকার। এর দৈর্ঘ্য সাধারণতঃ ১৫০ মি.মি. থেকে ৪০০ মি.মি. পর্যন্ত হয়ে থাকে।



চিত্র-১৫.১৫ঃ ডায়মন্ড ফাইল

(১৫) ডায়মন্ড ফাইল (Diamond File) : এই ধরনের ফাইলে দাঁতের পরিবর্তে কৃত্রিম হীরার ভূড়া (small particles of industrial diamonds) ফাইলের উপরিতলে শক্তিশালী অ্যাডেসিভ ম্যাট্রিক্স দ্বারা লাগানো থাকে। ফলে যে সব শক্ত পদার্থের ওয়াকপিস যেমন পাথর, কাঁচ অথবা শক্ত মেটাল যেমন হার্ডেন্ড স্টিল বা কার্বাইড স্টিল দিয়ে তৈরি যেখানে সাধারণ ফাইল এদের উপর কোন কাজ করতে পারে না, সে ক্ষেত্রে ডায়মন্ড ফাইল একান্ত কার্যকরী।



চিত্র-১৫.১৬ঃ ডায়মন্ড ফাইল

১৫.৫ বিভিন্ন প্রকার ফাইলের ব্যবহার :

- (১) ফ্ল্যাট ফাইল (Flat File) : সাধারণ ওয়াকপিসের তল থেকে দ্রুত খাত্ত অপসারণ করতে এবং ব্রাক ফাইলিং এর কাজে ফ্ল্যাট ফাইল ব্যবহৃত হয়। ওয়াকপিসের তল সমতল করতেও ফ্ল্যাট ফাইল ব্যবহৃত হয়।
- (২) হ্যান্ড ফাইল (Hand File) : সমকোণে অবস্থিত সল্লিহিত তলের একটিকে অক্ষত রেখে অপরটিকে মসৃণ করতে এই ফাইল ব্যবহৃত হয়। ফিড মার্ক দূরীভূত করতে এবং ওয়াকপিসের তলকে সমতল করতে বা মসৃণ করতে এই ফাইল ব্যবহৃত হয়।
- (৩) মিল ফাইল (Mill File) : লেনওরার্কের তল মসৃণ করতে, দ্বি ফাইলিং করতে এবং ব্রাস ও ব্রোঞ্জের ওয়াকপিসের উপর ফাইলিং করতে এই ফাইল ব্যবহৃত হয়।
- (৪) পিলার ফাইল (Pillar File) : কম প্রশস্ত তল, চাবির ঘাট, গ্রন্থ, স্লট ইত্যাদি ফাইলিং করতে পিলার ফাইল ব্যবহৃত হয়।

(৫) **ক্রোচেট বা কটার ফাইল (Crochet or Cotter File) :** সমতল এবং বাঁকানো তলের সংযোগ স্থলে ধাতু কেটে মসৃণ করার জন্য এই ফাইল ব্যবহার করা হয়। তাছাড়া গোলাকার প্রান্ত বিশিষ্ট স্লটে ফাইলিং করে মসৃণ করার কাজেও এই ফাইল ব্যবহার করা হয়।

(৬) **রাউন্ড ফাইল (Round File) :** এই ফাইল গোলাকার তল ফাইলিং করতে এবং গোলাকার গর্ত বড় করতে ব্যবহৃত হয়। তাছাড়া ছোট রাউন্ড ফাইল দ্বারা বিয়ারিং এর তৈল নালী তৈরি করা যায়।

(৭) **হাফ রাউন্ড ফাইল (Half Round File) :** গোলাকার তল বিশিষ্ট ওয়াকপিস ফাইলিং করতে, গ্রেন্ডের কর্ণার তীক্ষ্ণ করতে এবং সমতল ফাইলিং করতে রাউন্ড ফাইল ব্যবহৃত হয়।



চিত্র-১৫.১৭ঃ হাফ রাউন্ড ফাইলের ব্যবহার

(৮) **স্কয়ার ফাইল (Square File) :** বর্গাকার এবং আয়তাকার ছিদ্রের কোণা এবং তল মসৃণ করতে, বর্গাকার ও আয়তাকার ছিদ্র বড় করতে, যে সকল স্থলে হ্যান্ড ফাইল প্রবেশ করিয়ে কাজ করতে অসুবিধা হয় সেই স্থলে ফাইলিং করতে স্কয়ার ফাইল ব্যবহৃত হয়।

(৯) **ট্রাই-এঙ্গুলার ফাইল (Triangular File) :** ৯০° থেকে কম এবং ৬০° থেকে বেশি প্রকার কোণ বিশিষ্ট স্থানকে সমতল করতে এই প্রকার ফাইল বেশি উপযোগী। ট্যাপ, কটার, করাতের দাঁত, ডি-থ্রেড, স্ট এবং চাবির ঘাট ফাইলিং করতে এই ফাইল ব্যবহৃত হয়।

(১০) **ভিক্সেন বা ড্রেড নট ফাইল (Vixen File or Dread Naught File) :** সীসা, ব্যাবিট মেটাল, ব্রাস, কপার, অ্যালুমিনিয়াম ইত্যাদি বিভিন্ন নরম ধাতু ক্ষয় করার কাজে এবং লেদ মেশিনে গোলাকার বস্তুকে উত্তমরূপে মসৃণ করতে এই ফাইল ব্যবহৃত হয়।

(১১) **নাইফ ফাইল (Knife File) :** এ ধরনের ফাইল সরু স্লট, গিয়ারের দাঁত এবং খুব কম কোণ বিশিষ্ট পার্শ্বভাগকে ক্ষয় করতে ব্যবহৃত হয়।

(১২) **ওয়ার্ডিং ফাইল (Warding File) :** চাবি তৈরিতে, খাঁজ কাটার কাজে ওয়ার্ডিং ফাইল ব্যবহৃত হয়।

(১৩) **নিডল ফাইল (Needle File) :** জুয়েলারির কাজে স্বর্ণকারেরা এই ফাইল খুব বেশি ব্যবহার করে থাকে। সূক্ষ্ম এবং সূক্ষ্ম কার্যবস্তু ফাইলিং করতে এবং মেরামতের কাজে এই ফাইল ব্যবহৃত হয়।

(১৪) **রাম্প ফাইল (Ramp File) :** কাঠ এবং নরম ধাতু ফাইলিং করতে এই ফাইল খুবই উপযোগী।

(১৫) **ডায়মন্ড ফাইল (Diamond File) :** এই ধরনের ফাইলে অতি সূক্ষ্ম যন্ত্রাংশের ফিনিশিং এর কাজে ব্যবহার করা হয়। যে সব শক্ত পদার্থের ওয়াকপিস যেমন পাথর, কাঁচ অথবা শক্ত মেটাল যেমন হার্ডেন্ড স্টিল

বা কার্বাইড স্টিল দিয়ে তৈরি যেখানে সাধারণ ফাইল এদের উপর কোন কাজ করতে পারে না, সেক্ষেত্রে ডায়মন্ড ফাইল একান্ত কার্যকরী।

১৫.৬ ফাইলের যত্ন ও রক্ষণাবেক্ষণ :

- ১) নতুন ফাইলের দাঁতগুলি খুব তীক্ষ্ণ থাকে। এই তীক্ষ্ণ দাঁত বিশিষ্ট ফাইল দ্বারা কাস্ট আয়রন বা শক্ত স্টিলকে ক্ষয় করতে গেলে দাঁতগুলি ভেঙ্গে যায়। ফলে এ ফাইল শীঘ্রই কাজের অযোগ্য হয়ে পড়ে। এ কারণে নতুন ফাইলকে প্রথমে পিতল, তামা, কাঁসা ইত্যাদি নরম ধাতুর উপর কিছুদিন ব্যবহার করার পর উহার দাঁতের তীক্ষ্ণতা যখন কিছু কমে যায়, তখন কাস্ট আয়রন বা শক্ত স্টিলের উপর ব্যবহার করা উচিত।
- ২) ফাইল খুব শক্ত ধাতুর তৈরি হলেও এর আঘাত করার ক্ষমতা খুব কম। এজন্য হঠাৎ হাত থেকে পড়ে গেলে বা অন্য কোন উপায়ে আঘাত লাগলে ফাইল ভেঙ্গে যেতে পারে। এজন্য ফাইল দিয়ে কখনও কিছু আঘাত করা উচিত নয়।
- ৩) ব্যবহারের সময় এবং পরে ফাইলকে এমন যত্নে রাখতে হবে যাতে এর উপরিভাগে তৈল, গ্রিজ ইত্যাদি না লাগে। তৈলাক্ত হলে ফাইলিং এর সময় ফাইল পিছলে যাবে এবং ঠিকমত কাটবে না।
- ৪) ব্যবহারের সময় এবং পরে ফাইলকে কখনও পাশাপাশি, ঠেকাঠেকি বা একটির উপর আরেকটি রাখা যাবে না, কারণ এতে দাঁত নষ্ট হয়ে যায়। যদি রাখতে হয় তাহলে ফাইলের মাঝে মাঝে কাগজ দিয়ে একটি থেকে অন্যটিকে পৃথক করে রাখতে হবে।
- ৫) ব্যবহারের পর ফাইলের দাঁতের মধ্যে আটকে থাকা ধাতুর গুড়া ফাইল কার্ড বা তারের ব্রাশ দিয়ে পরিষ্কার করে নিতে হবে।
- ৬) ফাইলকে সংরক্ষণ করতে হলে একটি ফ্রেম বা বাক্স তৈরি করে উহাতে ফাইলকে ঝুলিয়ে রাখা উচিত।
- ৭) প্রয়োজনীয় কাজের জন্য উপযুক্ত বা সঠিক ফাইল নির্বাচন করা উচিত। রাফ কাজের জন্য স্মুথ ফাইল বা স্মুথ কাজের জন্য রাফ ফাইল ব্যবহার করা কখনও উচিত নয়।
- ৮) ফাইল সামনে চলার সময় কাটে। সুতরাং কাটার সময় পরিমাণ মত চাপ দিয়ে ফাইল চালিয়ে ধাতু কাটতে হবে এবং পিছনে টানার সময় অত্যন্ত হালকাভাবে টানতে হবে। চাপ দিয়ে পিছনে টানলে ফাইলের দাঁতের তীক্ষ্ণতা শীঘ্রই নষ্ট হয়ে যায়।

প্রশ্নমালা-১৫

অতিসংক্ষিপ্ত প্রশ্ন :

১. ফাইল কী ধরনের হ্যান্ড টুল ?
২. কাটভেদে ফাইল কত প্রকার ?
৩. প্রস্থের গঠনভেদে ফাইল কত প্রকার ?
৪. স্তর বা থ্রেডভেদে ফাইল কত প্রকার ?
৫. কাজ করার পর ফাইল কী দিয়ে পরিষ্কার করা হয় ?
৬. একটি ফাইলের কয়টি অংশ ?
৭. রয়াম্প ফাইল কী কাজে ব্যবহার করা হয় ?
৮. ফাইল আসার সময় কাটে না যাওয়ার সময় কাটে ?
৯. ফ্ল্যাট ফাইল কী ?
১০. রাউন্ড ফাইল কী ?

সংক্ষিপ্ত প্রশ্ন :

১. একটি ফাইলের বিভিন্ন অংশের নাম লেখ।
২. স্তর বা থ্রেডভেদে ফাইল কত প্রকার ও কী কী ?
৩. সেফ এজ ফাইল কাকে বলে ?
৪. সিঙ্গেল কাট ফাইল কাকে বলে ?
৫. সচরাচর ব্যবহৃত ৫ প্রকার ফাইলের নাম লেখ।
৬. কাটভেদে ফাইল কত প্রকার ও কী কী ?
৭. প্রস্থের গঠনভেদে ফাইল কত প্রকার ও কী কী ?
৮. একটি ফাইলের কয়টি অংশ ও কী কী ?
৯. হাফ রাউন্ড ফাইলের ব্যবহার লেখ।
১০. নীডল ফাইলের ব্যবহার লেখ।
১১. স্কয়ার ফাইলের গঠন বর্ণনা কর।
১২. হ্যান্ড ফাইলের গঠন বর্ণনা কর।
১৩. ক্রোচেট বা কটার ফাইলের গঠন বর্ণনা কর।
১৪. ওয়ার্ডিং ফাইলের গঠন বর্ণনা কর।
১৫. ভিক্সেন বা ড্রেড নট ফাইলের গঠন বর্ণনা কর।


রচনামূলক প্রশ্ন :

১. একটি ফ্ল্যাট ফাইল অঙ্কন করে উহার বিভিন্ন অংশের নাম লেখ।
২. একটি ফাইলের বিভিন্ন অংশের গঠন ও ব্যবহার বর্ণনা কর।
৩. হাফ রাউন্ড ফাইলের গঠন ও ব্যবহার বর্ণনা কর।
৪. স্তর বা থ্রেড অনুসারে ফাইল কত প্রকার ও কী কী ? প্রত্যেক প্রকারের বর্ণনা দাও
৫. ফাইলের যত্ন ও রক্ষণাবেক্ষণ পদ্ধতি বর্ণনা কর।

ফাইলিং প্রক্রিয়া (Process of Filing)

১৬.১ ফাইলিং (Filing) :

কোন ওয়াক্‌পিসের উপরিতলকে, ছিদ্রকে, হলো সিলিন্ড্রিক্যাল জবের বোরকে, গ্রন্থকে বা কোন সংযোগস্থলের ফিলেটকে ফাইল দ্বারা ক্ষয় করে নির্দিষ্ট ও ঈশিত আকৃতি দেওয়ার পদ্ধতিকে ফাইলিং বলা হয়। ফাইল সম্মুখ দিকে যাওয়ার সময় কাটে কিছু ফিরে আসার সময় কাটে না। ফাইল সম্মুখ দিকে যাওয়ার সময় সম্মুখ সারির দাঁতগুলি খাতুর মধ্যে প্রবেশ করে ক্ষুদ্র ক্ষুদ্র নালী তৈরি করে চলে এবং ঠিক পশ্চাতের দাঁতগুলি অবশিষ্ট উচ্চ শিরগুলিকে আড়ভাবে কেটে ক্ষয় করে। ফলে স্থানটি সমতল হয়ে যায়। ফাইলিং প্রক্রিয়া আপাত দৃষ্টিতে সহজ মনে হলেও এটি ততটা সহজ নয়। সঠিক নিয়ম মেনে বহুদিন চর্চা করলেই কেবল ভালো ফাইলিং এর দক্ষতা অর্জন করা যায়। ফাইলিং করার সময় অপারেটরকে প্রথমে উভয় পা ফাঁক করে সামনের দিকে সামান্য ঝুঁকে দৃঢ়ভাবে দাঁড়াতে হয়। তারপর ফাইলিং করার জন্য শরীরকে ওয়াক্‌বেঞ্চের সাথে ৪৫° কোণে রেখে এবং বাম 'পা' কে ডান 'পা' থেকে প্রায় অর্ধ মিটার (প্রায় ১ হাত বা ১৮ ইঞ্চি) অগ্রসর করে দাঁড়াতে হয়। পরে একহাতে হাতলকে এবং অন্যহাতে মাথাকে ধরে ফাইলটিকে কার্যবস্তুর উপর রাখতে হয়।



চিত্র-১৬.১ঃ ফাইলিং প্রক্রিয়া।

এরপর একহাত দ্বারা চাপ এবং অন্য হাতে ফাইলকে ঠেলে সামনের দিকে চালাতে হবে। ফাইলকে সামনের দিকে চালনা করার সময় অভিরিক্ত চাপ দিয়ে চালনা করা উচিত নয়। পিছনে ফেরত আসার সময় ফাইল খাতু কাটে না, তাই পশ্চাতদিকে টেনে আনার সময় ফাইলের উপর চাপ দেওয়া যাবে না। ফাইলিং করার জন্য ভাইসের 'জ' কে অপারেটরের কনুই বরাবর রাখতে হবে। ওয়াক্‌পিসকে ফাইলিং করার পূর্বে দৃঢ়ভাবে ভাইসের সাথে এমনভাবে বাঁধতে হবে যাতে ওয়াক্‌পিসের তলটি 'জ' এর নিকটবর্তী থাকে। অন্যথায় ওয়াক্‌পিস কেঁপে শব্দ সৃষ্টি করবে এবং তলের মসৃণতা ভালো হবে না। ফিনিশড ওয়াক্‌পিসের উপর ফাইলিং করার জন্য ভাইসের 'জ' এর সাথে নরম 'জ' ব্যবহার করে ওয়াক্‌পিসকে বাঁধতে হবে। ফাইলিং এর সময় মাঝে মাঝে ফাইল কার্ড দ্বারা ফাইল পরিষ্কার করে নিতে হবে। কার্যরত অবস্থায় ফাইলিং তল খালি হাতে স্পর্শ করা যাবে না। কারণ এতে ফাইল ঠিকমত কাটবে না।

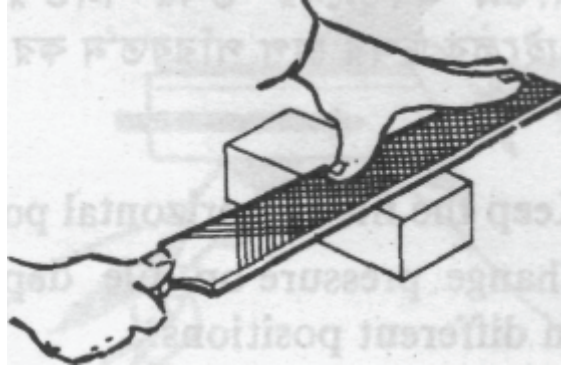
১৬.২ ফাইলিং প্রক্রিয়ার বিভিন্ন পদ্ধতিসমূহ :

সাধারণত ফাইলিং প্রক্রিয়া নিম্নলিখিত ৫ প্রকারের হয়ে থাকে। যথা-

১. স্ট্রেইট ফাইলিং (Straight Filing)
২. ডায়াগোনাল ফাইলিং (Diagonal Filing)
৩. ক্রস ফাইলিং (Cross Filing)
৪. ড্র-ফাইলিং (Draw-Filing)
৫. রাউন্ড ফাইলিং (Round Filing)

১৬.৩ বিভিন্ন ফাইলিং পদ্ধতির বর্ণনা :

স্ট্রেইট ফাইলিং (Straight Filing) : এই পদ্ধতিতে ফাইলিং করার সময় ফাইলকে সোজাভাবে চালাতে হয়। চাবির খাঁজ, স্লট, গ্রন্থ, গিয়ারের দাঁত, ক্ষুদ্র যন্ত্রাংশ তৈরিতে স্ট্রেইট ফাইলিং পদ্ধতি সফলতার সাথে ব্যবহৃত হয়।



চিত্র-১৬.২ঃ স্ট্রেইট ফাইলিং প্রক্রিয়া।

ডায়াগোনাল ফাইলিং (Diagonal Filing) :

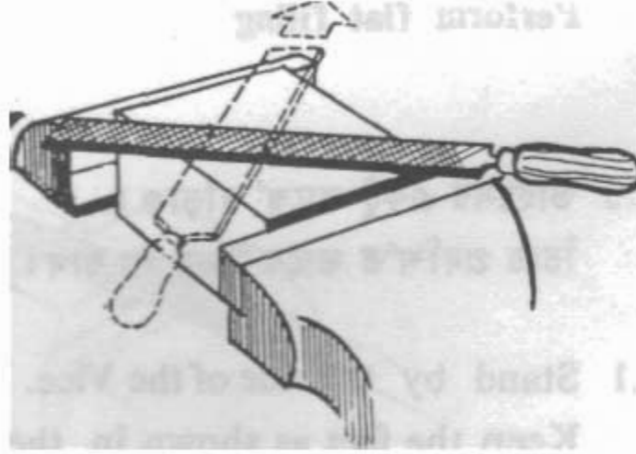
ফাইলকে ভাইসের সাথে কোণাকোণিভাবে চালনা করে যে ফাইলিং পদ্ধতি তাকে ডায়াগোনাল ফাইলিং বলা হয়। ফাইলের কাটিং এজ এবং ফাইল চালনার দিক সমকোণে থাকার ফলে তুলনামূলকভাবে ভালো কাটে। বৃহদাকার তলবিশিষ্ট ওয়ার্কপিসে ফিনিশিং কাট দেওয়ার জন্য ডায়াগোনাল ফাইলিং খুবই উপযোগী।



চিত্র-১৬.৩ঃ ডায়াগোনাল ফাইলিং প্রক্রিয়া।

ক্রস ফাইলিং (Cross Filing) :

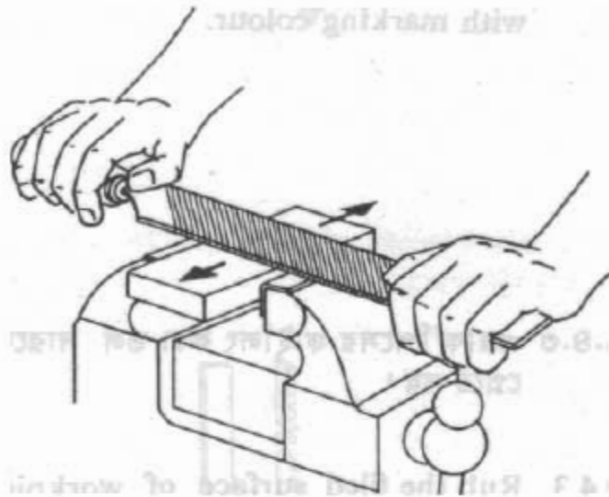
ওয়াকপিসের এক পাশ থেকে ডায়ালগোনাল ফাইলিং করে পুনরায় অন্য পাশ থেকে ডায়ালগোনাল ফাইলিং করলে উহাকে ক্রস ফাইলিং বলা হয়। অর্থাৎ বার বার দিক পরিবর্তন করে ডায়ালগোনাল ফাইলিং করাকে ক্রস ফাইলিং বলা হয়। ওয়াকপিসের নোংড়া তল পরিষ্কার করতে, খাত্তকে দ্রুত ক্ষয় করতে এবং তলকে সমতল করতে ক্রস ফাইলিং প্রক্রিয়া ব্যবহৃত হয়।



চিত্র-১৬.৪ঃ ক্রস ফাইলিং প্রক্রিয়া।

ড্র-ফাইলিং (Draw-Filing) :

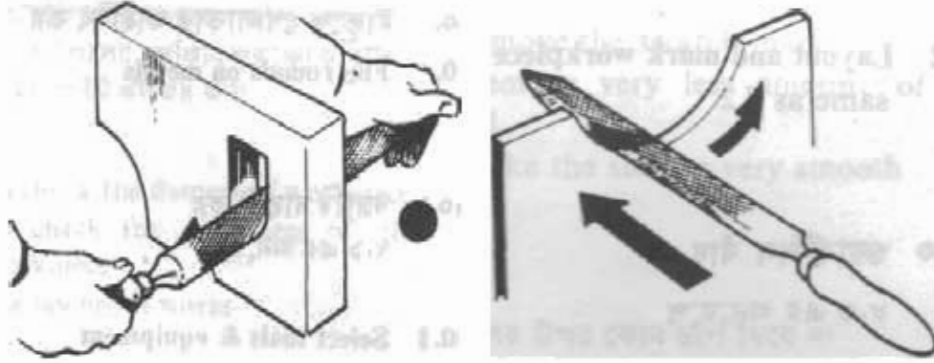
ফাইলকে প্রস্থের দিকে ধরে দৈর্ঘ্য বরাবর ঠেলে এবং টেলে ফাইলিং করাকে ড্র-ফাইলিং (Draw-Filing) বলা হয়। সাধারণ নিয়মে ফাইলিং করলে খাত্তখণ্ডের উপরিভাগে যে আঁচড়ের দাগ পড়ে সে দাগ না কেলে উহাকে একমুখী করে মসৃণ ফাইলিং প্রক্রিয়াই ড্র-ফাইলিং। কম প্রস্থ বিশিষ্ট উপরিভাগকে শীঘ্র ক্ষয় করতে এ প্রকার ফাইলিং করা হয়। নিম্নে কটি সূখ ফাইলিং করতে ড্র-ফাইলিং পদ্ধতি বেশি ব্যবহৃত হয়।



চিত্র-১৬.৪ঃ ড্র-ফাইলিং প্রক্রিয়া।

রাউন্ড ফাইলিং (Round Filing) :

ওয়াকশিপের বাহ্যিক কোণকে ফাইলিং করে গোলাকার করার পদ্ধতিকে রাউন্ড ফাইলিং বলা হয়। এই পদ্ধতিতে ফাইল চালনা করার সময় দুই হাতের চাপকে সমন্বয় করে পয়েন্টের দিককে ফাইল সামনে চালানোর সময় আঙুলে আঙুলে নিচের দিকে চাপতে হয় এবং হাতলকে উপরের দিকে তুলতে হয়। ফাইল ফিরিয়ে আনার সময় বিপরীতভাবে চাপ দিয়ে ফিরিয়ে আনতে হয়।



চিত্র-১৬.৫ঃ রাউন্ড ফাইলিং প্রক্রিয়া।

১৬.৪ বিভিন্ন ফাইলিং পদ্ধতির প্রয়োগক্ষেত্র :

স্ট্রেইট ফাইলিং (Straight Filing) : চাবির খাঁজ, স্লট, খণ্ড, গিয়ারের দাঁত, ক্লব বহাংশ তৈরিতে স্ট্রেইট ফাইলিং পদ্ধতি সফলতার সাথে ব্যবহৃত হয়।

ডায়াগোনাল ফাইলিং (Diagonal Filing) : বৃহদাকার তলবিশিষ্ট ওয়াকশিপে ফিনিশিং কাট দেওয়ার জন্য ডায়াগোনাল ফাইলিং খুবই উপযোগী।

ক্রস ফাইলিং (Cross Filing) : ওয়াকশিপের নোড়ো তল পরিষ্কার করতে, ধাতুকে শীঘ্র কর করতে এবং তলকে সমতল করতে ক্রস ফাইলিং প্রক্রিয়া ব্যবহৃত হয়।

ড্র-ফাইলিং (Draw-Filing) : কম প্রস্থ বিশিষ্ট উপরিভাগকে শীঘ্র কর করতে এ প্রকার ফাইলিং করা হয়। সিলেক কাট শূন্য ফাইলিং করতে ড্র-ফাইলিং পদ্ধতি বেশি ব্যবহৃত হয়।

রাউন্ড ফাইলিং (Round Filing) : গোলাকার ছিদ্রের মসৃণতা আনয়নও ব্যাস বৃদ্ধিকরণ, ফিলেট এর উপর মসৃণ গোলাকার তল তৈরি ইত্যাদি ক্ষেত্রে রাউন্ড ফাইলিং ব্যবহৃত হয়।

১৬.৫ ফাইলিং প্রক্রিয়ার সতর্কতা :

- ১) হাতল বিহীন ফাইল বা হাতল যথাযথভাবে আটকানো না থাকলে ঐ ফাইল ব্যবহার করা উচিত নয়। কারণ এতে ফাইলের ট্যাং অংশ ফাইলিং এর সময় হাতে প্রবেশ করে হাতকে ক্ষতম করতে পারে।
- ২) ফাইলের দাঁতগুলির মধ্যে ধাতুচূর্ণ আটকে যাওয়া মাত্র একে ফাইল কার্ড দিয়ে বা গরুর ব্রাশ দিয়ে পরিষ্কার করে নিতে হবে। নচেৎ ফাইল পিছিয়ে দিয়ে হাতকে ক্ষতম করতে পারে। আবার এ কারণে ক্ষয়ের মসৃণতাও নষ্ট হয়।

- ৩) ফাইল দ্বারা কখনও কোন কিছুকে আঘাত করা উচিত নয়, কারণ এতে ফাইল ভেঙ্গে গিয়ে দুর্ঘটনা ঘটতে পারে।
- ৪) নতুন ফাইলকে কাস্ট আয়রন বা শক্ত স্টিলের ধাতুখণ্ড ঘষতে ব্যবহার করা যাবে না।
- ৫) ফাইলিং করার সময় ধাতুচূর্ণকে কখনও ফুঁ দেওয়া যাবে না, কারণ ফুঁ দিলে উড়ন্ত ধাতুচূর্ণ চোখে পড়ে চোখের ক্ষতি হতে পারে।
- ৬) তৈল বা গ্রিজ যুক্ত ফাইল ব্যবহার করা নিষেধ।
- ৭) ফাইলিং করার সময় সতর্ক থাকতে হবে যেন ফাইল ধাতুখণ্ডের পরিবর্তে ভাইসের 'জ' কে ঘর্ষণ না করে।
- ৮) প্রয়োজনীয় কাজের ধরন অনুযায়ী সঠিক ফাইল নির্বাচনপূর্বক সঠিক পদ্ধতিতে ফাইলিং করা উচিত।
- ৯) ফাইল খুব শক্ত ধাতুর তৈরি হলেও উহার আঘাত সহ্য করার ক্ষমতা খুব কম। ফাইল হঠাৎ হাত থেকে শক্ত মেঝেতে পড়ে গেলে বা অন্য উপায়ে ফাইলের মধ্যে আঘাত লাগলে ফাইল ভেঙ্গে যেতে পারে। এজন্য কখনও ফাইল দিয়ে কিছু আঘাত করা বা ঠোকা অথবা চাড় দেওয়া উচিত নয়।

প্রশ্নমালা-১৬

অতিসংক্ষিপ্ত প্রশ্ন :

১. ফাইলিং কী ?
২. কী দ্বারা ফাইল পরিষ্কার করা হয় ?
৩. ফাইলিং পদ্ধতি কত প্রকার ?
৪. স্ট্রাইট ফাইলিং কাকে বলে ?
৫. ডায়াগোনাল ফাইলিং কাকে বলে ?
৬. ট্রান্স ফাইলিং কাকে বলে ?
৭. ড্র-ফাইলিং কাকে বলে ?
৮. রাউন্ড ফাইলিং কাকে বলে ?

সংক্ষিপ্ত প্রশ্ন :

১. ফাইলিং কী ? ফাইলিং পদ্ধতি কত প্রকার ও কী কী ?
২. স্ট্রাইট ফাইলিং কাকে বলে ? প্রয়োগক্ষেত্রসহ বর্ণনা কর।
৩. ডায়াগোনাল ফাইলিং কাকে বলে ? প্রয়োগক্ষেত্রসহ বর্ণনা কর।
৪. ট্রান্স ফাইলিং কাকে বলে ? প্রয়োগক্ষেত্রসহ বর্ণনা কর।
৫. ড্র-ফাইলিং কাকে বলে ? প্রয়োগক্ষেত্রসহ বর্ণনা কর।
৬. রাউন্ড ফাইলিং কাকে বলে ? প্রয়োগক্ষেত্রসহ বর্ণনা কর।

রচনামূলক প্রশ্ন :

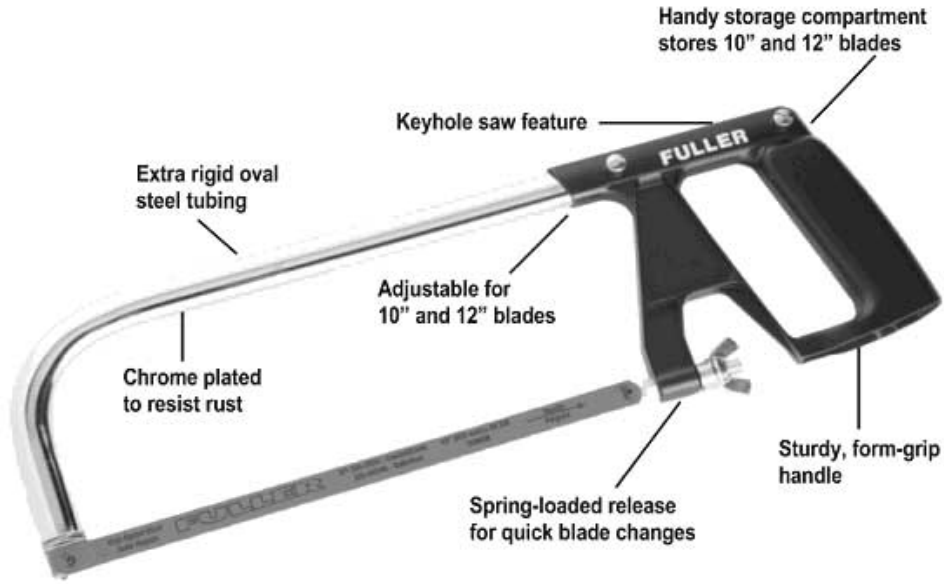
১. ফাইলিং কী ? ফাইলিং পদ্ধতি কত প্রকার ও কী কী ? প্রত্যেক প্রকারের বর্ণনা দাও।
২. ফাইলিং পদ্ধতি কত প্রকার ও কী কী ? প্রত্যেক প্রকারের প্রয়োগক্ষেত্র উল্লেখ কর।
৩. ফাইলিং প্রক্রিয়া চলাকালীন কী কী সতর্কতা অবলম্বন করা উচিত বর্ণনা কর।

হ্যাক-সয়িং (Hack Sawing)

১৭.১ হ্যান্ড হ্যাকসয়িং :

হ্যান্ড হ্যাক-স' এক প্রকার হ্যান্ড কাটিং টুলস্ যা কোন বস্তুকে বিদীর্ণ অর্থাৎ দ্বিখণ্ডিত করতে বা কাটতে ব্যবহার করা হয়। হ্যাক-স' প্রধানত দুইটি অংশে বিভক্ত যথা-(ক) কাঠামো (Frame) (খ) ব্লেড (Blade)। কাঠামো স্থায়ী অংশ এবং ব্লেড হলো পরিবর্তনশীল অংশ। কার্যবস্তুর গঠন, আকার, আকৃতি প্রভৃতি বিবেচনা করে ব্লেড নির্বাচন করতে হয় এবং একটি ফ্রেমে প্রয়োজন অনুসারে বিভিন্ন ব্লেড সেট করে কাঙ্ক্ষিত কাজ সম্পাদন করা যায়। কাজ সম্পাদনের জন্য কাঠামোটি ব্লেডটিকে প্রয়োজনীয় দিকে এবং চাপে ধারণ করে রাখে।

হ্যান্ড হ্যাক-স' দ্বারা কোন বস্তুকে কাটা বা বিদীর্ণ অর্থাৎ দ্বিখণ্ডিত করার প্রণালিকে হ্যান্ড হ্যাক-সয়িং বলা হয়। সাধারণত কম ব্যাস বিশিষ্ট অল্প সংখ্যক বস্তু কাটতে এ প্রণালি ব্যবহৃত হয়। পাওয়ার হ্যাক-স' এর অভাবে বড় ব্যাস বিশিষ্ট বস্তু কাটতেও এ প্রণালি ব্যবহৃত হয়। কিন্তু ইহা সময় সাপেক্ষ এবং ব্যয় বহুল।



চিত্র-১৭.১ঃ হ্যান্ড হ্যাক-স' এর বিভিন্ন অংশ

১৭.২ হ্যান্ড হ্যাক সয়িং এর প্রয়োগ ক্ষেত্রঃ

অধুনা ধাতুর জন্য বিভিন্ন আধুনিক পদ্ধতি ব্যবহৃত হচ্ছে এবং ধাতু কঠনের প্রযুক্তিতে চরম উন্নতি সাধিত হয়েছে। কিন্তু হ্যাক-স' নামক এ কাটিং টুলটি ব্যবহারের গুরুত্ব ও প্রয়োজনীয়তা মোটেই হ্রাস পায়নি। এমন কোন ওয়ার্কশপের নাম করা কঠিন যেখানে হ্যান্ড হ্যাক-স' নেই। স্বল্পজিন্স পদ্ধতিতে ধাতু কাটার সুবিধা আছে যথেষ্ট কিন্তু সীমাবদ্ধতাও আছে। যেমন-স্বল্পজিন্স মেশিন স্থাপন করা হয় নির্দিষ্ট স্থানে স্থায়ীভাবে বিশেষ কাজে জন্য। তাই সব ধরনের ছব অর্থাৎ কার্যবস্তু উক্ত স্থানে বা মেশিনে কঠন করা যায় না। অন্যদিকে হ্যান্ড হ্যাক-স' এর ব্যবহার বিস্তৃত। যদিও কায়িক পরিশ্রম বেশি তবুও বিভিন্ন ধরনের জটিল কাজ বা সমস্যা সমাধান করতে এই হ্যান্ড কাটিং টুলটি যথেষ্ট সহায়ক ভূমিকা পালন করে। মেটাল ওয়ার্কিং এর ক্ষেত্রে ব্যবহৃত বিভিন্ন

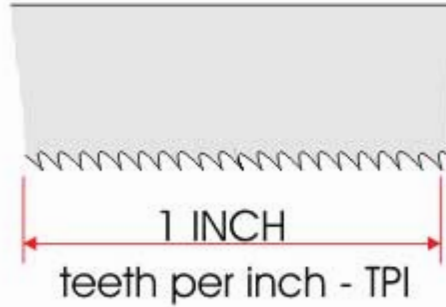
প্রকার 'স' এর মধ্যে হ্যান্ড হ্যাক-'স' সর্বাধিক ব্যবহৃত হয়। মেকানিক্যাল ওয়ার্কশপে কম ব্যাস বিশিষ্ট অল্প সংখ্যক বার মেটাল, মেটাল প্লেট, সিটি মেটাল, পাইপ, টিউব, পিন, কাটার, রিভেট, কী, বোল্ট, অ্যাঙ্গেলবার, রেল ইত্যাদি কাটতে হ্যান্ড হ্যাক সসিং পদ্ধতি ব্যবহৃত হয়। এ ছাড়া বৈদ্যুতিক কাজে কল্ডইট, বাটন, কপার টিউব ও মোটা বৈদ্যুতিক ক্যাবল কাটতে এ পদ্ধতি ব্যবহৃত হয়ে থাকে।



চিত্র-১৭.২ঃ হ্যাক-'স' এর ব্যবহার

১৭.৩ হ্যান্ড হ্যাক-'স' এর বিভিন্ন ব্লেড এর ব্যবহারঃ

হ্যান্ড হ্যাক-'স' ব্লেড সরাসরি কার্বকঙ্কর সংস্পর্শে আসে এবং ক্রেমের সাহায্যে প্রয়োজনীয় চাপ প্রয়োগ করে সামনে পিছনে সঠিকভাবে আনা সেওয়া করলে দাঁতের সাহায্যে কার্বকঙ্ককে কাটে। হ্যান্ড হ্যাক-'স' ব্লেড সাধারণত হাই কার্বন স্টিল, মলিবডেনাম অ্যালয় স্টিল, টাংস্টেন অ্যালয় স্টিল, মলিবডেনাম হাই স্পিড স্টিল ও টাংস্টেন হাই স্পিড স্টিলের তৈরি হয়।



চিত্র-১৭.২ঃ হ্যাক-'স' এর টি.পি.আই বের করা।

যাছু অনুযায়ী হ্যান্ড হ্যাক-'স' ব্লেডগুলো হলো-

- ১) হাই কার্বন স্টিল ব্লেড (High Carbon Steel Blade)
- ২) হাই স্পিড স্টিল ব্লেড (High Speed Steel Blade)
- ৩) লো-অ্যালয় স্টিল ব্লেড (Low Alloy Steel Blade)

কিছু ব্লেড সম্পূর্ণভাবে হার্ডেনড করা হয়, কিছু ব্লেড হার্ডেনিং এবং টেম্পারিং দুটোই করা থাকে এবং কিছু কিছু ব্লেডকে শুধু দাঁতের অংশ হার্ডেনড করে অবশিষ্ট অংশ নরম রাখা হয়।

হিট ট্রিটমেন্ট বা তাপ ক্রিয়া অনুযায়ী ব্রেডের নামগুলো হলো-

- ১) অল হার্ড ব্রেড (All hard blade)
- ২) ফ্লেক্সিবল ব্রেড (Flexible blade)
- ৩) সফট ব্যাক ব্রেড (Soft back blade)

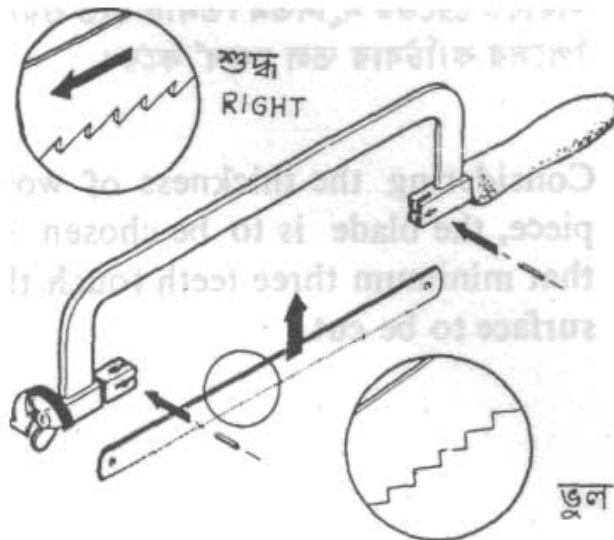


চিত্র-১৭.৩ঃ বিভিন্ন প্রকার হ্যাক-'স' ব্রেড

১৭.৪ হ্যান্ড হ্যাক-'স' চালনার নিয়মাবলীঃ

হ্যান্ড হ্যাক-'স' দ্বারা সঠিক ভাবে এবং নিরাপদে কাজ সম্পাদনের জন্য নিম্নে উল্লিখিত নিয়মাবলী মেনে কাজ করা উচিত।

- ১) জব কী খাতুর ভৈরি, কত বেধ, কেমন ফিনিশিং দরকার প্রভৃতি বিবেচনা করে সঠিক ব্রেড নির্বাচন করে কাজ করতে হবে।
- ২) ক্রেমের সাথে হ্যাক-'স', ব্রেডকে সর্বদা সঠিক দিকে এবং প্রয়োজনীয় টানে আটকাতে হবে। প্রয়োজনে কাজের মাঝে মাঝে টান পরীক্ষা করে উহাকে সমন্বয় করতে হবে।



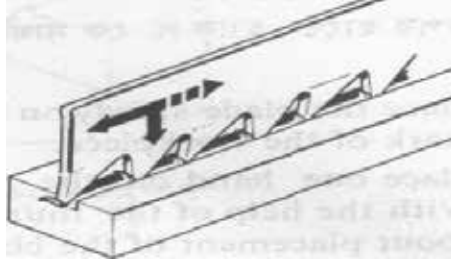
চিত্র-১৭.৪ঃ হ্যাক-'স' ব্রেড লাগানোর নিয়ম (১)

- ৩) হ্যান্ড হ্যাক-‘স’ চালাবার আগে লক্ষ রাখতে হবে যে, উহা চালাবার সময় জ্বব যেন না নড়ে। ভাইসে জ্ববের উচ্চতা হবে কর্মীর বুক বরাবর এবং সয়িং লাইন রাখতে হবে ভাইসের যতটা সম্ভব কাছে। ভাইসের কিনারা থেকে সয়িং লাইনের দূরত্ব বেশি হলে সয়িং তল ভালো হয় না, জ্বব কাঁপে, বিরক্তিকর শব্দ হয় এবং ব্লেড ভেঙ্গে যাবার সম্ভাবনা থাকে।
- ৪) কাজ আরম্ভ করার সময় বাম “পা” কে সোজা ভাবে এবং ডান “পা” কে ৪৫° কোণে রেখে এমনভাবে দাঁড়াতে হবে যাতে দেহের ওজন উভয় “পা” এর উপর সমানভাবে পড়ে।



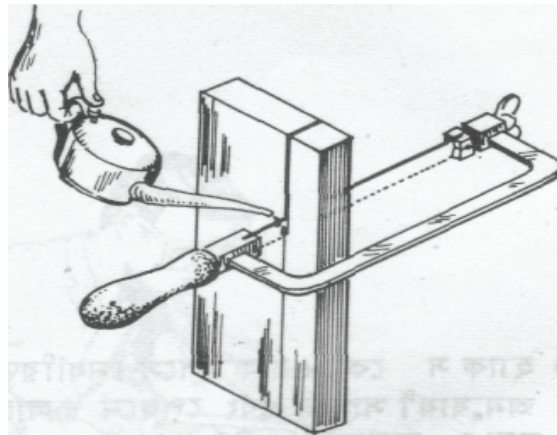
চিত্র-১৭.৫ঃ হ্যাক-‘স’ চালানোর নিয়ম (২)

- ৫) হ্যাক-স চালনার সময় লক্ষ রাখতে হবে যে, দেহ যেন না দোলে এবং পা কার্ভিত স্থির থাকে। কেবল হাত দুইটি অবাধে প্রয়োজন অনুসারে চালাতে হবে। বাম হাত দ্বারা ফ্রেমটিকে শক্তভাবে ধরে ডান হাত দ্বারা ঠেলে দুই হাতে শক্তিকে সমন্বয় করে প্রয়োজনীয় চাপে এবং গতিতে হ্যাক-সয়িং করতে হবে।
- ৬) প্রথমে হ্যাক-স চালনা শুরু করার সময় কার্ভবস্তুর উপর হ্যাক-স কে সম্মুখ দিকে ৩০° কোণে নত করে সামনের দিকে ২-৪ বার চালনা করলে যখন দাঁতগুলি কার্ভবস্তুর মধ্যে প্রবেশ করবে তখন উহাকে ভূমির সমান্তরালভাবে ধরে প্রয়োজনীয় চাপে এবং গতিতে চালনা করতে হবে।
- ৭) সয়িং অর্থাৎ কাটার গতি হবে প্রতি মিনিটে ৩০-৪৫ স্ট্রোক এবং নরম ধাতুর বেলায় সর্বোচ্চ ৫০ হওয়া বাঞ্ছনীয়।
- ৮) হ্যাক-‘স’ ব্লেড শুধু সম্মুখ দিকে চালনা করার সময় কাটে। কাজেই সম্মুখ দিকে চালনা করার সময় চাপ দিতে হবে। পেছনে টানার সময় চাপ দিলে ব্লেডের দাঁতগুলি অযথা ঘর্ষিত হয়। ফলে দাঁতের তীক্ষ্ণতা নষ্ট হয়।



চিত্র-১৭.৬ঃ হ্যাক-'স' চালানোর নিয়ম (৩)

- ৯) হ্যাক-'স' চালনা করার সময় সরল রেখা সূত্রে চালনা করতে হবে। আঁকাবাঁকা চালনা করলে ব্লেন্ড ভেঁগে যেতে পারে।
- ১০) পুরানো ক্ষয়প্রাপ্ত ব্লেন্ড দিয়ে সয়িং আরম্ভ করার পর জবের ভেতর বেডটি ভেঁগে গেলে, সেক্ষেত্রে নুতন ব্লেন্ড ব্যবহার করা যায় না, কেননা নুতন ব্লেন্ড অপেক্ষাকৃত অধিক পুরত্বের হয়।
- ১১) ধাতুপাত বেশি পাতলা হলে সয়িং করা যায় না। কয়েকটি পাত একত্রে ক্ল্যাম্প করে অথবা পাশে কাঠ বা নরম ধাতুর ব্লক বেঁধে ভাইস বা অন্য কিছু সাহায্যে আটকিয়ে (যেন না কাঁপে) সয়িং করতে হবে।
- ১২) পাইপ জাতীয় পাতলা গোল বা ফাঁপা বস্তুর ক্ষেত্রে ছিদ্রের মধ্যে ঐ মাপের একটি কাঠের খণ্ডকে প্রবেশ করিয়ে হ্যাড হ্যাক-'স' চালনা করা সুবিধাজনক।
- ১৩) হ্যাড হ্যাক-'স' দিয়ে সয়িং আরম্ভ করার সময় এবং সয়িং এর শেষ পর্যায়, এ দুই সময়ই বিশেষ সাবধানতা অবলম্বন করা উচিত। ধাতুকে যখন কাটা শেষ হয়ে আসবে তখন ব্লেন্ডে অল্প চাপ ও চালনার হার কমিয়ে দিতে হবে। নচেৎ ব্লেন্ড ভেঁগে যাবার সম্ভাবনা থাকে।
- ১৪) হ্যাক-'স' কে চালনা করার সময় দাঁতের মুখে কোন প্রকার মসৃণকারক তৈল ব্যবহার করা যাবে না। প্রয়োজনে পানি অথবা কাটিং কম্পাউন্ড প্রয়োগ করতে হবে। ইহাতে ব্লেন্ড বেশি উত্তপ্ত হতে পারে না। ফলে দাঁতের তীক্ষ্ণতা অব্যাহত থাকে। স্টিল বা অন্য কোন শক্ত ধাতু খণ্ডকে গভীর করে কাটতে হলে ব্লেন্ডের দুই পাশে দুই এক বিন্দু তৈল মাখিয়ে নিলে, ব্লেন্ডের ঘর্ষণ বাঁধা কমে। ফলে ব্লেন্ড সহজে চলাচল করতে সমর্থ হয় এবং ধাতুকে দ্রুত কাটে।



চিত্র-১৭.৭ঃ হ্যাক-'স' চালানোর সময় তৈল দেওয়া।

প্রশ্নমালা-১৭

অতি সংক্ষিপ্ত প্রশ্ন :

১. হ্যাক-'স' ফ্রেম কয় প্রকার?
২. হ্যান্ড হ্যাক-'স' এর প্রধান দুইটি অংশের নাম লিখ?
৩. কোর্স টিথ ব্লেডে প্রতি ইঞ্চিতে কয়টি দাঁত থাকে?
৪. মিডিয়াম টিথ হ্যাক-'স' ব্লেডের দাঁতের পিচ কত মিমি হয়?
৫. সাধারণ সয়িং এর ক্ষেত্রে ধাতুর উপর ব্লেডের কয়টি দাঁত থাকা প্রয়োজন?
৬. সয়িং এর ক্ষেত্রে নরম ধাতুর বেলায় স্ট্রোক সংখ্যা কত হওয়া বাঞ্ছনীয়?
৭. ভাইসে জবের উচ্চতা কতটুকু হওয়া প্রয়োজন?
৮. হ্যান্ড হ্যাক-'স' চালনা শুরু করার সময় কত ডিগ্রি কোণে সামনের দিকে নত রাখতে হয়?

সংক্ষিপ্ত প্রশ্ন :

১. হ্যান্ড হ্যাক-সয়িং বলতে কী বোঝায়?
২. হ্যান্ড হ্যাক-'স' কাকে বলে?
৩. হ্যান্ড হ্যাক-'স' এর বিভিন্ন অংশসমূহের নাম লিখ?
৪. হ্যান্ড হ্যাক-'স' ব্লেড কি কি ধাতুর তৈরি হয়?
৫. অলহার্ড হ্যান্ড হ্যাক-'স' ব্লেড কী কী ধাতুর কাটার জন্য উপযোগী?
৬. উইং নাট কী কাজে ব্যবহৃত হয়?
৭. হ্যান্ড হ্যাক-'স' ব্লেডের ক্ষেত্রে 'সেট' বলতে কী বোঝায়?
৮. হ্যাক-'স' ব্লেডকে 'সেট' করার উদ্দেশ্য কী?

রচনামূলক প্রশ্ন :

১. কোন কোন বিষয় বিবেচনা করে সয়িং এর জন্য ব্লেড নির্বাচন করা উচিত?
২. একটি হ্যান্ড হ্যাক-'স' এর বিভিন্ন অংশের নাম লেখ এবং উহাদের ব্যবহারের সংক্ষিপ্ত বিবরণ দাও।
৩. বিভিন্ন বিষয় অনুসারে হ্যান্ড হ্যাক-'স' ব্লেডের শ্রেণিবিভাগ উল্লেখ কর।
৪. হ্যান্ড হ্যাক-'স' ব্লেডের ব্যবহার বর্ণনা কর।
৫. হ্যান্ড হ্যাক-'স' চালনার নিয়মাবলী বর্ণনা কর।
৬. সয়িং এর সময় কী কী কারণে ব্লেড ভেঁজে যায় বর্ণনা কর।
৭. হ্যান্ড হ্যাক-'স' এর বিবরণ প্রদানের ক্ষেত্রে বিবেচ্য বিষয়গুলি বর্ণনা কর।
৮. হ্যান্ড হ্যাক-'স' এর প্রয়োগক্ষেত্র বর্ণনা কর।
৯. হ্যান্ড হ্যাক-সয়িং এর ক্ষেত্রে সতর্কতার বিষয়াদি বর্ণনা কর।

পাওয়ার সারিং (Power Sawing)

১৮.১ পাওয়ার হ্যাক-সারিং :

যে যান্ত্রিক করাত বিদ্যুৎ শক্তি দ্বারা পরিচালিত হয়ে খাত্ত কাটার কাজে ব্যবহার করা হয় তাকে পাওয়ার হ্যাক-‘স’ বলা হয় অর্থাৎ পাওয়ার হ্যাক-‘স’ হলো এক ধরকার মেশিন টুল যাহা খাত্তকে কাটা বা খণ্ডিত করার কাজে ব্যবহার করা হয় ।। পাওয়ার হ্যাক-‘স’ দ্বারা দ্রুত এবং সঠিকভাবে জারী, মোটা এবং অধিক সংখ্যক খাত্ত দণ্ড এক সাথে খণ্ডিত করা বা কাটার পদ্ধতিকে পাওয়ার হ্যাক সারিং বলা হয় । এতেক মেশিনশপ বা বড় বড় কারখানায় এ মেশিন বহুল পরিমাণে ব্যবহৃত হয়ে থাকে । পাওয়ার হ্যাক-‘স’ মেশিন মোটর ও বেল্টের সাহায্যে অথবা স্বতন্ত্র ভাবে বৈদ্যুতিক মোটর দ্বারা চালিত হয়ে থাকে ।




চিত্র-১৮.১ঃ পাওয়ার হ্যাক-সারিং ।

পাওয়ার হ্যাক-‘স’ মেশিনে ব্যবহৃত ব্রেডের মাপ, দৈর্ঘ্য, প্রস্থ, বেধ, হ্যাড ‘স’ ব্রেড অপেক্ষা বেশি হয় । এ ব্রেডের দাঁতের পিচ অপেক্ষাকৃত বেশি অর্থাৎ প্রতি ইঞ্চিতে দাঁতের সংখ্যা কম হয়, কলে দাঁত বড় হয় । পাওয়ার হ্যাক-‘স’ মেশিনের স্নায় ও ফ্রেম, ক্যাম ও সিডারের মাধ্যমে চালিত হয় । পাওয়ার হ্যাক-‘স’ ব্রেড একবারে খাত্তর মধ্যে কড়টুকু প্রবেশ করবে অর্থাৎ ফিড স্বয়ংক্রিয়ভাবে দেওয়ার ব্যবস্থা থাকে এবং প্রয়োজনে এ ফিড সম্বন্ধ করা যায় ।

পাওয়ার হ্যাক সারিং এর জন্য নির্বাচিত ব্রেডকে সঠিক দিক এবং টেনশন সহকারে ফ্রেমে আটকাতে হয় । কাটার জন্য খাত্তখণ্ডকে ভাইসের মধ্যে দৃঢ়ভাবে বেঁধে দিতে হয় । ভাইস টাইট দেওয়ার জন্য হ্যাডেলের উপর হাতের চাপই বর্ধেট । অতিরিক্ত চাপ প্রয়োগ করলে ভাইসের ছুর পিনটি শিয়ার হয়ে কেটে যেতে পারে । ওয়ার্কপিসকে ভাইসে বাঁধার পর খণ্ডিত অংশের দৈর্ঘ্য প্রয়োজনীয় মাপের হতে হবে । এ ব্যাপারে নিশ্চিত হয়ে মেশিন চালিয়ে খাত্ত কাটার কাজ সম্পন্ন করতে হবে । প্রয়োজনে কাটার সময় কুল্যান্ট ব্যবহার করতে হবে ।

১৮.২ পাওয়ার হ্যাক-'স' এর প্রধান অংশ, কন্ট্রোল এবং সেটিং :



চিত্র-১৮.২৪ পাওয়ার হ্যাক-'স' এর বিভিন্ন অংশ

পাওয়ার হ্যাক-'স' মেশিনের প্রধান অংশসমূহ হলো-

- ◆ রাম (Ram)
- ◆ ব্রেড (Frame)
- ◆ মোটর (Motor)
- ◆ ভাইস (Vise)
- ◆ বেল্ট গার্ড (Belt Guard)
- ◆ ব্রেড (Blade)
- ◆ ক্র্যাঙ্ক ডিস্ক মেকানিজম (Crank disk mechanism)
- ◆ কুল্যান্ট সিস্টেম (Coolant system)

উক্ত প্রধান অংশসমূহের ব্যবহার নিম্নে সহজকপে আলোচনা করা হলো-

মোটর (Motor) :

এটি মেশিনের একমাত্র শক্তি উৎপাদনকারী ও সরবরাহকারী অংশ। মোটরের সাহায্যে বৈদ্যুতিক শক্তি যান্ত্রিক শক্তিতে রূপান্তরিত হয়। সুইচ অন করলে মোটর ঘোরে এবং বেল্টের মাধ্যমে ক্র্যাঙ্ক ডিস্ক মেকানিজমকে চালায়, যার দ্বারা মোটরের ঘূর্ণন গতি ফ্রেমের সরল গতিতে পরিণত হয়। মোটর সংযুক্ত বেল্টের মাধ্যমে কুল্যান্ট পাম্পকেও চালায়।

রাম (Ram) :

এ অংশটি মেশিনের সবচেয়ে উপরের অংশ। রাম ফ্রেমকে ধরে রাখে এবং সরল পথে চলাচলের জন্য সাহায্য করে। তাছাড়া ধাতুখণ্ডকে কাটতে একটি নির্দিষ্ট চাপে ব্রেডকে সামনে বা পিছনের দিকে চালাতে হয়। রাম ফ্রেমের সাহায্যে ব্রেডের উপর এ চাপ প্রয়োগ করে। ফ্রেমের কন্ট্রোল লিভারের সাহায্যে রাম নিয়ন্ত্রিত হয়ে ধাতুখণ্ডকে কাটতে ব্রেডের উপর প্রয়োজনীয় হাইড্রলিক চাপ প্রয়োগ করে।

ফ্রেম (Frame) :

ফ্রেম ব্লডকে ধারণ করে রাখে এবং ক্র্যাঙ্ক ডিস্ক মেকানিজম পদ্ধতি দ্বারা পরিচালিত হয়ে রয়ামের সামনে ও পিছনে আসা যাওয়া করে ধাতু কাটার জন্য ব্লডকে প্রয়োজনীয় গতি দেয়। তাছাড়া ধাতু কাটার জন্য ব্লডকে একটি নির্দিষ্ট টেনশনে আবদ্ধ করতে হয়। ফ্রেম, ব্লড টেনশনিং নাটের সাহায্যে প্রয়োজনীয় নির্দিষ্ট টেনশনে ব্লডকে ধারণ করে রাখে।

ভাইস (Vise) :

পাওয়ার হ্যাক সয়িং এর সময় ভাইস ধাতুখণ্ড বা কার্যবস্তুকে দৃঢ়ভাবে আবদ্ধ করে রাখে। ভাইস বেস এর উপর অবস্থান করে কার্যবস্তুকে স্থিরভাবে ধরে রাখে এবং ব্লড সামনে ও পিছনে আসা যাওয়া করে কার্যবস্তুকে কাটে।

বেল্ট গার্ড (Belt Guard) :

বেল্ট গার্ড বেল্টকে ঢেকে রাখে এবং বিভিন্ন প্রকার বিপদ থেকে সংশ্লিষ্ট সবাইকে রক্ষা করে।

ব্লেড (Blade) :

ব্লেড পরিবর্তনশীল অংশ এবং পাওয়ার হ্যাক-স এর একমাত্র অংশ যা দ্বারা কোন বস্তু বা ওয়ার্কপিসকে কাটা হয়। অন্যান্য অংশগুলি কাটার কাজে শুধু ব্লেডকে সাহায্য করে।

ক্র্যাঙ্ক ডিস্ক মেকানিজম (Crank disk mechanism) :

এটা ডিস্ক এবং ক্র্যাঙ্কের সমন্বয়ে গঠিত। ক্র্যাঙ্ক ফ্রেম এবং ডিস্কের মধ্যে সংযোগ করে। এ মেকানিজমের মাধ্যমে মোটরের ঘূর্ণন গতি ফ্রেমের অগ্র পশ্চাৎ গতিতে পরিণত হয়।

কুল্যান্ট সিস্টেম (Coolant system) :

এটা কুল্যান্ট ট্যাঙ্ক, ভাল্ব, ডেলিভারি টিউব এবং নজেলের সমন্বয়ে গঠিত। ব্লেড এবং কার্যবস্তুর সংযোগ স্থলের উপর কুল্যান্ট সরবরাহ করতে এ সিস্টেম ব্যবহৃত হয়। এটা ব্লেড এবং কার্যবস্তুকে ঠাণ্ডা রাখে এবং চিপ দূরীভূত করে।

১৮.৩ পাওয়ার হ্যাক-স' ব্লেড (Power Hack-saw Blade) :

পাওয়ার হ্যাক-স' ব্লেডগুলি টুল স্টিল, লো-অ্যালয় স্টিল বা হাইস্পিড স্টিলের তৈরি হয়। সঠিক ব্লেড নির্বাচনের উপর কাজের গুণগতমান অনেকাংশে নির্ভর করে। ব্লেড নির্বাচনের ক্ষেত্রে ব্লেডের (১) দৈর্ঘ্য (২) পুরুত্ব (৩) প্রস্থ (৪) দাঁতের পিচ ও (৫) কী ধাতুর তৈরি বিবেচনা করতে হয়।

ব্লেডের দৈর্ঘ্য ১২ ইঞ্চি থেকে ৪০ ইঞ্চি বা ৩০০ মি.মি. থেকে ১০০০ মি.মি. পর্যন্ত, প্রস্থ ৩২ মি.মি. থেকে ১২৬ মি.মি. পর্যন্ত এবং পুরুত্ব ১.৬ মি.মি. থেকে ৩.৫ মি.মি. পর্যন্ত হয়। প্রতি ইঞ্চিতে দাঁতের সংখ্যা ৪ থেকে ১৪ পর্যন্ত বা পিচ ১.৮ মি.মি. থেকে ৬.৩ মি.মি. পর্যন্ত হয়। বড় মাপের ব্লেডে কম সংখ্যক এবং ছোট মাপের ব্লেডে বেশি সংখ্যক দাঁত থাকে। আর এক প্রকারের ব্লেড আছে যার দাঁতের অংশ হাইস্পিড স্টিলের তৈরি এবং কম দামের স্টিলের সাথে ওয়েল্ডিং করে জোড়া দেওয়া থাকে। এ ধরনের ব্লেড ব্যবহারের সুবিধা হলো এই যে, এই ব্লেড সহজে ভাঙে না এবং দ্রুত গতিতে ধাতু কাটা যায়। সাধারণ নিয়মে শক্ত ধাতু বা পাতলা যন্ত্রাংশ/শিট কাটতে কম পিচ বিশিষ্ট হ্যাক-স' ব্লেড এবং নরম ধাতু কাটতে বেশি পিচ বিশিষ্ট ব্লেড ব্যবহৃত হয়।

নিম্নে ব্লেন্ড নির্বাচনের একটি তালিকা দেওয়া হলো-

ব্লেন্ডের পিচ	ব্লেন্ডের টি.পি.আই	কার্যবস্তু
৬-৪ মি.মি.	৪-৬ টি.পি.আই	নমনীয় ধাতু (অ্যালুমিনিয়াম, তামা, নরম স্টিল ইত্যাদি)
৩-২.৫ মি.মি.	৮-১০ টি.পি.আই	শক্ত ও ভঙ্গুর ধাতু (টুল, স্টিল, কাস্ট আয়রন ইত্যাদি)
২-১.৮ মি.মি.	১২-১৪ টি.পি.আই	পাতলা তল বিশিষ্ট (পাইপ, টিউব ইত্যাদি)

১৮.৪ পাওয়ার হ্যাক-‘স’ এর প্রয়োগক্ষেত্র :

যেখানে হ্যান্ড হ্যাক-সয়িং সময় সাপেক্ষ এবং ব্যয়বহুল সেখানে অধিক সংখ্যক বড় প্রস্থচ্ছেদ বিশিষ্ট বার মেটাল এবং অন্যান্য ওয়ার্কপিস দ্রুত এবং সঠিকভাবে কাটতে পাওয়ার হ্যাক সয়িং ব্যবহৃত হয়। বড় প্রস্থচ্ছেদ বিশিষ্ট শ্যাফট, স্কয়ার বার, আয়তকার বার, রেইল, অ্যাঙ্গেল, চ্যানেল, পাইপ ইত্যাদি পাওয়ার হ্যাক সয়িং এর মাধ্যমে কাটা হয়। ছোট আকারের পাওয়ার হ্যাক-‘স’ ৭৫ মি.মি. পর্যন্ত ব্যাস বিশিষ্ট রাউন্ড বার বা ৭৫ মি.মি. পার্শ্ব বিশিষ্ট স্কয়ার বার কাটতে ব্যবহৃত হয় এবং বড় আকারের পাওয়ার হ্যাক-‘স’ ৪০০ মি.মি. ব্যাস বিশিষ্ট রাউন্ড বার বা ৪০০ মি.মি. পার্শ্ব বিশিষ্ট স্কয়ার বার মেটাল কাটতে ব্যবহৃত হয়।

১৮.৫ পাওয়ার হ্যাক সয়িং এর ক্ষেত্রে সতর্কতা :

১. মেশিন চালনার পূর্বে কার্যবস্তু থেকে ব্লেন্ডের দূরত্ব এবং অন্যান্য লিভারসমূহের অবস্থান নিরাপদ স্থানে আছে এ ব্যাপারে নিশ্চিত হয়ে মেশিনের সুইচ অন করতে হবে।
২. অপারেশন শুরু করার পূর্বে মেশিনের সকল কন্ট্রোল এবং সেটিং সঠিকভাবে আছে কী না পরীক্ষা করে দেখতে হবে।
৩. প্রেসার কন্ট্রোল লিভারের নিয়ন্ত্রণ সঠিকভাবে করতে হবে। অত্যধিক চাপ প্রয়োগে ব্লেন্ড ভাঙ্গার সম্ভাবনা থাকে।
৪. সতর্কতার সাথে প্রয়োজনীয় কাজের জন্য সঠিক ব্লেন্ড নির্বাচন করতে হবে। সব সময় একটি ব্লেন্ড দিয়ে সব ধরনের সব আকারের সব ধাতু কাটা অনুচিত।
৫. সঠিকভাবে ব্লেন্ড নির্বাচন করে সঠিকভাবে সেট করতে হবে। নির্মাতা কর্তৃক দিক অথবা মেশিনের কাটিং স্ট্রোক কোন দিকে হয় তা দেখে ব্লেন্ডের দিক নির্ণয় করতে হবে।
৬. জব বা কার্যবস্তুকে ভাইসে দৃঢ়ভাবে আটকাতে হবে। অন্যথায় কাজের সময় জব বা কার্যবস্তু নড়ে গিয়ে ব্লেন্ড ভেঙ্গে যেতে পারে।
৭. ভাইসে জব বা কার্যবস্তুকে ভূমির সাথে সমান্তরালভাবে আটকাতে হবে। কোন এক পার্শ্ব উঁচু হলে কাটার সময় উহা নিচ দিকে নেমে গিয়ে অসুবিধার সৃষ্টি করবে। অনেক ক্ষেত্রে ব্লেন্ডও ভেঙ্গে যেতে পারে।
৮. কাটা শুরু করার সময় ব্লেন্ড যেন হঠাৎ গিয়ে অধিক চাপে কার্যবস্তুর উপর না পড়ে সে ব্যাপারে সতর্ক থাকতে হবে।
৯. কার্যবস্তুকে কাটার পর বস্তুর খণ্ডাংশ যেন পড়ে গিয়ে দুর্ঘটনা ঘটতে না পারে সে ব্যাপারে সতর্ক থাকতে হবে।
১০. কাজ শেষ হয়ে গেলে র‍্যামকে সর্বনিম্ন অবস্থানে রেখে মোটর বন্ধ করে দিতে হবে এবং মেশিন পরিষ্কার করে রাখতে হবে।

প্রশ্নমালা-১৮

অতি সংক্ষিপ্ত প্রশ্নঃ

১. পাওয়ার হ্যাক-‘স’ কী?
২. পাওয়ার হ্যাক-সয়িং কাকে বলে?
৩. পাওয়ার হ্যাক-‘স’ মোটরের কাজ কী?
৪. বেল্ট গার্ড কী কাজে ব্যবহৃত হয়?
৫. লিমিট সুইচের কাজ কী?
৬. ব্লেন্ড টেনশনিং নাট কী কাজে ব্যবহৃত হয়?
৭. ফিড কাকে বলে?
৮. পাওয়ার হ্যাক-‘স’ কী ধাতুর তৈরি হয়?
৯. পিচ কাকে বলে?
১০. মেশিন সুইচের কাজ কী?

সংক্ষিপ্ত প্রশ্নঃ

১. পাওয়ার হ্যাক-‘স’ মেশিনের প্রয়োগক্ষেত্র উল্লেখ কর।
২. পাওয়ার হ্যাক-‘স’ মেশিনের প্রধান অংশগুলির নাম লেখ।
৩. পাওয়ার হ্যাক-‘স’ মেশিনের কন্ট্রোল ও সেটিংগুলির নাম লেখ।
৪. ব্লেন্ড নির্বাচনের ক্ষেত্রে কী কী বিষয় বিবেচনা করতে হয়?
৫. ফিড বলতে কী বুঝায়? উহা কিসের উপর নির্ভরশীল?
৬. নাম্বার অফ স্ট্রোক বলতে কী বুঝায় উল্লেখ কর।
৭. পাওয়ার হ্যাক-সয়িং এর সময় ব্লেন্ড ভেঙ্গে যাবার তিনটি সম্ভাব্য কারণ উল্লেখ কর।
৮. পাওয়ার হ্যাক-‘স’ ব্যবহারের সুবিধাগুলি উল্লেখ কর।
৯. কোন কোন কাজে পাওয়ার হ্যাক-‘স’ মেশিন ব্যবহৃত হয়?
১০. ম্যাটেরিয়াল স্ট্যান্ড এর ব্যবহার ব্যাখ্যা কর।

রচনামূলক প্রশ্নঃ

১. পাওয়ার হ্যাক-‘স’ মেশিনের প্রধান অংশগুলির কাজ বর্ণনা কর।
২. পাওয়ার হ্যাক-‘স’ মেশিনের কন্ট্রোল সমূহের কাজ বর্ণনা কর।
৩. পাওয়ার হ্যাক-‘স’ মেশিনের কার্যনীতি বর্ণনা কর।
৪. পাওয়ার হ্যাক-‘স’ মেশিনের সেটিংগুলির কাজ বর্ণনা কর।
৫. বিভিন্ন প্রকার পাওয়ার হ্যাক-‘স’ ব্লেন্ডের ব্যবহার বর্ণনা কর।
৬. কর্তনের গতি বলতে কী বুঝায়? বিভিন্ন ধাতুভেদে প্রযোজ্য স্ট্রোক সংখ্যা ছক আকারে লিপিবদ্ধ কর।
৭. পাওয়ার হ্যাক সয়িং এর ক্ষেত্রে সতর্কতার বিষয়াদি ব্যাখ্যা কর।
৮. পাওয়ার হ্যাক সয়িং এর সুবিধা এবং অসুবিধাগুলি বর্ণনা কর।
৯. পাওয়ার হ্যাক-সয়িং এর ক্ষেত্রে কর্তনের গতি এবং কর্তনের চাপ বলতে কী বোঝায় ব্যাখ্যা কর।
১০. পাওয়ার হ্যাক-‘স’ মেশিনের শক্তি স্থানান্তর প্রক্রিয়া বর্ণনা কর।

শ্ৰেণী (Thread)

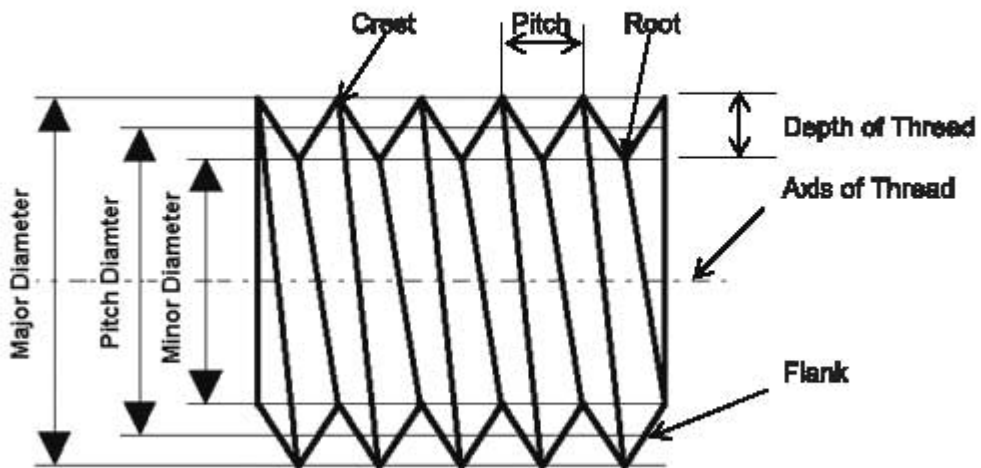
১৯.১ শ্ৰেণী :

একটি বেলনাকৃতি অথবা সৰু অৰ্থাৎ মোচাকৃতি বস্তুৰ উপৰ বা ভেতৰ পৃষ্ঠে একই বস্তু আকৃতি বিশিষ্ট শিৰা যদি একপ্ৰকাৰে জড়ানো থাকে যে, উহা দৈৰ্ঘ্য বৰাবৰ একই হাৰে এগিৰে যায়, তাহলে একে জু বুলে এবং জড়ানো শিৰাকে শ্ৰেণী বা প্যাচ বুলে। একে প্যাচ, কলা বা চুড়িও বুলে। শ্ৰেণী ভিতৰ বা বাহিৰেৰে উল্লে হতে পাৰে। বোৰ্টেৰ বাহিৰে এবং নাটেৰ ভিতৰে শ্ৰেণী থাকে। শ্ৰেণীৰ প্যাচানো উঁচু মাথায় আকৃতি সমস্ত দৈৰ্ঘ্য বৰাবৰ একই বস্তু হয়। ট্যাপ ও ডাই এৰ সাহায্যে অথবা মেথিলে শ্ৰেণী কাটা যায়।

১৯.২ শ্ৰেণীৰ প্ৰেৰিবিভাগঃ

- ক) আমেৰিকান স্ট্যান্ডাৰ্ড শ্ৰেণী (A.S)
- খ) ইন্টাৰন্যাশনাল স্ট্যান্ডাৰ্ড শ্ৰেণী (I.S)
- গ) মেট্ৰিক শ্ৰেণী (M.S)
- ঘ) ব্ৰিটিশ স্ট্যান্ডাৰ্ড হাইটওয়্যৰ্শ শ্ৰেণী (B.S.W)
- ঙ) ব্ৰিটিশ স্ট্যান্ডাৰ্ড ফাইন শ্ৰেণী (B.S.F)
- চ) কয়্যার শ্ৰেণী
- ছ) অ্যাকমি শ্ৰেণী
- জ) বাৰ্টেন শ্ৰেণী
- ঝ) দাবল শ্ৰেণী

১৯.৩ শ্ৰেণীৰ বিভিন্ন অংশঃ



চিত্ৰ-১৯.১ : শ্ৰেণীৰ বিভিন্ন অংশ

পিচ (Pitch) :

স্ক্রুর অক্ষের সমান্তরালে একটি থ্রেডের উপর একটি বিন্দু থেকে ঠিক পরবর্তী থ্রেডের উপর অনুরূপ বিন্দুর দূরত্বকে পিচ বলে। অর্থাৎ থ্রেডের একটি নির্দিষ্ট বিন্দু হতে পরবর্তী থ্রেডের অনুরূপ বিন্দু পর্যন্ত অক্ষের সমান্তরাল দূরত্বকে পিচ বলা হয়।

$$\text{পিচ, } P = \frac{1}{\text{প্রতি ইঞ্চিতে থ্রেডের সংখ্যা}} \quad (\text{ব্রিটিশ পদ্ধতি})$$

$$\text{পিচ, } P = \frac{1}{\text{প্রতি মিলিমিটারে থ্রেডের সংখ্যা}} \quad (\text{মেট্রিক পদ্ধতি})$$

মেট্রিক পদ্ধতিতে পিচ মিলিমিটারে প্রকাশ করা হয়। যেমন-পিচ ১.২৫ মি.মি., ১.৭৫ মি.মি. ইত্যাদি। ব্রিটিশ পদ্ধতিতে টি.পি.আই হিসেবে প্রকাশ করা হয়। যেমন-৪ টি.পি.আই, ৮ টি.পি.আই, ১২ টি.পি.আই ইত্যাদি।

থ্রেডের অক্ষ (Axis of Thread) :

স্ক্রু থ্রেডের কেন্দ্র দিয়ে অঙ্কিত কাল্পনিক লম্বালম্বি রেখাকে থ্রেডের অক্ষ বলে। একে নিরপেক্ষ অক্ষ (Neutral Axis) বলে।

মেজর ডায়ামেটার (Major Diameter) :

স্ক্রু থ্রেডের বাহিরের সর্বোচ্চ ব্যাসকে মেজর ডায়ামেটার বা আউট সাইড ডায়ামেটার অথবা বাইরের ব্যাস বলে।

মাইনর ডায়ামেটার (Minor Diameter) :

স্ক্রু থ্রেডের প্যাঁচের সর্বনিম্ন ব্যাসকে মাইনর ডায়ামেটার, রুট ডায়ামেটার বা কোর ডায়ামেটার বা ভেতরের ব্যাস বলে। ইহা মেজর ডায়ামেটার থেকে দুই দিকের গভীরতার মাপ অর্থাৎ ডেপথ এর দ্বিগুণ বাদ দিলে পাওয়া যায়। মাইনর ডায়ামেটার = মেজর ডায়ামেটার - ২ x ডেপথ অব থ্রেড।

পিচ ডায়ামেটার (Pitch Diameter) :

থ্রেডের খাঁজ বা গ্রুভের এক পার্শ্বের গভীরতার মধ্যবিন্দু হতে অপর পার্শ্বের মধ্য বিন্দু পর্যন্ত কাল্পনিক ব্যাসকে পিচ ব্যাস বা পিচ ডায়ামেটার বলে। থ্রেডের আউটসাইড বা মেজর ডায়ামেটার থেকে থ্রেডের এক দিকের গভীরতা বাদ দিলে পিচ ডায়ামেটার বা পিচ ব্যাস পাওয়া যায়।

ফ্ল্যাংক (Flank) : থ্রেডের দুই পার্শ্বের সন্নিহিত ঢালু অংশকে ফ্ল্যাংক বলে।

রুট (Root) : পাশাপাশি অবস্থিত দুইটি থ্রেডের পার্শ্ব ভাগ (Flank)-এর নিচের মিলিত স্থানকে রুট বলে।

ক্রেস্ট (Crest) : ক্রেস্ট মানে থ্রেডের শীর্ষ বা চূড়া। থ্রেডের দুই পার্শ্বের ফ্ল্যাংক উপরের দিকে যে স্থানে মিলিত হয় তাকে ক্রেস্ট বলে।

গভীরতা (Depth of Thread) : থ্রেডের রুট এবং ক্রেস্টের মধ্যবর্তী লম্ব দূরত্বকে থ্রেডের গভীরতা বলে।

থ্রেড অ্যাংগল (Thread Angle) : একটি থ্রেডের দুইটি ফ্ল্যাংকের মধ্যবর্তী কোণকে থ্রেড অ্যাংগল বলে। থ্রেড অ্যাংগল থ্রেডের আকৃতির উপর নির্ভরশীল সচরাচর ৫৫° অথবা ৬০° কোণের প্রচলন বেশি।

১৯.৪ থ্রেডের বিভিন্ন স্ট্যান্ডার্ড :

একটি বোল্ট বা নাটের জায়গায় যেন অন্য একটি নাট বা বোল্ট ব্যবহার করা যায় এ উদ্দেশ্যে প্রত্যেক শ্রেণির থ্রেডের অন্তর্বর্তী কোণ, গভীরতা, ক্রেস্ট ও রুটের আকার ও আকৃতি প্রভৃতি নির্দিষ্ট মান এবং অনুপাতে তৈরি

করা হয়ে থাকে। এ নির্দিষ্ট মান এবং অনুপাত আন্তর্জাতিকভাবে এবং নিজস্ব দেশের জাতীয় সংশ্লিষ্ট সংস্থা কর্তৃক স্বীকৃত এবং গৃহীত হয়। এ নির্দিষ্ট মান বিশিষ্ট থ্রেডকে স্ট্যান্ডার্ড থ্রেড বলে।

ভি-থ্রেড সাধারণত নিম্নলিখিত কয়েকটি স্ট্যান্ডার্ডের হয়। যেমন-

(১) **ব্রিটিশ স্ট্যান্ডার্ড (British standard) থ্রেড :** এই থ্রেড কয়েক প্রকার, যেমন-

- ক) ব্রিটিশ স্ট্যান্ডার্ড হুইটওয়ার্থ থ্রেড (British Standard Whitworth thread), সংক্ষেপে B.S.W
- খ) ব্রিটিশ স্ট্যান্ডার্ড ফাইন থ্রেড (British Standard fine thread) সংক্ষেপে B.S.F
- গ) ব্রিটিশ এসোসিয়েশন স্ট্যান্ডার্ড থ্রেড (British Association Standard thread) সংক্ষেপে B.A
- ঘ) ব্রিটিশ স্ট্যান্ডার্ড পাইপ থ্রেড (British Standard pipe thread) সংক্ষেপে B.S.P

(২) **আমেরিকান স্ট্যান্ডার্ড (American Standard) থ্রেড :**

এই স্ট্যান্ডার্ড থ্রেডের নাম হলো আমেরিকান ন্যাশনাল ভি থ্রেড (American National standard 'V' thread) আমেরিকান স্ট্যান্ডার্ড থ্রেড নিম্নলিখিত দুই প্রকার হয় যেমন-

- ক) আমেরিকান ন্যাশনাল ফাইন (A.N.F) থ্রেড- একে সংক্ষেপে NF থ্রেড বলে। B.S.F থ্রেডের বিকল্প হিসেবে এ থ্রেড ব্যবহৃত হয়।
- খ) আমেরিকান ন্যাশনাল কোর্স (A.N.C) থ্রেড- একে সংক্ষেপে N.C থ্রেড বলে। B.S.W থ্রেডের বিকল্প হিসেবে এ থ্রেড ব্যবহৃত হয়।

(৩) **ইন্টারন্যাশনাল স্ট্যান্ডার্ড (International Standard) থ্রেড :** এ স্ট্যান্ডার্ড থ্রেডের নাম হলো

ইন্টারন্যাশনাল স্ট্যান্ডার্ড থ্রেড। এ থ্রেড নিম্নলিখিত কয়েক প্রকার হয়। যেমন-

- ক) ইউনিফাইড থ্রেড : এ থ্রেড দুই প্রকার যথা-
 - ১) ইউনিফাইড কোর্স থ্রেড (সংক্ষেপে UNC)
 - ২) ইউনিফাইড ফাইন থ্রেড (সংক্ষেপে UNF)

১৯.৫ থ্রেডের ব্যবহার ক্ষেত্রঃ

থ্রেডের নাম	ব্যবহার ক্ষেত্র
ব্রিটিশ স্ট্যান্ডার্ড হুইটওয়ার্থ (B.S.W)	সচরাচর সমস্ত কাজে এ থ্রেডের ব্যবহার হয়।
ব্রিটিশ স্ট্যান্ডার্ড ফাইন (B.S.F)	যখন ধাক্কা ও কম্পন সহ্য করার দরকার হয় এমন জায়গায় ব্যবহৃত হয়। মোটরগাড়ি ও এরোপ্লেনের বিভিন্ন অংশে এর ব্যবহার বেশি।
ব্রিটিশ এসোসিয়েশন থ্রেড (B.A)	১/৪ ইঞ্চির কম ডায়মিটারের ক্ষুতে এই থ্রেড ব্যবহৃত হয়। সূক্ষ্ম যন্ত্রপাতি ফিটিং এর কাজে এর ব্যবহার বেশি।
ব্রিটিশ স্ট্যান্ডার্ড পাইপ থ্রেড (B.S.P)	পানির পাইপ, স্টিম পাইপে এ থ্রেডের ব্যবহার হয়।
আমেরিকান ন্যাশনাল ফাইন (A.N.F)	আমেরিকান ইঞ্জিনিয়ার সচরাচর এ থ্রেড ব্যবহার করেন।
ইউনিফাইড থ্রেড (U.N.C)	পাতলা চাদরের টিউব, নাট এবং কাপলিং এর ক্ষেত্রে এ থ্রেড ব্যবহৃত হয়।
স্কয়ার থ্রেড	মেকানিক্যাল শক্তিকে সরবরাহ করতে ভাইস ব্ল্যাম্প ও স্ক্রু জ্যাকে এ থ্রেড ব্যবহৃত হয়।
অ্যাকমি থ্রেড	লেদ মেশিনের লিড স্ক্রু ও হাফনাটে একমি থ্রেড থাকে।
নাকল থ্রেড	রেল ইঞ্জিনের দুইটি বগি জোড়া দেওয়ার জন্য কাপলিং স্ক্রু থাকে। কাপলিং স্ক্রু তে নাকল থ্রেড ব্যবহৃত হয়।
মেট্রিক থ্রেড	প্রয়োজনীয় সকল কাজে সাধারণভাবে এ থ্রেড ব্যবহৃত হয়।

প্রশ্নমালা-১৯

অতিসংক্ষিপ্ত প্রশ্ন :

১. থ্রেড কাকে বলে?
২. পিচ কাকে বলে?
৩. টি.পি. আই কাকে বলে?
৪. বি.এস.এফ বলতে কী বোঝায়?
৫. ইউ.এস.সি বলতে কী বোঝায়?
৬. মেট্রিক থ্রেডের গভীরতার সূত্র লেখ।
৭. নাকল থ্রেডের অপর নাম কী?
৮. কোন থ্রেডের শীর্ষ ও রুটের প্রস্থ সমান হয়?
৯. কোন প্রকারের থ্রেডের কোন (২৯°) ডিগ্রী হয়?
১০. আমেরিকান ন্যাশনাল স্ট্যান্ডার্ড থ্রেডের কোন কত ডিগ্রী হয়?
১১. টি.পি.আই নির্ণয়ের সবচেয়ে সহজ উপায় কী?
১২. থ্রেডের ক্ষেত্রে ক্রেস্ট কাকে বলে?
১৩. আই.এস.ও বলতে কী বোঝায়?

সংক্ষিপ্ত প্রশ্ন:

১. থ্রেড বলতে কী বুঝায় উল্লেখ কর।
২. পিচ বলতে কী বুঝায় উল্লেখ কর।
৪. মাইনর ডায়ামেটার বলতে কী বুঝায় উল্লেখ কর।
৫. থ্রেডের বিভিন্ন অংশের নাম লেখ।
৬. বিভিন্ন স্ট্যান্ডার্ড ভি থ্রেডসমূহের নাম লেখ।
৭. স্কয়ার থ্রেডের গঠন বুঝিয়ে লেখ।
৮. ইউনিফায়েড থ্রেড সিস্টেম বুঝিয়ে লেখ।
৯. মেট্রিক থ্রেড সম্পর্কিত সূত্রগুলি উল্লেখ কর।
১০. M ১২ X ১.৭৫ বলতে কী বোঝায় উল্লেখ কর।
১১. অ্যাকমি থ্রেডের সূত্রাবলী লেখ।
১২. অ্যাকমি থ্রেড ও ট্রাপিজিয়ড থ্রেডের পার্থক্যগুলি উল্লেখ কর।

রচনামূলক প্রশ্ন:

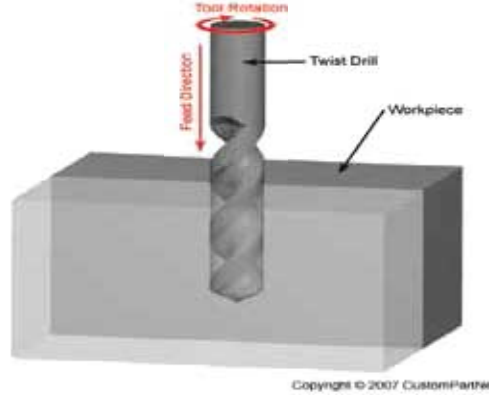
১. থ্রেড বলতে কী বুঝায়?
২. পিচ কাকে বলে?
৩. একটি ভি থ্রেড বিশিষ্ট স্ক্রু অঙ্কন করে এর বিভিন্ন অংশ চিহ্নিত কর।
৪. স্ক্রু থ্রেডের বিভিন্ন অংশের নাম লেখ এবং উহাদের গঠন সংক্ষেপে বর্ণনা কর।
৫. বিভিন্ন স্ট্যান্ডার্ড থ্রেডগুলির নাম লেখ এবং উহাদের সংক্ষিপ্ত নাম ও কোণের পরিমাণ উল্লেখ কর।
৬. বিভিন্ন থ্রেডের ব্যবহারিক ক্ষেত্রগুলির নাম লেখ।
৭. আমেরিকান স্ট্যান্ডার্ড থ্রেডের গঠন বৈশিষ্ট্য বর্ণনা কর।
৮. ইন্টারন্যাশনাল স্ট্যান্ডার্ড থ্রেডের গঠন ও বৈশিষ্ট্য ব্যাখ্যা কর।

অধ্যায়-২০

ড্রিলিং (Drilling)

২০.১ ড্রিলিং :

ড্রিলিং মানে হোল বা গর্ত করা। ড্রিলিং বলতে ড্রিল বিটের সাহায্যে কোন বস্তুকে গোল ছিদ্র বা ড্রিল করার প্রণালি বুঝায়। ড্রিল বিটকে স্পিন্ডলের ছিদ্রে স্থাপন করে স্পিন্ডলকে ঘূর্ণিত অবস্থায় উপর হতে চাপ দিলে ড্রিল এগিয়ে আসবে ড্রিল করে। ড্রিল করতে যে মেশিন ব্যবহৃত হয় তাকে ড্রিলিং মেশিন বা ড্রিল মেশিন অথবা ড্রিল প্রেস বলা হয়। ড্রিলিং করার সময় বিভিন্ন বস্তুর উপর বিভিন্ন ঘূর্ণন হার (R.P.M) প্রয়োগ করতে হয় এবং ড্রিলিং কার্য সম্পন্ন করতে ফিড হুইলকে আন্তে আন্তে নিচের দিকে নামাতে হয়। কলে অল্প অল্প করে ধাতু কেটে ড্রিল বিট ড্রিলিং কার্য সম্পন্ন করে। ড্রিলিং প্রক্রিয়ার শক্তির মধ্যে গর্ত বা ছিদ্র তৈরি হয়। ড্রিলিং এর সময় ড্রিলকে ঠাণ্ড রাখতে ফ্ল্যাশট ব্যবহারের প্রয়োজন হয়।



চিত্র-২০.১ঃ ড্রিলিং প্রক্রিয়া

২০.২ ড্রিলিং মেশিনের বিভিন্ন অপারেশনসমূহের জন্য কাটিং স্পিড ও ফিড :

ড্রিলিং মেশিনের অপারেশন অর্থাৎ কাউন্টার বোরিং, কাউন্টার সিঙ্কিং, রিমিং, ট্যাপিং ইত্যাদির জন্য সর্বাধিক কাটিং স্পিড ড্রিলিং এর অনুরূপ অনেকগুলি বিষয়ের উপর নির্ভর করে। তবে অভিজ্ঞ ব্যক্তিদের সাধারণ নির্দেশনা হিসেবে ড্রিলিং এর সহিত তুলনামূলক কাটিং স্পিডের হার উল্লেখ করেছেন। তুলনামূলক কাটিং স্পিডের তালিকা নিম্নে প্রদান করা হলো-

ড্রিলিং মেশিনের অপারেশন	ড্রিলিং কাটিং স্পিডের তুলনার হার
কাউন্টার বোরিং	৫০%
কাউন্টার সিঙ্কিং	৬০%-৮০%
স্পট কেসিং	৫০%
সেন্টার ড্রিলিং	যথেষ্ট দ্রুত স্পিড
রিমিং	৫০%
ট্যাপিং	৬০%-৮০%
বোরিং	৫০%

ফিড (Feed) : ড্রিলিং এর সময় প্রতি পাকের জন্য ড্রিল বিটকে যে পরিমাণ দূরত্বে অগ্রসর করানো হয় তাকে ড্রিলিং এ ফিড বলা হয়।

ড্রিলিং এর সময় কী পরিমাণ ফিড দেওয়া হবে তা কয়েকটি বিষয়ের উপর নির্ভর করে। যেমন-

- ১) ড্রিলের শক্তি অর্থাৎ ড্রিল বিট কী ধাতুর তৈরি।
- ২) ড্রিল বিটের ধার।
- ৩) ওয়ার্কপিস ম্যাটেরিয়ালের শক্ততা অর্থাৎ কী ধাতুর তৈরি।
- ৪) কুল্যান্টের প্রয়োগ।
- ৫) ছিদ্রটি কী ধরনের এবং কত গভীর।
- ৬) ওয়ার্কপিস আটকানোর ধরন।

ড্রিলের ফিড = ধাতুখণ্ডের মধ্যে বিটকে প্রতি মিনিটে প্রবেশের দৈর্ঘ্য ÷ ড্রিল বিটের প্রতি মিনিটে ঘূর্ণন সংখ্যা।

সাধারণ কাজের জন্য হাই স্পিড স্টিলের তৈরি ড্রিল বিটের ক্ষেত্রে নিম্নলিখিত হারে ফিড প্রয়োগ করা হয়ে থাকে-

ড্রিল বিটের ব্যাস	ফিড (ড্রিল বিটের প্রতি ঘূর্ণনে)
৩ মি.মি. এর নিচে	০.০২৫ থেকে ০.০৫ মি.মি.
৩ থেকে ৬ মি.মি.	০.০৫ থেকে ০.১০ মি.মি.
৬ থেকে ১২ মি.মি.	০.১০ থেকে ০.১৮ মি.মি.
১২ থেকে ২৫ মি.মি.	০.১৮ থেকে ০.৩৮ মি.মি.
২৫ মি.মি. হতে উর্ধ্ব	০.৩৮ থেকে ০.৬৩ মি.মি.

ফিড প্রয়োজন অপেক্ষা বেশি হলে, ড্রিল কেন্দ্রচ্যুত হয়ে ঘোরে এবং ড্রিল বিটের মুখের তীক্ষ্ণতা নষ্ট হওয়ার আশঙ্কা থাকে। ফিড যদি অনেক বেশি হয় তা হলে 'কাটিং এজ' খণ্ড হয়ে ভেঙ্গে যেতে পারে।

উদাহরণঃ ১

একটি ড্রিল প্রতি মিনিটে ২২৫ বার ঘোরে এবং ছিদ্র করার সময় উহা কার্যবস্তুর মধ্যে প্রতি মিনিটে ৪২ মি.মি. প্রবেশ করে। ড্রিলের ফিড নির্ণয় কর।

সমাধানঃ

ফিড = কার্যবস্তুর মধ্যে ড্রিলের প্রতি মিনিটে প্রবেশের দৈর্ঘ্য × ড্রিলের প্রতি মিনিটে ঘূর্ণন সংখ্যা
= ৪২ মি.মি. × ২২৫ = ০.১৮৬৬৬ মি.মি. = ০.১৮৭ মি.মি.।

উত্তরঃ নির্ণয় ফিড হবে ০.১৮৭ মি.মি.।

২০.৩ কাটিং স্পিড (Cutting Speed) :

ড্রিলিং এর কাটিং স্পিড বলতে ড্রিলের পরিধির সরল গতিকে বোঝায় যা ম্যাটেরিয়াল সারফেস অতিক্রম করে। অর্থাৎ ঘুরন্ত ড্রিলের পরিধির উপর একটি বিন্দু সরল রেখায় যে দূরত্ব অতিক্রম করে তাকে ড্রিলের কাটিং স্পিড বলা হয়। ড্রিল কী ধাতুর তৈরি এবং যে ধাতুকে ছিদ্র করতে হবে, তা কি প্রকার শক্ত এবং গুণ বিশিষ্ট এ সব বিষয়ে বিবেচনা করে আন্তর্জাতিক সংস্থা বা রাষ্ট্রীয়ভাবে স্বীকৃত সংস্থা কর্তৃক কাটিং স্পিড নির্ধারণ করা হয়ে

থাকে। অপারেটর নিজের খেয়াল খুশিমত কাটিং স্পিড নির্বাচন করতে পারেন না। অপারেটরকে কাটিং স্পিড এর ভিত্তিতে প্রতি মিনিটে ঘূর্ণন সংখ্যা অর্থাৎ আর,পি,এম নির্বাচন পূর্বক মেশিন সেট করে ড্রিলিং কার্য সম্পন্ন করতে হয়। ড্রিলিং এর কাটিং স্পিড নিয়ন্ত্রণের সূত্র ব্যবহার করে ড্রিলিং এর জন্য কাটিং স্পিড নির্ণয় করা যায়।

যেমন-

$$CS = \frac{\pi DN}{1000} \text{ মিটার/মিনিট।}$$

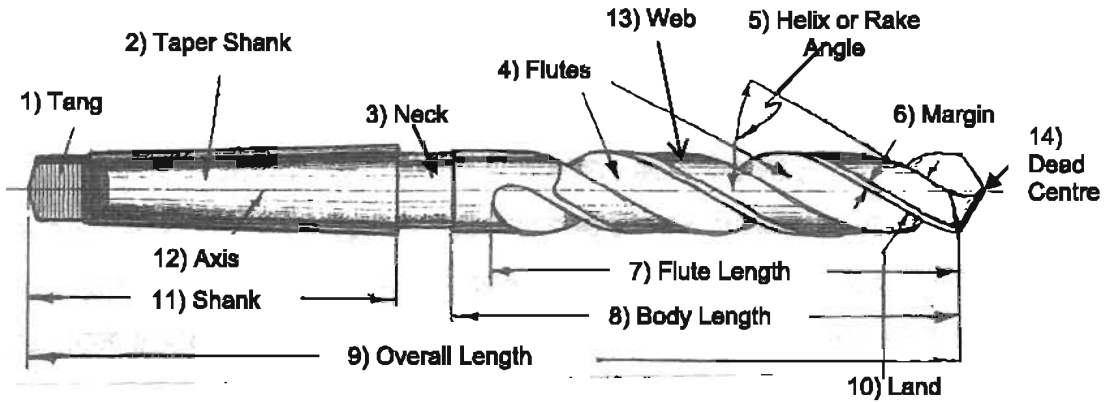
যখন, CS = কাটিং স্পিড, মিটার / মিনিট

D = ড্রিল বিটের ব্যাস, মি.মি

N = প্রতি মিনিটে ড্রিলের ঘূর্ণন সংখ্যা।

$$N = \frac{1000 \times CS}{\pi D}$$

২০.৪ টুইস্ট ড্রিল বিটের বিভিন্ন অংশের নাম :



চিত্র-২০.২: টুইস্ট ড্রিল বিটের বিভিন্ন অংশ

একটি টুইস্ট ড্রিল বিটের বিভিন্ন অংশগুলো হলো-

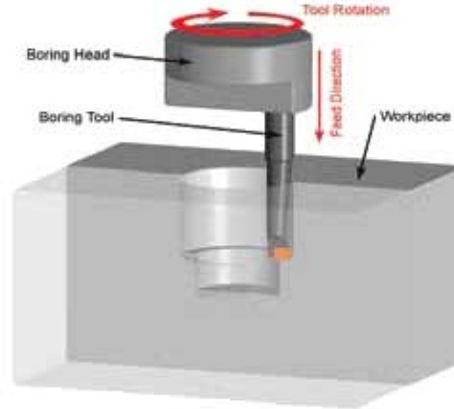
১) ট্যাং, ২) টেপার শ্যাংক, ৩) নেক, ৪) ফ্লুট, ৫) হেলিক্স/রেক অ্যাংগেল, ৬) মার্জিন, ৭) ফ্লুট লেংথ, ৮) বডি লেংথ, ৯) ওভার অল লেংথ, ১০) ল্যান্ড, ১১) শ্যাংক, ১২) অক্ষ, ১৩) ওয়েব, ১৪) ডেড সেন্টার।

২০.৫ ড্রিলিং মেশিনের বিভিন্ন অপারেশনসমূহ :

ড্রিলিং মেশিনে ড্রিলিং ছাড়াও অন্যান্য কতকগুলি কাজ করা যায়। যাকে ড্রিলিং মেশিনের ক্ষেত্রে বিশেষ অপারেশন হিসেবে বিবেচনা করা হয়। বিশেষ বিশেষ ড্রিলিং অপারেশনগুলো নিম্নরূপ-

১) কাউন্টার বোরিং (Counter Boring) :

ছিদ্র বিট দিয়ে পূর্বে ছিদ্র করা প্রান্তে কাউন্টার বোরের সাহায্যে সমকোণী শোক্তার বিশিষ্ট সমকেন্দ্রিক বৃহত্তর ছিদ্র করার জন্য মেশিনিং অপারেশনকে কাউন্টার বোরিং বলা হয়।



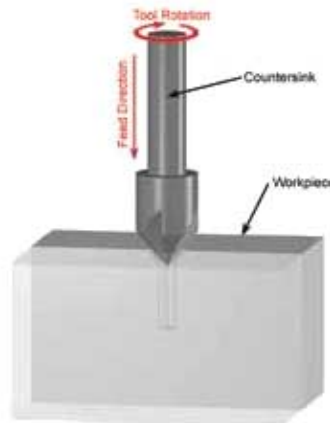
Copyright © 2007 CustomPartNet

চিত্র-২০.৩ঃ কাউন্টার বোরিং প্রক্রিয়া

ব্যবহারঃ কন্ডিস্টার হেড কু বা এই ধরনের আকৃতির অন্যান্য যন্ত্রাংশের হেডের জন্য কাঁকা জারগার ব্যবস্থা করতে কাউন্টার বোরিং এর প্রয়োজন হয়।

২) কাউন্টার সিঙ্কিং (Counter Sinking) :

ছিদ্রের প্রান্তকে কাউন্টার সিঙ্কের সাহায্যে কোণিকভাবে প্রসারিত করার জন্য মেশিনিং অপারেশনকে কাউন্টার সিঙ্কিং বলা হয়।



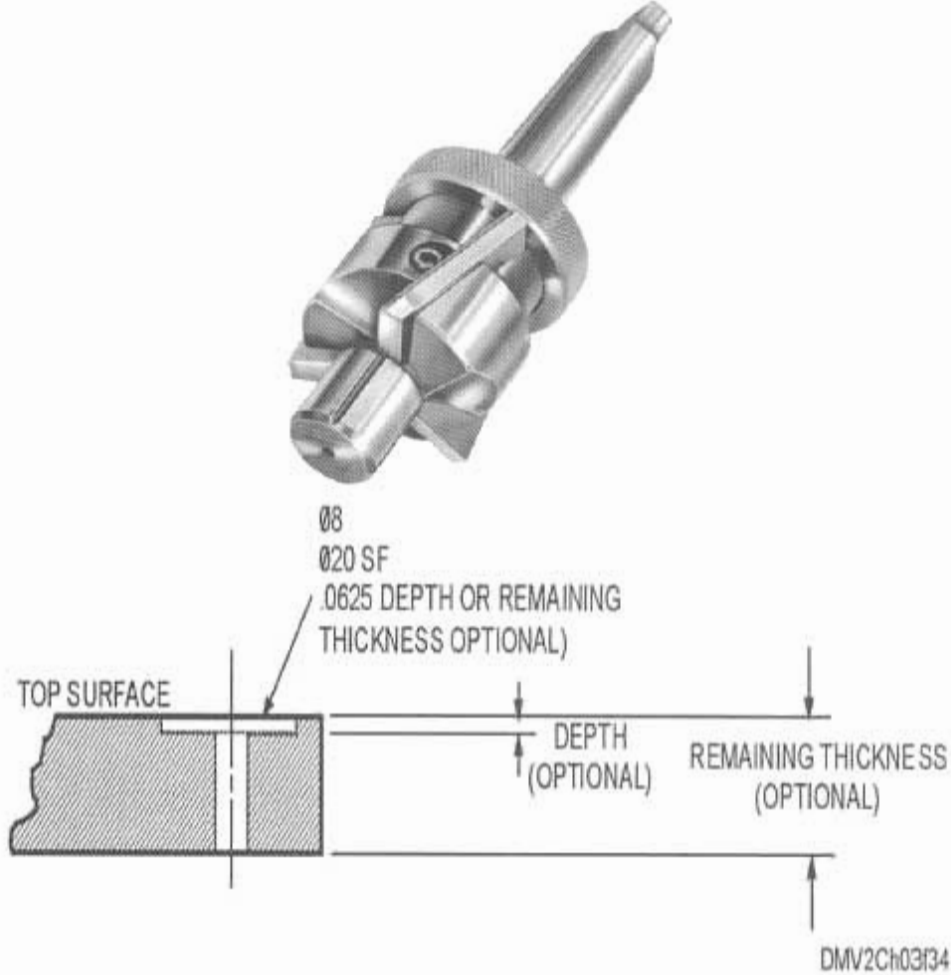
Copyright © 2007 CustomPartNet

চিত্র-২০.৪ঃ কাউন্টার সিঙ্কিং প্রক্রিয়া

ব্যবহারঃ স্ল্যাট হেড কু বা এই ধরনের আকৃতির অন্যান্য যন্ত্রাংশের হেডের জন্য সিটের ব্যবস্থা করতে কাউন্টার সিঙ্কিং করার প্রয়োজন হয়।

৩) স্পট ফেসিং (Spot Facing) :

ছিন্দের উপরিভাগে চতুর্পার্শ্বের পৃষ্ঠকে স্পট ফেসিং টুল দ্বারা সমকোণী এবং মসৃণ করার মেশিনিং অপারেশনকে স্পট ফেসিং বলা হয়।

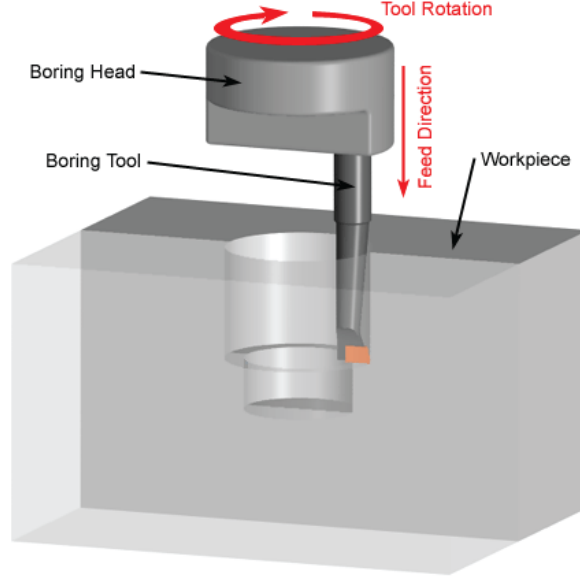


চিত্র-২০.৫ঃ স্পট ফেসিং প্রক্রিয়া

ব্যবহারঃ বোল্ট হেড, নাট বা গুলাশাকের জন্য সিন্দের ব্যবহা করতে স্পট ফেসিং করার প্রয়োজন হয়। সাধারণত চালাইকৃত যন্ত্রাংশের জন্য ইহা বেশি প্রযোজ্য।

৪) বোরিং (Boring) :

পূর্বেকৃত ছিন্দের ব্যাস বড় করতে বা ছিন্দের গভীরতা আরও বাড়াতে বোরিং টুলের সাহায্যে যে মেশিনিং অপারেশন করা হয় উহাকে বোরিং বলে।



চিত্র-২০.৬ঃ বোরিং প্রক্রিয়া

ব্যবহারঃ ছিদ্রের মাপ সূক্ষ্মভাবে নিয়ন্ত্রণ করতে এবং উত্তম মসৃণতা পাওয়ার জন্য বোরিং করার প্রয়োজন হয়। তাছাড়া প্রয়োজনীয় নির্দিষ্ট মাপের ড্রিল বিট না থাকলে সে ক্ষেত্রে কাছাকাছি মাপের ড্রিল বিট দ্বারা ছোট ছিদ্র করে পরবর্তীতে বোরিং অপারেশনের মাধ্যমে ছিদ্রকে বড় করে প্রয়োজনীয় মাপ প্রাপ্তি নিশ্চিত করা হয়।

৫) সেন্টার ড্রিলিং (Center Drilling) :

সেন্টার ড্রিলের সাহায্যে এক সঙ্গে সংযুক্তভাবে একটি খাটো ড্রিলিংকৃত ছিদ্র ও একটি কাউন্টার সিঙ্কিংকৃত ছিদ্র করার জন্য মেশিনিং অপারেশনকে সেন্টার ড্রিলিং বলা হয়। কাউন্টার সিঙ্কিং কোণের পরিমাণ সাধারণত ৬০ ডিগ্রি হয়। তবে ভারী কাজের ক্ষেত্রে কখনও কখনও ৭৫ ডিগ্রি বা ৯০ ডিগ্রি হয়ে থাকে।



চিত্র-২০.৭ঃ সেন্টার ড্রিলিং প্রক্রিয়া

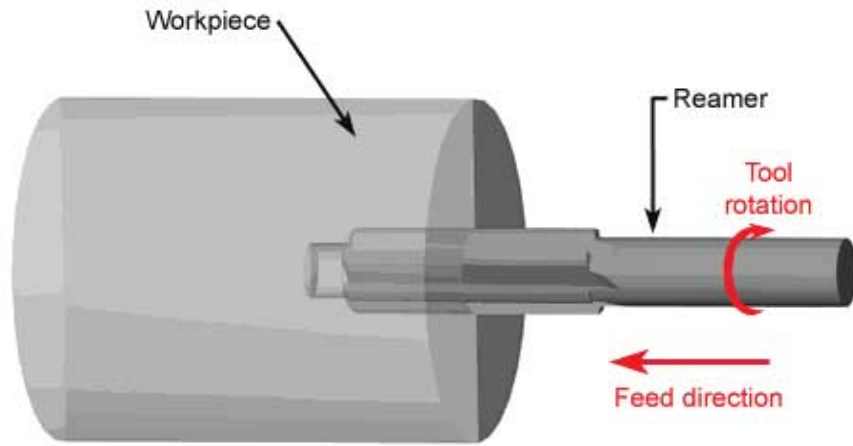
ফর্মা-১৬, মেশিন টুলস অপারেশন-১, ৯ম-১০ম শ্রেণি

ব্যবহার :

প্রধানত সেদ মেশিনে ওয়াকপিপিকে সেন্টারে বেঁধে টার্নিং করার ক্ষেত্রে ওয়াকপিপিসে সেন্টার হোল ড্রিলিং এর জন্য এবং ড্রিলিং মেশিনে সঠিক অবস্থানে ছিদ্র ড্রিলিং করার ক্ষেত্রে সেন্টার হোল ড্রিলিং করে কাজ শুরু করার জন্য সেন্টার ড্রিলিং প্রয়োজন হয়।

৬) রিমিং (Reaming) :

ড্রিলিং বা বোরিংকৃত ছিদ্রকে রিমারের সাহায্যে প্রয়োজনীয় মসৃণতা, সমান্তরালতা, গোলত্ব ও সঠিক আকারসহ ফিনিশিং করার জন্য মেশিনিং অপারেশনকে রিমিং বলা হয়।



চিত্র-২০.৮ঃ রিমিং প্রক্রিয়া

ব্যবহার : ড্রিলিং বা বোরিংকৃত ছিদ্রকে ফিনিশিং অর্থাৎ প্রয়োজনীয় মসৃণতা, সমান্তরালতা, গোলত্ব ও সঠিক আকারে আনার জন্য রিমিং এর প্রয়োজন হয়।

৭) ট্যাপিং (Tapping) : ছিদ্রের মধ্যে ট্যাপ দ্বারা অভ্যন্তরীণ থ্রেড কাটার মেশিনিং অপারেশনকে ট্যাপিং বলে।

ব্যবহার : সাধারণত সমান ব্যাসের বহুসংখ্যক ছিদ্রে অভ্যন্তরীণ থ্রেড কাটতে ট্যাপিং এর প্রয়োজন হয়।

২০.৬ বিভিন্ন প্রকার ড্রিল বিটের প্রয়োগ ক্ষেত্র :

(ক) ফ্ল্যাট ড্রিল বিট (Flat Drill Bit) : হাফি এবং ইনস্ট্রুমেন্ট তৈরির মত সূক্ষ্ম কাজে ফ্ল্যাট ড্রিল ব্যবহৃত হয়। ভাছাড়া গ্র্যানুলিনিয়াম, ম্যাগনেসিয়াম এবং এদের অ্যালয় এর উপর ছিদ্র করতে এই ড্রিল খুবই উপযোগী।

(খ) স্ট্রাইট শ্যাঙ্ক ও টেপার শ্যাঙ্ক ড্রিল বিট (Straight Shank or Taper Shank Drill Bit) : প্রায় সকল প্রকারের ড্রিল বিটই এ দুই প্রকারের হয়ে থাকে। বিভিন্ন গঠনের উপরই কাজের প্রকার এবং ব্যবহার নির্ভরশীল। উভয় প্রকার ড্রিল বিটই সাধারণ ছিদ্র বা ড্রিল করতে ব্যবহৃত হয়।

(গ) ত্রি ও চার ফ্লুটেড ড্রিল বিট (Three or Four Fluted Drill Bit) : এ প্রকার ড্রিলকে কোর ড্রিল বলা হয়। বিন্যাস ছিদ্রের ব্যাস বৃদ্ধি করার জন্য কোর ড্রিল ব্যবহৃত হয়।

(ঘ) কুইক হেলিক্স ড্রিল বিট (Quick Helix Drill Bit) : অ্যালুমিনিয়াম, ম্যাগনেসিয়াম, তামা ও অন্যান্য নরম ধাতু ড্রিল করার জন্য কুইক হেলিক্স ড্রিল ব্যবহৃত হয়।

(ঙ) হেলিক্স ড্রিল বিট (Helix Drill Bit) : পিত্তল, ব্রোঞ্জ, পাল মেটাল এবং বেকেলাইট, এবোনাইট ইত্যাদি হার্ডমেটালিক প্লাস্টিক ড্রিল করতে এ ড্রিল বিট ব্যবহৃত হয়।

(চ) ডিপ হোল ড্রিল বিট (Deep Hole Drill Bit) : গভীর ছিদ্র ড্রিলিং করার জন্য ব্যবহৃত হয়।

(ছ) ক্র্যাঙ্ক শ্যাফট ড্রিল বিট (Crank Shaft Drill Bit) : ক্ষুদ্র ব্যাস বিশিষ্ট গভীর ছিদ্র করার জন্য এই ড্রিল বিট ব্যবহৃত হয়।

(জ) অয়েল হোল ড্রিল বিট (Oil Hole Drill Bit) : অনুবিধাজনক স্থানে গভীর ছিদ্র ড্রিলিং করতে অয়েল হোল ড্রিল বিট ব্যবহৃত হয়।

(ঝ) স্টাব ড্রিল বিট (Stub Drill Bit) : পোর্টেবল ড্রিলিং মেশিন, টারগেট লেদ ও অটো লেদে ড্রিলিং করতে ব্যবহৃত হয়।



চিত্র-২০.৯: বিভিন্ন প্রকার ড্রিলবিট

২০.৭ রেডিয়াল ড্রিলিং মেশিন (Radial Drill Machine) :

বড় এবং ভারী কাজে বিভিন্ন আয়তায় অনেকগুলো ড্রিল করার জন্য রেডিয়াল ড্রিলিং মেশিন আদর্শ স্থানীয়। এ মেশিনে কাজ করা সহজ এবং কাজও তাড়াতাড়ি হয়। অর্থাৎ এ মেশিনে বেশি প্রডাকশন করা সম্ভব হয়। রেডিয়াল ড্রিলিং মেশিনের গঠন খুব মজবুত ও সুন্দর হয়। এ মেশিনের আর্চকে কলামের চারিদিকে ঘুরানো যায় এবং যে কোন স্থানে দৃঢ়ভাবে আটকানো যায়। রেডিয়াল ড্রিলিং মেশিনে ড্রিল বিটকে হাতে বা স্বয়ংক্রিয়ভাবে ফিড দেওয়া যায়।



চিত্র-২০.১০ঃ রেডিয়াল ড্রিলিং মেশিন

মেশিনের ড্রিলিং হেডকে আর্চ-এর যে কোন আয়তায় প্রয়োজনীয় স্থানে আটকানো যায়। ফলে গুন্ডাকপিসের উপর যে কোন স্থানে ড্রিল বিটকে তাড়াতাড়ি বসানো সহজ হয়। আর্চটাকে স্পিন্ডল হেড সহকারে কলামের উপর স্লাইড করে উপরে উঠানো এবং নিচে যে কোনো আয়তায় নামানো যায়। এই মেশিনের বেশ বৃহদাকার, ভারী ও মজবুত। এ কারণে এ মেশিনের বেসের উপর বৃহদাকার ও ভারী গুন্ডাকপিসকে স্থাপন করে ড্রিল করা যায়। বড় মাপের ড্রিলিং ও ট্যাপিংয়ে রেডিয়াল ড্রিলিং মেশিন সুন্দর উৎপাদন কাজে ব্যবহৃত হয়। এ মেশিনে সর্বোচ্চ ড্রিল বিট ধারণ ক্ষমতা হলো ৫০ মি.মি. ব্যাস পর্যন্ত। আর্চের লম্বা মাপ এবং সর্বোচ্চ কক্ষ মাপের ড্রিল করা যাবে এই দুটো উল্লেখ করে রেডিয়াল ড্রিলিং মেশিনের সহিষ্ণু বোঝাতে হয়।

প্রশ্নমালা-২০

অতিসংক্ষিপ্ত প্রশ্ন :

১. ড্রিলিং বলতে কী বোঝায় ?
২. ড্রিল মেশিন কাকে বলে ?
৩. ড্রিলিং এর ক্ষেত্রে কাটিং স্পিড কাকে বলে ?
৪. ড্রিলিং এর ক্ষেত্রে কাটিং ফিড কাকে বলে ?
৫. ট্যাপিং কাকে বলে ?
৬. কাউন্টার সিঙ্কিং কাকে বলে ?
৭. বোরিং কাকে বলে ?

সংক্ষিপ্ত প্রশ্ন :

১. রেডিয়াল ড্রিল মেশিনের গঠন উল্লেখ কর।
২. রেডিয়াল ড্রিল মেশিনের ব্যবহার বর্ণনা কর।
৩. ড্রিলিং এর প্রয়োগ ক্ষেত্র উল্লেখ কর।
৪. পাঁচ প্রকার ড্রিলিং মেশিনের নাম লেখ।

রচনামূলক প্রশ্ন :

১. ড্রিলিং বলতে কী বোঝায় ? ড্রিলিং এর প্রয়োগক্ষেত্র বর্ণনা কর।
২. রেডিয়াল ড্রিলিং মেশিনের গঠন ও ব্যবহার বর্ণনা কর।
৩. ড্রিলিং মেশিনের ৫ (পাঁচ)টি অপারেশনের বর্ণনা কর।
৪. কাটিং স্পিড বলতে কী বোঝায় ? বিভিন্ন ধাতুর জন্য প্রযোজ্য কাটিং স্পিড ছক আকারে দেখাও।
৫. ফিড কী কী বিষয়ের উপর নির্ভর করে ? বিভিন্ন মাপের ড্রিল বিটের জন্য ফিডের পরিমাণ উল্লেখ কর।

ড্রিল বিট (Drill Bits)

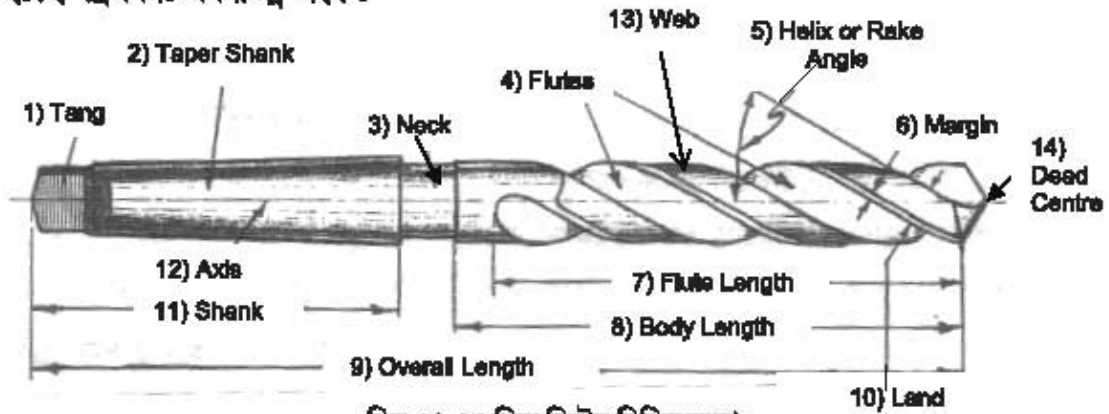
২১.১ ড্রিল বিট :

বাংলায় একে ব্রমর বলে। এটা এক প্রকার কাটিং টুল যাকে ড্রিল মেশিনের সাহায্যে ঘুরিয়ে কোন বস্তুকে ছিদ্র করতে কিংবা ছিদ্রকৃত বস্তুর ছিদ্রের ব্যাস বড় করতে ব্যবহৃত হয়। এটা হাই স্পিড স্টিল অথবা হাই কার্বন স্টিল দ্বারা তৈরি করা হয়। ড্রিল বিটের শ্যাঙ্কে HS অথবা HSS অক্ষরগুলি চিহ্নিত থাকলে বুঝতে হবে উক্ত ড্রিল বিট হাই স্পিড স্টিলের তৈরি এবং কোন চিহ্ন না থাকলে বুঝতে হবে উহা হাই কার্বন স্টিলের তৈরি। কার্বাইড টিপড ড্রিলে হাই স্পিড স্টিলের বডিতে কার্বাইড টিপ ব্রেজিং করা থাকে। আধুনিক ড্রিল বিট নির্মাতাপন বড় আকারের ড্রিল বিটগুলি মূল্য কমানোর জন্য দুই ধাতুর সংযোজন ঘটিয়ে থাকেন। এ ক্ষেত্রে হাই স্পিড স্টিলের তৈরি বডিতে নিম্নমানের স্টিলের শ্যাঙ্ক ওয়েল্ডিং এর মাধ্যমে সংযোগ করে ড্রিল বিট তৈরি করা হয়।



চিত্র-২১.১ঃ ড্রিল বিট

২১.২ ড্রিল বিটের বিভিন্ন অংশ :



চিত্র-২১.২ঃ ড্রিল বিটের বিভিন্ন অংশ

একটি ড্রিল বিটের অংশগুলি হলো-

১. শ্যাঙ্ক (Shank)
২. ট্যাং (Tang)
৩. ফ্লুট (Flute)
৪. মার্জিন (Margin)
৫. লিপ বা কাটিং এজ (Lip or Cutting Edge)
৬. ডেড সেন্টার (Dead Center)
৭. ওয়েব (Web)
৮. বডি ক্লিয়ারেন্স (Body Clearance)

১) শ্যাংক (Shank) :

ড্রিল চাক বা মেশিন স্পিন্ডলে আটকানোর জন্য ব্যবহৃত অংশকে শ্যাংক বলা হয়। ড্রিল বিটের শ্যাংক সাধারণত দুই প্রকারের হয়। যেমন-

স্ট্রেইট বা প্যারালাল শ্যাংক (Straight or Parallel Shank) : অর্থাৎ যার শ্যাংক অংশ সমান মাপের গোল থাকে। সাধারণত ছোট আকারের ড্রিল বিট সাধারণ (১২ মি.মি. পর্যন্ত) স্ট্রেইট শ্যাংক বিশিষ্ট হয়।

টেপার শ্যাংক (Taper Shank) : অর্থাৎ যার মাথার অংশ গোলাকার এবং ক্রমশ সরু। ৩ মি.মি. থেকে বেশি ব্যাস বিশিষ্ট ড্রিল বিট সাধারণ টেপার শ্যাংক বিশিষ্ট হয়।

২) ট্যাং (Tang) :

টেপার শ্যাংক ড্রিল বিটে টেপারের শেষে খানিকটা জায়গা চ্যাপ্টা করে কাটা থাকে। এই চ্যাপ্টা অংশের নাম ট্যাং। ড্রিল বিটের ট্যাং অংশটা সকেটের মধ্যে অথবা স্পিন্ডলের মধ্যে যেখানে স্লট কাটা থাকে, সেখানে ফিট করা হয়। ড্রিল বিট ঘুরে গিয়ে বা স্লিপ করে যাতে খুলে না যায় তার জন্য এই অংশ কাজ করে। ট্যাং কোন ক্ষতি ব্যতিরেকে সকেট বা স্পিন্ডল থেকে ড্রিফট এর সাহায্যে ড্রিল বিটকে বের করতে সাহায্য করে।

৩) ফ্লুট (Flute) :

ড্রিল বিটের বডিতে যে গর্ত কাটা থাকে তাকে ফ্লুট বলে। এটা টুইস্ট ড্রিল বিটে মোচড়ানো থাকে। সাধারণত ড্রিল বিটে দুইটি ফ্লুট থাকে। ফ্লুট এর গভীরতা সকল স্থানে সমান থাকে না। ফ্লুট কাটিং এজ থেকে শ্যাংক এর দিকে যতই অগ্রসর হতে থাকে ততই ইহার গভীরতা কমতে থাকে এবং প্রশস্ততা বাড়তে থাকে। ফ্লুটের এই প্রকার গঠনের কারণে কর্তিত ধাতু খণ্ডগুলি ছিদ্রের মধ্য হতে বাহির হয়ে আসার সময় ড্রিলের গাত্র হতে ক্রমশঃ সরে আসতে সহায়তা লাভ করে। ফ্লুট থাকার ফলে যে সমস্ত সুবিধা পাওয়া যায় সেগুলো হলো-

- ❖ ফ্লুট কাটিং এজ গঠনে সহায়তা করে।
- ❖ ইহা কর্তিত খণ্ডগুলিকে কুণ্ঠিত করে।
- ❖ ইহা কর্তিত খণ্ডগুলিকে ছিদ্রের মধ্যে হতে বাহির হয়ে আসার পথ করে দেয়।
- ❖ ইহা পানি বা কাটিং কম্পাউন্ডকে কাটিং এজ এর সন্নিহিত স্থানে পৌছাতে সাহায্য করে।

৪) মার্জিন (Margin) :

ফ্লুটের পার্শ্ব বরাবর সরু এবং উঁচু অংশকে মার্জিন বলে অর্থাৎ ড্রিল বিটের উপরিভাগে যে স্থানটুকু অব্যাহত রেখে অবশিষ্ট স্থানকে ক্ষয় করা হয়ে থাকে বা বডি ক্লিয়ারেন্স যা ছাড় দেওয়া থাকে তাই হলো মার্জিন। মার্জিনসহ ড্রিল বিটের যে ব্যাস তাকে পূর্ণ ব্যাস বলা হয়। মার্জিনের অপর নাম ল্যান্ড (Land)। মার্জিন সাধারণত ১.৫ মি.মি. থেকে ৩ মি.মি. পর্যন্ত হয়ে থাকে। মার্জিন ড্রিল বিটের সমগ্র উপরিভাগকে ঘর্ষণের হাত থেকে রক্ষা করে।

৫) কাটিং এজ (Cutting Edge) :

ছিদ্র করার সময় ড্রিল বিট যে তীক্ষ্ণ অংশ দ্বারা ধাতুকে কাটে তাকে ড্রিল বিটের কাটিং এজ বলা হয়। প্রতিটি ফ্লুট দ্বারা এক একটি কাটিং এজ গঠিত হয়। কাটিং এজের দৈর্ঘ্য সর্বদা সমান থাকা প্রয়োজন। ড্রিল বিটকে সাধারণত ডানদিকে ঘুরানো হয় বলে কাটিং এজ ও অনুরূপভাবে ডানদিকে কাটার উপযোগী করে তৈরি করা হয়। কাটিং এজের দুইপাশের দৈর্ঘ্য সমান না হলে ছিদ্র ওভার সাইজ বা বড় হয়ে থাকে।

৬) ডেড সেন্টার (Dead Center) বা ড্রিল পয়েন্ট (Drill Point) :

চলিতভাবে এটাকে ড্রিলের মুখ বলা হয়। ট্যাং এর বিশরীতে সর্বশেষ প্রান্তে ড্রিল অক্ষ বরাবর তীক্ষ্ণ এজকে ডেড সেন্টার বলা হয়। নামে এটি পয়েন্ট বা সেন্টার হলেও প্রকৃতপক্ষে এটা একটি বিন্দুতে থাকে না, এটার একটি নির্দিষ্ট দৈর্ঘ্য থাকে। সরু ড্রিলের বেলায় এই ডেড সেন্টার বিন্দুর মত দেখালেও বড় ড্রিল বিটের বেলায় এই দৈর্ঘ্য ৩ মিমি পর্যন্ত হয়ে থাকে।

৭) ওয়েব (Web) : ড্রিল বিটের ফ্লুট বাদ দিলে মাঝখানে যে সিলিন্ড্রিক্যাল সারকেস থাকে তার নাম ওয়েব। অর্থাৎ ড্রিল বিটের সমস্ত দৈর্ঘ্য ব্যাপী উভয় ফ্লুটের মধ্যবর্তী স্থানকে ওয়েব বলা হয়। এটি ড্রিল বিটের ধাতব জন্ত বা ড্রিল বিটকে শক্তিশালী করে। পয়েন্টের দিক থেকে ওয়েব শ্যাংকের দিকে ক্রমশ মোটা হয়।

৮) বডি ক্লিয়ারেন্স (Body Clearance) :

ড্রিল বিটের মার্জিনের ব্যাস থেকে বডির ব্যাস কিছুটা কম রাখা হয়। উভয় প্রকার মাপের পার্থক্যকেই বডি ক্লিয়ারেন্স বলা হয়। বডি ক্লিয়ারেন্স থাকার কারণে ড্রিল বিটের সারকেসের সাথে ছিদ্রের সারকেসে ঘর্ষণ লাগে না। ফলে ড্রিল বিট ও ওয়াক্‌পিস কম গরম হয়।

২১.৩ ড্রিল বিটের শ্রেণিবিভাগ :

ড্রিল বিটের গঠন অনুসারে :

ড্রিল বিটকে বডির গঠন অনুযায়ী প্রধানত দুইটি শ্রেণিতে বিভক্ত করা যায়। যেমন-

১) ফ্ল্যাট ড্রিল বিট (Flat Drill Bit) :

এই প্রকার ড্রিল বিটের মুখের সন্নিহিত স্থান সমতল হয়। সাধারণত কামারশালায় পিটিয়ে এটি তৈরি করা হয়। এটি অতি সহজে, কম খরচে ও অল্প সময়ে তৈরি করা যায়।



চিত্র-২১.৩ : ফ্ল্যাট ড্রিল বিট

২) টুইস্ট ড্রিল বিট (Twist Drill Bit) : এই প্রকার ড্রিল বিটের উপরিভাগে মোচড়ানো বা প্যাচানো রকমের নালী বা ফ্লুট কাটানো থাকে। এটা আধুনিক মেশিন দ্বারা তৈরি করা হয়। টুইস্ট ড্রিল বিটকে প্রধানত দুইভাগে ভাগ করা হয়। যেমন-

ক) স্ট্যান্ডার্ড টুইস্ট ড্রিল বিট :

- স্ট্রেইট শ্যাংক ড্রিল বিট (Straight Shank Drill Bit)



চিত্র-২১.৪ : স্ট্রেইট শ্যাংক ড্রিল বিট

- টেপার শ্যাংক ড্রিল বিট (Taper Shank Drill Bit)



চিত্র-২১.৫ : টেপার শ্যাংক ড্রিল বিট

খ) বিশেষ ধরনের টুইস্ট ড্রিল বিট :

১. থ্রি ও ফোর ফ্লুটেড ড্রিল বিট (Three or Four Fluted Drill Bit)



চিত্র-২১.৬ : ফোর ফ্লুটেড ড্রিল বিট

২. কুইক হেলিক্স ড্রিল বিট (Quick Helix Drill Bit)
৩. স্লো হেলিক্স ড্রিল বিট (Slow Helix Drill Bit)
৪. ডিপ হোল ড্রিল বিট (Deep Hole Drill Bit)
৫. ক্র্যাংক শ্যাফট ড্রিল বিট (Crank Shaft Drill Bit)
৬. ওয়েল হোল ড্রিল বিট (Oil Hole Drill Bit)
৭. স্টাব ড্রিল বিট (Stub Drill Bit)
৮. স্টেপ ড্রিল বিট (Step Drill Bit)

ড্রিল বিটের মাপ অনুসারে :

ড্রিল বিটকে মাপের প্রকাশ অনুসারে চারভাগে ভাগ করা যায়। যেমন-

১) মিলিমিটার সাইজ ড্রিল বিট :

ড্রিল বিট সমূহের স্ট্যান্ডার্ড আকার মেট্রিক পদ্ধতিতে মিলিটারে প্রকাশ করা হয়। মিলিমিটার ড্রিল বিট সাধারণত ০.২৫মি.মি. থেকে ৮০মি.মি. পর্যন্ত ব্যাস বিশিষ্ট হয়ে থাকে। এদের প্রচলিত ধাপসমূহ নিম্নরূপ-

০.২৫ মি.মি. থেকে ১০ মি.মি., প্রতি ধাপে বৃদ্ধি = ০.০৫ মি.মি.।

১০ মি.মি. এর উর্ধ্ব, প্রতি ধাপে বৃদ্ধি = ০.৫ মি.মি.।

বিশেষ ক্ষেত্রে ০.২৫ মিমি ব্যাসের নিচেও মিলিমিটার ড্রিল বিট পাওয়া যায় এবং এক্ষেত্রে প্রতি ধাপে বৃদ্ধি হলো ০.০১ মি.মি.।

২) লেটার সাইজ ড্রিল বিট :

ইংরেজি A হতে Z অক্ষর দ্বারা ড্রিল বিটের মাপ প্রকাশ করা হয়। A থেকে সর্ব নিম্ন আকারের শুরু এবং এর মান ০.২৩৪ ইঞ্চি বা ৫.৯৪ মি.মি. আর Z হলো সর্বোচ্চ আকার এবং এর মান ০.৪১৩ ইঞ্চি বা ১০.৪৯ মি.মি.।

৩) নম্বর সাইজ ড্রিল বিট :

১ থেকে ৮০ পর্যন্ত সংখ্যা বা নাম্বার দ্বারা মাপ প্রকাশ করা হয়। ৮০ নাম্বার থেকে সর্বনিম্ন আকার শুরু হয় এবং এর মান ০.১৩৫ ইঞ্চি বা ০.৩৪৫ মি.মি. আর, ১ হলো সর্বোচ্চ আকার এবং এর মান ০.২২ ইঞ্চি বা ৫.৭৯ মি.মি.।

৪) ইঞ্চির ভগ্নাংশ (Fraction) সাইজ ড্রিল বিট :

$\frac{১}{৬৪}$ ইঞ্চি ক্রমের ভগ্নাংশসহ পূর্ণ সংখ্যা দ্বারা মাপ প্রকাশ করা হয়। যেমন-

$\frac{১}{৬৪}$, $\frac{১}{৩২}$, $\frac{১}{৮}$, $১ \frac{১}{৪}$, $২ \frac{১}{১৬}$ ইঞ্চি ইত্যাদি।

২১.৪ ওয়াকপিসের বিভিন্ন ধাতুর ক্ষেত্রে ড্রিল বিটের কাটিং ও ক্লিয়ারেন্স এঙ্গেল নির্ধারণ :**কাটিং এঙ্গেল নির্ধারণ :**

ড্রিল বিটের কাটিং এঙ্গেলের অপর নাম লিপ এঙ্গেল। ড্রিল বিটের কাটিং এজ এর অক্ষের সাথে যে কোণ উৎপন্ন করে তাকে কাটিং এঙ্গেল বলা হয়। সাধারণ কাজে এই কোণ ৫৯° রাখা হয়। ফলে দুইটি কাটিং এজের অন্তর্বর্তী কোণ ১১৮° (৫৯° এর দ্বিগুণ) হয়। দুইটি কাটিং এঙ্গেলের সমষ্টিকে পয়েন্ট এঙ্গেল বলা হয়। অর্থাৎ কাটিং এঙ্গেল পয়েন্ট এঙ্গেলের অর্ধেক হয়। বিভিন্ন বস্তুভেদে কাজ করার জন্য ড্রিলিং এর ক্ষেত্রে পয়েন্ট এঙ্গেল এর পরিমাণ বিভিন্ন হয়। নিম্নের ছকে উহা উল্লেখ করা হলো-

ওয়াকপিস ম্যাটারিয়াল	পয়েন্ট এঙ্গেল
স্টিল, কাস্ট আয়রন, অ্যালয়েড ও ননঅ্যালয়েড কাস্টিংস	১১৮
ব্রাস, ব্রোঞ্জ, নিকেল, জিঙ্ক অ্যালয় ও হোয়াইট মেটাল	১১৮
হিটট্রিটেড স্টিল, অ্যালয় স্টিল	১২৫ -১৩৫
স্টেইনলেস স্টিল	১৪০
হোয়াইট কাস্ট আয়রন, স্টীল রেইল	১৫০
কপার, অ্যালুমিনিয়াম, প্লাস্টিক, শক্ত রাবার, নরম কাস্ট আয়রন	৮০ -১০০
কাঠ	৬০

ক্লিয়ারেন্স এঙ্গেল নির্ধারণ :

পয়েন্ট কাটিং এজের ঠিক পিছনের অংশে যা গ্রাইন্ডিং করে কমানো হয় অর্থাৎ কাটিং এজের পশ্চাৎ দিকে যে কোণে ঢালু করা থাকে তাকে ক্লিয়ারেন্স এঙ্গেল বলা হয়। ধাতু ভেদে এই কোণের পরিমাণ বিভিন্ন রকম হয়। নিম্নে উহা উল্লেখ করা হলো-

ওয়াকপিস ম্যাটারিয়াল	ক্লিয়ারেন্স এঙ্গেল
নরম এবং সাধারণ স্টিল, সাধারণ কাস্ট আয়রন	১২ -১৫
শক্ত স্টিল	৮ -১২
ব্রাস, ব্রোঞ্জ, কপার ও অ্যালুমিনিয়াম	১২ -১৫
প্লাস্টিক, শক্ত রাবার	১৫ -২০

২১.৫ কার্যোপযোগী ড্রিল বিটের ব্যবহার :

নিম্নে কার্যোপযোগী ড্রিল বিট চিনে ব্যবহার করার জন্য নিম্নে কিছু কার্যোপযোগী ড্রিল বিটের গুণাবলী দেওয়া হলো-

- ১) যে ড্রিল বিটের শ্যাংক, ট্যাং, এবং বডি সম্পূর্ণ সোজা থাকে এবং উপরিভাগে কোন আঘাতের চিহ্ন বা অতিরিক্ত ধাতু থাকে না।
- ২) যে ড্রিল বিটের ফ্লুটে কোন ফাটল থাকে না।
- ৩) যে ড্রিল বিটের কাটিং এজের দৈর্ঘ্য পরস্পর সমান থাকে এবং উহা ড্রিলের অক্ষের সাথে প্রত্যেক দিকে সমান কোণে গঠিত।
- ৪) যে ড্রিল বিটের ক্লিয়ারেন্স এঙ্গেল উভয় দিকে সমান এবং ওয়াকপিসের ধাতু অনুসারে সঠিক আছে।
- ৫) যে ড্রিল বিটের কাটিং এজ ধারালো এবং কোথাও ভাঙ্গা নেই।
- ৬) যে ড্রিল বিটের মার্জিন অংশ মসৃণ এবং সম্পূর্ণ আঘাত চিহ্ন মুক্ত।
- ৭) যে ড্রিল বিটের ডেড সেন্টার বা পয়েন্ট অক্ষের ঠিক মাঝখানে অবস্থিত।
- ৮) যে ড্রিল বিটের কাটিং অ্যাংগেল ধাতু অনুসারে সঠিক আছে।

প্রশ্নমালা-২১

অতিসংক্ষিপ্ত প্রশ্ন :

১. ড্রিল বিট বলতে কী বোঝায় ?
২. ড্রিল বিটের মাপ বলতে কী বোঝায় ?
৩. থ্রি ও ফোর ফ্লুটেড ড্রিল বিট কী কাজে ব্যবহৃত হয় ?
৪. স্লো হেলিক্স ড্রিল বিট কী কাজে ব্যবহৃত হয় ?
৫. সাধারণ কাজে ড্রিল বিটের পয়েন্ট এঙ্গেল কত ডিগ্রি হয় ?
৬. লোটর সাইজ ড্রিল বিটের সর্বোচ্চ এবং সর্বনিম্ন মাপ কত মি.মি. ?
৭. নম্বর সাইজ ড্রিল বিটের সর্বোচ্চ এবং সর্বনিম্ন মাপ কত মি.মি. ?
৮. কাউন্টার সিঙ্কিং কাকে বলে ?
৯. বোরিং কাকে বলে ?
১০. ড্রিল বিট কী কী ধাতু দ্বারা তৈরি হয় ?

সংক্ষিপ্ত প্রশ্ন :

১. ড্রিল বিটের বিভিন্ন অংশের নাম লেখ।
২. ড্রিল বিটের মার্জিন অংশের প্রয়োজনীয়তা উল্লেখ কর।
৩. বিভিন্ন প্রকার টুইস্ট ড্রিল বিটের নাম লেখ।
৪. মাপ অনুসারে ড্রিল বিটের শ্রেণিবিভাগ উল্লেখ কর।
৫. বিভিন্ন ধাতুর জন্য প্রযোজ্য পয়েন্ট এঙ্গেলের পরিমাণ উল্লেখ কর।
৬. বিভিন্ন ধাতুর জন্য প্রযোজ্য ক্লিয়ারেন্স এঙ্গেলের পরিমাণ উল্লেখ কর।
৭. ড্রিলিং মেশিনের প্রধান অংশগুলির কাজ সংক্ষেপে বর্ণনা কর।
৮. ড্রিল বিটে ফ্লুট থাকার সুবিধাগুলি উল্লেখ কর।

রচনামূলক প্রশ্ন :

১. চিত্রসহ ড্রিল বিটের বিভিন্ন অংশগুলির গঠন ও ব্যবহার বর্ণনা কর।
২. ড্রিল বিটের শ্রেণিবিভাগ ব্যাখ্যা কর।
৩. বিভিন্ন প্রকার ড্রিল বিটের ব্যবহার বর্ণনা কর।
৪. কার্যোপযোগী ড্রিল বিট নির্বাচনের ক্ষেত্রে যাচাই এর জন্য লক্ষণীয় বিষয়গুলি উল্লেখ কর।

ট্যাপিং (Taping)

২২.১ ট্যাপিং :

ট্যাপ নামক এক প্রকার মেটাল কাটিং টুল দ্বারা গোলাকার ছিদ্রের ভিতরে অভ্যন্তরীণ হু-থ্রেড বা গ্যাচ (Internal Thread) উৎপন্ন করার পদ্ধতিকে ট্যাপিং বলা হয়। ট্যাপ হাই কার্বন স্টিল বা হাইস্পিড স্টিল দ্বারা তৈরি হয় এবং হু-থ্রেড কাটি অংশটি টেম্পার দেওয়া থাকে। টেম্পার দেওয়ার কারণে ট্যাপ কিছুটা ভঙ্গুর থাকে, তাই সতর্কতার সাথে ট্যাপিং করতে হয়। ট্যাপিং করার পূর্বে ওয়াকপিসের নির্দিষ্ট জায়গায় প্রথমে ইস্টারনাল থ্রেডের ব্যাল অনুসারী ড্রিলিং করে ছিদ্র করে নিতে হয়। উল্লেখ্য যে, ইস্টারনাল থ্রেডের মাইনর ডায়ামিটারের সমান ডায়ামিটারের ড্রিল করতে হয়। একটি ট্যাপ রেক্সের সাহায্যে ট্যাপ এর শ্যাঙ্ককে দৃঢ়ভাবে আটকিয়ে তারপর দৃঢ়ভাবে তাইসে বাঁধা ওয়াকপিসের ছিদ্রের মধ্যে আতে আতে ঘুরিয়ে ট্যাপকে প্রবেশ করাতে হয়। মাঝে মাঝে বিরতি দিয়ে লুব্রিকেটিং ওয়েল নিতে হয়। ট্যাপিং এর জন্য হ্যান্ড ট্যাপ, ট্যাপ রেক্স, কার্ববন্ড, ওয়েল ক্যান এবং ট্রাই-ক্যান প্রয়োজন হয়।



চিত্র-২২.১ : বিভিন্ন ধরনের ট্যাপ এবং ট্যাপ রেক্স

ট্যাপিং এর প্রয়োগ কেরা হলো-

- মেসামত ও রক্ষাবেক্ষণের কাজ।
- নির্মাণ কাজ।
- মেশিন ইনস্টলেশনের কাজ।
- অস্থায়ী স্কেডার কাজ।
- সাধারণ ফিটিং এর কাজ।
- প্লাবিং এর কাজ।
- নাট তৈরিতে।



চিত্র-২২.২ : ট্যাপিং এর মাধ্যমে তৈরি করা নাটের ইস্টারনাল থ্রেড

ট্যাপিং এ তৈলাক্ত করণের প্রয়োজনীয়তা :

ট্যাপিং এর সময় ছিদ্রের মধ্যে বিভিন্ন ধাতু অনুসারে তৈল প্রয়োগ করতে হয়। এই তৈল প্রয়োগ করাকে তৈলাক্তকরণ বা লুব্রিকেশন (Lubrication) বলা হয়। ট্যাপিং এর সময় তৈল প্রয়োগের সুবিধা নিম্নে উল্লেখ করা হলো-

- কার্যবস্ত্র ও কাটিং টুলের মধ্যে ঘর্ষণ কমিয়ে দেয়।
- খ্রেড মসৃণ করে।
- খ্রেড কাটা সহজ হয়।
- চিপ বের হয়ে আসতে পারে।
- ট্যাপ এর কার্যক্ষমতা স্থায়ীত্ব বেড়ে যায়।

ট্যাপিং এ ব্যবহৃত ধাতু অনুসারে মসৃণকারক তৈলের তালিকা :

ওয়াকপিস ম্যাটারিয়াল	মসৃণকারক তৈল
কাস্ট আয়রন (সাধারণ)	আবশ্যিক হয় না
কাস্ট আয়রন (খুব শক্ত)	তারপিন তৈল
মাইল্ড স্টিল	কাটিং অয়েল
শক্ত স্টিল	কাটিং অয়েল
ব্রাস, ব্রোঞ্জ	আবশ্যিক হয় না
অ্যালুমিনিয়াম	কেরোসিন বা তারপিন তৈল

২২.২ বিভিন্ন স্ট্যান্ডার্ড ট্যাপ :

সহজে শনাক্ত করণের জন্য ট্যাপের শ্যাংকের উপর সাইজ এবং স্ট্যান্ডার্ড লেখা থাকে। বিভিন্ন স্ট্যান্ডার্ডের ট্যাপ এর নাম নিচে দেওয়া হলো-

- ১) আমেরিকান ন্যাশনাল কোর্স (American National Course-ANC) স্ট্যান্ডার্ড ট্যাপ।
- ২) আমেরিকান ন্যাশনাল ফাইন (American National Fine-ANF) স্ট্যান্ডার্ড ট্যাপ।
- ৩) ইউনিফাইড ন্যাশনাল কোর্স (Unified National Course-UNC) স্ট্যান্ডার্ড ট্যাপ।
- ৪) ইউনিফাইড ন্যাশনাল ফাইন (Unified National Fine-UNF) স্ট্যান্ডার্ড ট্যাপ।
- ৫) ব্রিটিশ স্ট্যান্ডার্ড হুইটওয়ার্থ (British Standard Whitworth-BSW) স্ট্যান্ডার্ড ট্যাপ।
- ৬) ব্রিটিশ স্ট্যান্ডার্ড ফাইন (British Standard Fine -BSF) স্ট্যান্ডার্ড ট্যাপ।
- ৭) ব্রিটিশ অ্যাসোসিয়েশন (British Association-BA) স্ট্যান্ডার্ড ট্যাপ।
- ৮) মেট্রিক স্ট্যান্ডার্ড (Metric Standard-MS) ট্যাপ।

২২.৩ ট্যাপ ড্রিল সাইজ (Tap Drill Size) :

ট্যাপিং অপারেশনের পূর্বে খ্রেডের জন্য প্রয়োজনীয় ধাতু রেখে ধাতুর মধ্যে ড্রিলের সাহায্যে হোল বা গর্ত করতে হয়। এ গর্ত বা ছিদ্রকে ট্যাপ সাইজ হোল বা ট্যাপ সাইজ ড্রিল বলা হয়। ট্যাপ সাইজ ড্রিল করার জন্য যে সাইজের ড্রিল বিট ব্যবহার করতে হবে সেই সাইজকে ট্যাপ ড্রিল সাইজ বলা হয়। উল্লেখ্য যে, ট্যাপ দ্বারা খ্রেডের পূর্ণ গভীরতার মাত্র ৭৫% থেকে ৮৮% পর্যন্ত কাটা যায়। কাজেই ট্যাপ ড্রিল সাইজ খ্রেডের মাইনর বা কোর ডায়ামেটার থেকে বড় হয়। ট্যাপ ড্রিল সাইজ নির্বাচন অত্যন্ত গুরুত্বপূর্ণ কাজ এবং সতর্কতার সাথে তা করতে হয়। কারণ ট্যাপ ড্রিল সাইজ ছোট হলে ছিদ্রের মধ্যে ট্যাপ আটকে যাবে এবং অতিরিক্ত চাপে ট্যাপ ভেঙ্গে যাবে। আবার ট্যাপ ড্রিল সাইজ বড় হলে খ্রেডের গভীরতা কম হবে, ফলে খ্রেডের মধ্যে বোল্টের সংযোগ টিলা থাকে এবং দীর্ঘস্থায়ী হয় না। ট্যাপের বাহিরের মাপ থেকে উভয় দিকের গভীরতার মাপ বিয়োগ করলে খ্রেডের কোর ডায়ামেটার পাওয়া যায় এবং এ মাপের ড্রিল বিট দিয়ে ধাতুখণ্ডের মধ্যে ছিদ্র করতে হয়।

Tap Drill Size

Hole drilled to correct tap drill size

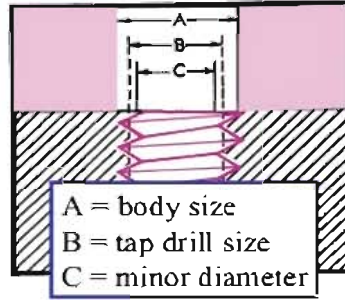
- Leave proper amount of material for tap to cut thread (75%)

$$TDS = D - \frac{1}{N}$$

Find tap drill size for a
7/8 in. -9NC tap

$$TDS = \frac{7}{8} - \frac{1}{9}$$

$$= .875 - .111 = .764 \text{ in.}$$



TDS = tap drill size

D = major diameter of tap

N = number of threads per inch

চিত্র-২২.৩ : ট্যাপ ড্রিল সাইজ

২২.৪ ট্যাপ ড্রিল সাইজ নির্ধারণ পদ্ধতি :

বি. এস. ডব্লিউ শ্রেডের জন্য ট্যাপ ড্রিল সাইজ = আউটসাইড ডায়ামেটার - $\frac{1.2806}{T.P.I}$

এই সূত্র অনুসারে ট্যাপ সাইজ ড্রিল করলে, শ্রেডের ফর্ম বা আকৃতি পুরোপুরি পাওয়া যায়। কিন্তু সাধারণ কাজের জন্য সম্পূর্ণ শ্রেড ফর্ম বা ১০০% পূর্ণ শ্রেড দরকার হয় না। শ্রেডের শীর্ষ বা ড্রেন্ট সঠিক ফর্মের না হলে যদি সামান্য চ্যান্টা হয় অর্থাৎ সম্পূর্ণ শ্রেড যদি না উৎপন্ন হয় তাহলেও সাধারণ কাজের বেলায় তেমন অসুবিধা হয় না। এই জন্য সাধারণ কাজের বেলায় ট্যাপ সাইজ ড্রিলের মাপ নিচের সূত্রানুসারে নির্ণয় করা প্রয়োজন।

সাধারণ কাজের ক্ষেত্রে,

ট্যাপ ড্রিল সাইজ = আউটসাইড ডায়ামেটার - $\frac{0.88 \times 1.2806}{T.P.I}$ = আউটসাইড ডায়ামেটার - $\frac{1.13}{T.P.I}$

ট্যাপ ড্রিল সাইজ নির্ণয় করতে সাধারণত নিচের সূত্রাবলী ব্যবহার করা হয়-

$$T.D.S = D - P \text{ (আমেরিকান ন্যাশনাল শ্রেড)}$$

$$T.D.S = D - P \text{ (মেট্রিক শ্রেড)}$$

$$T.D.S = D - 1.13 P \text{ (ব্রিটিশ স্ট্যান্ডার্ড - B.S.W, B.S.F)}$$

$$T.D.S = D - \frac{1.13}{T.P.I} \text{ (কারণ, } P = \frac{1}{T.P.I} \text{)}$$

এখানে,

T.D.S = ট্যাপ ড্রিল সাইজ

D = শ্রেডের বাহিরের ব্যাস বা ট্যাপের সাইজ

P = শ্রেডের পিচ

T.P.I = প্রতি ইঞ্চিতে থ্রেড সংখ্যা (Thread Per Inch)

তাছাড়া ট্যাপ ড্রিল সাইজ নির্ণয়ের জন্য নিম্নের ছক ব্যবহার করা হয়। যথা-

Tap drill bit size table:

Imperial Tap & drill bit size table

Tap	Fractional Drill Bit	Number Drill Bit	Letter Drill Bit
0-80	3/64	-	-
1-64	-	53	-
2-56	-	50	-
3-48	-	47	-
4-40	3/32	43	-
5-40	-	38	-
6-32	7/64	36	-
8-32	-	29	-
10-24	5/32	25	-
10-32	5/32	21	-
12-24	11/64	16	-
1/4-20	13/64	7	-
1/4-28	7/32	3	-
5/16-18	17/64	-	F
5/16-24	-	-	I
3/8-16	5/16	-	-
3/8-24	21/64	-	Q
7/16-14	23/64	-	U
7/16-20	25/64	-	-
1/2-13	27/64	-	-
1/2-20	29/64	-	-
9/16-12	31/64	-	-
9/16-18	33/64	-	-
5/8-11	17/32	-	-
5/8-18	37/64	-	-
3/4-10	21/32	-	-
3/4-16	11/16	-	-

Drill sizes are for 75% depth of thread.

Metric Tap & drill bit size table

Tap	Metric Drill	Imperial Drill
3 mm x 0.5	2.5 mm	-
4 mm x 0.7	3.4 mm	-
5 mm x 0.8	4.3 mm	-
6 mm x 1.0	5.2 mm	-
7 mm x 1.0	6.1 mm	15/64
8 mm x 1.25	6.9 mm	17/64
8 mm x 1.0	7.1 mm	-
10 mm x 1.5	8.7 mm	-
10 mm x 1.25	8.8 mm	11/32
10 mm x 1.0	9.1 mm	-
12 mm x 1.75	10.5 mm	-
12 mm x 1.5	10.7 mm	27/64
14 mm x 2.0	12.2 mm	-
14 mm x 1.5	12.7 mm	1/2
16 mm x 2.0	14.2 mm	35/64
16 mm x 1.5	14.7 mm	-

Drill sizes are for 75% depth of thread.

BRITISH STD CYCLE (CEI)		
BSCy (60°)		
Sizes	TPI	Drill
1/8"	40	2.65
5/32"	32	3.3
3/16"	32	4.1
1/4"	26	5.6
5/16"	26	7.2
3/8"	26	8.7
7/16"	26	10.3
1/2"	26	11.9
9/16"	20	13.1
9/16"	26	13.5
5/8"	20	14.5
5/8"	26	15.0
3/4"	20	17.8
3/4"	26	18.2

MODEL ENGINEER THREADS (BA + ME + BSB)										
DIA	BA (47.1/2°)				DIA	ME (55°)			BSB (55°)	
Sizes	Dia	Pitch	TPI	Drill	Sizes	TPI	Drill		TPI	Drill
0	6.0	1.0	25.4	5.1	1/8"	40	2.55			
1	5.3	0.9	28.2	4.5	5/32"	32	3.2			
2	4.7	0.81	31.4	4.0	5/32"	40	3.3			
3	4.1	0.73	34.8	3.4	3/16"	32	4.0			
4	3.6	0.66	38.5	3.0	3/16"	40	4.0			
5	3.2	0.59	43.0	2.65	7/32"	32				
6	2.8	0.53	47.9	2.3	7/32"	40	4.8			
7	2.5	0.48	52.9	2.05	1/4"	32	5.5		26	5.3
8	2.2	0.43	59.1	1.8	1/4"	40	5.5			
9	1.9	0.39	65.1	1.55	9/32"	32	6.1		26	6.1
10	1.7	0.35	72.6	1.4	9/32"	40				
11	1.5	0.31	81.9	1.2	5/16"	32	7.0		26	5.8
12	1.3	0.28	90.9	1.05	5/16"	40	7.3			
13	1.2	0.25	102.0	0.98	3/8"	32	8.6		26	8.4
14	1.0	0.23	109.9	0.80	3/8"	40	8.9			
15	0.9	0.21	120.5	0.70	7/16"	32	10.3		26	10
16	0.79	0.19	133.3	0.60	7/16"	40	10.5			
					1/2"	32	11.9		26	11.5
					9/16"				26	13.1
					5/8"				26	14.7
					3/4"				26	17.8

AMERICAN NATIONAL FORM THREADS (60° angle)													
DIA.	UNC		UNF		NPT & NPS		UNS		DIA	UNC		UNF	
Sizes	TPI	Drill	TPI	Drill	TPI	Drill	TPI	Drill	Size No	TPI	Drill	TPI	Drill
1/16"					27	6.3	64	1.2	0			80	1.25
3/32"							48	1.85	1	64	1.55	72	1.55
1/8"					27	8.7	40	2.6	2	56	1.85	64	1.9
5/32"							32 & 40	3.2 & 3.3	3	48	2.1	56	2.15
3/16"							32 & 40	4.0 & 4.0	4	40	2.35	48	2.4
7/32"							24 & 32	4.5 & 4.8	5	40	2.65	44	2.7
1/4"	20	5.1	28	5.5	18	11.1	24 & 32	5.30 & 5.6	6	32	2.85	40	2.95
5/16"	18	6.6	24	6.9			20 & 32	6.7 & 7.2	8	32	3.5	36	3.5
3/8"	16	8.0	24	8.5	18	14.5	20	8.30	10	24	3.9	32	4.1
7/16"	14	9.4	20	9.9			24	10.0	12	24	4.5	28	4.70

AMERICAN NATIONAL FORM THREADS (60° angle)													
DIA.	UNC		UNF		NPT & NPS		UNS		DIA	UNC		UNF	
Sizes	TPI	Drill	TPI	Drill	TPI	Drill	TPI	Drill	Size No	TPI	Drill	TPI	Drill
1/2"	13	10.8	20	11.5	14	18.0	12 & 24	10.5 & 11.5					
9/16"	12	12.2	18	12.9									
5/8"	11	13.5	18	14.5			12	13.9					
11/16"							11 & 16	15.0 & 15.9					
3/4"	10	16.5	16	17.5	14	23.25	12	16.7					
7/8"	9	19.5	14	20.4			12	20.2					
1"	8	22.25	12	23.25	11.5	29.0	14	23.5					
1.1/8"	7	25.0	12	26.5									
1.1/4"	7	28.0	12	29.5	11.5	38.0							
1.3/8"	6	30.75	12	32.75									
1.1/2"	6	34.0	12	36.0									
1.3/4"	5	39.5											

METRIC FORM THREADS (60° angle)				
MM	Coarse		Fine-special	
Sizes	Pitch	Drill	Pitch	Drill
0.8	.19	0.6	(=16BA)	0.6
0.9	.21	0.7	(=15BA)	0.7
1	.25	0.8	(=14BA)	0.8
1.2	.25	1.0		
1.3	.28	1.05	(=12BA)	1.05
1.4	.3	1.1		
1.5	.3	1.2	(=11BA)	1.2
1.6	.35	1.25		
1.7	.35	1.35	(=10BA)	1.4
1.8	.35	1.45		
1.9	.39	1.55	(=9BA)	1.55
2	.4	1.60	.45	1.55
2.2			.45	1.75
2.3			.4	1.9
2.5	.45	2.05	.35, .4	2.15, 2.1
2.6			.45	2.15
3	.5	2.5	.35, .45	2.65, 2.55
3.5	.6	2.9	.35, .6	3.15, 2.9
4	.7	3.3	.5, .75	3.5, 3.25
4.5	.75	3.7	.5	4.0
5	.8	4.2	.5, .75, .9	4.5, 4.25, 4.1
6	1	5.0	.5, .75	5.5, 5.25
7	1	6.0	.75	6.25

METRIC FORM THREADS (60° angle)				
MM	Coarse		Fine-special	
Sizes	Pitch	Drill	Pitch	Drill
20	2.5	17.5	1, 1.5	19.0, 18.5
22	2.5	19.5	1.5, 2	20.5, 20.0
24	3	21.0	1.5, 2	22.5, 22.0
25			1.5, 2	23.5, 23.0
27	3	24.0	2	25.0
30	3.5	26.5	1.5, 2	28.5, 28.0
32	3.5	30.5	1.5	30.5
33	3.5	29.5	1.5, 2	31.5, 31.0
36	4	32.0	1.5	34.5
39	4	35.0	1.5	37.5
40			1.5	38.5
42	4.5	37.5	1.5	40.5
45	4.5	40.5	1.5	43.5
48	5	43.0	1.5	46.5

METRIC FORM THREADS (60° angle)				
MM	Coarse		Fine-special	
Sizes	Pitch	Drill	Pitch	Drill
8	1.25	6.8	.75, 1	7.2, 7.0
9	1.25	7.75	1	8.0
10	1.5	8.5	1, 1.25	9, 8.75
11	1.5	9.5	1	10.0
12	1.75	10.2	1, 1.25, 1.5	11, 10.75, 10.5
14	2	12.0	1, 1.25, 1.5	13, 12.75, 12.5
16	2	14.0	1, 1.5	15.0, 14.5
18	2.5	15.5	1.0, 1.5	17.0, 16.5

METRIC FORM THREADS (60° angle)				
MM	Coarse		Fine-special	
Sizes	Pitch	Drill	Pitch	Drill
50			1.5	48.5
52	5	47.0	1.5	50.5
56	5.5	50.5		
60	5.5	45.5		
Spark plug taps = 10x1, 12x1.25, 14x1.25, 18x1.5				
Conduit taps = 16x1.5, 20x1.5, 25x1.5, 32x1.5, 50x1.5				

BRITISH STANDARD WHITWORTH FORM THRECEADS (55° angle)												
DIA.	BSW		BSF		BSB		BSP & BSPT		ME/WHITFORM		BSCon	
Sizes	TPI	Drill	TPI	Drill	TPI	Drill	TPI	Drill	TPI	Drill	TPI	Drill WIDTH=36>
3.7	32	4.0					32, 40	4.0, 4.0				24
7/32"	24	4.5	28	4.6					40	4.8		
1/4"	20	5.1	26	5.3	26	5.3	19	11.8	24, 28, 32, 40	5.3, 5.4, 5.5, 5.5		
9/32"	20	5.8	26	6.0	26	5.8			32	6.1		
5/16"	18	6.5	22	6.8	26	5.8			24, 32, 40	6.75, 7.0, 7.3		
3/8"	16	7.9	20	8.3	26	8.4	19	15.25	24, 32, 40	8.4, 8.6, 8.9		
7/16"	14	9.3	18	9.7	26	10.0			20, 24, 32, 40	9.8, 10, 10.3, 10.5		
1/2"	12	10.5	16	11.1	26	11.5	14	19.0	20, 24, 32, 40	11.5, 11.9, 11.9, 12	18	11.5
9/16"	12	12.1	16	12.7	26	13.1			20	13.1		
5/8"	11	13.5	14	14	26	14.7	14	21.0	20	14.5	18	14.2
11/16"	11	15.1	14	15.5	26	16.5			20	16.2		
3/4"	10	16.25	12	16.75	26	17.8	14	24.5	14, 20	17.1, 17.8	16	17.5
7/8"	9	19.25	11	19.75	26	21.0	14	28.25	14, 16, 20	20.2, 20.6, 21.0	16	20.6
15/16"	9	20.6	11	21.5								
1"	8	22.0	10	22.75	26	24.2	11	30.75	12, 20	23.0, 24.0	16	23.8
1.1/8"	7	24.75	9	25.5	26	27.5						
1.1/4"	7	28.0	9	28.5	26	30.5	11	39.5			16	30.1
1.3/8"	6	30.1	8	31.5	26	33.7						
1.1/2"	6	33.5	8	34.5	26	36.9	11	45.00			14	36.1
1.5/8"	5	35.7	8	37.7	26	40.0						
1.3/4"	5	39	7	41.0	26	43.5	11	51.0				
1.7/8"	4.1/2	41.3	7	43.7	26	46.5						
2"	4.1/2	44.5	7	47.0	26	49.6	11	57.0				

উদাহরণ-১ :

০.৫ ইঞ্চি ব্যাসের বি.এস.ডব্লিউ থ্রেডের জন্য সঠিক ট্যাপ ড্রিল সাইজ নির্ণয় কর।

সমাধান :

আমরা জানি, বি.এস. ডব্লিউ থ্রেডের জন্য ট্যাপ ড্রিল সাইজ = আউটসাইড ডায়ামেটার - $\frac{1.2806}{T.P.I}$

০.৫ ইঞ্চি ব্যাসের বি.এস.ডব্লিউ থ্রেডের জন্য T.P.I = ১২

সুতরাং ট্যাপ ড্রিল সাইজ = $0.5 - \frac{1.2806}{12} = 0.5000 - 0.1067 = 0.3933$ ইঞ্চি।

সঠিকভাবে ০.৩৯৩৩ ইঞ্চি মাপের ড্রিল বিট পাওয়া যায় না। এ জন্য এই মাপের কাছাকাছি মাপের ড্রিল বিট সাইজ বেছে নিতে হয়।

$\frac{25}{68} = 0.3676$ অর্থাৎ $\frac{25}{68}$ ইঞ্চি মাপের ড্রিল বিট দ্বারা ছিদ্র করলে ১০০ ভাগ পূর্ণ থ্রেড পাওয়া যাবে।

উত্তর : $\frac{25}{68}$ ইঞ্চি।

উদাহরণ-২ :

ইঞ্চি বি.এস.ডব্লিউ থ্রেডের জন্য সাধারণ কাজের ক্ষেত্রে ট্যাপ ড্রিল সাইজ নির্ণয় কর।

সমাধান :

সাধারণ কাজের ক্ষেত্রে, ট্যাপ ড্রিল সাইজ = আউটসাইড ডায়ামেটার - $\frac{1.13}{T.P.I}$

$\frac{1}{2}$ ইঞ্চি ব্যাসের বি.এস.ডব্লিউ থ্রেডের জন্য T.P.I = ১২

সুতরাং ট্যাপ ড্রিল সাইজ = $\frac{1}{2} - \frac{1.13}{12} = 0.500 - 0.0942 = 0.4058$ ইঞ্চি = $\frac{13}{32}$ ইঞ্চি।

উত্তর : $\frac{13}{32}$ ইঞ্চি।

উদাহরণ-৩ :

M x ১.৭৫ ইন্টারন্যাশনাল মেট্রিক থ্রেডের নাটের জন্য ট্যাপ ড্রিল সাইজ নির্ণয় কর

সমাধান :

আমরা জানি, ইন্টারন্যাশনাল মেট্রিক থ্রেডের গভীরতা = ০.৬৪৯৫ x পিচ

এবং ১২ মিমি ডায়ামেটার থ্রেডের পিচ = ১.৭৫ মি.মি.।

অতএব থ্রেডের গভীরতা হবে = ০.৬৪৯৫ x ১.৭৫ মি.মি. = ১.১৩৬৬২৫ মি.মি.

∴ কোর ডায়ামেটার = (১২ - ২ x ১.১৩৬৬২৫) মি.মি.

= (১২ - ২.২৭৩২৫) মি.মি. = ৯.৭২৬৭৫ মি.মি.।

শ্রেডের সম্পূর্ণ গভীরতার ৭৫% - ৮৮% গভীরতার ট্যাপের সাহায্যে শ্রেড উৎপন্ন করা হয়। অর্থাৎ ট্যাপ ড্রিল সাইজ ৭৫% - ৮৮% গভীরতায় শ্রেড উৎপন্ন করে। যদি ৭৫% গভীরতার হিসাব করা হয়, তবে-

$$\text{ট্যাপ ড্রিল সাইজ} = \text{বাহিরের ব্যাস} - \left(\frac{৭৫}{১০০} \times \text{ট্যাপিং} \times ২ \right)$$

$$= (০.৭৫ \times ০.৬৪৯৫ \times ১.৭৫ \times ২) = ১২ - ১.২৭০৫ = ১০.২৯৫ \text{ মি.মি.}$$

যদি ৮৮% গভীরতার হিসাব করা হয়, তবে-

$$\text{ট্যাপ ড্রিল সাইজ} = \text{বাহিরের ব্যাস} - \left(\frac{৮৮}{১০০} \times \text{শ্রেডের গভীরতা} \times ২ \right) = (০.৮৮ \times ০.৬৪৯৫ \times ১.৭৫ \times ২)$$

$$= (১২ - ২.০০০০৪৬) \text{ মি.মি.} = ১০ \text{ মি.মি.}$$

আবার, পূর্বে উল্লিখিত সূত্র ব্যবহার করে পাই, $T.D.S = D - P$ (মেট্রিক শ্রেড)

$$= (১২ - ১.৭৫) \text{ মি.মি.}$$

$$= ১০.২৫ \text{ মি.মি.}$$

উত্তর : ট্যাপ ড্রিল সাইজ ১০.২৫ মি.মি.।

২২.৫ ট্যাপিং পদ্ধতি:

ট্যাপের সাহায্যে শ্রেড কাটা কোন সহজ কাজ নয়। তবে এতে ধৈর্য্য এবং সাবধানতার সাথে কাজ করার প্রয়োজন হয়। প্রথমে ট্যাপের মাপ অনুযায়ী উপযুক্ত মাপের একটি ট্যাপ সাইজ ড্রিল বিট দিয়ে কার্যকর মধ্যে ড্রিল করে নিতে হবে। পরে ট্যাপ সেটের টেপার ট্যাপটির জু শ্রেড করা অংশকে তৈলাক্ত করে এটিকে ঐ ছিদ্রের মধ্যে লম্বভাবে স্থাপন করতে হবে। কাজের সুন্দরতার জন্য ট্যাপকে অবশ্যই ট্রাই স্কয়ারের সাহায্যে কার্যকর মধ্যে লম্বভাবে স্থাপন করতে হবে।



চিত্র-২২.৪ : ট্যাপিং পদ্ধতি

এরপর ট্যাপ থেকে রেঞ্চকে ট্যাপের সাথে সমকোণে অর্থাৎ কার্যকর উপরকার সারকেসের সঙ্গে প্যারালাল বা সমান্তরাল করে, ট্যাপের শ্যাংকের স্কয়ার অংশটির পরাতে হবে। ট্যাপ রেঞ্চের অ্যাডজাস্টেবল হ্যান্ডেলকে ঘুরিয়ে নিয়ন্ত্রণশীল 'জ' এর মাধ্যমে অর্থাৎ সেট জুকে টাইট দিয়ে ট্যাপের শ্যাংক অংশকে শক্তভাবে রেঞ্চের মধ্যে আটকিয়ে নিতে হবে। রেঞ্চ পরাবার পর নিচের দিকে আস্তে আস্তে সামান্য চাপ দিয়ে ধীরে ধীরে ট্যাপকে ঘোরাতে হবে। খানিকটা ব্লক-ওরাইজ বা ডানদিকে ঘোরাবার পর ট্যাপকে উল্টা দিকে আধ পাকের মতো ঘোরাতে হবে। এতে ট্যাপের কাটিং এজে চিপস আটকাবে না। ট্যাপটি লম্বভাবে কার্যকর ছিদ্রের মধ্যে প্রবেশ করেছে কিনা উহা মাঝে মাঝে ট্রাই স্কয়ারের সাহায্যে পরীক্ষা করতে হবে। ট্যাপটি বাতে খাত্তূর্ন ধারা ছিদ্রের মধ্যে বন্ধ হয়ে না যায়, এইজন্য রেঞ্চটিকে দুই এক বার ডানদিকে ঘোরাবার পর আবার ইহাকে বামদিকে ঘোরাতে হবে এবং ছিদ্রের মধ্যে মসৃণকারক তৈল দিতে হবে। প্রথম ট্যাপটি অর্থাৎ টেপার ট্যাপকে ছিদ্রের

ভেতর সম্পূর্ণ প্রবেশ করানোর পর উল্টোদিকে ঘুরিয়ে ট্যাপটিকে খুলে নিতে হবে। এরপর ছিদ্রের মধ্যস্থিত ধাতুচূর্ণগুলিকে পরিষ্কার করে 'ট্যাপ সেট' এর দ্বিতীয় ট্যাপটিকে পূর্বের ম্যায় ছিদ্রের মধ্যে প্রবেশ করিয়ে ধোরতে হবে। এই সময়েও ট্যাপটি লম্বভাবে প্রবেশ করছে কিনা তা ট্রাই স্কয়ারের সাহায্যে কাজের ওয়ান্ডে এবং মাঝে মাঝে পরীক্ষা করে দেখতে হবে। কার্যকর এক প্রান্ত থেকে অপর প্রান্ত পর্যন্ত যে ছিদ্র (Thorough hole) এর বেলায় ট্যাপটির সৈর্ষের অধিকাংশই ছিদ্রের অপর প্রান্তকে অতিক্রম করলে, তখন এটিকে বিপরীত দিকে ঘুরিয়ে বাহির করে আনতে হবে। যদিও প্রকৃতপক্ষে এতেই ট্যাপিং এর কাজ শেষ হয়ে যায় এবং ছিদ্রের সকল স্থানে প্রেডের গভীরতা আবশ্যিক মাপের হয়, তথাপি প্রেডের ভেতরের অংশকে পরিষ্কার এবং ট্যাপিং সুসম্পন্ন করার জন্য আবার তৃতীয় ট্যাপ বা বটমিং ট্যাপটিকে পূর্বের মধ্যে ছিদ্রের মধ্যে চালনা করতে হবে। উৎপন্ন কু-প্রেড আবশ্যিক পরিমাণ গভীর হয়েছে কিনা তা কু-পিচ গেজ দ্বারা অথবা ট্যাপের একই মাপ বিশিষ্ট একটি বোল্ট দ্বারা পরীক্ষা করে দেখতে হবে।

যে ছিদ্রের একপ্রান্ত বন্ধ (Blind hole) উহার মধ্যে কু-প্রেড তৈরি করার জন্য 'ট্যাপ সেট' এর প্রত্যেকটি ট্যাপকে ক্রমানুসারে উপরে উল্লেখিত নিয়মে ছিদ্রের মধ্যে প্রবেশ করানোর প্রয়োজন হয়। এই ক্ষেত্রে স্মরণ রাখা প্রয়োজন যে, যতক্ষণ পর্যন্ত না তৃতীয় বা বটমিং ট্যাপটি ছিদ্রের মধ্যে শেষ পর্যন্ত চালিত না হয়, ততক্ষণ পর্যন্ত কু-প্রেড ছিদ্রের মধ্যে সকল স্থানে সমপরিমাণ গভীর হয় না।

২২.৬ ট্যাপ সেটের বিভিন্ন ট্যাপের ব্যবহার :

ট্যাপ সেট (Tap Set) :

নিচের তিনটি ট্যাপের সমন্বয়ে হ্যান্ড ট্যাপ সেট গঠিত হয় -

- ১) প্রথম ট্যাপ ট্যাপ (First Taper Tap)
- ২) দ্বিতীয় বা লেকেন্ড বা ইন্টারমিডিয়েট বা প্লাগ ট্যাপ (Second Tap or Intermediate Tap or Plug Tap)
- ৩) তৃতীয় বা বটমিং ট্যাপ (Third or Bottoming Tap)



চিত্র-২২.৫ : ট্যাপ সেট

টেপার ট্যাপের প্রান্ত থেকে পশ্চাতের দিকে কমপক্ষে ছয়টি থ্রেড টেপার করা থাকে। প্লাগ ট্যাপের প্রান্ত থেকে পশ্চাতের দিকে তিনটি অথবা চারটি থ্রেড টেপার করা থাকে। বটমিং ট্যাপের প্রান্তে মাত্র একটি থ্রেড টেপার করা থাকে। ট্যাপ সেটের সকল ট্যাপই একই পরিমাপের হয়। কোন কোন ট্যাপ সেটে টেপার ট্যাপ বুঝানোর জন্য একটি দাগ, প্লাগ ট্যাপ বুঝানোর জন্য দুইটি দাগ এবং বটমিং ট্যাপ বুঝানোর জন্য তিনটি দাগ কাটা থাকে বা কোন কোন ক্ষেত্রে বটমিং ট্যাপ দাগবিহীন থাকে।

বিভিন্ন ট্যাপের ব্যবহার :

১) প্রথম টেপ ট্যাপ (First Taper Tap) :

এর থ্রেড কাটা অংশ সরু থাকে এবং এর ব্যাস কোর ডায়ামেটার অপেক্ষা কম থাকে বিধায় এটি অতিসহজে ছিদ্রের মধ্যে প্রবেশ করাতে এবং লম্বভাবে রাখতে খুব সুবিধা হয়। ইন্টারনাল ড্রু-থ্রেড উৎপন্ন করার জন্য প্রথমে যে ছিদ্র করা হয় তার ব্যাস থ্রেডের কোর ডায়ামেটারের সমান বা তার থেকে বড় থাকে। সুতরাং ট্যাপিং শুরু করতে টেপার ট্যাপ অবশ্যই ব্যবহার করা উচিত। সম্পূর্ণ ছিদ্রযুক্ত (Thorough Hole) ওয়ার্কপিসের মধ্যে থ্রেড কাটতে শুধু টেপার ট্যাপ ব্যবহার করলেই নির্দিষ্ট মাপের থ্রেড উৎপন্ন হয়।

২) সেকেন্ড বা ইন্টারমিডিয়েট বা প্লাগ ট্যাপ (Second or Intermediate or Plug Tap) :

টেপার শ্রেণির ট্যাপ সেটে যে দ্বিতীয় ট্যাপটি ব্যবহার করা হয় তার নাম সেকেন্ড ট্যাপ বা প্লাগ ট্যাপ। যে ছিদ্রের একটি প্রান্ত বন্ধ অর্থাৎ ব্লাইন্ড হোল (Blind Hole), সেক্ষেত্রে নিয়ম হলো- প্রথমে টেপার ট্যাপ ব্যবহার করা, তারপর প্লাগ ট্যাপ ব্যবহার করা। থ্রেডের তলা পর্যন্ত ড্রু-থ্রেড তৈরি করার জন্য বটমিং ট্যাপ ব্যবহার করতে হয়। ট্যাপ ব্যবহারের ধারাবাহিকতা বজায় না রাখলে শেষ প্রান্তে থ্রেড উৎপন্ন করতে বটমিং ট্যাপ ব্যবহার করা ঝুঁকিপূর্ণ হয়ে দাঁড়ায়। তাই ট্যাপ ব্যবহারের এই ধারাবাহিকতা বজায় রাখতে এবং টেপার ট্যাপ ব্যবহার করার পর যে কোন থ্রেড সম্পূর্ণ পরিষ্কার করতে প্লাগ ট্যাপ ব্যবহার করা হয়।

৩) বটমিং ট্যাপ (Bottoming Tap) : ব্লাইন্ড হোলের তলদেশ পর্যন্ত ড্রু-থ্রেড উৎপন্ন করতে বটমিং ট্যাপ ব্যবহৃত হয়।

২২.৭ কাউন্টার ট্যাপ (Counter Tap) :

সেই ট্যাপকে কাউন্টার ট্যাপ বলে যার পঁচ সাধারণ পঁচ ওয়ালা ট্যাপের বিপরীত দিকে হয়। এই ধরনের ট্যাপের সাহায্যে ভাঙ্গা বা ফেঁসে যাওয়া কোন বোল্ট বা স্টাডকে খোলা সম্ভব হয়। ভাঙ্গা বোল্ট বা স্টাডের মাথায় ড্রিল করে সেই ড্রিলের ভেতর কাউন্টার ট্যাপ চালানো হলে ভাঙ্গা বা ফেঁসে যাওয়া বোল্ট বা স্টাড সহজে খুলে আসে।

২২.৮ ট্যাপ ভেঙ্গে যাবার কারণঃ

ট্যাপিং প্রণালি ঠিকমত প্রয়োগ করা বা অভ্যাস না করলে এবং যে সব নিয়ম মেনে চলা প্রয়োজন, সেগুলো না মানলে অনেক ক্ষেত্রে প্রায়ই ট্যাপ ভেঙ্গে যায়। নিম্নে ট্যাপ ভেঙ্গে যাবার কারণগুলি উল্লেখ করা হলো-

- কিছুক্ষণ অন্তর অন্তর ট্যাপকে উল্টা দিকে না ঘোরালে এবং প্রয়োজনীয় ক্ষেত্রে তৈল না দেওয়ার কারণে ছিদ্রের মধ্যে ট্যাপ আবদ্ধ হয়ে গেলে যদি ট্যাপ জোরপূর্বক চালানোর চেষ্টা করা হয় তবে ট্যাপ ভেঙ্গে যেতে পারে।
- 'ট্যাপ সেট' এর ট্যাপ তিনটিকে ক্রমানুসারে ছিদ্রের মধ্যে প্রবেশ না করিয়ে প্রথমেই দ্বিতীয় বা তৃতীয় ট্যাপটিকে বলপূর্বক প্রবেশ করানোর চেষ্টা করলে।

- ট্যাপ ব্যবহার করার পূর্বে উহার জন্য যে ব্যাসের ছিদ্র করা প্রয়োজন উহা অপেক্ষা কম ব্যাসের ছিদ্র করে উহার মধ্যে বলপূর্বক ট্যাপকে ঘুরিয়ে থ্রেড কাটার চেষ্টা করলে।
- ট্যাপের 'কাটিং এজ'এর তীক্ষ্ণতা নষ্ট হয়ে যাওয়া সত্ত্বেও উহা দ্বারা বলপূর্বক স্ক্রু-থ্রেড উৎপন্ন করার চেষ্টা করলে।
- রেঞ্চ দিয়ে ট্যাপ ঘুরানোর সময় ট্যাপ-রেঞ্চকে ভূমির সাথে বা কার্যবস্তুর তলের সাথে সমান্তরালভাবে না রেখে কাত করে চালালে ট্যাপ ভেঙ্গে যেতে পারে।

২২.৯ ট্যাপিং এর সতর্কতা ও রক্ষণাবেক্ষণঃ

- ট্যাপিং করা ছিদ্রের অক্ষ এবং ট্যাপ এর অক্ষ একই লাইনে রেখে চালাতে হবে।
- সঠিক মাপের ট্যাপ ড্রিল সাইজ থেকে কম মাপের ছিদ্রতে ট্যাপ চালনা করা উচিত নয়। এতে ট্যাপ ভেঙ্গে যেতে পারে এবং অনেক সময় ভাঙ্গা ট্যাপ ওয়ার্কপিস বা কার্যবস্তু থেকে বের করাও সময় সাপেক্ষ ও কষ্টসাধ্য।
- ট্যাপ রেঞ্চ ট্যাপের পরিমাপের উপযুক্ত হতে হবে। বড় ট্যাপ রেঞ্চ দিয়ে ছোট ট্যাপকে ঘুরালে অত্যধিক মোচড় শক্তি প্রয়োগের কারণে অনেক সময় ট্যাপ ভেঙ্গে যায়।
- ট্যাপ রেঞ্চ উভয় হাতে ধরে সম শক্তি দিয়ে ঘুরাতে হবে। এক হাতে ঘুরানো অনুচিত।
- ট্যাপিং এর সময় প্রয়োজনে অবশ্যই লুব্রিক্যান্ট ব্যবহার করা উচিত।
- ট্যাপিং এর সময় কিছুক্ষণ পর পর ট্যাপকে বামদিকে ঘুরাতে হবে যাতে চিপস বের হয়ে আসে।
- ট্যাপ সেটের ট্যাপ তিনটিকে ক্রমানুসারে পরপর ব্যবহার করতে হবে।
- ট্যাপ এর কাটিং এজ নষ্ট হয়ে গেলে উহা ব্যবহার করা উচিত নয়।
- ট্যাপ ঘুরাবার সময় ট্যাপ-রেঞ্চকে ভূমির সমান্তরালভাবে রাখতে হবে অথবা ছিদ্রের অক্ষের সাথে সমকোণে রেখে ঘুরাতে হবে। বাম বা ডানদিকে নত থাকলে ট্যাপ ভেঙ্গে যাবার সম্ভাবনা থাকে।

প্রশ্নমালা-২২

সংক্ষিপ্ত প্রশ্ন :

১. ট্যাপ কাকে বলে ?
২. ট্যাপ কী কাজে ব্যবহৃত হয় ?
৩. ট্যাপ সেট কাকে বলে ?
৪. ট্যাপ রেঞ্চ কী কাজে ব্যবহৃত হয় ?
৫. ট্যাপ ড্রিল সাইজ কাকে বলে ?
৬. ট্যাপ কী ধাতুর তৈরি হয় ?
৭. ট্যাপিং কাকে বলে ?
৮. ট্যাপে সাধারণত কয়টি ফ্লুট থাকে ?
৯. ট্যাপ সেটের ট্যাপগুলোর নাম লেখ ।
১০. মেট্রিক থ্রেডের ক্ষেত্রে ট্যাপ ড্রিল সাইজ নির্ণয়ের সূত্র লেখ ।
১১. সাধারণ কাজের ক্ষেত্রে পূর্ণ গভীরতায় শতকরা কতভাগ থ্রেড গভীরতা পাওয়া যায় ?
১২. T.D.S দ্বারা কী বোঝানো হয় ?
১৩. U.N.C বলতে কী বোঝায় ?
১৪. B.S.W বলতে কী বোঝায় ?
১৫. মেট্রিক থ্রেড কী চিহ্ন দ্বারা প্রকাশ করা হয় ?

সংক্ষিপ্ত প্রশ্ন :

১. ট্যাপ দ্বারা তৈরি করা যায় এরূপ স্ট্যান্ডার্ড থ্রেডগুলোর নাম লেখ ।
২. ট্যাপিং এর ক্ষেত্রে তৈল ব্যবহারের সুবিধাগুলো উল্লেখ কর ।
৩. ট্যাপ ড্রিল সাইজ বলতে কী বোঝায় ?
৪. ট্যাপিং এর প্রয়োগক্ষেত্র উল্লেখ কর ।
৫. ট্যাপ ড্রিল সাইজ নির্ণয়ের সূত্রগুলো উল্লেখ কর ।
৬. ইঞ্চি B.S.W থ্রেড তৈরির জন্য ট্যাপ ড্রিল সাইজ নির্ণয় কর ।
৭. M 10 x 1.5 ট্যাপ চালানোর জন্য ট্যাপ ড্রিল সাইজ কত হবে ?
৮. টেপার ট্যাপ-এর ব্যবহার উল্লেখ কর ।
৯. প্লাগ ট্যাপ-এর ব্যবহার উল্লেখ কর ।
১০. থ্রেড কাটার জন্য ধাতুভেদে ব্যবহৃত লুব্রিকেন্টসমূহের নাম লেখ ।

রচনামূলক প্রশ্ন :

১. ট্যাপ সেট বলতে কী বোঝায় ? ট্যাপ সেটের বিভিন্ন ট্যাপগুলোর ব্যবহার বর্ণনা কর ।
২. ট্যাপ দ্বারা থ্রেড কাটার সময় তৈল প্রদানের প্রয়োজনীয়তা বর্ণনা কর ।
৩. ট্যাপ দ্বারা থ্রেড কাটার পদ্ধতি ব্যাখ্যা কর ।

অধ্যায়-২৩

ডাই (Die)

২৩.১ ডাই :

ডাই এক প্রকার মেটাল কাটিং টুল যা সিলিন্ড্রিক্যাল জব, পাইপ, গোলাকার রড এর উপরিভাগে স্ক্রু-থ্রেড বা প্যাচ উৎপন্ন করতে ব্যবহৃত হয়। এটা হাই কার্বন স্টিল বা হাই স্পিড স্টীল দ্বারা তৈরি হয়। এর থ্রেড অংশ শক্ত এবং টেম্পার করা থাকে। ডাই ট্যাপ এর মত বিভিন্ন স্ট্যান্ডার্ড মাপের স্ক্রু-থ্রেড তৈরি করতে বিভিন্ন মাপ বিশিষ্ট হয়ে থাকে। ডাই দ্বারা থ্রেড কাটার পর একে সমান মাপের ট্যাপিং করা থ্রেড বিশিষ্ট ছিদ্রের মধ্যে প্রবেশ করানো যায়। অবশ্য বোল্টকে নাটের মধ্যে ঢোকাতে গেলে নাট অথবা বোল্ট যেকোন একটাকে ক্রমাগত ঘোরাতে হবে। ডাই চ্যাপ্টা হয় এবং এর মধ্যে থ্রেডের সংখ্যা কম থাকে। ডাই-এর ভিতরে থ্রেড কাটা থাকে। থ্রেড কাটা শুরু করার সুবিধার্থে ডাই-এর এক পার্শ্ব চ্যামফার Chamfer করা থাকে এবং এই পার্শ্বেই ডাই-এর স্পেসিফিকেশন লেখা থাকে। ডাই-এর স্পেসিফিকেশন দেখে থ্রেড স্ট্যান্ডার্ড, আউটসাইড ডায়ামেটার ও থ্রেডের পিচ জানা যায়। ডাই-কে ডাইস্টক-এর মধ্যে শক্তভাবে আটকিয়ে ওয়ার্কপিসের উপর ঘুরিয়ে থ্রেড উৎপন্ন করতে হয়। ট্যাপ দ্বারা যেসব স্ট্যান্ডার্ড থ্রেড তৈরি করা যায় ডাই দ্বারাও সেসব স্ট্যান্ডার্ড থ্রেড তৈরি করা যায়।



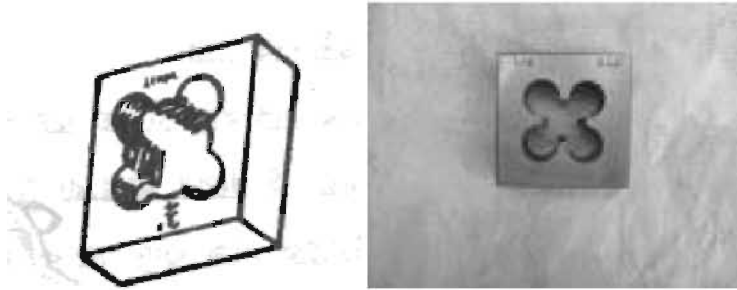
চিত্র-২৩.১ : ডাই ও ডাইস্টক

২৩.২ বিভিন্ন প্রকার স্ট্যান্ডার্ড ডাই :

গঠন এবং ব্যবহারের ভিত্তিতে ডাই নিম্নলিখিত কয়েক প্রকারের হয়-

১) সলিড ডাই (Solid Die)

(ক) স্কয়ার ডাই (Square Die)



চিত্র-২৩.২ : স্কয়ার ডাই

(খ) ডাই নাট (Die Nut)



চিত্র-২৩.৩ : ডাই নাট


(গ) স্ক্রু-প্লেট (Screw Plate) ডাই



চিত্র-২৩.৪ : স্ক্রু-প্লেট ডাই

(২) অ্যাডজাস্টেবল ডাই (Adjustable Die)

(ক) রাউন্ড স্প্লিট ডাই (Round Split Die)



চিত্র-২৩.৫ : রাউন্ড স্প্লিট ডাই

(খ) স্টক ডাই (Stock Die)



চিত্র-২৩.৬ : স্টক ডাই

২৩.৩ ডাই দ্বারা শ্রেড কাটার পদ্ধতি :

প্রথমে যে বোল্ট, জব বা ওয়াক্‌পিসের উপর শ্রেড কাটতে হবে উহার মাপ অনুযায়ী ডাই ও ডাই স্টক বাছাই করে নিতে হবে। কার্ববন্ডকে ডাইসে শক্ত করে এবং লম্বভাবে বাঁধতে হবে। পরে কার্ববন্ডের মুখটিকে ফাইল দ্বারা ঘষে সামান্য ক্রমশ সফ করে নিতে হবে। ডাইকে বোল্ট বা কার্ববন্ডের উপর এমনভাবে স্থাপন করতে হবে যাতে ডাই স্টকটি বোল্ট বা কার্ববন্ডের উপর জুমির সমান্তরালভাবে অবস্থান করে। এরপর ডাই এর উপর চাপ প্রয়োগ করে ধীরে ধীরে ডাইটিকে ডান দিকে ঘুরাতে হবে। কয়েকটি শ্রেড উৎপন্ন হয়ে ডাই শ্রেডের মাধ্যমে কার্ববন্ডের সহিত মিলিত হলে এতে অর্থাৎ ডাই ও কার্ববন্ডের সংযোগস্থলে প্রয়োজনীয় ক্ষেত্রে মসৃণকারক তৈল প্রদান করতে হবে। পরবর্তীতে খেড কাটা শুরু করতে এবং কিছুক্ষণ পরপর ডাই স্টকটিকে বামদিকে ঘুরিয়ে ধাতু চূর্ণগুলিকে পরিষ্কার করে নিতে হবে। শ্রেড কাটার সময় মাঝে মাঝে তৈল দিতে হবে। পর্যায়ক্রমে ট্যাপিং এর ক্ষেত্রে ট্যাপের ন্যাং ডাইকেও বাম দিক ও ডানদিক ঘুরিয়ে শ্রেড কাটা সম্পন্ন করতে হবে।

বোল্ট বা কার্ববন্ডের যতটুকু স্থানে শ্রেড কাটা প্রয়োজন “ডাই” ঐ পরিমাণ স্থান অতিক্রম করলে স্টকটিকে বাম দিক ঘুরিয়ে উপরের দিক আরম্ভ করার স্থানে ফিরিয়ে আনতে হবে। সলিড ডাই এর ক্ষেত্রে সতর্কতার সহিত ডাইসহ ডাই স্টক খুলে রাখতে হবে। কিন্তু এ্যাডজাস্টেবল ডাই এর ক্ষেত্রে যতক্ষণ পর্যন্ত খেড আবশ্যিক পরিমাণ গভীর না হয় ততক্ষণ পর্যন্ত পর্যায়ক্রমে সেট জুর সাহায্যে ডাইটিকে চাপ প্রয়োগে ছোট করতে হবে এবং পর্যায়ক্রমে সেট করা ও শ্রেড কাটার মাধ্যমে প্রয়োজনীয় গভীরতায় শ্রেড কাটার কাজ সম্পন্ন করতে হবে। শ্রেড নির্দিষ্ট মাপ পর্যন্ত গভীর হয়েছে কিনা তা একটি জু পিচ পেজ অথবা স্ট্যান্ডার্ড নাট দ্বারা পরীক্ষা করে দেখতে হবে।

উৎপন্ন জু শ্রেডে দোষ ঘটান কারণঃ

- ১) জু শ্রেড তৈরি করার প্রথমে বা শ্রেড তৈরি করার সময় কিছুক্ষণ অন্তর ডাই এর মধ্যে এবং বোল্টের উপরিভাগে মসৃণকারক তৈল প্রয়োগ না করলে।
- ২) এ্যাডজাস্টেবল ডাই এর ক্ষেত্রে ধীরে ধীরে গভীর না করে একবারে বেশি করে গভীর করার চেষ্টা করলে।
- ৩) আরম্ভ স্থান ভিন্ন অন্য স্থানে ডাই থাকার সময় একে নিয়ন্ত্রণ করলে।

- ৪) ডাই স্টকে ঘুরাবার সময় একে ভূমির সমান্তরালভাবে না রেখে কোনোভাবে রাখলে।
- ৫) যে বোল্টের উপরিভাগে জু থ্রেড তৈরি করতে হবে তা বাঁকাভাবে ভাইসে আটকানো থাকলে।
- ৬) যে ডাই এর তীক্ষ্ণতা নাই উহা দ্বারা বলপূর্বক থ্রেড কাটার চেষ্টা করলে।
- ৭) যে মাপের জু থ্রেড তৈরি করা প্রয়োজন বোল্টের ব্যাস উহা অপেক্ষা সরু বা মোটা হলে।
- ৮) ডাই এর মাপ বোল্টের ব্যাসের সমান হলে।
- ৯) বোল্টের উপরিভাগ উহার অক্ষ থেকে সমান দূরত্বের গোলাকার না হলে।

২৩.৪ ডাই চালানোর সময় তৈল প্রদানের প্রয়োজনীয়তা :

নিম্নলিখিত কারণে ডাই দ্বারা প্যাচ কাটার সময় তৈল প্রদানের প্রয়োজনীয়তা রয়েছে।

- ওয়াকপিষের থ্রেডের তল এবং কাটিং টুলের মধ্যে ঘর্ষণ কমানোর জন্য।
- এটা কাজকে সহজ এবং সুন্দর করতে সাহায্য করে।
- চিপ বের হয়ে আসতে সাহায্য করার জন্য।
- ডাই দ্বারা থ্রেড কাটার ক্ষমতা দীর্ঘস্থায়ী করার জন্য।
- ডাই দ্বারা থ্রেড কাটার সময় উৎপন্ন তাপকে নিয়ন্ত্রণ করার জন্য যেন ডাই এর দাঁতের টেম্পার ঠিক থাকে।

ডাই ব্যবহার করার সময় কার্যবস্তুর উপর বিভিন্ন ধাতু অনুসারে যে যে মসৃণকারক তৈল বা লুব্রিকেন্ট প্রয়োগ করার প্রয়োজন হয়, নিচে তার একটি তালিকা দেওয়া হলো-

ধাতু	মসৃণকারক তৈল
কাস্ট আয়রন (সাধারণ)	আবশ্যিক হয় না
কাস্ট আয়রন (খুব শক্ত)	তারপিন তৈল ও কাটিং অয়েল
মাইল্ড স্টিল	কাটিং অয়েল
শক্ত স্টিল	কাটিং অয়েল
ব্রাস কিংবা ব্রোঞ্জ	আবশ্যিক হয় না
অ্যালুমিনিয়াম	কেরোসিন কিংবা তারপিন তৈল

২৩.৫ বিভিন্ন প্রকার ডাই-এর ব্যবহার :

ক) সলিড বা স্থির ডাই (Solid Die) :

এ প্রকার ডাই এর মাপকে নিয়ন্ত্রণ করা যায় না। যে কোন একটি মাত্র মাপে এটি তৈরি হয়। এ প্রকারের ডাই সাধারণত ছোট মাপের জু তৈরিতে বেশি ব্যবহৃত হয়। এ সব ডাই দ্বারা থ্রেডের আকৃতি বা ফর্ম একসাথে পাওয়া যায়। ১২ মিলিমিটারের অধিক মাপের সলিড ডাই ব্যবহার করা অসুবিধাজনক। সলিড ডাই তিন প্রকারের হয়। যেমন-

(১) স্কয়ার ডাই (Square Die) :

এ প্রকার ডাই-এ থ্রেড কাটার দাঁত বিশিষ্ট চেজার গুলি দৃঢ় বা সলিডভাবে বর্গাকৃতি কঠিন ইস্পাতের চ্যাপ্টা স্টকে তৈরি করা হয়। এটাকে বর্গাকার নির্দিষ্ট আকারের ডাই স্টকে আবদ্ধ করে ব্যবহার করতে হয়। পুরাতন

এবং ক্ষয়প্রাপ্ত শ্রেডকে নতুনের ন্যায় করতে এটা উপযোগী হয়। ডাই এর মাপ ট্যাপের ন্যায় ডাই এর উপর লেখা থাকে। যেমন- M১২ X ১.৭৫। এখানে M দ্বারা মেট্রিক শ্রেড, ১২ দ্বারা বোল্টের বাইরের ব্যাস ১২ মি.মি. এবং ১.৭৫ দ্বারা পিচ ১.৭৫ মি.মি বুঝানো হয়েছে।

(২) ডাই-নাট (Die-Nut) :

এটা দেখতে নাটের মতো। পুরাতন এবং নষ্ট হয়ে যাওয়া শ্রেডকে পরিষ্কার করে নতুনের মতো করতে ব্যবহৃত হয়।

(৩) রাউন্ড ডাই (Round Die) :

এর বাইরের আকৃতি গোলাকার এবং পুরাতন শ্রেডকে পরিষ্কার করে নতুনের ন্যায় করতে ব্যবহৃত হয়।

(৪) স্ক্রু প্লেট (Screw Plate Die) :

প্রকৃত পক্ষে এ ডাই এক প্রকার স্টিলের পাতলা খণ্ড, যাতে অনেকগুলি বিভিন্ন মাপের ছিদ্রের মধ্যে স্ট্যান্ডার্ড রকমের স্ক্রু শ্রেড করা থাকে। এ ডাই এর মাপ লম্বায় প্রায় ৩০০ মি.মি. এবং চওড়ায় ১০০ মি.মি. থেকে ১২৫ মি.মি. হয় এবং একদিকে দৃঢ়ভাবে ধরার জন্য হাতল বানানো থাকে। যে সকল বস্তুর ব্যাস খুব সরু অর্থাৎ যাদের ডায়ামিটার কম সে ক্ষেত্রে স্ক্রু শ্রেড তৈরিতে এ ডাই খুব উপযোগী হয়। স্ক্রু প্লেট ডাই দ্বারা শ্রেড তৈরি করার সময় একে কীভাবে ধরতে হয় নিম্নে তা দেখানো হলো।



চিত্র-২৩.৭ঃ স্ক্রু-প্লেট ডাই- এর ব্যবহার

খ) অ্যাডজাস্টেবল বা নিয়ন্ত্রণশীল ডাই (Adjustable Die) :

এ প্রকার ডাই এর মাপকে কমানো বা বাড়ান যায়। এ ডাইগুলি বড় ব্যাসের ওয়াকপিসের উপর শ্রেড কাটতে ব্যবহৃত হয়। এ শ্রেণির ডাই দুই প্রকার হয়ে থাকে। যেমন-

(১) রাউন্ড স্প্লিট ডাই (Round Split Die) :

এটা আকারে গোল এবং একটি পার্শ্ব খণ্ডিত করা থাকে। ডাই-কে ডাই স্টক বা হাতলের মধ্যে রেখে এর গায়ের উপর স্ক্রুকে টাইট দিলে এটা সংকুচিত হয়ে মাপে ছোট হয়। এ অবস্থায় পুরাতন স্ক্রু শ্রেড পরিষ্কার করতে খুব সুবিধা হয়। আবার খাঁজের উপর স্ক্রুকে রেখে টাইট দিলে এটার মাপ বাড়ে এবং এ অবস্থায় প্রথম কাট দিতে খুব সুবিধা হয়। এ খাঁজের আকার ১.৫ মি.মি. থেকে ৫ মি.মি. পর্যন্ত হয়। ডাই স্টকের স্ক্রুকে প্রয়োজন অনুসারে সমন্বয় করে চালনা করলে সহজে এবং ভালোভাবে স্ক্রু শ্রেড তৈরি করা যায়।

(২) স্টক ডাই (Stock Die) :

এ ডাই দুইটি অংশে বিভক্ত থাকে অর্থাৎ স্ক্রু শ্রেড কাটার চেজারগুলি দুইভাগে খণ্ডিত থাকে। এর গঠন আয়ত-

কার হয় যাতে ডাই স্টকে সহজে বসে এবং চালানোর সময় না ঘোরে। চেজারের গঠন অনুপাতে খাঁজ কাটা থাকে এবং ডাই স্টকের মধ্যে চেজারগুলি রেখে স্ক্রু-এর মাপ হিসেবে দুইদিকে দেওয়া স্ক্রু দ্বয়ের সাহায্যে চেজার গুলিকে প্রয়োজনীয় অবস্থানে এনে তারপর ব্যবহার করা হয়। এ প্রকার ডাই দ্বারা সহজে বড় মাপের বোল্টের উপর অল্প অল্প গভীরতা দিয়ে পূর্ণ থ্রেডের গঠন বা ফর্ম উৎপন্ন করা যায়।

২৩.৬ ডাই চালনার ক্ষেত্রে সতর্কতা :

সতর্কতা যে কোন কাজ সুষ্ঠুভাবে নিরাপদে সম্পাদন করতে সাহায্য করে। ডাই চালানোর কাজ নির্বিশেষে সম্পাদন করার জন্য বিভিন্ন প্রকার সতর্কতা গ্রহণের প্রয়োজন হয়। সতর্কতার বিষয়গুলি নিম্নে উল্লেখ করা হলো-

- ডাই দ্বারা থ্রেড কাটার জন্য গোলাকার রডের কোন ব্যাস কোন অবস্থায় ডাই এর মাপের বেশি রাখা যাবে না।
- প্রয়োজনীয় গঠন এবং আকৃতির ডাই স্টক ব্যবহার করতে হবে এবং ডাই স্টকের মধ্যে ডাইকে আটকানোর ব্যাপারে নিশ্চিত হয়ে থ্রেড কাটা শুরু করতে হবে।
- থ্রেড কাটার সময় প্রয়োজনীয় স্থলে অবশ্যই কুল্যান্ট ব্যবহার করতে হবে।
- থ্রেড কাটার সময় কিছুক্ষণ পর পর ডাইকে বামদিকে ঘুরাতে হবে যাতে চিপ বের হয়ে আসে।
- ডাই এর কাটিং এজ নষ্ট হয়ে গেলে এটা ব্যবহার করা অনুচিত।
- ডাইকে ঘুরানোর সময় ডাই স্টককে ভূমির সমান্তরাল ভাবে রাখতে হবে অথবা কার্যবস্তুর অক্ষের সহিত সমকোণে রেখে ঘুরাতে হবে। বাম বা ডান দিকে নত থাকলে ডাই ভেঙ্গে যাবার সম্ভাবনা থাকে।
- ডাই স্টককে উভয় হাতে ধরে সমরূপ শক্তি দিয়ে ঘুরাতে হবে, এক হাতে ঘুরানো অনুচিত।
- অ্যাডজাস্টেবল ডাই চালানোর সময় পর্যায়ক্রমে সেট স্ক্রু টাইট দিয়ে কয়েকবার ডাই চালিয়ে থ্রেড কাটার কাজ সম্পাদন করতে হবে। একবারে বেশি করে সেট স্ক্রু টাইট দিয়ে তাড়াতাড়ি থ্রেড কাটার চেষ্টা করলে ডাই ভেঙ্গে যেতে পারে।
- কাজ শেষে ডাই খোলার সময় উপরের দিকে কাজ আরম্ভ করার কাছাকাছি স্থানে এসে ডাইকে আন্তে আন্তে ঘুরিয়ে সাবধানতার সহিত খুলতে হবে যেন নিচে পরে ডাই বা ডাই স্টক ক্ষতিগ্রস্ত না হয়।
- ডাইকে বলপূর্বক ঘুরিয়ে থ্রেড কাটার চেষ্টা করা অনুচিত।
- ভাঙ্গা বা খারাপ ডাই স্টক ব্যবহার করা উচিত নয়।

প্রশ্নমালা-২৩

অতিসংক্ষিপ্ত প্রশ্ন :

১. ডাই বলতে কী বোঝায়?
২. ডাই কী কাজে ব্যবহৃত হয়?
৩. ডাই আটকানোর জন্য যে যন্ত্র ব্যবহৃত হয় তার নাম কী?
৪. সলিড ডাই কাকে বলে?
৫. এডজাস্টেবল ডাই কাকে বলে?
৬. কী গেজ দ্বারা স্ক্রু থ্রেডের সঠিকতা পরীক্ষা করা হয়?
৭. সলিড ডাই কয় প্রকার ও কী কী?
৮. এডজাস্টেবল ডাই কয় প্রকার ও কী কী?
৯. ডাই কোন প্রকারের টুল?
১০. ১৪ মিলিমিটারের ব্যাসের ডাই চালানোর জন্য বোল্টের ব্যাস কত মিলিমিটার হওয়া প্রয়োজন?
১১. ডাই এর উপর M১২x১.৭৫ লেখা থাকলে সে ক্ষেত্রে M১২ দ্বারা কী বোঝানো হয়?
১২. অ্যালুমিনিয়ামের তৈরি বস্ততে ডাই দ্বারা থ্রেড কাটতে লুব্রিকেন্ট হিসেবে কী ব্যবহার করা প্রয়োজন?
১৩. ডাই নাট কী কাজে ব্যবহৃত হয়?
১৪. ডাই কী ধাতুর তৈরি হয়?

সংক্ষিপ্ত প্রশ্ন :

১. ডাই এর প্রকারভেদ উল্লেখ কর।
২. ডাই কাজ কী বুঝিয়ে লেখ।
৩. সলিড ডাই ব্যবহারের সুবিধা কী?
৪. এডজাস্টেবল ডাই ব্যবহারের সুবিধা কী?
৫. এডজাস্টেবল ডাই এর ব্যবহার উল্লেখ কর।
৬. ডাই দ্বারা থ্রেড কাটার ক্ষেত্রে কেন তৈল প্রদান করা হয়?
৭. থ্রেড কাটার সময় ডাই ভেঙ্গে যাবার কারণ উল্লেখ কর।
৮. ডাই এবং ট্যাপের মধ্যে পার্থক্য কী?
৯. ডাই দ্বারা কী কী স্ট্যান্ডার্ডের থ্রেড কাটা হয়?
১০. সচরাচর ব্যবহৃত ধাতু ভেদে থ্রেড কাটার জন্য ব্যবহৃত লুব্রিকেন্টসমূহের নাম লেখ।

রচনামূলক প্রশ্ন :

১. ডাই বলতে কী বুঝায় ? ডাই এর প্রকারভেদ বর্ণনা কর।
২. ডাই দ্বারা থ্রেড কাটার সময় তৈল প্রদানের প্রয়োজনীয়তা বর্ণনা কর।
৩. ডাই ভেঙ্গে যাবার সাধারণ কারণগুলি ব্যাখ্যা কর।
৪. ডাই চালনার ক্ষেত্রে সতর্কতার বিষয়গুলি ব্যাখ্যা কর।
৫. ডাই দ্বারা থ্রেড কাটার পদ্ধতি ব্যাখ্যা কর।
৬. ডাই দ্বারা থ্রেড কাটার সময় উৎপন্ন স্ক্রু থ্রেডে দোষ সংঘটিত হওয়ার কারণগুলি ব্যাখ্যা কর।
৭. ডাই এর শ্রেণী বিভাগ বর্ণনা কর।

মেশিন টুলস অপারেশন-১

প্রথম পত্র (ব্যবহারিক)

অধ্যায়-১

হ্যাক'স দিয়ে ধাতু কর্তন (Metal cutting by Hacksaw)

১.১ যন্ত্রপাতি নির্বাচন :

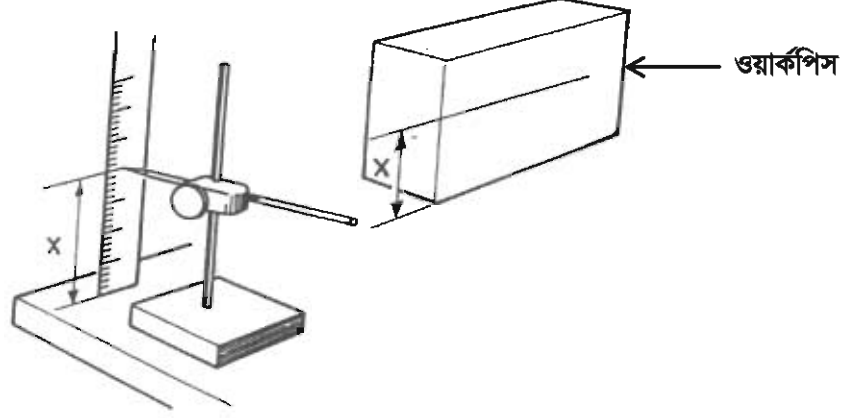
এ কাজে প্রয়োজনীয় যন্ত্রপাতির তালিকা নিচে লিপিবদ্ধ করা হলো-

- ১) হ্যান্ড হ্যাক'স ফ্রেম - দৈর্ঘ্য ৩০০ মি.মি. বা ১২ ইঞ্চি।
- ২) হ্যান্ড হ্যাক'স ব্লেডঃ দৈর্ঘ্য = ৩০০ মি.মি., প্রস্থ = ১২ মি.মি., টি.পি.আই = ১৮, হাই কার্বন স্টিলের তৈরি।
- ৩) মার্কিং বা ক্কাইবিং কালার।
- ৪) ট্রাইস্কয়ার।
- ৫) ক্কাইবার-দুই প্রান্ত বিশিষ্ট।
- ৬) প্রিক পাঞ্চ- ১০০ মি.মি. দৈর্ঘ্য।
- ৭) বল পিন হ্যামার- ১২০ গ্রাম।
- ৮) ফিটার্স বেঞ্চ ভাইস- ১৫০ মি.মি., ওয়ার্কিং টেবিলের উপর স্থাপিত।
- ৯) ভার্নিয়ার ক্যালিপার-১৫০ মি.মি., সূক্ষ্মতা-০.১ মি.মি.।
- ১০) দ্রাবক তেল (Solvent Oil) বা সাধারণ পানি।
- ১১) হ্যান্ড ব্রাশ।
- ১২) কাপড়ের টুকরা।
- ১৩) অয়েল ক্যান।
- ১৪) সারফেস প্লেট।
- ১৫) ওয়ার্কিং টেবিল।
- ১৬) অ্যানভিল।
- ১৭) স্টিল রুল-৩০০ মি.মি.।
- ১৮) ক্কাইবিং ব্লক।
- ১৯) গগলস।

১.২ ওয়ার্কপিসে লে-আউট ও মার্কিং করা :

ওয়ার্কপিসে লে-আউট ও মার্কিং করার পূর্বে জব বা কার্যবস্তুর ফিনিশ চিত্র এবং মূল্যায়নের জন্য বিবেচ্য বিষয়গুলি প্রশিক্ষণার্থীদের খেয়াল রাখতে হবে। এক্ষেত্রে কার্যবস্তুকে দ্বি-খণ্ডিত করার পর প্রাপ্ত টুকরার প্রস্থ ড্রয়িং অনুযায়ী হতে হবে। মূল্যায়নের জন্য কার্যবস্তুকে কাটার পর প্রাপ্ত দুইটি তলেরই মসৃণতা, সমতলতা ফর্মা-২০, মেশিন টুলস অপারেশন-১, ৯ম-১০ম শ্রেণি

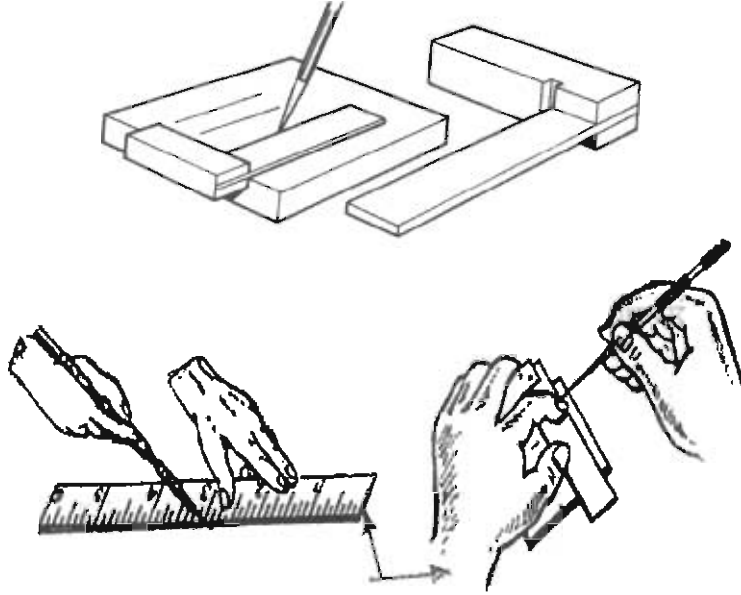
(Flatness) এবং উপরিতলের সহিত সমকোণ হয়েছে কিনা তা বিবেচনা করতে হবে।



চিত্র-১.১৪: স্কাইবার দিয়ে ওয়াকপিসের উপর অনুভূমিক লাইন টানা

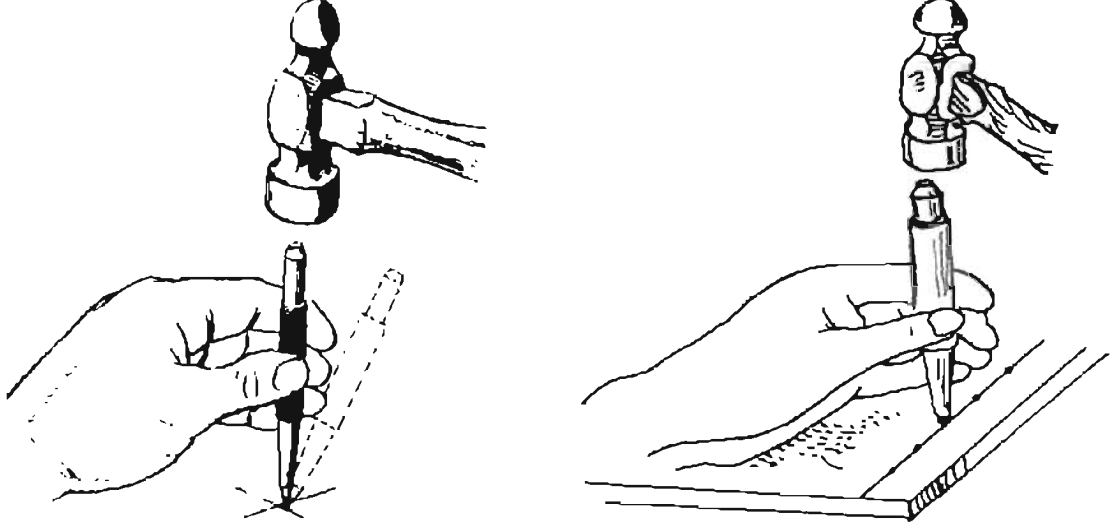
ওয়াকপিসে লেআউট বা মার্কিং করার সময় ধারাবাহিকভাবে নিম্নলিখিত কাজগুলো করতে হবে-

- ১) যন্ত্রপাতি এবং ওয়াকপিস পরীক্ষার করা।
- ২) মার্কিং করার জন্য তল পরীক্ষার ও মোটামুটি মসৃণ করা।
- ৩) মার্কিং-কালার অথবা চক পেন্সিল দ্বারা নির্দিষ্ট জায়গায় প্রলেপ দেওয়া।



চিত্র-১.২৪: স্টিল রুল ও ট্রাই স্কয়ার দিয়ে মার্কিং করা।

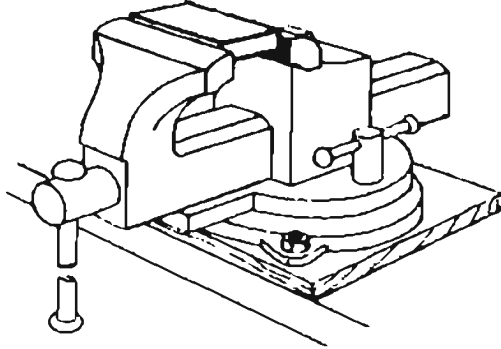
৪) ট্রাইস্কয়ার ও স্কাইবারের সাহায্যে ওয়াকপিসের তলে সোজা কিনারার সাথে সমকোণে এবং প্রান্ত থেকে ৮ মি.মি. দূরত্বে দাগ দেওয়া। ৮ মি.মি. দূরত্ব সঠিক করার জন্য স্টিল রুল ব্যবহার করা স্কাইবার দ্বারা দাগ কাটা স্থানে পাশ্চাত্য করে চিহ্নিত করা। এ ক্ষেত্রে রেখার উপর পাশাপাশি ছোট ছোট গর্ত করার জন্য হাতুড়ি দিয়ে পাশের মাথায় আন্ডে আন্ডে আঘাত করতে হবে।



চিত্র-১.৩ঃ পাঞ্চিং করে মার্কিং করা লাইন দৃশ্যমান করা ।

১.৩ ওয়াকপিসকে নিরাপদে ভাইসে আটকানো :

- ১) ভাইসের হাতল ঘুরিয়ে “জ” (Jaw) দুইটিকে ধয়োজন মত ফাঁকা কর ।
- ২) ভাইসের “জ” এর ফাঁকা স্থানে কার্যবস্তুকে ভূমির সমান্তরাল ভাবে এবং মার্কিং রেখাকে ভূমির সাথে লম্বভাবে রেখে কার্যবস্তুকে পূর্ণভাবে টাইট দাও । এ ক্ষেত্রে খেয়াল রাখতে হবে যে, মার্কিং রেখা যেন ভাইসের “জ” এর বাম পার্শ্বে থাকে ।
- ৩) ওয়াকপিস নিচের দিকে নেমে যাবার সম্ভাবনা থাকলে সে ক্ষেত্রে ওয়াকপিসের নিচে একটি কাঠের ব্লক বসাও ।

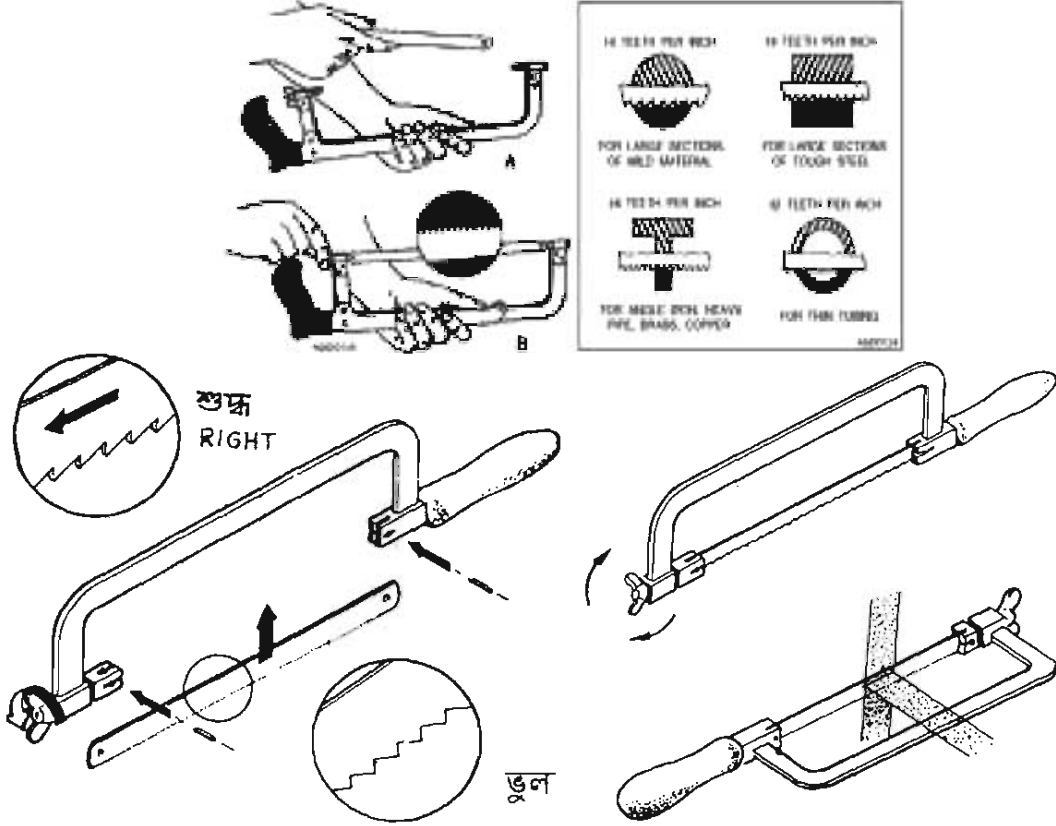


চিত্র-১.৪ঃ ওয়াকপিস ভাইসে আটকানো ।

১.৪ ফ্রেমের মধ্যে সঠিক ভাবে ব্লড আটকানো :

- ১) হ্যাক'স ফ্রেমের উইং নাট টিলা কর । কাজের উপযোগী ব্লড ফ্রেমের নির্দিষ্ট স্থানে বসাও । ব্লড বসানোর সময় উহার দাঁত সম্মুখ দিকে অর্থাৎ হাতলের বিপরীতে রেখে সঠিকভাবে বসাও ।

২) উইং নাট ঘড়ির কাটার দিকে ঘুরাও এবং ব্লডটিকে শক্ত করে আটকাও।

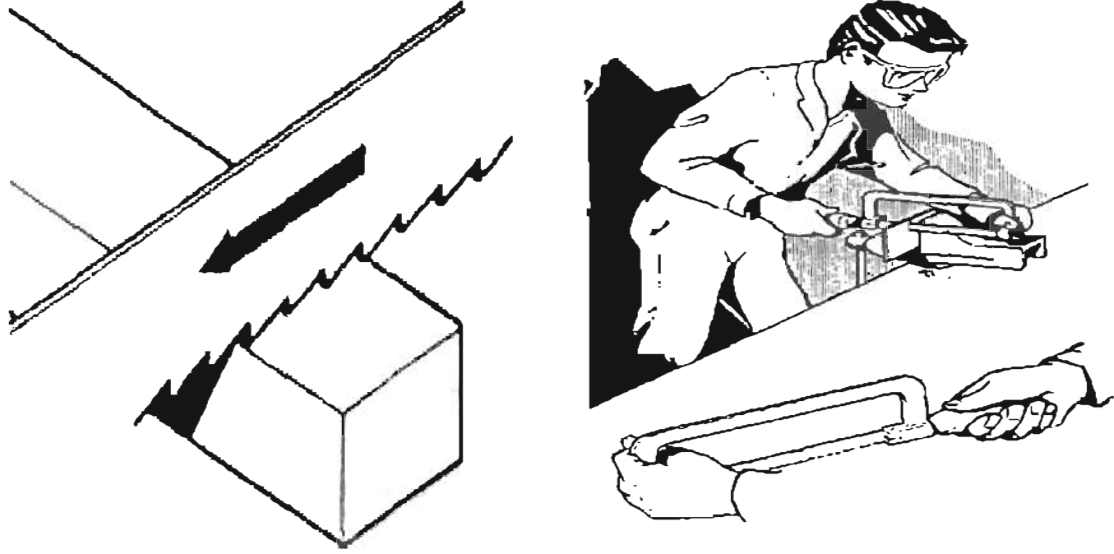


চিত্র-১.৫ঃ হ্যাক'স ফ্রেমের সাথে ব্লড সঠিকভাবে আটকানো।

- ৩) কার্যভেদে ব্লডকে ফ্রেমের সাথে একই তলে অথবা সমকোণে আটকানো যায়। উইং নাটের সাহায্যে ব্লড-এর উপর অর্পিত টান কমানো বা বাড়ানো যায়।
- ৪) ওয়াক'পিসের গুরুত্ব বিবেচনা করে ব্লডকে এমনভাবে বাছাই করতে হবে যেন ব্লডের কম পক্ষে ৩টি দাঁত ওয়াক'পিসের কাটার তল স্পর্শ করে।

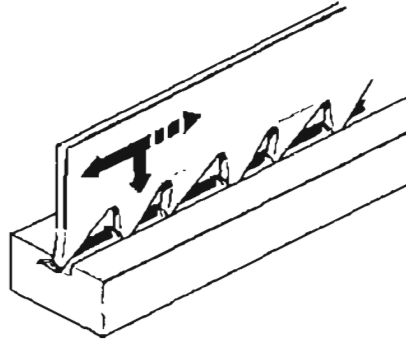
১.৫ হ্যাক সয়িং কাজ সম্পন্নকরণ :

- ১) ওয়াক'টেবিলের সামনে দুই পা ফাঁক করে দাঁড়াও। এক হাত দিয়ে হ্যাক'স ফ্রেমের হাতল ও অন্য হাত দিয়ে ফ্রেমের সামনের অংশ শক্ত করে ধর।
- ২) ওয়াক'পিসের মার্ক করা জায়গায় হ্যাক'স বসাও। এক হাতে ওয়াক'পিস ধরে বুড়ো আঙ্গুলের সাহায্যে হ্যাক'স ব্লডের ৩টি দাঁত বসানো নিশ্চিত কর। 10° - 30° কোণে সামনের দিকে নত করে অন্য হাত দিয়ে হ্যাক'সকে সামনের দিকে ঠেলে দাও।



চিত্র-১.৬ঃ হ্যাক'স সঠিকভাবে চালানো।

- ৩) হ্যাক'স নিচের দিকে অল্প চাপ প্রয়োগ করে সামনে পিছনে চলাচল করাও।

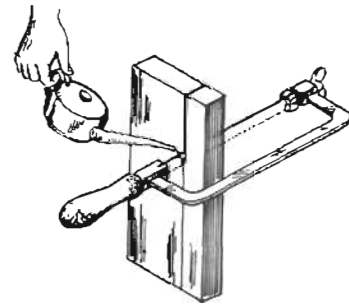


চিত্র-১.৭ঃ হ্যাক'স চালানোর সময় চাপ সামনে যাওয়ার সময় বেশি আসার সময় কম প্রয়োগ করার নিয়ম।

- ৪) ধাতু ক্ষয় করার পথ তৈরি হলে ব্রড আনুভূমিক ভাবে স্থাপন করে হ্যাক'স চালাও। নরম ধাতু কাটার সময় প্রতি মিনিটে ৫০-৬০ বার এবং শক্ত ধাতু কাটার সময় প্রতি মিনিটে ৩০-৪০ বার হ্যাক'স চালাও।

- ৫) কিছুক্ষণ পর পর হ্যাক'স ব্রেড ও কার্যবস্তুর কাটার স্থানে সল্যুবল অয়েল বা পানি প্রয়োগ কর (চিত্র-১.৮)।

- ৬) হ্যাক'স ব্রেড কে কার্যবস্তুর নির্ধারিত দাগের বাহির পার্শ্ব বরাবর চালনা করতে হবে যাতে কাটার পর উহার মাপ ৮ মিলিমিটার হয়।

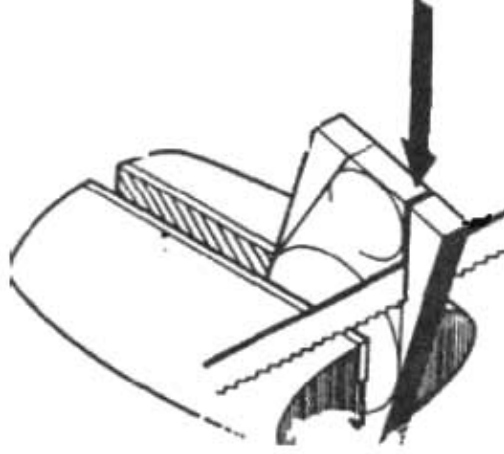


চিত্র-১.৮ঃ হ্যাক সন্নিং-এ কাটিং অয়েল প্রয়োগ।

- ৭) ব্লডকে সম্পূর্ণ দৈর্ঘ্য বরাবর চালনা করাতে হবে, যেন প্রত্যেকটি দাঁত ধাতু কাটার কাজে ব্যবহৃত হয়।
- ৮) কার্ভবক্স মার্কিং লাইন অনুযায়ী ধাতু কাটা হচ্ছে কিনা তা দেখ এবং ধাতু কাটা সম্পন্ন কর।

১.৬ হ্যাক'স চালানোর সময় পরীক্ষা :

- ১) কার্ভবক্স মার্কিং অনুযায়ী কাটা হচ্ছে কিনা দেখ।
- ২) হ্যাক'স ব্লড কাটার উপযোগী টাইট আছে কিনা দেখ। প্রয়োজনে উইং নাটিকে ঘুরিয়ে চাপ (Pressure) সমন্বয় করতে হবে।
- ৩) কার্ভবক্স সঠিকভাবে নিরাপদে আটকানো আছে কিনা দেখ।
- ৪) ব্লডের সমস্ত দাঁত ধাতু কাটার কাজে ব্যবহৃত হচ্ছে কিনা দেখ।



চিত্র-১.৯ঃ হ্যাক স্লিং-এ সঠিকতা পরীক্ষা।

১.৭ হ্যান্ড হ্যাক স্লিং এর সময় সর্ভকর্তার বিবরণঃ

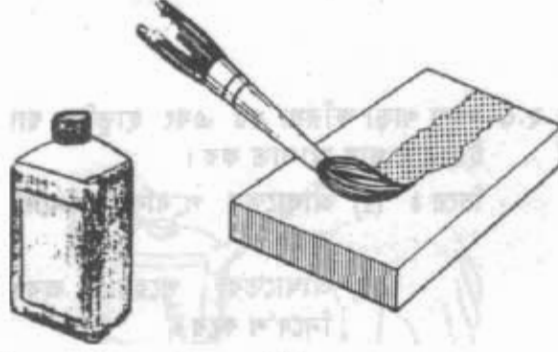
- ১) কার্ভবক্সকে সঠিকভাবে এবং নিরাপদে ভাইসে আটকানো।
- ২) হ্যাক'স ফ্রেমে নির্দিষ্ট দিকে এবং প্রয়োজনীয় চাপে ব্লড সেট করা।
- ৩) কার্ভবক্সর ধাতু এবং উহার আকার, আকৃতি বিবেচনা করে ব্লড নির্বাচন করা।
- ৪) প্রয়োজনীয় চাপে এবং বেঁটাক সংখ্যায় হ্যাক'স চালনা করা।
- ৫) প্রয়োজনীয় ক্ষেত্রে কুল্যান্ট ব্যবহার করা।
- ৬) শিকানবিশ অবস্থায় প্রথমে নমনীয় (Flexible) এবং পরে অনমনীয় (All Hard) ব্লড ব্যবহার করা।
- ৭) সকল ক্ষেত্রে সঠিক পদ্ধতি অবলম্বন করা।

অধ্যায়-২

ক্রস কাইলিং পদ্ধতিতে ধাতুর পৃষ্ঠদেশ সমতলকরণ (Surface Finishing by Cross Filing Process)

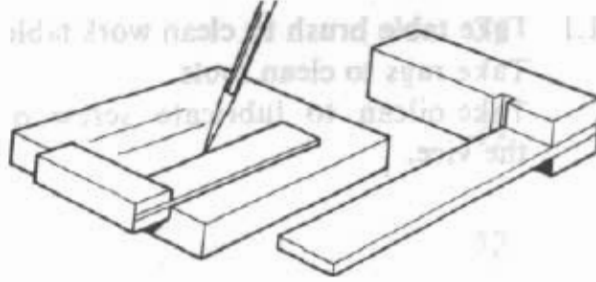
২.১ ওয়াকপিসে লে-আউট ও মার্কিং করণ :

১) জবের উপর চক পেন্সিল বা মার্কিং কালার এর প্রলেপ দাও ।



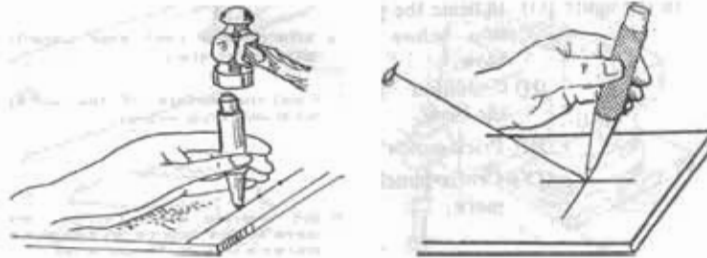
চিত্র-২.১৪ জবের উপর মার্কিং কালারের প্রলেপ দেওয়া ।

২) ট্রাই স্কয়ার ও ক্রাইবারের সাহায্যে ওয়াকপিসের তলের সোজা কিনারার সাথে সমকোণে প্রয়োজনীয় দাগ দাও ।



চিত্র-২.২১ জবের উপর ট্রাই-স্কয়ার ও ক্রাইবার দিয়ে মার্কিং করণ ।

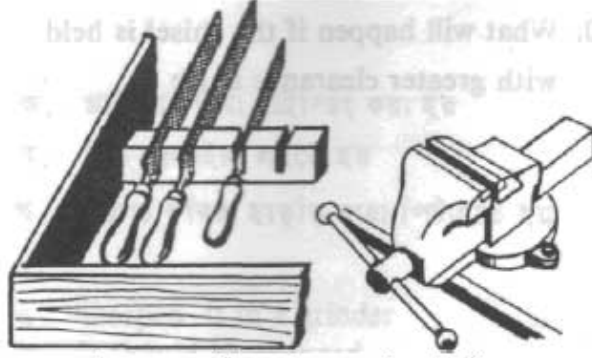
৩) দাগ বরাবর ডট পাকের সাহায্যে কিছু দূর পর পর পাখিঃ করে চিহ্নিত কর ।



চিত্র-২.৩১ জবের উপর পাক দিয়ে মার্কিং করণ ।

২.২ সঠিক ফাইল নির্বাচন :

- ১) প্রয়োজনীয় মসৃণতা এবং ধাতু অপসারণের পরিমাণ বিবেচনা করে ফাইল নির্বাচন করতে হয়।
- ২) রাফ সারফেস এবং অধিক ধাতু অপসারণের জন্য বাস্টার্ড (Bastard), ডবল কাট, ১২" বা ৩০০ মি.মি. টেম্পার ফ্ল্যাট ফাইল নির্বাচন করা যায়।
- ৩) মসৃণ সারফেস এবং বন্ধ পরিমাণ ধাতু অপসারণের জন্য স্মুথ (Smooth), সিংল কাট, ১০" বা ২৫০ মি.মি. টেম্পার ফ্ল্যাট ফাইল নির্বাচন করা যায়।



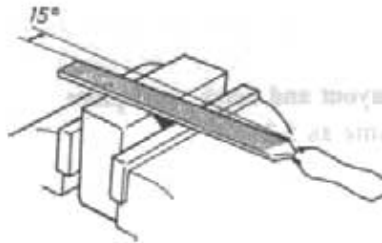
চিত্র-২.৪: সঠিক ফাইল ও ভাইস নির্বাচন।

২.৩ আনুবাদিক যন্ত্রপাতি :

- ১) ফাইল (২) ফিটার্স বেল্ট ভাইস (৩) ট্রাই করার (৪) ক্রাইবার (৫) ডট পাক (৬) হ্যামার (৭) গুয়্যার ব্রাশ (৮) ফাইল কার্ড (৯) স্টিল রুল।

২.৪ গুয়্যারপিস সঠিকভাবে বেল্ট ভাইসে আটকানো :

- ১) ফাইলিং করার সময় ভাইসের "জ" পক্ষ উচ্চতা অপারেটরের কনুই বরাবর হওয়া উচিত, এতে ফাইলিং কাজ সহজতর হয়।
- ২) ফাইলিং করার ডলটিকে ভাইসের "জ" এর সমান্তরালভাবে রেখে ভাইসের দুই "জ" এর মধ্যে দৃঢ়ভাবে আটকাতে হবে।

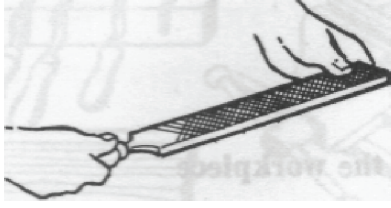


চিত্র-২.৫: গুয়্যারপিস ভাইসে আটকানো ও ফাইল সেট করার কৌশল

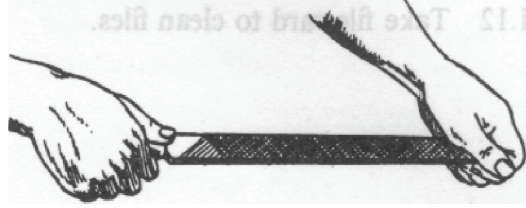
- ৩) ফাইলিং করার ডলটিকে যথাসম্ভব ভাইসের "জ" এর নিকটবর্তী রাখতে হবে। নচেৎ কার্যকর কৌশল পক্ষের সৃষ্টি করবে।
- ৪) ফাইলিং করার সময় কার্যকর যেন নিচে নেমে না যায় সে জন্য উহার নিচে কাঠের বা অনুরূপ অন্য ব্লক ব্যবহার করতে হবে, (অবশ্যই প্রয়োজনীয় ক্ষেত্রে)।

- ৫) ফিনিশিং কার্যবস্তুর উপর ফাইলিং করার জন্য ভাইসের 'জ' এর সহিত নরম 'জ' ব্যবহার করতে হবে, এতে কার্যবস্তুর তলের মসৃণতা নষ্ট হয় না।

২.৫ ওয়াকর্কপিসে সঠিক ভাবে ফাইলিং করা :



চিত্র-২.৬ঃ ছোট ফাইল ধরার কৌশল।

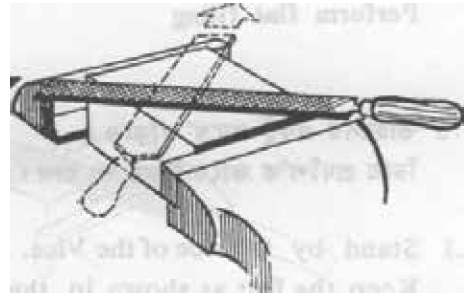


চিত্র-২.৭ঃ বড় ফাইল ধরার কৌশল।

ফাইলিং করার জন্য বড় ফাইল ধরা (চিত্র-২.৭) এবং ছোট ফাইল ধরার (চিত্র- ২.৬) নিয়ম আলাদা। বড় ফাইলের হ্যান্ডেল ডান হাতে এবং উহার পয়েন্ট প্রান্ত বাম হাতে ধরে ফাইলিং আরম্ভ করতে হয়। ছোট ফাইলের ক্ষেত্রে ফাইলের হ্যান্ডেল ডান হাতে এবং উহার পয়েন্ট বাম হাতের তর্জনী ও বৃদ্ধাঙ্গুলি দিয়ে ধরে কাজ আরম্ভ করতে হয়। ওয়াকর্কপিসের তলের উপর নির্দিষ্ট জায়গায় ফাইলিং করার প্রয়োজন হলে ফাইলের হ্যান্ডেল ডান হাতে, বাম হাতের বৃদ্ধাঙ্গুলি হাতলের দিকে এবং তর্জনী ও মধ্যমা আঙ্গুল দুইটি ফাইলের উপর পয়েন্টের দিকে রেখে ফাইলিং করতে হবে। ফাইলিং করতে অপারেটরকে উভয় পা ফাঁক করে সামনের দিকে ঝুঁকে দৃঢ়ভাবে দাঁড়াতে হয়। এতে ফাইলিং সুবিধাজনক ও মাপের সঠিকতা বজায় থাকে।


২.৬ সঠিক স্ট্রোক এবং গতিতে ফাইল চালনা :

ফাইলিং করার সময় ফাইলের উপর সমহারে চাপ প্রয়োগ করা উচিত। ওয়াকর্কপিসের উপর প্রয়োজনীয় চাপ সব সময় বজায় রেখে ফাইলকে সামনের দিকে ঠেলেতে হয় এবং বিনা চাপে পিছনে টানতে হয়। ফাইলের বিভিন্ন অবস্থানে দুই হাতে প্রয়োগকৃত চাপের পরিমাণ সমন্বয় করতে হয়। চাপের পরিমাণ এই রকম হওয়া উচিত যাতে ফাইল কার্যবস্তুর উপর পিছলিয়ে না যায় বা আটকিয়ে না থাকে। স্ট্রোকের সংখ্যার পরিমাণ না বাড়িয়ে প্রত্যেক স্ট্রোকেই যেন ফাইল কার্যবস্তুর কাটে সে দিকে খেয়াল রাখতে হবে। ধাতু যত শক্ত হবে স্ট্রোকের সংখ্যা তত কমাতে হবে। দ্রুত গতিতে ফাইল চালনা করা উচিত নয়। প্রশিক্ষণার্থীদের ক্ষেত্রে ফাইলিং এর প্রথম অবস্থায় এক নাগাড়ে যাতে বেশিক্ষণ ফাইলিং করতে পারে সে জন্য স্ট্রোকের সংখ্যা নিয়ন্ত্রণ করে প্রত্যেক স্ট্রোকে ধাতু কাটার বিষয়টি নিশ্চিত হতে হবে।



চিত্র-২.৮ঃ ক্রস ফাইলিং করার কৌশল।

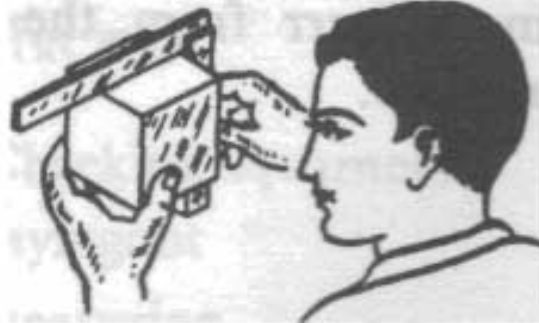
প্রথমে এক কোণ থেকে 'ডায়গোনাল' (Diagonal) ফাইলিং করে পুনরায় অন্য কোণ থেকে 'ডায়গোনাল' ফাইলিং করলে তাকে ক্রস ফাইলিং (Cross Filing) বলে। ক্রস ফাইলিং একটি সাধারণ ফাইলিং পদ্ধতি। এই পদ্ধতিতে দিক পরিবর্তন করে 'ডায়গোনাল' ফাইলিং করা হয়। কার্যবস্তুর নোংড়া তল পরিষ্কার করতে, কার্যবস্তুর তল থেকে দ্রুত ধাতুকে অপসারিত করতে এবং তল সমতল করতে ক্রস ফাইলিং ব্যবহৃত হয়।



চিত্র-২.৯৪ কাহিলে চাপ দেওয়ার কৌশল।

২.৭ কাহিলিং এর সময় এবং পরে সমতলতা পরীক্ষাকরণ :


সমতলতা পরীক্ষা করার জন্য সিল কল অথবা ট্রাই স্কয়ার ব্যবহার করতে হবে। কার্বকরের ডলের উপর সিল কলের পার্শ্ব অথবা ট্রাই স্কয়ারের ব্রেডকে স্থাপন করে ঐছার পিছনে আলো রেখে অবলোকন করতে হবে। যদি আলো স্পর্শ স্থান দিয়ে দেখা না যায় তবে বুঝতে হবে তলটি সমতল আছে (চিত্র-২.১০)।



চিত্র-২.১০ঃ কাহিলিং এর পর সমতলতা পরীক্ষা।

২.৮ কাহিল কার্ড দ্বারা সঠিক পদ্ধতিতে কাহিল পরিষ্কার করণ :

কাহিলিং করার সময় অপ্রয়োজনীয় ধাতুখণ্ড কাহিলের দাঁকের কাঁকে আটকিয়ে থাকে। কলে পরবর্তীতে ধাতু কণ্ডিতে অনুবিধা হয়। কাহিল কার্ড দ্বারা মাঝে মাঝে কাহিল পরিষ্কার করলে কাহিলের দাঁত সহজেই ধাতুকে কান্ডিতে পারে।



চিত্র-২.১১ঃ কাহিল কার্ড দ্বারা কাহিল সঠিকভাবে পরিষ্কার করণ।

২.৯ ফাইলিং করার সময় সর্ভকতার বিষয়াদি অনুশীলন :

- ১) কাজের পূর্বে সেফটি ড্রেস পরিধান করা ।
- ২) সঠিকভাবে ও নিরাপদে কার্যবস্তুরে ভাইসে আটকানো ।
- ৩) ফাইলিং এর সময় কার্যবস্তুর তল এবং ফাইলের ময়লা কখনো হাত দিয়ে পরিষ্কার না করা ।
- ৪) মাঝে মাঝে কার্যবস্তুর তল পরীক্ষা করা ।
- ৫) কাজের সময় বা পরে একটা ফাইলের উপর অন্য ফাইল না রাখা ।
- ৬) মনযোগ সহকারে কাজ করা । কাজের সময় অযথা বাক্যালাপ পরিহার করা ।
- ৭) সঠিক পদ্ধতিতে কাজ করা ।
- ৮) সঠিক ফাইল নির্বাচন ও ব্যবহার করা ।

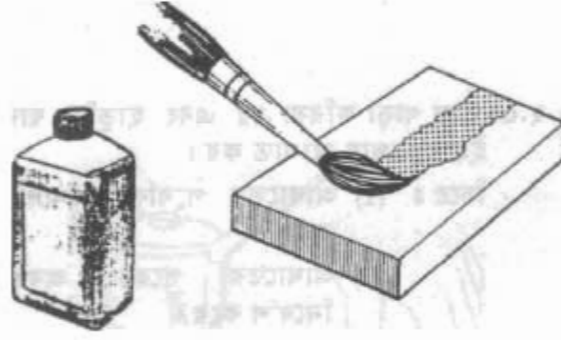
অধ্যায়-৩

ধাতুতে খাঁজ ফাইলিং

(Corroged/Profile Filing of Metals)

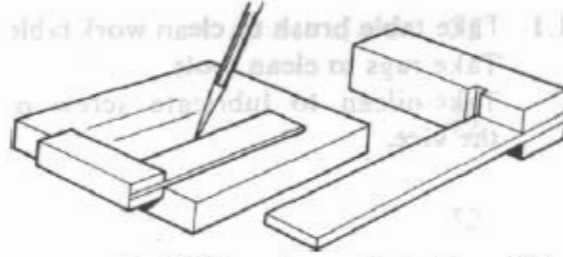
৩.১ ওয়াকপিসে লে-আউট ও মার্কিং করণ :

- ১) হোয়াইট স্পিরিট দিয়ে সারফেস প্রেট পরিষ্কার কর।
- ২) ডাস্টার রুখ দিয়ে যত্নপাতি ও ওয়াকপিস পরিষ্কার কর।
- ৩) মার্কিং কালার (রং) দিয়ে ওয়াকপিসের তলে প্রলেপ দাও।



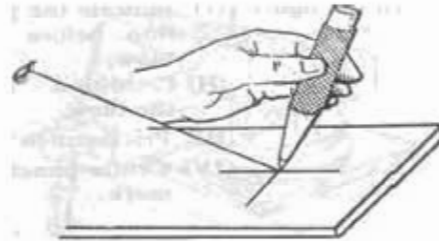
চিত্র-৩.১ঃ জবের উপর মার্কিং কালারের প্রলেপ দেওয়া।

- ৪) ট্রাই-স্কয়ার ও ক্রাইবারের সাহায্যে ওয়াকপিসের তলে সোজা কিনারার সাথে সমকোণে প্রয়োজনীয় দাগ দাও।



চিত্র-৩.২ঃ জবের উপর ট্রাই-স্কয়ার ও ক্রাইবার দিয়ে মার্কিংকরণ।

- ৫) পাঞ্চ খাঁড়াতাবে দাগের উপর ধর ও হাতুড়ি দিয়ে মাঝায় আঘাত করে মার্কিং করা লাইন বরাবরে গাঙ্কিং কর।



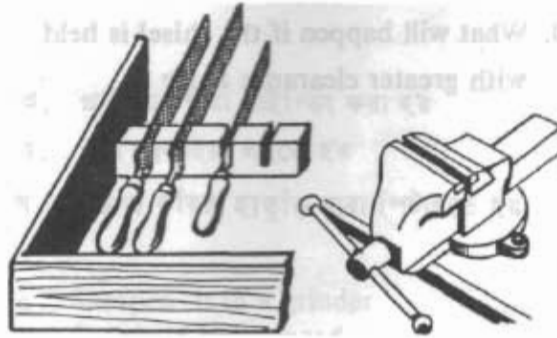
চিত্র-৩.৩ঃ পাঞ্চ বসানোর নিয়ম



চিত্র-৩.৪৪ পাঞ্চ দিয়ে লাইন বরাবর মার্কিং করা।

৩.২ সঠিক ফাইল নির্বাচন :

খাঁজ কাহিলিং করার জন্য ফাইল নির্বাচনের ক্ষেত্রে খাঁজের আকার এবং আকৃতি প্রধানত বিবেচনা করতে হবে। খাঁজে আকারের উপর নির্ভর করে ফাইলের আকার এবং আকৃতির উপর ভিত্তি করে ফাইলের আকৃতি নির্ধারণ করতে হবে। তবে ফাইলের আকার এবং আকৃতি অবশ্যই খাঁজের আকার এবং আকৃতি নির্ধারণ করতে হবে। তবে ফাইলের আকার এবং আকৃতি অবশ্যই খাঁজের আকার এবং আকৃতি তুলনায় ছোট হবে। এই কাজে (১) রাউন্ড ফাইল (২) হাফ রাউন্ড ফাইল (৩) ট্রাইএঞ্জুলার ফাইল (৪) স্কয়ার ফাইল (৫) ফ্ল্যাট ফাইল ইত্যাদি কাজের ডিজাইন ভেঙ্গে নির্বাচন করা যায়।



চিত্র-৩.৫: সঠিক ফাইল ও ভাইস নির্বাচন।

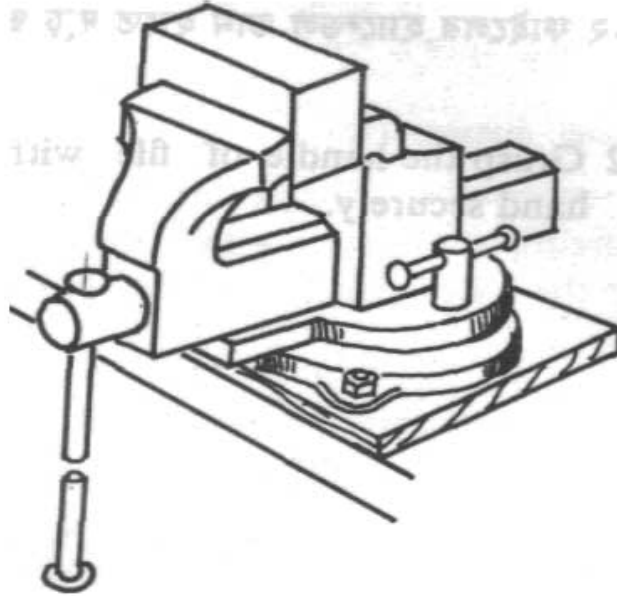
৩.৩ আনুমানিক যন্ত্রপাতি নির্বাচন :

- ১) ফাইল- রাক মসৃণতার জন্য বাসটার্ড বা সেকেন্ড কাট ফাইল, চূড়ান্ত মসৃণতার জন্য শ্রুথ বা ডেড শ্রুথ ফাইল।
- ২) ফিটার্স বেক ভাইস।
- ৩) সারফেস প্লেট
- ৪) অ্যানভিল
- ৫) হিক পাঞ্চ

- ৬) হ্যামার (হালকা ওজন বিশিষ্ট)
- ৭) ক্রাইবার
- ৮) সলিড ট্রাইস্কয়ার
- ৯) ব্রাশ
- ১০) ফাইল কার্ড
- ১১) প্রয়োজনীয় গেজ
- ১২) ভার্নিয়ার ক্যালিপার
- ১৩) মার্কিং কালার, তুলি ইত্যাদি।
- ১৪) ইনসাইড ভার্নিয়ার ক্যালিপার্স।

৩.৪ ওয়াকপিস সঠিকভাবে বেঞ্চ ভাইসে আটকানো :

- ১) ফাইলিং করার সময় ভাইসের “জ” পর্যন্ত উচ্চতা অপারেটরের কনুই বরাবর হওয়া উচিত, এতে ফাইলিং কাজ সহজতর হয়।
- ২) ফাইলিং করার তলটিকে ভাইসের “জ” এর সমান্তরাল ভাবে রেখে ভাইসের দুই “জ” এর মধ্যে দৃঢ়ভাবে আটকাতে হবে।



চিত্র-৩.৬ঃ ওয়াকপিস ভাইসে সঠিকভাবে আটকানো

- ৩) ফাইলিং করার তলটিকে যথাসম্ভব ভাইসের ‘জ’ এর নিকটবর্তী রাখতে হবে। নচেৎ কার্যবস্ত্র কেঁপে শব্দের সৃষ্টি করবে।
- ৪) ফাইলিং করার সময় কার্যবস্ত্র যেন নিচে নেমে না যায় সে জন্য উহার নিচে কাঠের বা অনুরূপ অন্য ব্লক ব্যবহার করতে হবে, (অবশ্যই প্রয়োজনীয় ক্ষেত্রে)।
- ৫) ফিনিশিং কার্যবস্ত্রের উপর ফাইলিং করার জন্য ভাইসের ‘জ’ এর সহিত নরম ‘জ’ ব্যবহার করতে হবে, এতে কার্যবস্ত্রের তলের মসৃণতা নষ্ট হয় না।

৩.৫ সঠিকভাবে ফাইল ধরা :

১. খাঁজ ফাইলিং করার পূর্বে খাঁজে আকৃতি বিবেচনা করা। খাঁজের আকার এবং আকৃতির ভিত্তিতে সঠিক ফাইল নির্বাচন করা।

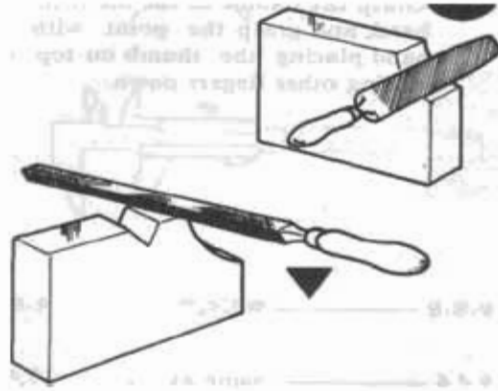


চিত্র-৩.৭ঃ ছোট ফাইল ধরার কৌশল।



চিত্র-৩.৮ঃ বড় ফাইল ধরার কৌশল।

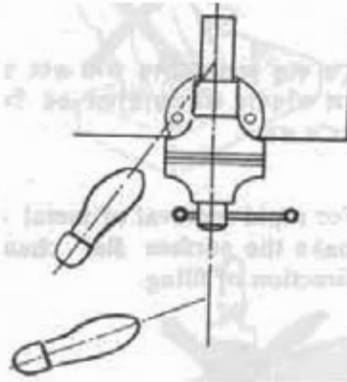
২. ফাইলের হ্যান্ডেল ডান হাতে ধর এবং বৃদ্ধাদুলি উপরে রেখে অন্যান্য আঙ্গুল নিচে রাখ। বাম হাতে পয়েন্ট ধর। ধাক্কা অপসারণ এবং মসৃণতা বিবেচনা করে ফাইলের উপর চাল প্রয়োগ কর এবং প্রয়োজনীয় চাল বিবেচনা করে ফাইলকে ধরে ফাইলিং করতে শুরু কর।



চিত্র-৩.৯ঃ খাঁজ ফাইলিং করার কৌশল।

৩.৬ সঠিক শ্রোঙ্ক এবং গভিটে ফাইলিং সম্পন্ন করণঃ

- ১) ডাইসের একটু পার্শ্বে দাঁড়াও। ডান পা পিছনে ও বাম পা সামনে ঝাঁক করে দাঁড়াও।



চিত্র-৩.১০ঃ খাঁজ ফাইলিং এর সময় দাঁড়ানোর কৌশল।

২) পা কিছুটা ঝাঁক করে দৃঢ়ভাবে সামনের দিকে কিছুটা ঝুঁকে দাঁড়াও।

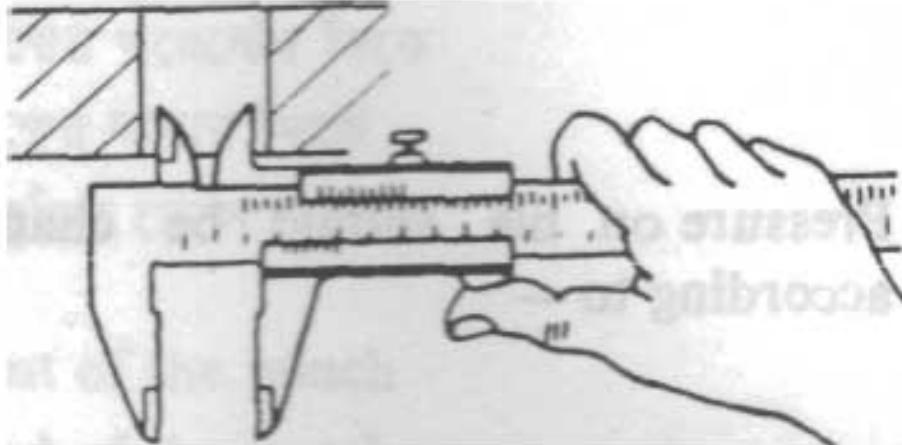


চিত্র-৩.১১ঃ ঝাঁক ফাইলিং এ ফাইল চালানোর কৌশল।

৩) দ্রুত ধাতু অপসারণ এর জন্য ৩ ডল সমতল করার জন্যে ফাইলিং এর দিক পরিবর্তন কর।
 ৪) ওয়াকশিপলের ডল চিকম হলে ১৫ ডিগ্রি কোণে সম্পূর্ণ ফাইল সামনে ৩ শেজলে চালনা কর। সামনে নেওয়ার সময় ঢাল প্রয়োগ কর। ইহাতে ধাতু কটবে। ধীর গতিতে বেট্রাক দিতে হবে। ইহাতে অঙ্গুলো ফল পাওয়া যায়। একতবে ফাইলিং কাজ সম্পন্ন কর।

৩.৭ ফাইলিং এর সময় এবং পরে ঝাঁক পরীক্ষাকরণ :

- ১) ফাইলিং করার সময় ঝাঁক মাঝে ঝাঁকের মাপ পরীক্ষা কর।
- ২) কাজের সময় অঙ্গুলো ভাবে লক্ষ রাখা বাতে মার্কিং এর বাহিরে না যার।
- ৩) ফাইলিং কাজ সম্পন্ন করার পর মাপন যন্ত্রের সাহায্যে উহার মাপ পরীক্ষা কর।



চিত্র-৩.১২ঃ ফাইলিং এর সময় এবং পরে ঝাঁকের মাপ পরীক্ষাকরণ।

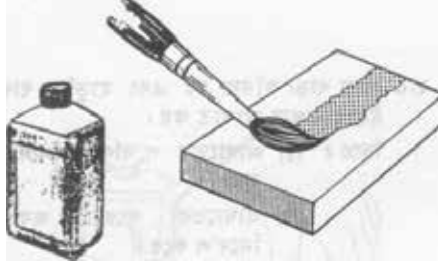
অধ্যায়-৪

ধাতুতে ড্র ফাইলিং (Draw Filing on Metals)

৪.১ ওয়াকপিসে লে-আউট ও মার্কিং :

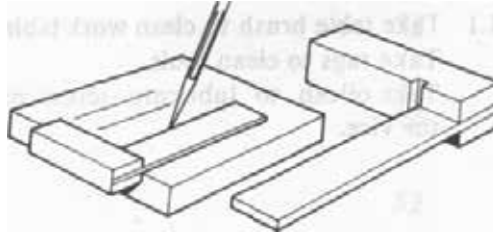
ড্র-ফাইলিং সাধারণত কম ধাতু কেটে অধিকতর মসৃণতা প্রদান, উত্তল সারফেসের মাঝখানের ধাতু অপসারণ করে উহাকে সমতল করা, কম প্রস্থ বিশিষ্ট সারফেসকে শীঘ্র ক্ষয় করার জন্য বিশেষ উপযোগী। জব বা কার্যবস্তু নির্বাচনের ক্ষেত্রে সমতল পার্শ্বের সহিত সমকোণে সমতল সারফেস অর্থাৎ তল ফাইলিং করে তৈরি করার মাধ্যমে ড্র ফাইলিং এ দক্ষতা অর্জন করার বিষয়টি বিবেচনা করা হয়েছে। নিম্নলিখিত ভাবে লে-আউট ও মার্কিং কাজ সমাধা কর-

- ১) ওয়াকপিসের উপর মার্কিং কালার (রং) দিয়ে প্রলেপ দাও।



চিত্র-৪.১ঃ জবের উপর মার্কিং কালারের প্রলেপ দেওয়া।

- ২) ট্রাই-স্কয়ার ও স্ক্রাইবারের সাহায্যে ওয়াকপিসের তলে সোজা কিনারার সাথে সমকোণে দাগ দাও।



চিত্র-৪.২ঃ জবের উপর ট্রাই-স্কয়ার ও স্ক্রাইবার দিয়ে মার্কিংকরণ।

- ৩) দাগের উপর পাঞ্চ খাড়াভাবে ধরা এবং হাতুড়ি দিয়ে ইহার প্রান্তে আঘাত কর। এভাবে সম্পূর্ণ দাগ বরাবর পাঞ্চ দিয়ে মার্কিং কর।




চিত্র-৪.৩ঃ পাঞ্চ দিয়ে লাইন বরাবর মার্কিং করা।

ফর্মা-২২, মেশিন টুলস অপারেশন-১, ৯ম-১০ম শ্রেণি

৪.২ সঠিক ফাইল নির্বাচন :

কাঙ্ক্ষিত ধরন ও ওয়ার্কপিসের আকার, আকৃতির উপর ভিত্তি করে ফাইল নির্বাচন করতে হয়। এ ক্ষেত্রে রাফ ফিনিশিং এবং বেশি খাত্ত কাটার জন্য বাসটার্ড বা সেকেন্ড কাট, সিলেন কাট, ১২ ইঞ্চি ক্ল্যাট ফাইল নির্বাচন করা যেতে পারে। স্মুথ ফিনিশিং এবং অল্প খাত্ত কাটার জন্য স্মুথ বা ডেড স্মুথ, সিলেন কাট, ১০ ইঞ্চি ক্ল্যাট ফাইল নির্বাচন করা যায়।



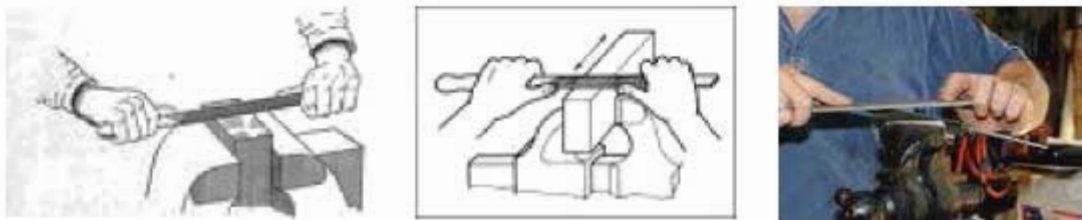
চিত্র-৪.৪: সঠিক ফাইল ও ভাইস নির্বাচন।

৪.৩ আনুবন্ধিক ব্যৱপাতি :

- ওয়ার্ক সারফেস হিসেবে সারফেস প্লেট ব্যবহার করা। সারফেস প্লেটের তলে এলোপ দিতে মার্কিং কালার ব্যবহার করা।
- কাঙ্ক্ষিত সময় অব আটকানোর জন্যে ভাইস ব্যবহার করা।
- ওয়ার্কপিসের সমতল ও বর্গাকার পরীক্ষা করার জন্যে ট্রাই-করার ব্যবহার করা।
- মার্কিং করার জন্য ক্রাইবার, থ্রিক পাঞ্চ, ছোট বল পিন হ্যামার ব্যবহার করা।

৪.৪ সঠিক পদ্ধতিতে ড্র ফাইলিং :

ফাইলকে এছের দিকে ধরে দৈর্ঘ্য বরাবর ক্রমাগত ঠেসে এবং টেনে ফাইলিং করাকে ড্র ফাইলিং বলে। ড্র ফাইলিং এর জন্য সঠিক ভাবে ফাইল ধরার দক্ষতা অর্জন করা খুবই গুরুত্বপূর্ণ।



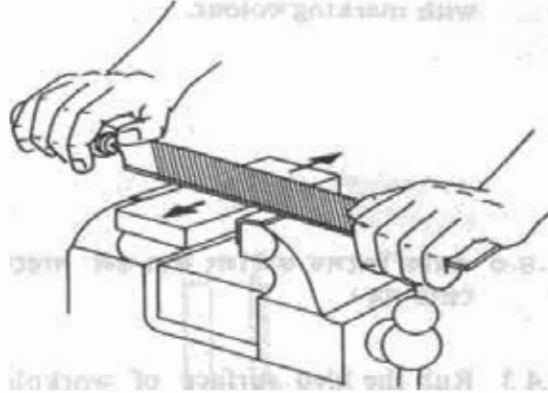
চিত্র-৪.৫: সঠিক পদ্ধতিতে ড্র-ফাইলিং।

- ১) ডান হাতের তালু ও আঙ্গুল দিয়ে ফাইলের হ্যাভেলের দিকে ধরতে হবে। বাম হাতের তালু ও আঙ্গুল দিয়ে ফাইলের পরেটের দিকে ধরতে হবে।
- ২) উত্তম মসৃণ ও কম খাত্ত কাটার জন্য উত্তর হাত ওয়ার্কপিসের নিকটবর্তী রেখে ছোট করে ফাইল ধরতে হবে।



চিত্র-৪.৬ঃ সঠিক পদ্ধতিতে ড্র-ফাইলিং (কম ধাতু মসৃণভাবে কাটা)।

- ৩) ওয়াকপিসের পার্শ্বভিমে ফাইল চালনা করতে হবে।
- ৪) কম মসৃণ এবং বেশি ধাতু কাটার জন্য উভয় হাত ওয়াকপিস থেকে দূরে রেখে বড় দূরত্ব নিয়ে ফাইল ধরতে হবে।
- ৫) ফাইলের দুই প্রান্তে দুই হাত দ্বারা সমভাবে চাপ প্রয়োগ করা।



চিত্র-৪.৭ঃ ড্র-ফাইলিং এ সমান চাপে ফাইল চালানোর নিয়ম।

- ৬) ফাইলিং এর সময় মাঝে মাঝে ফাইল কার্ড দ্বারা ফাইল পরিষ্কার করা।

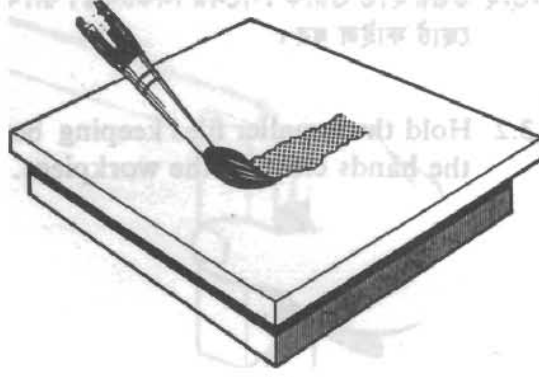


চিত্র-৪.৮ঃ ফাইল কার্ড দ্বারা ফাইল পরিষ্কার করণ।

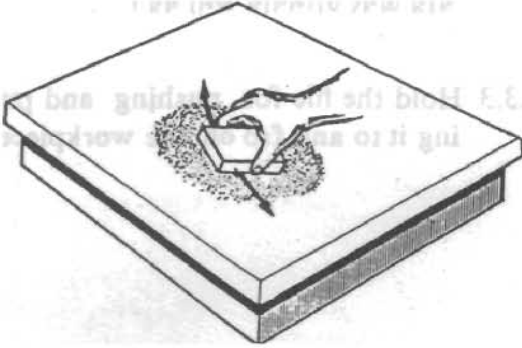
৪.৫ ফাইলিং এর সময় এবং পরে তল পরীক্ষা করণ :

- ১) মার্কিং কালার (রং) দিয়ে সারফেস বা তলে প্রলেপ দেওয়া।
- ২) ওয়াকপিসের উঁচু অংশগুলো রঙিন হয়েছে কিনা পরীক্ষা করা।

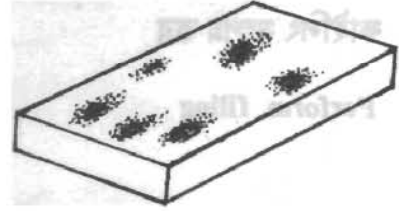
৩) সম্পূর্ণ তলে রং লাগলে বুঝতে হবে সমতল হয়েছে।



(১)



(২)



(৩)

চিত্র-৪.৯ঃ সারফেস প্লেটের সাহায্যে সমতলতা পরীক্ষা।

- ৪) ওয়াক্‌পিসের তল সমতল ও মসৃণ না হওয়া পর্যন্ত বারবার ড্র ফাইলিং করা।
- ৫) স্টিল বা ট্রাই-স্কয়ার দ্বারাও সমতলতা পরীক্ষা করা যায়।
- ৬) ট্রাই-স্কয়ারের সাহায্যে সমকোণ এবং বর্গাকার বা আয়তকার পরীক্ষা করা।
- ৭) ওয়াক্‌পিসের উপর ট্রাই-স্কয়ার বা স্টিল রুলকে তীর্যকভাবে সেট করে সমতলতা পরীক্ষা করা।

৪.৬ ড্র ফাইলিং এর সময় সতর্কতার বিষয়াদি :

- ক) নিরাপদ ড্রেস পরিধান করা।
- খ) সঠিকভাবে নিরাপদে কার্যবস্তুর আটকানো।
- গ) সঠিকভাবে ফাইলকে ধরা এবং যেদিক বা জায়গা উঁচু সেখানে তুলনামূলক বেশি চাপ প্রয়োগ করা।
- ঘ) মাঝে মাঝে কার্যবস্তুর তল পরীক্ষা করা।
- ঙ) সঠিক ফাইল নির্বাচন ও ব্যবহার করা।
- চ) কাজের ধারাবাহিকতা বজায় রাখা।

অধ্যায়-৫

পাওয়ার হ্যাক'স দ্বারা ধাতু কাটা
(Metal Cutting by Power Hacksaw)

৫.১ যন্ত্রপাতি নির্বাচন :

ক) ধাতু কাটানোর জন্য পাওয়ার হ্যাক'স মেশিন বাছাই করা।



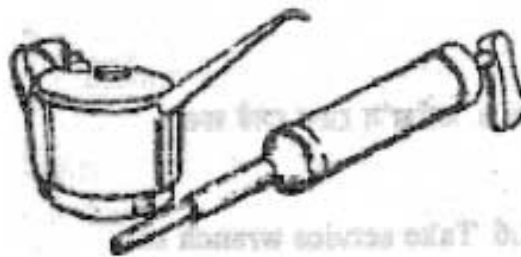
চিত্র-৫.১ পাওয়ার হ্যাক'স মেশিন

খ) পাওয়ার হ্যাক'স মেশিন পরিষ্কার করার জন্য মেশিন ব্রাশ এবং কাপড়ের টুকরা লাগে।



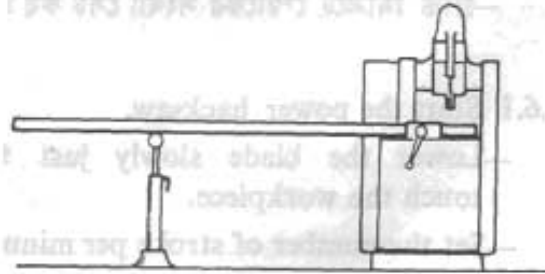
চিত্র-৫.২ মেশিন ব্রাশ ও অয়েল কাটন

গ) পাওয়ার হ্যাক'স তে তেল দেওয়ার জন্য অয়েল ক্যান এবং অয়েল পাম লাগে।



চিত্র-৫.৩ অয়েল ক্যান ও অয়েল পাম

ঘ) বার মৌটাল সাপোর্ট সেওয়ার জন্য ম্যাটারিয়াল স্ট্যান্ড লও।



চিত্র-৫.৪ঃ ম্যাটারিয়াল স্ট্যান্ড

ঙ) ওয়াক্সিলেনের সৈর্ধ্য মাপার জন্য স্টিল ট্যাপ বা স্টিল রুল লও।

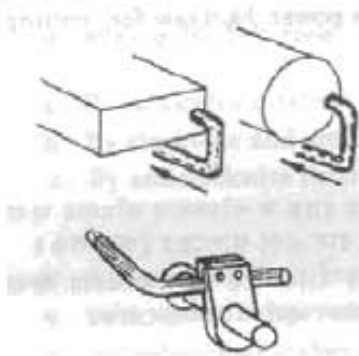


চিত্র-৫.৫ঃ স্টিল রুল



চিত্র-৫.৬ঃ স্টিল ট্যাপ

চ) সুবিধাজনক অ্যাডজাস্টেবল স্টপস লও।



চিত্র-৫.৭ঃ অ্যাডজাস্টেবল স্টপস

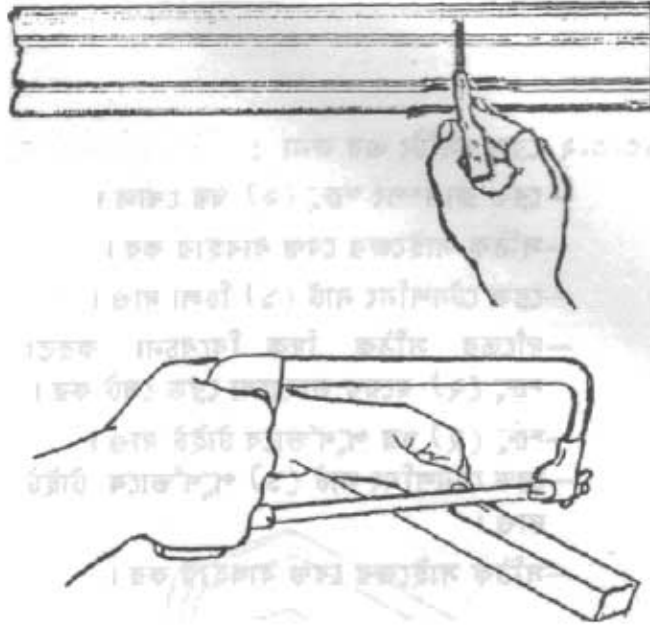
ছ) সার্ভিস রেঞ্চ লেট লও।



চিত্র-৫.৭ঃ অ্যাডজাস্টেবল রেঞ্চ ও স্প্যানার

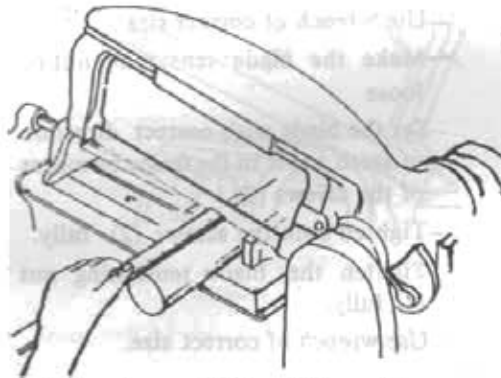
৫.২ ওয়াকপিস সে-আউট ও মার্কিং :

- ক) সূত্র মাপের জন্য চক দিয়ে কাটবার স্থান রঞ্জিত কর।
- খ) সূত্র মাপের জন্য হ্যান্ড হ্যাক'স দিয়ে কাটবার স্থান অল্প পরিমাপ কেটে চিহ্নিত কর।



চিত্র-৫.৮ঃ ওয়াকপিস সে-আউট ও মার্কিং

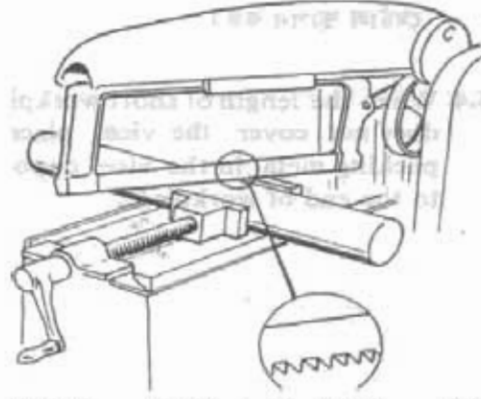
- গ) ভাইসের মধ্যে ওয়াকপিস স্থাপন কর।



চিত্র-৫.৯ঃ ওয়াকপিস ভাইসে স্থাপন

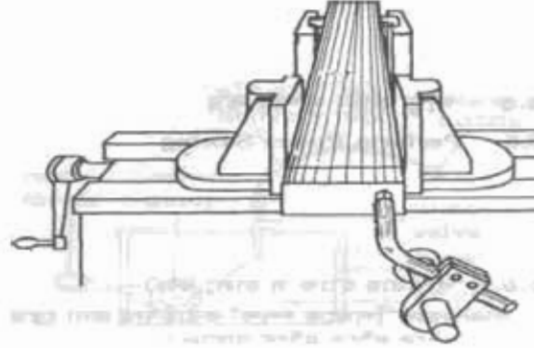
৫.৩ সঠিকভাবে ওয়াকপিস অতিক্রমো :

- ক) পাওয়ার হ্যাক'স চালু কর।
- খ) প্রয়োজনীয় উচ্চতায় ব্রেড উঁচু কর।
- গ) ভাইসের মধ্যে ওয়াকপিস স্থাপন কর।
- ঘ) মার্ক অনুসারে ছব রেখে হ্যাভেলের সাহায্যে ভাইস পূর্ণ টাইট দিয়ে নাও।



চিত্র-৫.১০ঃ ওয়াকপিস ডাইসে টাইট করে বাঁধা

৩) একাধিক ওয়াকপিস কাটবার জন্য অ্যান্ডজাস্টেবল স্টপ সেট করা।



চিত্র-৫.১১ঃ অ্যান্ডজাস্টেবল স্টপ সেট করা

- চ) বার মেটালের মুক্ত প্রান্তে সাপোর্ট দেয়ার জন্য ম্যাটেরিয়াল স্ট্যান্ড স্থাপন করা। এরোজনে একাধিক ম্যাটেরিয়াল স্ট্যান্ড ব্যবহার করা।
- ছ) যখন খাঁচা ওয়াকপিসের দৈর্ঘ্য ডাইসের 'জ' এর দৈর্ঘ্যকে অতিক্রম করে না তখন ডাইসের মধ্যে ওয়াকপিসের অপর প্রান্তে একই মাপের একটি প্যাকিং মেটাল ব্যবহার করা।

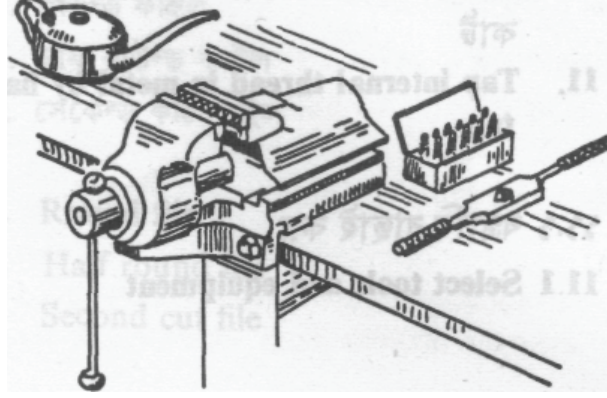
৫.৪ এরোজনীয় পাওয়ার হ্যাক'স ব্রেড নির্বাচন :

- ক) পাওয়ার হ্যাক'স মেশিনের ফ্রেমের ধারণ ক্ষমতার উপর ভিত্তি করে ব্রেডের দৈর্ঘ্য নির্বাচন করা।
- খ) ওয়াকপিসের আকার, আকৃতি ও ধাতুর উপর ভিত্তি করে ব্রেডের পুরুত্ব, ধস, দাঁতের পিচ বা টি.পি.আই এবং ব্রেড তৈরির ধাতু নির্বাচন করা।
- গ) বেশি ধসছেদ বিশিষ্ট নমনীয় ধাতুর জন্যে ৪-৬ টি.পি.আই ব্রেড ব্যবহার করা।
- ঘ) শক্ত ও তড়ুর ধাতুর জন্যে ৮-১০ টি.পি.আই ব্রেড ব্যবহার করা।
- ঙ) পাতলা ধসছেদ বিশিষ্ট ধাতুর জন্যে ১৪ টি.পি.আই ব্রেড ব্যবহার করা।

৫.৫ মেশিন ব্রেড সেটকরণ :

- ক) ফ্রেমে ব্রেড পরানোর জন্যে দাঁতের গতির দিক সম্পর্কে নিশ্চিত হওয়া।

- খ) সাধারণত পাওয়ার হ্যাক'স এর টানা স্ট্রোকই হলো কাটিং স্ট্রোক। কাটিং স্ট্রোকে ব্লড নিম্নচাপ সহকারে অগ্রসর হয়। তাই কাটিং স্ট্রোকের দিকে ব্লডের দাঁতের সম্মুখ দিক রেখে ব্লড স্থাপন কর।



চিত্র-৫.১২ঃ হ্যাক-'স' ব্লড মেশিনে স্থাপন করা

- ঘ) ফ্রেমের গায়ে ব্লড পরাবার জন্যে দিক নির্দেশনা থাকতে পারে। উক্ত নির্দেশনা পরীক্ষা কর।

- ঙ) ব্লড সেটিং এর জন্যে-

- ❖ ক্ল্যাম্পিং জুড়দয় খোল।
- ❖ সঠিক সাইজের রেঞ্চ ব্যবহার কর।
- ❖ ব্লড টেনশনিং নাট ঢিলা কর।
- ❖ দাঁতের সঠিক দিক ঠিক রেখে জু এর সাহায্যে ব্লড সেট কর।
- ❖ চূড়ান্তভাবে ক্ল্যাম্পিং জুড়দয় টাইট দাও।

৫.৬ মেশিনের গতি ও ফিড নির্ধারণ :

মেশিনের গতি ও ফিড নির্বাচনে নিম্নের বিষয়গুলো বিবেচনা কর-

- ❖ ধাতুর প্রকৃতি
- ❖ ধাতুর শক্ততা
- ❖ ধাতুর প্রস্থচ্ছেদ
- ❖ ধাতুর গুণাগুণ ইত্যাদির উপর বিবেচনা করে মেশিনের চার্ট থেকে গতি ও ফিড নির্বাচন কর এবং সেই অনুসারে মেশিনে সেট কর।
- ❖ ফিড পাওয়ার জন্য ব্লডের উপর চাপ প্রয়োগের প্রয়োজন হয়। এটাকে ফিডিং প্রেসার বা কর্তনের চাপ বলা হয়। নির্দিষ্ট ফিড পাওয়ার জন্য পুরাতন ব্লডের ক্ষেত্রে নতুন ব্লডের তুলনায় বেশি প্রেসার লাগে। তাই ফিড বা প্রেসার কন্ট্রোল লিভারের সাহায্যে ফিডিং প্রেসার নিয়ন্ত্রণ কর।

৫.৭ সঠিকভাবে ধাতু কাটা সম্পন্নকরণ :

- পাওয়ার হ্যাক'স চালু কর।
- ওয়ার্কপিসকে স্পর্শ করবার জন্যে ব্লডকে ধীরে ধীরে নিচে নামাও।
- প্রতি মিনিটে স্ট্রোকের সংখ্যা নির্ধারণ কর।

- প্রেসার কন্ট্রোল লিভারের সাহায্যে ব্লেডের উপর চাপ নিয়ন্ত্রণ কর।
- কুল্যান্ট সরবরাহ ব্যবস্থা চালু কর।
- আস্তে আস্তে ধাতু কাটা সম্পন্ন কর।

ধাতু কাটার সময় ও পরে পরীক্ষা :

- ধাতু কাটার সময় মাঝে মাঝে মেশিন থেকে মাপ অনুযায়ী কাটা হচ্ছে কিনা তা দেখে নাও।
- পাওয়ার 'স' চলার সময় উহার গতি, চাপ ইত্যাদি ঠিক আছে কিনা তা দেখে নাও।
- ধাতু কাটা হলে উহার সব মাপ পরীক্ষা কর।

৫.৯ পাওয়ার হ্যাক সয়িং এর ক্ষেত্রে সতর্কতার বিষয়াদি :

- ক) ওয়াকপিস ভাইসে ঠিকভাবে বেঁধে নেওয়া। টিলা হলে জব নড়ে গিয়ে ব্লেড ভাঙ্গার সম্ভাবনা থাকে।
- খ) ব্লেড সঠিক দিকে বাঁধা।
- গ) ব্লেড ভালোভাবে টাইট দেওয়া।
- ঘ) জব অনুসারে গতি ও স্ট্রোক নির্ধারণ করা।
- ঙ) ব্লেড নামানোর সময় সাবধানতার সাথে নামানো।
- চ) মনোযোগের সাথে মেশিন চালনা করা।
- ছ) সঠিক পদ্ধতিতে কাজ করা।
- জ) সঠিক নিয়মে কাটিং ফ্লুইড ব্যবহার করা।

অধ্যায়-৬

ধাতুতে ড্রিল মেশিন দ্বারা ছিদ্রকরণ (Drilling in Metals by Drill Machine)

৬.১ যন্ত্রপাতি নির্বাচন :

- ক) ড্রিলিং মেশিন (বেঞ্চ ড্রিল)
- খ) ওয়াকপিস ক্ল্যাম্পিং ভাইস
- গ) টুইস্ট ড্রিল বিট (ব্যাস ১২ মি.মি. অপেক্ষা কম)
- ঘ) ড্রিল চাক
- ঙ) চাক কী
- চ) সেন্টার পাঞ্চ
- ছ) হ্যামার
- জ) অ্যানভিল
- ঝ) মেশিন ব্রাশ
- ঞ) ভার্নিয়ার ক্যালিপার (১৫০ মি.মি., সূক্ষ্মতা ০.১ মি.মি., আউট সাইড ও ইনসাইড 'জ' এবং ডেপথ রড বিশিষ্ট)
- ট) প্যারালেল বার
- ঠ) স্প্রিং জয়েন্ট ডিভাইডার
- ড) মার্কিং কালার অথবা চক
- ঢ) ট্রাইস্কয়ার (১৫০ মি.মি.)
- ণ) স্টিল রুল (১৫০ মি.মি.)
- ত) ক্রাইবার
- থ) সারফেস প্লেট

৬.২ ওয়াকপিসে লে-আউট ও মার্কিং :

ওয়াকপিস লে-আউট ও মার্কিং নির্ভর করে জব ডিজাইনের উপর। এক্ষেত্রে একটি ধাতুখণ্ডের উপর যে কোন জায়গায় যে কোন ব্যাসের একটি ছিদ্র করানো যায় আবার নির্দিষ্ট ব্যাসের ছিদ্র কোন একটি সুনির্দিষ্ট জায়গায় করানো যায়। যে কোন জায়গায় ছিদ্র করার ক্ষেত্রে কার্যবস্তুর অ্যানভিলের উপর রেখে সেন্টার পাঞ্চকে খাড়াভাবে ধরে মাথায় হাতুড়ির আঘাত দিয়ে গভীর ছিদ্র করতে হবে যেখানে পরবর্তীতে ড্রিল বিটের পয়েন্ট বসিয়ে ছিদ্র করতে হবে। সুনির্দিষ্ট জায়গায় নির্দিষ্ট ব্যাসের ছিদ্র করার ক্ষেত্রে বর্গাকার বা আয়তাকার বিশিষ্ট একটি ঘন বস্তু বিবেচনা করে উহার ঠিক মধ্যখানে ১০ মি.মি. ব্যাসের ছিদ্র করতে হবে।

ঠিকভাবে মার্কিং করতে হলে নিম্নোক্ত পদক্ষেপগুলো নিতে হবে :

- ❖ বর্গাকার বা আয়তাকার তলে মার্কিং কালার অথবা চকের গুড়া পানিতে মিশিয়ে একটি প্রলেপ দেওয়া।
- ❖ স্টিল রুল বা ভার্নিয়ার ক্যালিপারের সাহায্যে এক পার্শ্বের মধ্যলাইন নির্দিষ্ট করে উহাতে ট্রাইস্কয়ার সেট করে ক্রাইবারের সাহায্যে রেখা টানা।
- ❖ একইভাবে পরবর্তী পার্শ্বের মধ্যস্থানে ট্রাইস্কয়ার সেট করে ক্রাইবারের সাহায্যে রেখা টানা।

- ◆ দুইটি রেখার মিলিত বিন্দু হলো উক্ত তলের মধ্যবিন্দু এবং ঐ বিন্দুতে সেন্টার পাঞ্চের সাহায্যে সেন্টার ছোট পর্চ করা।
- ◆ অ্যানভিলের উপর কার্যকরভাবে রেখে পাঞ্চিং করা।
- ◆ ডিভাইসের পয়েন্টকে ৫ মি.মি. দূরত্বে সেট করে মধ্যবিন্দুকে কেন্দ্র করে ১০ মি.মি. ব্যাসের একটি বৃত্ত অঙ্কন করা।
- ◆ মার্কিং এর সময় সারকেস প্লেট ব্যবহার করা।

৬.৩ ওয়াকপিস সঠিকভাবে আটকানো :

ভাইস ক্ল্যাম্প করা :

ড্রিলিং এর জন্য বর্থাবধভাবে ভাইস ক্ল্যাম্পিং না হলে ভাইস নড়াচড়া করবে এবং এতে সঠিক স্থানে ড্রিলিং শুরু হবে না। কলে ব্যাসের চাইতে ড্রিলের ব্যাস বড় হয়ে যাবে। এছাড়া ক্ল্যাম্পিং ছাড়া ভাইস বড় সাইজের ঘুরন্ত ড্রিলের সাথে ঘুরে ও ছুটে যেতে দুর্ঘটনা ঘটতে পারে। কাজেই ড্রিলিং এর জন্য ভাইসকে বর্থাবধ ক্ল্যাম্পিং করা অত্যাবশ্যিক।

ওয়াকপিস ভাইসে ক্ল্যাম্প করার সময় নিম্নলিখিত বিষয়গুলো অনুসরণ করতে হয়-

- ◆ সঠিক মাপের ক্ল্যাম্পিং নাট ও বোল্ট নির্বাচন করতে হয়।
- ◆ টেবিলের স্লট, টপ ও ভাইসের তলা চিপস মুক্ত করতে হয়।
- ◆ ভারপর মজবুত ভাবে ভাইস ক্ল্যাম্পিং সম্পন্ন করতে হয়।

ওয়াকপিস ক্ল্যাম্প করা :

- ক) ক্ল্যাম্পিং এর সময় পরিচ্ছন্নতা বজায় রাখ।
- খ) ওয়াকপিসকে মোটামুটি নিরাপদ ও সঠিক অবস্থানে স্থাপন কর।
- গ) মার্কিং করা ডলকে ভূমির অর্ধাংশ মেশিন টেবিলের সমান্তরাল রাখ।
- ঘ) ওয়াকপিসকে পর্যাপ্ত চাপ প্রয়োগে টাইট করে ভাইসে আটকাও।
- ঙ) ক্ল্যাম্পিং সরঞ্জাম বা টেবিলকে ড্রিলিং এ ক্ষতিগ্রস্ত হওয়া থেকে রক্ষা করার জন্য কার্টের ব্লক বা প্যারালাল বার স্থাপন কর।

৬.৪ ড্রিল বিট সঠিক ভাবে ড্রিল চাকে বাঁধা :

- ◆ ড্রিল চাকের 'জ' ও শ্যাংক এবং মেশিন স্পিন্ডল বোর চিপস মুক্ত কর।
- ◆ ছোট সাইজের হেটইট শ্যাংক ড্রিল বিটকে সরাসরি ড্রিল চাকে সেট কর।
- ◆ ছোট সাইজের টেপার শ্যাংক ড্রিল হলে একাধিক স্লিভ ব্যবহার কর।
- ◆ বড় সাইজের টেপার শ্যাংক ড্রিল হলে সরাসরি মেশিন স্পিন্ডলে সেট কর।
- ◆ ড্রিল বিট অপসারণের জন্য ড্রিল ক্রিফট ব্যবহার কর।
- ◆ মেশিন চালিয়ে ড্রিল বিটের কেন্দ্র ঠিক আছে কিনা পরীক্ষা কর।



চিত্র-৬.১৪ চাক, চাক-কী ও ড্রিল বিট

৬.৫ ড্রিল বিটের ব্যাস অনুযায়ী ঘূর্ণনগতি সেটিং :

কার্যকর খাতু এবং ড্রিল বিটের ব্যাসের উপর ভিত্তি করে ড্রিলিং মেশিনের ঘূর্ণন গতি নির্ধারণ করতে হয়। ঘূর্ণন গতি নির্ধারণের জন্য সর্বপ্রথম ড্রিল বিটের খাতু এবং কার্যকর খাতু এই দুইটি বিষয় বিবেচনা করে কাটিং স্পিড নির্ধারণ (তাত্ত্বিক অংশে প্রদত্ত চার্ট এর মাধ্যমে) করতে হয়। তারপর নিম্নের সূত্রের মাধ্যমে আর.পি.এম (R.P.M) বের করতে হয়।

কাটিং স্পিড বা ঘূর্ণনগতি বের করার সূত্র :

যদি কর,

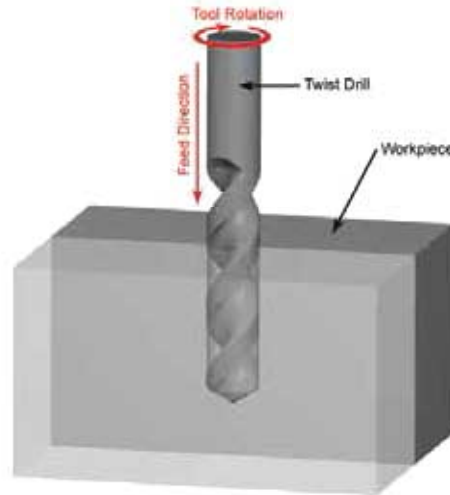
CS = কাটিং স্পিড

D = ড্রিল বিটের ব্যাস, মিলিমিটার

N = ড্রিল বিটের আর.পি.এম

$$CS = \frac{\pi DN}{1000} \text{ মিটার/মিনিট}$$

$$\text{সুতরাং, } N = \frac{CS \times 1000}{\pi D}$$



চিত্র-৬.২ঃ ড্রিলিং প্রক্রিয়ায় বিটের রোটেশন ও ফিডের দিক

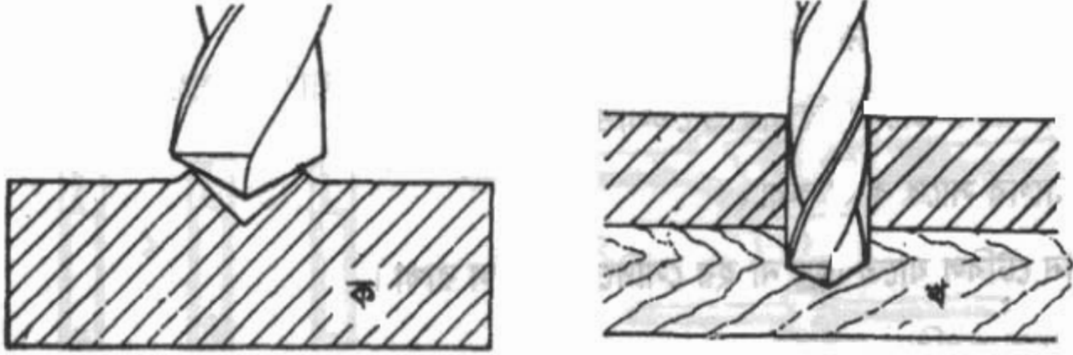
প্রাপ্ত আর.পি.এম সব সময় মেশিনে প্রদত্ত আর.পি.এম এর সাথে মিলে না। এক্ষেত্রে নিকটতম আর.পি.এম ব্যবহার করতে হয়। তারপর নিম্নোক্ত খাপসমূহ অনুসরণ কর-

- ◆ মেশিনে প্রদত্ত আর.পি.এম চার্ট বুঝে নাও।
- ◆ চার্ট এ প্রদত্ত চিত্র দেখে লিভারের অবস্থান নির্ণয় কর।
- ◆ মেশিন বন্ধ অবস্থায় নির্দিষ্ট আর.পি.এম এর জন্য লিভার সেট কর।
- ◆ লিভার সরানো না গেলে স্পিডলকে হাতে ঘুরিয়ে লিভারের অবস্থান সমন্বয় করে সেট কর।

৬.৬ সঠিক পদ্ধতিতে ড্রিলিং :

- ১) ড্রিলিং মেশিনের টেবিল উচ্চতার স্থাপন কর।
- ২) ড্রিল যাতে ওয়ার্কপিসের উপরে অবাধে ঘুরতে পারে তা নিশ্চিত কর।
- ৩) ড্রিল যাতে সঠিক পর্দীরতায় প্রবেশ করতে পারে সে ব্যাপারে নিশ্চিত হও।
- ৪) প্যারালেল ব্লকের কোন স্থানে ড্রিল বিট যাতে স্পর্শ না করে তা নিশ্চিত হও।
- ৫) ড্রিল স্টপকে এমন ভাবে সেট কর যাতে ড্রিলটি টেবিল বা স্লাইসের তলা না কাটে।
- ৬) ওয়ার্কপিস ড্রিল পয়েন্টের নিচে স্থাপন কর।
- ৭) ড্রিল সেন্টার পাঞ্চ মার্ক অস্তিত্বে নাথিয়ে এবং স্পিডলকে হাতে ঘুরিয়ে পরীক্ষা কর।
- ৮) ওয়ার্কপিসটি সামনে পেছনে বা ডানে বামে নাড়িয়ে হিট্রের কেন্দ্র ও ড্রিল পয়েন্ট একই সরল রেখায় আন।

- ৯) ওয়াকপিস পূর্ণ টাইটে ক্ল্যাম্পিং কর।
- ১০) মেশিন চালু কর।
- ১১) ড্রিল পয়েন্টকে আংশিকভাবে নিম্নমুখী ফিড দাও।
- ১২) মেশিন বন্ধ কর।
- ১৩) ছিদ্রের অবস্থান পরীক্ষা কর।
- ১৪) প্রয়োজনে ওয়াকপিস সঠিকভাবে স্থাপন কর।
- ১৫) সেন্টারিং এর পরে ওয়াকপিসকে পূর্ণ টাইট দিতে ছুঁল করো না।
- ১৬) যে সকল ওয়াকপিস হাতে ধরে আটকিয়ে রাখা যায় উহাতে থ্রো-হোল ড্রিলিং করার সময় ড্রিল মেশিনের টেবিল হঠাৎ ড্রিলিং হতে রক্ষার জন্যে একটি ব্লক ব্যবহার কর।
- ১৭) হাতে ফিড দিয়ে ড্রিলিং শুরু কর।
- ১৮) কুল্যান্ট ব্যবহার কর।
- ১৯) গভীর ছিদ্রের ক্ষেত্রে মাঝে মাঝে ড্রিল বিট উঠিয়ে চিপস অপসারণ কর।



চিত্র-৬.৩ঃ ড্রিলিং এর প্রারম্ভিক অবস্থা (ক) ও শেষ অবস্থা (খ)।

৬.৭ ড্রিলিং এর সময় এবং পরে পরীক্ষাকরণ :

- ১) ওয়াকপিসের মার্কিং পরীক্ষা করা।
- ২) ওয়াকপিসের পাঞ্চিং পরীক্ষা করা।
- ৩) মেশিন সেট পরীক্ষা করা।
- ৪) ওয়াকপিসের ও ড্রিলের অবস্থান পরীক্ষা করা।
- ৫) ওয়াকপিস হোল্ডিং পরীক্ষা করা।
- ৬) ড্রিল বিট ঠিকভাবে ধাতুকে কাটছে কিনা পরীক্ষা করা।
- ৭) ফিডের পরিমাণ ঠিক হচ্ছে কিনা পরীক্ষা করা।
- ৮) ড্রিলিং এর পর ছিদ্র ড্রিলিং অনুসারে হয়েছে কিনা পরীক্ষা করা।
- ৯) ভার্নিয়ার ক্যালিপারের সাহায্যে ছিদ্রের ব্যাস পরীক্ষা করা।
- ১০) ছিদ্রের কিনারা থেকে পার্শ্ব দূরত্ব পরীক্ষা করা।

ড্রিলিং এর ক্ষেত্রে সতর্কতা :

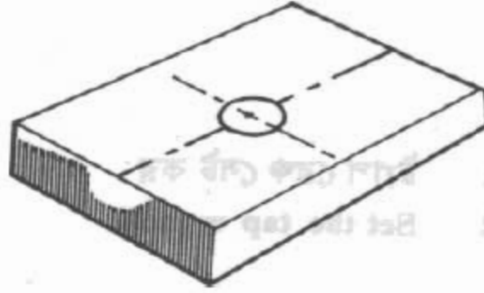
- ১) হ্যান্ড গ্লাভসসহ নিরাপদ পোশাক পরিধান করা ।
- ২) সেফটি গগলস পরিধান করা ।
- ৩) ক্ল্যাম্পিং ও মেশিন সেট হয়েছে কীনা দেখা ।
- ৪) কাজের স্থান পরিষ্কার রাখা ।
- ৫) মেশিন সঠিক ভাবে পরিষ্কার ও তৈলাক্ত করা ।
- ৬) মনযোগের সাথে কাজ করা ।
- ৭) মেশিন টেবিল যাতে ছিদ্র না হয় সেদিকে খেয়াল রাখা ।
- ৮) মেশিনের অসুবিধা দেখলে সঙ্গে সঙ্গে বন্ধ করা ।
- ৯) বুঝতে অসুবিধা হলে ইনস্ট্রাকটরের নিকট বুঝে নেওয়া ।

অধ্যায়-৭

হ্যান্ড ট্যাপ দিয়ে ধাতুর ছিদ্রে প্যাচ কাটা (Tapping in Metal)

৭.১ যন্ত্রপাতি নির্বাচন :

১) প্যাচ কাটার জন্য নির্ধারিত ড্রিল (ট্যাপ সাইজ ড্রিল) করা ওয়াকপিস।



চিত্র-৭.১ঃ ট্যাপ সাইজ ড্রিল করা ওয়াকপিস

২) ওয়াকপিসে ড্রিল করা ছিদ্রের সাথে সংগতিপূর্ণ ট্যাপ সেট (টেপার, ব্লাগ ও বটমিং)।



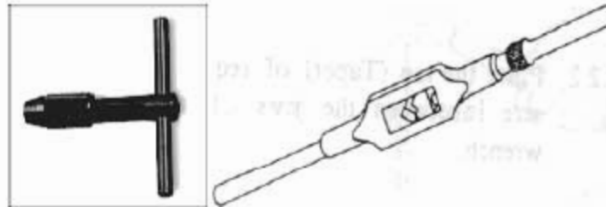
চিত্র-৭.২ঃ ট্যাপ সেট (টেপার, ব্লাগ ও বটমিং)

৩) সঠিক সাইজের ট্যাপ হ্যান্ডেল বা ট্যাপ রেঞ্চ (সাধারণত ট্যাপ হ্যান্ডেলে ট্যাপ সাইজে রেঞ্চ উল্লেখ থাকে)।

৪) ভাইস সহ ওয়াকিং টেবিল।

৫) ট্রাইস্কয়ার

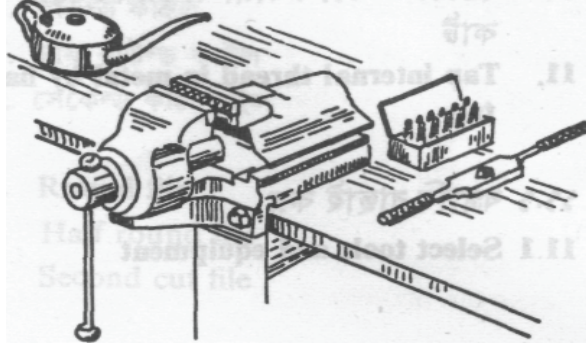
৬) কাটিং অয়েল পূর্ণ অয়েল ক্যান।



চিত্র-৭.৩ঃ ট্যাপ রেঞ্চ

৭.২ ওয়ার্কপিস সঠিকভাবে আটকানো :

- ❖ ভাইসের 'জ' এর মাঝখানে ওয়ার্কপিসকে আনুভূমিক অবস্থায় ধরে ভাইসের হাতল ঘুরিয়ে দুই 'জ' এর মাঝখানে ওয়ার্কপিসকে দৃঢ়ভাবে বাঁধা।
- ❖ ওয়ার্কপিসের উপর তল ভূমির সমান্তরাল এবং ছিদ্রের অক্ষ ভূমির সাথে উলম্বভাবে রাখা। ছিদ্রের অক্ষ হেলানো থাকলে থ্রেড বাঁকা হতে পারে।
- ❖ ওয়ার্কপিস নিচের দিকে নেমে যাবার সম্ভাবনা থাকলে উহার নিচে একটি কাঠের ব্লক স্থাপন করা।



চিত্র-৭.৪৪ ওয়ার্কপিস ভাইসে আটকানো

৭.৩ ট্যাপ রেঞ্চ সঠিকভাবে ট্যাপ আটকানো :

- ❖ ট্যাপ রেঞ্চের হাতল ঘুরিয়ে 'জ' দুইটিকে প্রয়োজন মত ফাঁকা করা।
- ❖ ট্যাপের চতুষ্কোণ অংশটি 'জ' এর ভিত্তির সাথে মিলিয়ে 'জ' এর ফাঁক সমন্বয় করা।
- ❖ ট্যাপ রেঞ্চের হাতল ঘুরিয়ে পর্যাপ্ত চাপে ট্যাপ আটকানো। ট্যাপ আটকানোর সময় খেয়াল রাখতে হবে যেন ট্যাপের এ্যালাইনমেন্ট ঠিক থাকে।

৭.৪ ট্যাপ সেটের প্রত্যেকটি ট্যাপ সঠিক পদ্ধতিতে চালানো :

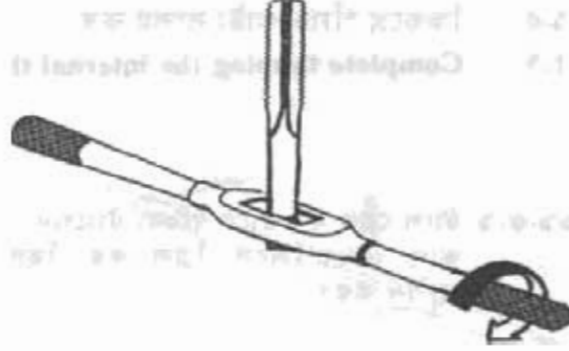
- (১) সর্বপ্রথম টেপার ট্যাপ চালাতে হবে। এ ট্যাপের সম্মুখ অংশ ছিদ্রের মধ্যে প্রবেশ করবে। ট্যাপকে ছিদ্রের অক্ষের সাথে একই সরল রেখায় রেখে নিম্নমুখী চাপ প্রয়োগ সহকারে ট্যাপ হ্যান্ডেলের সাহায্যে ট্যাপকে ঘুরাতে হবে।



চিত্র-৭.৫৪ টেপ রেঞ্চ সেট করা

- (২) ট্যাপটি প্যাঁচ কেটে কার্যবস্তুর সাথে আটকানোর পর ট্রাইস্কয়ার দ্বারা উহার উলম্ব অবস্থান পরীক্ষা কর।
- (৩) সামান্য চাপ প্রয়োগ ধীরে ধীরে ঘড়ির কাটা ঘুরার দিকে ট্যাপ রেঞ্চ সাহায্যে ট্যাপকে ঘুরাও এবং মাঝে মাঝে তৈল দাও।

- (৪) একটি পূর্ণ আবর্তন ঘুরানোর পর চাপমুক্ত অবস্থায় উহাকে আনুমানিক অর্ধেক আবর্তন পরিমাণ উল্টো দিকে ঘুরাতে হবে। এ পদ্ধতিতে ট্যাপটিকে ছিদ্রের সম্পূর্ণ গভীরতার বেশি অংশ (শ্রো হোলের কেন্দ্রে) প্রবেশ করতে হবে। ব্লাইন্ড হোলের কেন্দ্রে শুধু অসম্পূর্ণ গভীরতার প্রবেশ করাতে হবে। একতবে পর্যায়ক্রমে সেটের গ্রাণ এবং বটমিং ট্যাপ চালিয়ে প্যাচ কাটা সম্পন্ন কর।

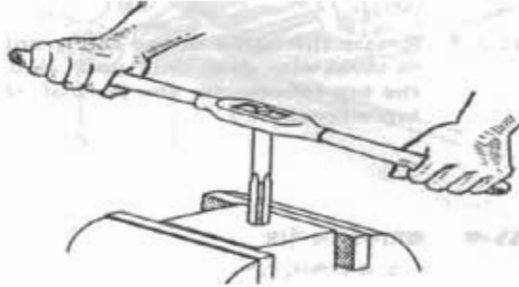


চিত্র-১.৬৪ টেপ রেঞ্চ ট্যাপ লাগানো

- (৫) হস্ত চালিত যন্ত্রাদি দ্বারা ধাতুর ভিতরে প্যাচ কাটার সময় তৈল ব্যবহার করতে হয়। তৈল ব্যবহারের কালে শ্রোডের তল এবং কাটিং টুলের মধ্যে ঘর্ষণ কমিয়ে দেয়। ট্যাপ এর প্যাচ কাটার ক্ষমতা দীর্ঘস্থায়ী করে। প্যাচ মসৃণ করে এবং প্যাচ কাটা সহজ হয়।

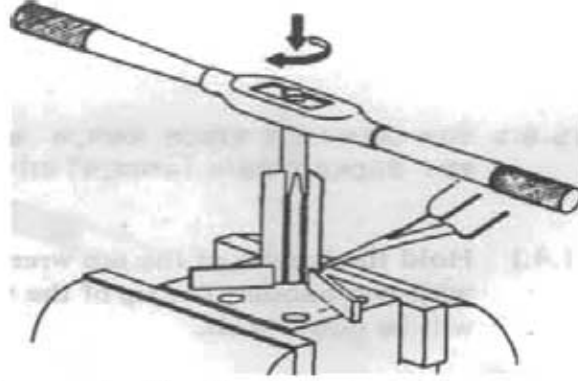
১.৫ সঠিক পদ্ধতিতে প্যাচ কাটা সম্পন্নকরণঃ

- ক) কিঞ্চিৎ চাপ প্রয়োগ করে ধীরে ধীরে হস্তের কাটার ঘূর্ণন দিকে হাতলসহ ট্যাপ রেঞ্চটি ঘুরাতে হবে। আনুমানিক একটি পূর্ণ আবর্তনের পর চাপমুক্ত অবস্থায় উহাকে আনুমানিক অর্ধেক আবর্তন পরিমাণ উল্টোদিকে ঘুরাতে হবে। একই পদ্ধতিতে ট্যাপটি ঘুরিয়ে সম্পূর্ণ ট্যাপ ছিদ্র পথে প্রবেশ করাতে হবে।



চিত্র-১.৭১ টেপ দিয়ে ছিদ্রে প্যাচ কাটা

- খ) প্যাচ কাটার শুরুতে এবং পরবর্তীতে প্যাচ কাটার সম্পন্ন করা পর্যন্ত সব সময় ছিদ্রের অক্ষ এবং ট্যাপের অক্ষকে একই সরল রেখা রাখতে হবে।
- গ) গ্লারকপিসের ধাতুর উপর ভিত্তি করে প্রয়োজনীয় কেন্দ্রে সঠিক তৈল দ্বারা সব সময় কর্মস্থল অর্থাৎ ছিদ্র এবং ট্যাপের মিলিত স্থান তৈলাক্ত রাখতে হবে।
- ঘ) টেপার ট্যাপ চালানো শেষ হলে উহা খুলে পর্যায়ক্রমে গ্রাণ ও বটমিং ট্যাপ দুইটি রেঞ্চ সেট করে প্যাচ সম্পন্ন করতে হবে।



চিত্র-৭.৮ঃ টোল দিয়ে হিঙ্গে প্যাচ কাটার সময় ভেল দেখয়া

কাউন্টার ট্যাপ ব্যবহার করে ডালা স্টাড/বোল্ট বের করা :

অনেক সময় দেখা যায় যে, কোন হিঙ্গের স্কেতরের স্টাড বা বোল্ট স্কেলে ভিতরে আটকে যায়। বাহির থেকে ঘুরিয়ে তখন বোল্ট বা স্টাডকে বের করা যায় না। এমতাবস্থায় ডালা স্টাড বা বোল্ট বের করার জন্য কাউন্টার ট্যাপ ব্যবহার করা হয়। প্রথমে ডালা স্টাড বা বোল্টের অক্ষ বরাবর কম ব্যাসের (কাউন্টার ট্যাপ সাইজ) ড্রিল করা হয়। এই ড্রিল করা হিঙ্গের মধ্যে কাউন্টার ট্যাপ দিয়ে পূর্বের হিঙ্গের প্যাচের উল্টোদিকে অর্থাৎ বামহাতি প্যাচ থাকলে ডানহাতি প্যাচ আর ডানহাতি প্যাচ থাকলে বামহাতি প্যাচ কাটা হয়। এমতাবস্থায় দেখা যায় যে উল্টো প্যাচ কাটার কারণে ডালা স্টাড বা বোল্ট এক সময় ঢিলে হয়ে খুলে যায়।

ট্যাপিং এর সময় এবং পরে পরীক্ষা :

প্রথম ট্যাপ ২ পাক ঘুরিয়ে প্যাচ কাটার পর পরীক্ষা কর প্যাচ ঠিক আছে কিনা। ট্যাপ চালানার সময় বেশি শক্তি প্রয়োগের দরকার হলে ট্যাপটি খুলে উহার কারণ নির্ণয় কর। এক্ষেত্রে ট্যাপের জীর্ণতা, ট্যাপ হ্যান্ডেলের সাইজ এবং হিঙ্গের ব্যাস পরীক্ষা কর। আভ্যন্তরীণ প্যাচ কাটার সময় প্যাচ ঠিকমত কাটা হচ্ছে কিনা দেখা উচিত। আভ্যন্তরীণ প্যাচ সঠিকভাবে সম্পন্ন হয়েছে কিনা উহা পরিমাপের জন্য একটি বোল্ট আভ্যন্তরীণ প্যাচের ভিতর চালনা করে পরীক্ষা করা যেতে পারে। এছাড়া শ্রেড গ্লাসলেজ আভ্যন্তরীণ প্যাচের ভিতর সহজভাবে যাওয়া আসা করে কিনা তাও পরীক্ষা করা যেতে পারে। শ্রেড গেল ব্যবহার করেও পরীক্ষা করা যেতে পারে।

ট্যাপিং এর ক্ষেত্রে সতর্কতার বিষয়াদি :

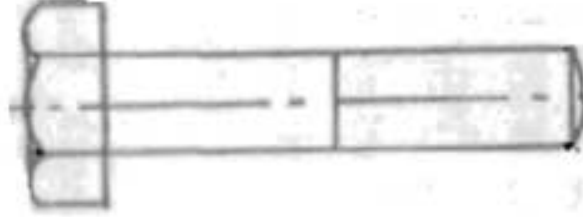
- ১) নির্দিষ্ট হিঙ্গের (ট্যাপ সাইজ ড্রিল) জন্য নির্দিষ্ট মাপের ট্যাপ সেট ব্যবহার করা।
- ২) ট্যাপ সেটের জন্য প্রয়োজনীয় হিঙ্গের (ট্যাপ সাইজ ড্রিল) তুলনার কার্যকর হিঙ্গ ছোট হলে ট্যাপ ভেঙ্গে যাবে আবার হিঙ্গ বড় হলে প্যাচের গভীরতা কম হবে।
- ৩) ট্যাপিং এর শুরুতে ট্যাপকে ঠাড়াভাবে অর্থাৎ হিঙ্গের অক্ষ ও ট্যাপের অক্ষ একই সরল রেখায় রাখতে হবে। অন্যথায় প্যাচ বাঁকা হবে এবং ট্যাপ ভাঙ্গার সম্ভাবনা থাকবে।
- ৪) বেশি চাপ সহকারে ট্যাপ চালালে বা কাটিং অয়েল ছাড়া ট্যাপ চালালে ট্যাপ ভাঙ্গার সম্ভাবনা থাকে।
- ৫) ওয়ার্কপিসের ধাতুর উপর ভিত্তি করে কাটিং অয়েল নির্বাচন করা এবং প্রয়োজন ক্ষেত্রে কাটিং অয়েল ব্যবহার না করা।
- ৬) প্রথমে ট্যাপের ট্যাপ এবং পরবর্তীতে পর্যায়ক্রমে গ্লাস ও বটমিং ট্যাপ চালাতে হবে।
- ৭) মনোযোগ সহকারে ট্যাপ চালানো এবং কাজের সঠিক গুণ্ডি অবলম্বন করা।

অধ্যায়-৮

হাত ডাই দ্বারা খাতুর বাহিরে প্যাচ কাটা

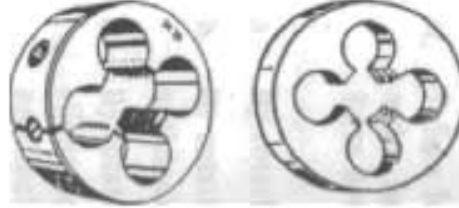
৮.১ যন্ত্রপাতি নির্বাচন :

- (১) নির্ধারিত পরিমাপের (১২ মি.মি. ব্যাস বিশিষ্ট) ওয়াকপিস বা খাতব দড় লগ।



চিত্র-৮.১- ওয়াকপিস

- (২) উপযুক্ত ডাই সংগ্রহ কর। এ ক্ষেত্রে ১২ মি.মি. খাতব দড়ের জন্য ১২ মি.মি. মাপের ডাই সংগ্রহ কর।



চিত্র-৮.২- ডাই

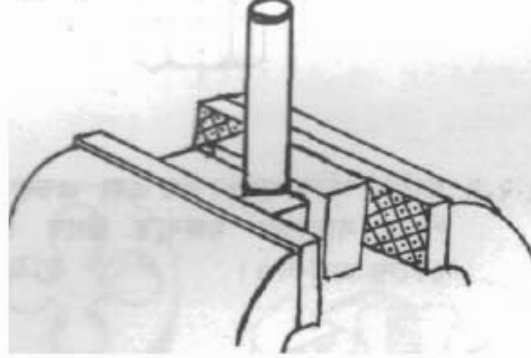
- (৩) নির্বাচিত ডাইকে আটকানোর জন্য উপযুক্ত ডাই-স্টক সংগ্রহ কর।



- (৪) একটি ডাইসমূহ একটি ওয়াকিং টেবিল লগ।
(৫) ছু-পিচ লেজ লগ।
(৬) ক্যাটর অয়েল পূর্ণ অয়েল ক্যান লগ।
(৭) একটি ট্রাই করায় লগ।

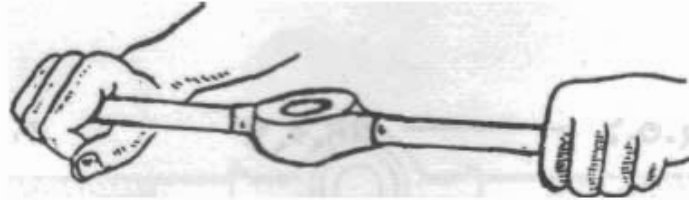
৮.২ ওয়াকপিস সঠিকভাবে আটকানো :

- (১) ভাইসের স্ক্রু তৈলাক্ত করে 'জ' জলি এয়োজন অনুযায়ী টিলা কর।
- (২) ভাইসের 'জ' এর চাপে ওয়াকপিসের পায়ে যাতে দাগ না পড়ে সেজন্য 'জ' জলির ভিতর দিকে দুইটি খাতুর পাত বসায়।



চিত্র-৮.৪- ওয়াকপিস ভাইসে আটকানো

- (৩) ভাইসের মধ্যে ওয়াকপিসকে আনুভূমিক অবস্থায় ধর এবং হাতল ঘুরিয়ে 'জ' পূর্ণভাবে টাইট দাও।
- (৪) কাজের সময় যাতে ওয়াকপিস নিচের দিকে নেমে না যায় সেজন্য ওয়াকপিসের নিচে একটি কার্টের ব্লক স্থাপন কর।
- (৫) গোলাকার ওয়াকপিস বাহাতে ভাইসে স্থির থাকে সেজন্য ভাইসের 'জ' এর অভ্যন্তরে নরম খাতুর দুইটি 'V' ব্লক ধরনের যোগান স্থাপন কর। উল্লেখ্য যে, কোন কোন ভাইসে গোলাকার ওয়াকপিস উলমভাবে আটকানোর জন্য বিশেষ ব্যবস্থা থাকে।



চিত্র-৮.৫- ভাই-স্টক ধরার নিয়ম

- (৬) ওয়াকপিসটিকে যোগানের সাহায্যে ট্রাই-স্কয়ার ধরে ভাইসে সম্পূর্ণ উলম অবস্থানে আটকাও।

ভাই-স্টকে সঠিকভাবে ভাই সেট করা :

- (১) ভাই-স্টকের অ্যাডজাস্টিং স্ক্রু টিলা কর যাতে ভাই স্থাপন করা যায়।
- (২) ভাই এর উপরে ছোট ছোট গর্তগুলিকে ভাই-স্টকের স্ক্রু এর সাথে মিল করে ভাইকে উহার স্টকের মধ্যে স্থাপন কর।

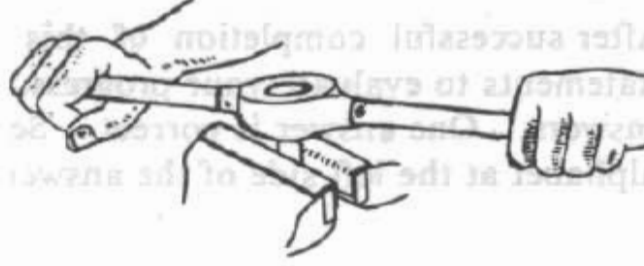


চিত্র-৮.৬- ভাই-স্টকে ভাই সেট করা

(৩) অ্যাডজাস্টিং স্ক্রু এর সাহায্যে পর্যাপ্ত পরিমাণ টাইট দিয়ে ডাইকে আটকাও।

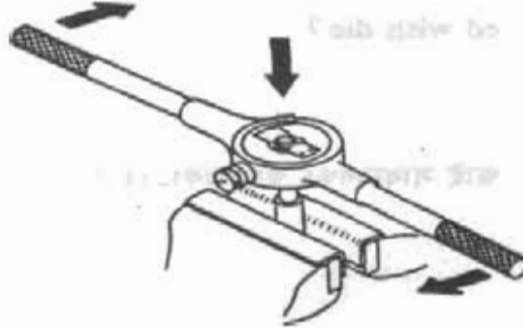
৮.৪ সঠিক পদ্ধতিতে প্যাচ কাটা সম্পন্ন করণ :

(১) সাবধানতার সাথে ডাই-স্টকটিকে গ্লারকশিসের উপর স্থাপন কর। ডাই-স্টকের হাতল সম্পূর্ণ অনুভূমিক অবস্থায় থাকবে। কাটিং অয়েল ব্যবহার কর।



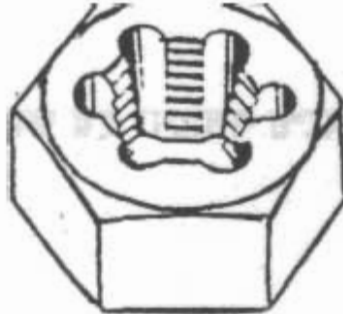
চিত্র-৮.৭- ডাই চালিয়ে প্যাচ কাটা শুরু করা

(২) প্রাথমিক ভাবে কিছুটা চাপ প্রয়োগ করে হাতলটি যড়ির কাঁটার দিকে ধীরে ধীরে ঘুরাও।
 (৩) একটি সম্পূর্ণ আবর্তনের পর ডাই-স্টকের হাতলকে যড়ির কাঁটার উল্টোদিকে অর্ধেক আবর্তনের পরিমাণ ঘুরাও। প্যাচ কাটা আরম্ভ হয়ে গেলে নিম্নমুখী চাপ দেওয়ার প্রয়োজন নাই।



চিত্র-৮.৮- ডাই চালিয়ে প্যাচ কাটা সম্পন্ন করণ

(৪) ডাই দ্বারা প্যাচ কাটা শেষ হয়ে গেলে ডাই-নাটের সাহায্যে প্যাচ মসৃণ কর।



চিত্র-৮.৯- ডাই-নাট দিয়ে প্যাচ মসৃণ করণ

৮.৫ প্যাচ কাটার সময় এবং পরে পরীক্ষা করণ :

- ১) ডাই দ্বারা প্যাচ কাটার সময় কিছুক্ষণ পর পর ঠিকমত প্যাচ কাটা হচ্ছে কিনা দেখে নাও।
- ২) মাঝে মাঝে অয়েল ক্যান দিয়ে ডাই-এর ভিতর তেল দাও।
- ৩) প্যাচ কাটার পর প্যাচ কাটা অংশের বাহ্যিক রেখা সোজা আছে কিনা তা ট্রাই-করার স্টিল রুল দ্বারা মিলিয়ে পরীক্ষা কর।
- ৪) প্যাচের মসৃণতা পরীক্ষা করার জন্য ডাই-নাট ব্যবহার কর।
- ৫) শ্রেড বা প্যাচ কাটা সম্পন্ন হলে ফ্লু-পিচ গেজের সাহায্যে শ্রেডের পিচ সঠিক আছে কিনা দেখে নাও।



চিত্র-৮.১০- প্যাচ কাটার সময় এবং পরে পরীক্ষা করণ

৮.৬ ডাই দ্বারা প্যাচ কাটার ক্ষেত্রে সতর্কতার বিষয়াদি :

- (১) নির্দিষ্ট মাপের বোল্ট বা স্ট্যান্ডের জন্য ঐ মাপের ডাই নির্বাচন করতে হবে।
- (২) ডাই-স্টকে ডাই সেট করে ফ্লু ভালোভাবে টাইট দিতে হবে।
- (৩) ওয়ার্কপিসের উপর ডাই-স্টকে সাবধানে স্থাপন করতে হবে যাতে হাতল ভূমির সমান্তরাল থাকে এবং ওয়ার্কপিসের অক্ষের সাথে সমকোণে থাকে।
- (৪) ওয়ার্কপিসকে ভূমির সাথে উলমভাবে স্থাপন করতে হবে।
- (৫) প্যাচ কাটার সময় বেশি চাপ সহকারে ডাই-স্টক ঘুরানো ঠিক নয়, কারণ এতে চিপস জমা হয়ে ডাই ও ওয়ার্কপিসের শ্রেডের ক্ষতি হতে পারে।
- (৬) মাঝে মাঝে ডাই উল্টোদিকে ঘুরিয়ে চিপস অপসারণ করতে হবে।
- (৭) প্রয়োজনীয় ক্ষেত্রে ডাই চালানোর সময় কাটিং অয়েল ব্যবহার করতে হবে।
- (৮) কাজের সময় ও পরে ফ্লু-পিচ গেজের সাহায্যে শ্রেডের সঠিকতা পরীক্ষা করতে হবে।
- (৯) মনোযোগ ও সাবধানতার সাথে কাজ করতে হবে।

মেশিন টুলস অপারেশন-১

দ্বিতীয় পত্র (দশম শ্রেণি)

অধ্যায় - ১

মেশিনশপে সতর্কতামূলক ব্যবস্থা (Safety Management in Machine Shop)

১.১ মেশিনশপে সতর্কতা বিধি পালনের প্রয়োজনীয়তা :

মেশিনশপের যন্ত্রপাতিসমূহ অকেজো হওয়ার পূর্বেই কার্যোপযোগী রাখতে যে সমস্ত ব্যবস্থা গ্রহণ করা হয়, তাকে রক্ষণাবেক্ষণ বুঝায়। সঠিকভাবে রক্ষণাবেক্ষণ না করলে যন্ত্রপাতিসমূহ বার বার নষ্ট হয়ে এক সময় অকেজো হয়ে যেতে পারে। রক্ষণাবেক্ষণ সঠিকভাবে করলে যন্ত্রপাতি সমূহের আয়ু বৃদ্ধি পায়। যখনই যন্ত্রপাতির সামান্য ত্রুটি দেখা যায়, তা দ্রুত মেরামত না করলে বিরাট ক্ষতি হতে পারে। তাতে উৎপাদন বন্ধ হয়ে ব্যাপক আর্থিক ক্ষতি সাধিত হয়। রক্ষণাবেক্ষণে ত্রুটি দেখা দিলে উৎপাদন ব্যাহত হয় এবং সময়মতো চাহিদা অনুযায়ী উৎপাদিত পণ্য সরবরাহে বিঘ্ন ঘটে। ফলে প্রতিষ্ঠানের বাজার ও সুনাম দুইই নষ্ট হয়।

১.২ মেশিনশপের জন্য প্রয়োজনীয় সতর্কতা বিধিসমূহ :

- ❖ কাজের ধরন অনুসারে সঠিক যন্ত্রের ব্যবহার।
- ❖ কাজ করার সময় যন্ত্রসমূহ যথাস্থানে রেখে কাজ করা।
- ❖ কাজ শেষে যন্ত্রগুলো নির্দিষ্ট একটি বাক্সে যথাস্থানে রাখা।
- ❖ ফাইল (File), স্ক্রাপার (Scrapper) ও স্ক্রু-ড্রাইভার (Screw-driver) ইত্যাদি যন্ত্রে উপযুক্ত হাতল লাগিয়ে কাজ করা।
- ❖ হাতুড়ির হাতল ও কীলক ঠিকমত আছে কিনা দেখে নেওয়া।
- ❖ “শান” (Grinding) করার সময় সঠিক চশমা ব্যবহার করা।
- ❖ মাপ নেবার যন্ত্রপাতিসমূহকে সঠিক স্থানে রেখে কাজ করা।

১.৩ বিপদমুক্ত কার্যাভ্যাস আয়ত্ত্ব করার কৌশল/দুর্ঘটনা প্রতিরোধের উপায় :

- (১) মেশিন সম্বন্ধে ভালো জ্ঞান অর্জন করে তারপর চালানো উচিত।
- (২) মেশিন চালানোর পূর্বে উহা কীভাবে এবং কত সহজে বন্ধ করা যায় তা জানা প্রয়োজন।
- (৩) গার্ড খোলা অবস্থায় মেশিন চালানো উচিত নয়।
- (৪) শিক্ষকের অনুমতি ছাড়া মেশিন চালানো উচিত নয়।
- (৫) একাধিক ছাত্র একটি মেশিন চালানো উচিত নয়।
- (৬) চালু মেশিনে ঠেস দিয়ে দাঁড়াতে নেই।
- (৭) ওয়ার্কশপে অযথা দৌড়াদৌড়ি করা উচিত নয়।
- (৮) মেশিন চালানোর সময় অমনোযোগী হওয়া ও কথাবার্তা বলা উচিত নয়।
- (৯) চালু অবস্থায় কোন মেশিনে তৈল, গ্রিজ ইত্যাদি দেওয়া; মেরামত করা; পরিষ্কার করা উচিত নয়।

- (১০) বিদ্যুৎ সরবরাহ বন্ধ হলে সঙ্গে সঙ্গে মেশিনের সুইচ বন্ধ করতে হবে।
- (১১) মেশিনে অস্বাভাবিক শব্দ হলে তৎক্ষণাৎ উহা বন্ধ করে দিতে হবে।
- (১২) কোন কারণে মেশিন খারাপ হলে “Under Repair” কথাটি একটি বোর্ডে লিখে ঐ মেশিনের গায়ে ঝুলিয়ে রাখতে হবে।

১.৪ মেশিনশপে নিরাপদ পোশাক ও সরঞ্জামাদি ব্যবহারের প্রয়োজনীয়তা :

মেশিনশপে কাজ করার সময় যে কোন দুর্ঘটনা এড়ানোর জন্য অবশ্যই নিরাপদ পোশাক ও নিরাপদ সরঞ্জামাদি যেমন- এপ্রোন, গগলস, দস্তানা, চামড়ার জুতা পরিধান করা দরকার। নিম্নে মেশিনশপে নিরাপদ পোশাক ও সরঞ্জামাদি ব্যবহারের প্রয়োজনীয়তা উল্লেখ করা হলো-

- (১) মেশিনশপে কাজ করার সময় সর্বদা আটসাঁট পোশাক পরিধান করা উচিত।
- (২) মেশিনশপে কাজ করার সময় আংটি, ঘড়ি ও অন্যান্য অলঙ্কার পরিধান করা উচিত নয়।
- (৩) মেশিনশপে খালি পায়ে চলাফেরা একেবারেই নিষিদ্ধ।
- (৪) শক্ত তলা যুক্ত চামড়ার জুতা পরিধান করা উচিত।
- (৫) মেশিনশপে কাজ করার সময় নেকটাই, মাফলার ও চাদর পরিধান করা উচিত নয়।
- (৬) কাঁচামাল, স্ক্রাপ ও চিপস-এ হাত লাগাতে চামড়ার দস্তানা পরিধান করতে হবে।
- (৭) মেশিনশপে কাজ করার সময় সেফটি গগলস পরিধান করতে হবে।

১.৫ মেশিনশপে যন্ত্রপাতি সুবিন্যস্ত করার প্রক্রিয়া :

- (১) মেশিনের জন্য দরকারী যন্ত্রপাতি ও টুলসসমূহ যথাসম্ভব কাছাকাছি একটি বাক্সে অথবা তাকে সাজিয়ে রাখতে হবে।
- (২) ধাতু কাটার যন্ত্র যেমন- পাওয়ার “স” (Power Saw) সব সময় দরজার কাছাকাছি রাখতে হবে।
- (৩) পরিমাপ করার যন্ত্রপাতিগুলো আলাদা বাক্সে রাখতে হবে।
- (৪) ট্রেনিং-এ ব্যবহৃত মেশিনশপে একই জাতীয় মেশিনগুলো একই সারিতে রাখতে হবে।
- (৫) জব প্রডাকশনের কাজে জবের উপর অপারেশন-এর ধারাবাহিকতা যাতে বজায় থাকে সেই ভাবে মেশিন সাজানো ভালো।

প্রশ্নমালা-১

অতি সংক্ষিপ্ত প্রশ্ন :

১. দুর্ঘটনা কী?
২. কর্মীদের মধ্যে নিরাপদ কার্যাভ্যাস গড়ে তোলার দায়িত্ব কার?
৩. মেশিনশপে কাজের সময় দুর্ঘটনা থেকে চোখকে রক্ষা করার জন্য কী পড়া উচিত?
৪. মেশিনশপে কাজের সময় কী ধরনের জুতা পরিধান করা উচিত?
৫. মেশিনশপে কাজের সময় কী ধরনের পোশাক পড়া উচিত?

সংক্ষিপ্ত প্রশ্ন :

১. মেশিনশপে সতর্কতা বিধি পালনের প্রয়োজনীয়তা উল্লেখ কর।
২. মেশিনশপের জন্য ৩ (তিন) টি বিপজ্জনক অবস্থা উল্লেখ কর।
৩. মেশিনশপে নিরাপদে কাজ করার জন্য প্রয়োজনীয় ৩ (তিন)টি সতর্কতা বিধি উল্লেখ কর।
৪. মেশিনে কাজ করার সময় টুলসগুলোকে কীভাবে সাজাতে হবে?
৫. মেশিনে কাজ করার সময় নিরাপদ পোশাক পরিধানের প্রয়োজনীয়তা উল্লেখ কর।

রচনামূলক প্রশ্ন :

১. মেশিনশপে সতর্কতা বিধি পালনের প্রয়োজনীয়তা বর্ণনা কর।
২. মেশিনশপের জন্য প্রয়োজনীয় সতর্কতা বিধিসমূহ বর্ণনা কর।
৩. বিপদমুক্ত কার্যাভ্যাস আয়ত্ব করার কৌশল বর্ণনা কর।
৪. মেশিনশপে নিরাপদ পোশাক ও সরঞ্জামাদির ব্যবহার বর্ণনা কর।
৫. যন্ত্রপাতি সুবিন্যস্ত করার প্রক্রিয়া বর্ণনা কর।

অধ্যায়-২

ওয়ার্কশপের রক্ষণাবেক্ষণ (Workshop Maintenance)

২.১ ওয়ার্কশপের রক্ষণাবেক্ষণ :

ওয়ার্কশপে কোন মেশিন বা যন্ত্রপাতি নুতন ভাবে বসানোর পর ব্যবহারের কারণে উহার বিভিন্ন যন্ত্রাংশ ক্ষয়প্রাপ্ত হয় বা অকেজো হয়ে পড়ে। তাছাড়া ময়লা, ধুলাবালি ইত্যাদি পড়ে মেশিনপত্র নষ্ট বা ব্যবহারের অযোগ্য হয়ে যেতে পারে। তাই পর্যায়ক্রমে ওয়ার্কশপের যন্ত্রপাতিসমূহকে ক্ষয়প্রাপ্ত হওয়া বা অকেজো হওয়া থেকে রক্ষা করার জন্য নিয়মিত বা পর্যায়ক্রমে যে ব্যবস্থা গ্রহণ করা হয় তাহাকে ওয়ার্কশপের রক্ষণাবেক্ষণ বলা হয়।

২.২ ওয়ার্কশপ রক্ষণাবেক্ষণের প্রকারভেদ সাধারণত

কোন ওয়ার্কশপ নিম্নের ৪ উপায়ে রক্ষণাবেক্ষণ করা হয়ে থাকে, যথা-

- (১) পরিকল্পিত রক্ষণাবেক্ষণ (Planned Maintenance).
- (২) তালিকা মাসিক রক্ষণাবেক্ষণ (Scheduled Maintenance).
- (৩) ব্রেক-ডাউন রক্ষণাবেক্ষণ (Brake-down Maintenance).
- (৪) মূলধন প্রতিস্থাপন রক্ষণাবেক্ষণ (Capital Replacement Maintenance).

২.৩ ওয়ার্কশপ রক্ষণাবেক্ষণ পদ্ধতিসমূহের বর্ণনা :

(১) পরিকল্পিত রক্ষণাবেক্ষণ :

অপ্রত্যাশিতভাবে কোন ওয়ার্কশপের যন্ত্রপাতি হঠাৎ বন্ধ হয়ে যাওয়া থেকে রক্ষা করার জন্য পরিকল্পিত রক্ষণাবেক্ষণ খুবই কার্যকরী ভূমিকা পালন করে থাকে। পরিকল্পিত রক্ষণাবেক্ষণ দুই প্রকার। যেমন- (ক) প্রতিরোধী রক্ষণাবেক্ষণ, (খ) দীর্ঘ মেয়াদী রক্ষণাবেক্ষণ।

প্রতিরোধী রক্ষণাবেক্ষণঃ ক্ষয়প্রাপ্ত বা ভাঙা যন্ত্রাংশসমূহ মেরামত, তেল বদলানো, গিয়ার ওয়েল, গ্রিজ দেওয়া ইত্যাদি কার্যক্রম প্রতিরোধী রক্ষণাবেক্ষণ।

দীর্ঘ মেয়াদী রক্ষণাবেক্ষণঃ মেশিন নির্মাণ প্রতিষ্ঠান বা সরবরাহকারী প্রতিষ্ঠান কর্তৃক মেশিনের সাথে সরবরাহকৃত ম্যানুয়াল বা নির্দেশিকা অনুযায়ী দীর্ঘদিন পর ঐ মেশিনের কোন অংশের মেরামত জনিত কাজই দীর্ঘ মেয়াদী রক্ষণাবেক্ষণ।

(২) তালিকা মাসিক রক্ষণাবেক্ষণঃ

কোন শিল্প প্রতিষ্ঠানে একটা পূর্ব নির্ধারিত সময়ে মেশিন পরিদর্শন, লুব্রিকেশন, সার্ভিসিং, ওভারহলিং, ইত্যাদি কার্যক্রম পরিচালনাকে তালিকা মাসিক রক্ষণাবেক্ষণ বলা হয়।

(৩) ব্রেক-ডাউন রক্ষণাবেক্ষণ :

কোন যন্ত্রপাতি বা মেশিন হঠাৎ নষ্ট হলে উৎপাদন কার্যক্রম সম্পূর্ণ বন্ধ রেখে মেশিন বা যন্ত্রপাতি সম্পূর্ণ মেরামত করে কার্যোপযোগী করাই ব্রেক-ডাউন রক্ষণাবেক্ষণ।

(৪) মূলধন প্রতিস্থাপন রক্ষণাবেক্ষণ :

বিনষ্টকৃত যন্ত্রপাতি বা মেশিন মেরামত বা খুচরা যন্ত্রাংশ পরিবর্তন করে সন্তোষজনক ভাবে চালানো যায়; কিন্তু ব্যয় খুব বেশি হয়। এ ক্ষেত্রে দেখা যায় যে, মেরামত খরচ প্রায় নুতন মেশিন বা যন্ত্রপাতি ক্রয় করে বসানোর

খরচের কাছাকাছি হয়। এমতাবস্থায় বিনষ্টকৃত যন্ত্রপাতি বা মেশিন মেরামত না করে পুনরায় মূলধন খাটিয়ে নতুন মেশিন প্রতিস্থাপন করা হয় তাকে মূলধন প্রতিস্থাপন রক্ষণাবেক্ষণ বলা হয়।

২.৪ রক্ষণাবেক্ষণের প্রয়োজনীয়তা :

ওয়ার্কশপের যন্ত্রপাতিসমূহ একেজো হওয়ার পূর্বেই কার্যোপযোগী রাখতে যে সমস্ত ব্যবস্থা গ্রহণ করা হয় তাহাই ঐ ওয়ার্কশপের রক্ষণাবেক্ষণ। নিম্নে রক্ষণাবেক্ষণের প্রয়োজনীয়তা আলোচনা করা হলো-

- ১) সঠিক ভাবে রক্ষণাবেক্ষণ না করলে যন্ত্রপাতিসমূহ বার বার নষ্ট হয়ে এক সময় একেজো হয়ে যেতে পারে। রক্ষণাবেক্ষণ সঠিক ভাবে করলে যন্ত্রপাতি সমূহের আয়ু বৃদ্ধি পায়।
- ২) যখনই যন্ত্রপাতির সামান্য ত্রুটি দেখা যায়, তা যদি দ্রুত মেরামত না করা হয় তবে বিরাট ক্ষতি হতে পারে। এমনকি উৎপাদন বন্ধ হয়ে গিয়ে ব্যাপক আর্থিক ক্ষতির সম্ভাবনা থাকে।
- ৩) সঠিক সময়ে রক্ষণাবেক্ষণ না করলে উৎপাদন ব্যাহত হয়, এবং চাহিদা মোতাবেক উৎপাদিত পণ্য সরবরাহ করা সম্ভব হয় না। ফলে পণ্য বিক্রয়ের বাজার ও সুনাম দুইই নষ্ট হয়।
- ৪) রক্ষণাবেক্ষণ সঠিক সময়ে ও সঠিক নিয়মে করলে যন্ত্রপাতির আয়ু (Longibility) বেড়ে যায় বা টেকসই হয়। তাই কোন ইন্ডাস্ট্রি বা প্ল্যান্টের অপচয় কম হয় বলে উৎপাদন খরচ কম হয়।
- ৫) সঠিকভাবে যন্ত্রপাতির রক্ষণাবেক্ষণ করলে যন্ত্রপাতির দক্ষতা (Efficiency) বৃদ্ধি পায়।

প্রশ্নমালা-২

অতিসংক্ষিপ্ত প্রশ্নঃ

১. রক্ষণাবেক্ষণ কত প্রকার ?
২. ব্রেকডাউন রক্ষণাবেক্ষণ কী ?
৩. পরিকল্পিত রক্ষণাবেক্ষণ কী ?
৪. সিডিউল রক্ষণাবেক্ষণ কী ?
৫. মূলধন রক্ষণাবেক্ষণ কী ?

সংক্ষিপ্ত প্রশ্নঃ

১. ওয়ার্কশপ রক্ষণাবেক্ষণ বলতে কী বোঝায়?
২. ওয়ার্কশপ রক্ষণাবেক্ষণের প্রকারভেদ উল্লেখ কর।
৩. ওয়ার্কশপ রক্ষণাবেক্ষণ পদ্ধতি সমূহের মৌলিক ধারণা বলতে কী বোঝায় ?
৪. ওয়ার্কশপ রক্ষণাবেক্ষণের প্রয়োজনীয়তা উল্লেখ কর।

রচনামূলক প্রশ্ন :

১. ওয়ার্কশপ রক্ষণাবেক্ষণ বলতে কী বুঝায় বর্ণনা কর।
২. ওয়ার্কশপ রক্ষণাবেক্ষণ কত প্রকার ও কী কী ? প্রত্যেক প্রকারের বর্ণনা দাও।
৩. ওয়ার্কশপ রক্ষণাবেক্ষণ পদ্ধতি সমূহের মৌলিক ধারণা বর্ণনা কর।
৪. ওয়ার্কশপ রক্ষণাবেক্ষণের প্রয়োজনীয়তা বর্ণনা কর।

অধ্যায়-৩

ভার্নিয়ার হাইট গেজ (Vernier Height Gauge)

৩.০ হাইট গেজ :

কোন বস্তুর বা যন্ত্রাংশের বা জবের উচ্চতা বা কোন দুইটি উলম্ব অবস্থানের দূরত্ব মাপার জন্য হাইট গেজ ব্যবহার করা হয়। আগেকার দিনে হাইট গেজ দিয়ে চিকিৎসকেরা রোগীর উচ্চতা পরিমাপ করতেন। বর্তমানে মেশিনশপে, মেটাল ওয়ার্কশপে, মেট্রোলজিতে হাইট গেজ বেশি ব্যবহৃত হয়। হাইট গেজ দুইরকমের হয়ে থাকে। যথা- (১) ভার্নিয়ার হাইট গেজ ও (২) ইলেকট্রনিক হাইট গেজ।



চিত্র-১ (ক): ভার্নিয়ার হাইট গেজ

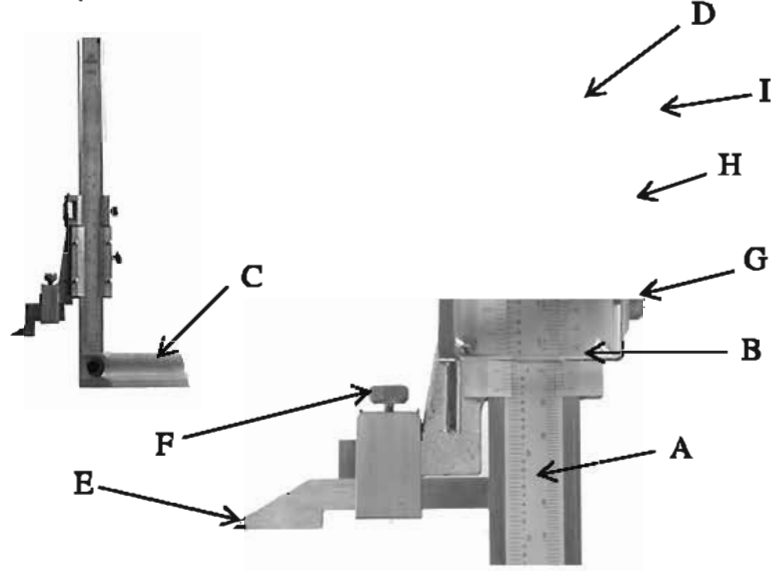
চিত্র-১ (খ): ইলেকট্রনিক হাইট গেজ

৩.১ ভার্নিয়ার হাইট গেজ :

এটি একটি প্রত্যক্ষ, সূক্ষ্ম, সরল উচ্চতা এবং উলম্ব দূরত্ব মাপক যন্ত্র। মেশিনশপে ও মেটাল ওয়ার্কশপে জবের উপর লে-আউট ও মার্কিং করার জন্য বিশেষভাবে এটি ব্যবহৃত হয়। ভার্নিয়ার হাইট গেজের গঠন ও কার্যপ্রণালি ভার্নিয়ার ক্যালিপার্সের মতই। তবে এটি উচ্চতা পরিমাপ করা বা উচ্চতা পরীক্ষা করা ছাড়াও সারফেস গেজের অনুরূপ মার্কিং করতে ব্যবহার করা হয়। এর প্রধান স্কেলের দন্ডটি খাড়াভাবে বেসের উপর শক্ত করে আটকানো থাকে। এ যন্ত্রে দুইটি 'জ' এর পরিবর্তে একটি 'জ' থাকে। এবং 'জ' এর সাথে একটি ধারালো স্কাইবার স্ক্র-এর সাহায্যে আবদ্ধ করা থাকে। স্কাইবারের স্থলে রড সংযুক্ত করে এর সাহায্যে ডেপথ গেজের ন্যায় গভীরতাও মেপে নেওয়া যায়। এ ছাড়া স্কাইবারের পরিবর্তে ডায়াল ইন্ডিকেটর সংযুক্ত করে আরও সূক্ষ্ম এবং সঠিকভাবে পরিমাপ করা সম্ভব হয়। Base-এর তলদেশ এবং স্কাইবারের মুখের নিচের অংশের লম্ব দূরত্বকে স্কেলের মাধ্যমে পরিমাপ হিসেবে গ্রহণ করা হয়। Base-এর তলদেশ এবং স্কাইবারের নিচের অংশ যখন একই সমতলে আসে তখন বিম স্কেলের শূন্য দাগ একই সরলরেখায় এসে মিলিত হয়। ভার্নিয়ার হাইট গেজ দ্বারা মাপের পাঠ নেওয়ার নিয়ম ভার্নিয়ার ক্যালিপার্সের অনুরূপ কিন্তু ব্রিটিশ পদ্ধতিতে ভার্নিয়ার কনস্ট্যান্ট ০.০০১ ইঞ্চি এবং মেট্রিক পদ্ধতিতে ভার্নিয়ার কনস্ট্যান্ট ০.০২ মি.মি. অর্থাৎ এই গেজের সাহায্যে ০.০০১ ইঞ্চি এবং ০.০২ মি.মি. পর্যন্ত মাপ সঠিকভাবে নেওয়া যায়।

৩.২ ভার্নিয়ার হাইট গেজের বিভিন্ন অংশ :

- A- বিম স্কেল
B- ভার্নিয়ার স্কেল
C- বেস
D- স্লাইডিং হেড
E- ক্রাইবার বা পয়েন্টার
F- সেট স্ক্রু
G- লকিং স্ক্রু
H- লকিং নাট
I- কাইন এডজাস্টমেন্ট স্ক্রু



চিত্র-২ঃ ভার্নিয়ার হাইট গেজের বিভিন্ন অংশ

৩.৩ ভার্নিয়ার হাইট গেজের প্রয়োগ ক্ষেত্র :

ভার্নিয়ার হাইট গেজের প্রয়োগক্ষেত্র নিম্নে উল্লেখ করা হলো-

- (১) এটি সাধারণত কোন যন্ত্র বা এর অংশবিশেষের উচ্চতা মাপার কাজে ব্যবহৃত হয়।
- (২) এটির সাহায্যে কোন বস্তুর বিভিন্ন তলের মধ্যে উচ্চতার তফাৎ মাপা যায়।
- (৩) ক্রাইবারের স্থলে রড বা দণ্ড ব্যবহার করে এর সাহায্যে জবের ছিদ্রের বা খাঁজের গভীরতা মাপা যায় অর্থাৎ এটিকে ডেপথ গেজ হিসাবে ব্যবহার করা যায়।
- (৪) ক্রাইবারের স্থলে ডায়াল ইন্ডিকেটর ব্যবহার করে এটির সাহায্যে সূক্ষ্ম পরীক্ষণের কাজ করা যায়।
- (৫) মেশিনশপ, জেনারেল মেকানিক্যাল শপ, উৎপাদনমুখী শিল্পকারখানা, মেইনটেনেন্স শপ, মেকানিক্যাল কর্মকাণ্ড সংশ্লিষ্ট ওয়ার্কশপ প্রভৃতি জায়গায় সূক্ষ্ম ও আধুনিক মার্কিং টুল হিসেবে ভার্নিয়ার হাইট গেজ ব্যাপকভাবে ব্যবহৃত হয়।
- (৬) পর্ষবেক্ষণ শাখায় সূক্ষ্ম পর্ষবেক্ষণ কাজে এটি ব্যবহৃত হয় এবং বেশি সূক্ষ্মতা পাওয়ার ক্ষেত্রে ক্রাইবারের স্থলে ডায়াল ইন্ডিকেটর সংযুক্ত করা হয়।

৩.৪ ভার্নিয়ার হাইট গেজের যত্ন ও রক্ষণাবেক্ষণ :

- (১) ভার্নিয়ার হাইট গেজকে সবসময় উহার জন্য নির্দিষ্ট বাক্সে সংরক্ষণ করতে হবে।
- (২) ব্যবহারের পূর্বে এবং পরে কাপড় বা ওয়েস্ট কটন দিয়ে মুছে পরিষ্কার করে রাখতে হবে।
- (৩) দীর্ঘ সময় সংরক্ষণ করতে হলে সে ক্ষেত্রে পরিষ্কার করার পর খিঁজ অথবা মরিচা রোধক তৈল লাগিয়ে তারপর সংরক্ষণ করতে হবে।
- (৪) ভার্নিয়ার হাইট গেজের যে অংশগুলি নড়াচড়া বা চলাচল যোগ্য (Moveable Parts), সেগুলো যাতে সহজে চলাচল করতে পারে ও মরিচা না পরে সেইজন্য মাঝে মাঝে এই সব জায়গায় মবিল বা মরিচারোধী তৈল দিতে হবে।

- (৫) ব্যবহারের স্থানটি যেন পরিষ্কার পরিচ্ছন্ন, সমতল ও মসৃণ হয় সেদিকে খেয়াল রাখতে হবে।
- (৬) অন্য কোন যন্ত্র, ধাতব বস্তু কাটিং টুল প্রভৃতির আঘাত থেকে ভার্নিয়ার হাইট গেজকে সব সময় রক্ষা করে ব্যবহার করতে হবে। খেয়াল রাখতে হবে যেন ঘর্ষণ বা আঘাত লেগে এর উপরিতল মসৃণতা না হারায়।
- (৭) ভার্নিয়ার হাইট গেজকে কোন ম্যাগনেট বা চুম্বকের নিকট রাখা উচিত নয়। এতে গেজের বিভিন্ন অংশ চুম্বকত্ব লাভ করে লৌহ কণাকে আকৃষ্ট করে, ফলে ত্রুটিপূর্ণ পরিমাপের আশঙ্কা থাকে। গ্রাইন্ডিং মেশিনের নিকটেও এই গেজ ব্যবহার করা উচিত নয়।

প্রশ্নমালা-৩

অতি সংক্ষিপ্ত প্রশ্ন :

১. ভার্নিয়ার হাইট গেজ কী ধরনের যন্ত্র?
২. ভার্নিয়ার হাইট গেজের ভার্নিয়ার কনস্ট্যান্ট ইঞ্চি ও মিলিমিটারে কত?
৩. ভার্নিয়ার হাইট গেজ সর্বনিম্ন কত সূক্ষ্ম মাপ ইঞ্চি ও মিলিমিটারে নিতে পারে?
৪. ফাইন এডজাস্টমেন্ট স্ক্রু-এর কাজ কী?
৫. স্ক্রাইবারের স্থলে রড বা দণ্ড ব্যবহার করলে ভার্নিয়ার হাইট গেজ দিয়ে কী ধরনের মাপ নেওয়া যায়?
৬. ভার্নিয়ার হাইট গেজকে চুম্বকের নিকট রাখলে কী অসুবিধা হয়।

সংক্ষিপ্ত প্রশ্ন :

১. ভার্নিয়ার হাইট গেজ বলতে কী বোঝায়?
২. ভার্নিয়ার হাইট গেজের বিভিন্ন অংশের নাম লেখ।
৩. ভার্নিয়ার হাইট গেজের প্রয়োগ ক্ষেত্র উল্লেখ কর।
৪. ভার্নিয়ার হাইট গেজের যত্ন বা রক্ষণাবেক্ষণ কৌশলগুলি লেখ।
৫. ভার্নিয়ার হাইট গেজের ব্যবহার উল্লেখ কর।

রচনামূলক প্রশ্ন :

১. চিত্রসহ ভার্নিয়ার হাইট গেজের বিভিন্ন অংশের নাম এবং উহাদের ব্যবহার লেখ।
২. ভার্নিয়ার হাইট গেজের যত্ন ও রক্ষণাবেক্ষণ প্রক্রিয়া বর্ণনা কর।
৩. ভার্নিয়ার হাইট গেজের ব্যবহার পদ্ধতি বর্ণনা কর।
৪. ভার্নিয়ার হাইট গেজের প্রয়োগ ক্ষেত্র বর্ণনা কর।

অধ্যায়-৪

সারফেস গেজ (Surface Gauge)

সারফেস গেজ পরিচিতি :

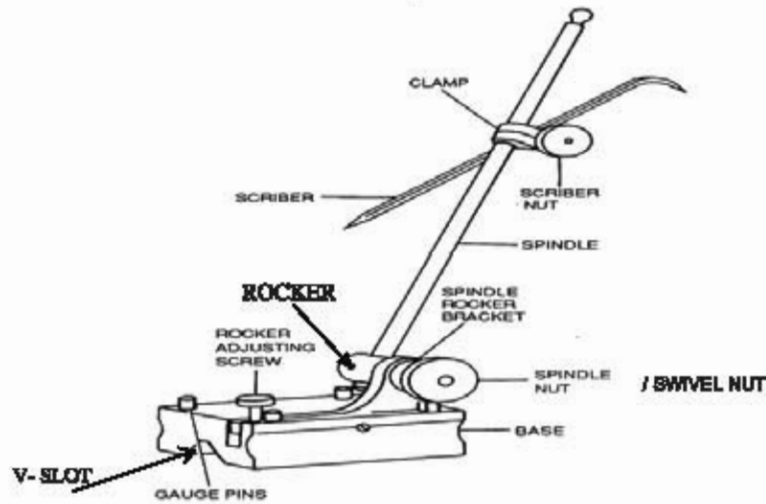
সারফেস গেজ হলো সূক্ষভাবে নিয়ন্ত্রিত এক প্রকার গে-আউট বা মার্কিং টুলস। প্রকৃতপক্ষে পৃষ্ঠের দিক থেকে এটি একটি ক্রাইবারকে বিভিন্ন প্রকারে সূক্ষভাবে নিয়ন্ত্রণ করার ব্যবস্থা মাত্র। ডার্টিক্যাল সারফেসের ওপর হরাইজন্টাল বা ভূমির সঙ্গে সমান্তরাল লাইন টানার জন্য এবং কোন তলের উপরিভাগের উচ্চতা বা উহার বৈষম্য পরীক্ষা করার জন্য প্রধানত সারফেস গেজ ব্যবহৃত হয়। এ ছাড়া কোন জবের সমতল পৃষ্ঠ যথার্থ সমান ও সমতল আছে কিনা এবং গোলাকার পৃষ্ঠ বিশিষ্ট যন্ত্র (বেয়ন-শ্যাফট, পুলি, বিয়ারিং, বিয়ারিং ক্যাব, ইত্যাদি)-এর গোলাকার পৃষ্ঠ যথার্থ গোলাকার কী না তাহা পরীক্ষা করতেও সারফেস গেজ ব্যবহৃত হয়। এর ভারী ভিত্তি (Base)- এর ওপর একটি খাড়া দণ্ড বা স্পিন্ডল থাকে এবং দণ্ডের সাথে একটি ক্রাইবার লাগানো থাকে যা ক্ল্যাম্প ও স্ক্রু-এর সাহায্যে বিভিন্ন কোণে সেট করা যায়। ভিত্তি (Base)- এর সাথে সংযুক্ত এডজাস্টিং স্ক্রুকে ঘুরিয়ে ক্রাইবারের মুখকে সূক্ষভাবে নিয়ন্ত্রণ করা যায়। প্রকৃতপক্ষে দুই তল বা সারফেসের মধ্যে তুলনা বা উহার সারফেসের সম্পর্কে কাজে লাগিয়ে এই গেজ ব্যবহৃত হয় বিধায় এই গেজের নাম হলো সারফেস গেজ।



চিত্র-৪.১ঃ সারফেস গেজ

৪.২ সারফেস গেজের বিভিন্ন অংশসমূহ :

একটি বহুল ব্যবহৃত সারফেস গেজের বিভিন্ন অংশসমূহ নিম্নোক্ত চিত্রে দেখানো হলো-



চিত্র-৪.২ঃ সারফেস গেজের বিভিন্ন অংশ

সারফেস গেজের বিভিন্ন অংশ :

১. ভিত (Base)
২. স্পিন্ডল (Spindle)
৩. ক্ল্যাম্প (Clamp)
৪. ক্ল্যাম্প নাট বা স্কাইবার নাট (Clamp Nut)
৫. স্কাইবার (Scriber)
৬. ভি-স্লট (V-Slot)
৭. গেজ পিন (Gauge Pin)
৮. এডজাস্টিং স্ক্রু (Adjusting Screw)
৯. সুইভেল নাট (Swivel Nut)
১০. রকার (Rocker)
১১. স্পিন্ডল রকার ব্রেকেট (Spindle Rocker Bracket)

ভিত (Base) : সারফেস গেজের ভিত উহার অন্যান্য অংশের তুলনায় ভারী, চ্যাপ্টা এবং অন্যান্য সকল অংশের নিচে অবস্থান করে উহাদের ভার বহন করে। ভিতের তলদেশ খুবই শক্তভাবে মসৃণ করে তৈরি করা হয় কারণ সমতল ও মসৃণ তলের উপর রেখে সারফেস গেজকে ব্যবহার করতে হয়।

স্পিন্ডল (Spindle) : এই অংশটি সিলিন্ড্রিক্যাল দণ্ডের ন্যায় এবং এটির নিচের অংশকে স্টেম বলা হয় যাহা সুইভেল বোল্টের সাহায্যে বেসের সঙ্গে আটকানো থাকে। অপর প্রান্ত মুক্ত অবস্থায় থাকে এবং এর সাথে স্কাইবার লাগানো থাকে। ক্ল্যাম্প নাটকে ঢিলা করে স্কাইবারকে যে কোন উচ্চতায় স্পিন্ডলের ওপর স্থাপন করা যায় এবং ক্ল্যাম্প নাটকে টাইট করে স্কাইবারকে আটকিয়ে তারপর ব্যবহার করতে হয়।

ক্ল্যাম্প নাট (Clamp Nut) : স্কাইবারকে বিভিন্ন উচ্চতায় বিভিন্ন দিকে ঘুরিয়ে স্পিন্ডলের সাথে বাঁধার জন্য ক্ল্যাম্প নাট ব্যবহার করা হয়।

স্কাইবার (Scriber) : এর একটি মুখ সোজা এবং অপরটি ৯০° তে বাঁকানো থাকে। বাঁকানো মুখ উচ্চতা পরীক্ষার জন্য এবং সোজা মুখ সরলরেখা টানতে ব্যবহার করা হয়।

ভি-স্লট (V-Slot) : সারফেস গেজকে গোলাকার উপরিভাগের ওপর স্থাপন করে ব্যবহার করতে সুবিধা হয়।

গেজ পিন (Gauge Pin) : চাপ দিলে গেজ পিন বেস অংশের তলদেশকে অতিক্রম করে বের হয়ে আসে। এই অবস্থায় সারফেস গেজের প্রান্তরেখার সমান্তরালে সারফেস গেজকে সরান এবং কোন লম্ব উপরিভাগের সাথে সারফেস গেজের তলদেশকে মিল করান সম্ভবপর হয়।

এডজাস্টিং স্ক্রু (Adjusting Screw) : একে ঘুরালে রকারের সাহায্যে স্পিন্ডল সূক্ষ্মভাবে নিয়ন্ত্রিত হয়। যেহেতু স্কাইবারটি স্পিন্ডলের সাথে ক্ল্যাম্প নাট দ্বারা আবদ্ধ করা, সুতরাং এই নিয়ন্ত্রণের সাহায্যে কার্যত স্কাইবারের মুখই নিয়ন্ত্রিত হয়ে যায়।

সুইভেল নাট (Swivel Nut) : একে ঢিলা করে স্পিন্ডলকে যে কোন কোণে ঘুরানো যায় এবং প্রয়োজনীয় কোণে সুইভেল নাটকে টাইট দিয়ে আবদ্ধ করে রাখা যায়।

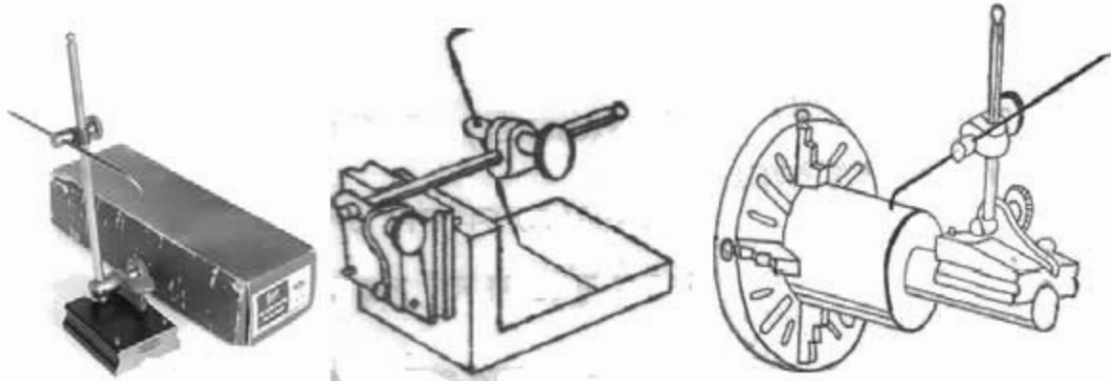
রকার (Rocker) : সারফেস গেজের স্পিন্ডল সহ অন্যান্য অংশ ভিত্তি (Base)-এর সাথে রকারের মাধ্যমে সংযুক্ত থাকে এডজাস্টিং স্ক্রু এবং সুইভেল নাট সরাসরি রকারের সহিত যুক্ত থেকে ড্রাইবারের পয়েন্টকে উঠানো করা সাহায্য করে।

স্পিন্ডল রকার ব্র্যাকেট (Spindle Rocker Bracket) : এই ব্র্যাকেটের সাহায্যে রকারকে বেস এর সাথে ধরে রাখে ও ঘোরাতে সাহায্য করে।

ক্ল্যাম্প (Clamp) : ক্ল্যাম্প ড্রাইবারকে স্পিন্ডলের সাথে ধরে রাখে।

৪.৩ সারফেস গেজের ব্যবহার :

- ১) মেশিন শপ, জেনারেল মেকানিক শপ, উৎপাদনমুখী শিল্পকারখানা, মেইনটেন্যান্স ওয়ার্কশপ, মেকানিক্যাল কর্মকাণ্ড সংশ্লিষ্ট ওয়ার্কশপ প্রভৃতি জায়গায় কাজের সূক্ষতা বজায় রাখার জন্য মার্কিং টুল হিসেবে সারফেস গেজ ব্যাপকভাবে ব্যবহৃত হয়।
- ২) সারফেস গেজ সাধারণত বিভিন্ন উল্লম্ব ও অনুভূমিক তলের উপর সরলরেখা টানার জন্য ব্যবহার করা হয়।
- ৩) রকার হেড থেকে মাপের পাঠ নেওয়ার জন্য সারফেস গেজ ব্যবহার করা হয়।
- ৪) একটি আরতাকার বস্তুর একাধিক লম্ব উপরিভাগের ওপর সমান উচ্চতায় সরলরেখা টানা যায়।
- ৫) একটি বস্তুর লম্ব তল (Vertical Surface) থেকে নির্দিষ্ট দূরত্বে উহারই একটি আনুভূমিক তল (Horizontal Surface)-এর ওপর সরলরেখা টানা যায়।
- ৬) সিলিন্ড্রিক্যাল অবের বাঁকা (Curved Surface) তলের উপর উহার কেন্দ্র বরাবর লাইন টানার জন্য সারফেস গেজ ব্যবহার করা হয়।
- ৭) সিলিন্ড্রিক্যাল বস্তুর কেন্দ্রে উহার একটি বাঁকা (Curved Surface) তল, অন্য একটি বাঁকা (Curved Surface) তল থেকে সমান উচ্চতায় আছে কিনা তা পরীক্ষা করা যায়।
- ৮) একটি বস্তুর সমতল বিশিষ্ট উপরিভাগ অন্য একটি বস্তুর সমতল বিশিষ্ট উপরিভাগ থেকে সমান উচ্চতায় আছে কিনা তা পরীক্ষা করা যায়।
- ৯) বস্তুর সমতলতা (Flatness) পরীক্ষা করা যায়।
- ১০) সারফেস গেজ দ্বারা সমান্তরাল সরলরেখা টানা যায়।



চিত্র-৪.৩ঃ সারফেস গেজের বিভিন্ন ব্যবহার

৪.৪ সারফেস গেজ দ্বারা কোন তলের এলাইনমেন্ট পরীক্ষা করার পদ্ধতি :

প্রথমে সারফেস গেজের ভিতকে একটি সমতল প্লেটের উপর রেখে স্পিডলের সাথে স্কাইবারের পয়েন্টারটিকে পরীক্ষণীয় তলের সাথে সমান্তরাল করে ক্ল্যাম্প নাটটিকে টাইট দিয়ে স্কাইবারটিকে দৃঢ়ভাবে স্পিডলের সাথে আটকাতে হবে। তারপর সারফেস গেজের বেস বা ভিতকে আস্তে আস্তে সমতল প্লেটের উপর আনুভূমিকভাবে ঠেলে নাড়াতে হবে। এমতাবস্থায় পরীক্ষণীয় তলটির সাথে স্কাইবারের পয়েন্টার যদি সর্বদা একই দূরত্ব বজায় রাখে তবে বুঝা যাবে যে পরীক্ষণীয় তলটি সমতল। এভাবেই সারফেস গেজ দ্বারা কোন তলের এলাইনমেন্ট পরীক্ষা করা হয়।

প্রশ্নমালা-৪

অতি সংক্ষিপ্ত প্রশ্ন :

১. সারফেস গেজ কাকে বলে ?
২. সারফেস গেজ কী ধরনের টুল ?
৩. সারফেস গেজের কোন অংশ দ্বারা দাগ কাটা হয় ?
৪. সারফেস গেজের স্কাইবারকে কোন অংশ দ্বারা নিয়ন্ত্রণ করা হয় ?
৫. সারফেস গেজের সবচেয়ে ভারী অংশ কোনটি ?
৬. ক্ল্যাম্প নাট কী কাজে ব্যবহার করা হয় ?
৭. ভি-স্লট থাকার সুবিধা কী ?
৮. সারফেস গেজকে সাধারণত কিসের ওপর রেখে ব্যবহার করা হয় ?

সংক্ষিপ্ত প্রশ্ন :

১. সারফেস গেজের বিভিন্ন অংশের নাম লেখ।
২. সারফেস গেজের প্রয়োগ ক্ষেত্র উল্লেখ কর।
৩. সারফেস গেজের ব্যবহার সংক্ষেপে উল্লেখ কর।
৪. সারফেস গেজের রক্ষণাবেক্ষণ সংক্ষেপে উল্লেখ কর।

রচনামূলক প্রশ্ন :

১. সারফেস গেজ বলতে কী বোঝায় ? এর প্রয়োগক্ষেত্র বর্ণনা কর।
২. সারফেস গেজের বিভিন্ন অংশের নাম এবং কার্যকারিতা লেখ।
৩. সারফেস গেজের ব্যবহার বর্ণনা কর।
৪. সারফেস গেজের যত্ন ও রক্ষণাবেক্ষণকৌশল বর্ণনা কর।

অধ্যায়-৫

লেদ মেশিনের বিভিন্ন অপারেশন (Various Operations of Lathe Machine)

৫.১ স্ট্রেইট টার্নিং, ফেসিং, গার্ডিং ও টেমার টার্নিং :

স্ট্রেইট টার্নিং (Straight Turning) :

এটা হলো লেদ মেশিনের সাধারণ অপারেশন। এর সাহায্যে বেলানাকৃতি অর্থাৎ সিলিন্ড্রিক্যাল ওয়াকপিস তৈরি করা যায়। নির্দিষ্ট ডেপথ অব কাটসহ সূর্যায়মান ওয়াকপিসের সারফেস বরাবর নির্দিষ্ট হারে কাটিং টুলকে এগিয়ে স্ট্রেইট টার্নিং অপারেশন সমাধা করা হয়। চাকে সেন্টারের মাঝে বাঁধা অবস্থায় বা স্টেডি রেস্টের সাপোর্ট দেওয়া অবস্থায় স্ট্রেইট টার্নিং করা হয়।



চিত্র-৫.১৪ স্ট্রেইট টার্নিং

ওয়াকপিস বা জবের লম্বা দৈর্ঘ্যে যদি স্ট্রেইট টার্নিং করতে হয় এবং চাকে বাঁধা অংশ যদি খাটো হয় তবে ওয়াকপিস এক দিকে সরে যেতে পারে। এ ধরনের সরে যাওয়া এড়াতে হলে ওয়াকপিসকে ডেড সেন্টার দিয়ে সাপোর্ট দিতে হবে। এ ক্ষেত্রে লাইভ সেন্টার ও ডেড সেন্টার উভয়দিকের জবের এলাইনমেন্ট সারফেস গেজ দ্বারা পরীক্ষা করে ঠিক করে নিতে হবে। যদি ডেড সেন্টার অক্ষ সেন্টার হয়ে থাকে তবে ওয়াকপিস টেমার হবে। স্ট্রেইট টার্নিংকে দুইভাগে ভাগ করা যায়। যেমন- ব্রাক টার্নিং ও ফিনিস টার্নিং। টার্নিং করে নির্দিষ্ট মাপের ব্যাসের জব তৈরি করার সময় প্রথমে অধিক পরিমাণ খাতু অপসারণ করার জন্য ব্রাক টার্নিং করা হয়। এ ক্ষেত্রে টার্নিং এর জন্য সারফেস ফিনিস ও সূক্ষতা গুরুত্বপূর্ণ নয়। এতে সর্বাধিক ডেপথ অব কাট দেওয়া যায়।

ব্রাক টার্নিং এর বিবেচ্য বিষয়গুলো হলো-

- ওয়াকপিসকে দৃঢ়ভাবে বাঁধতে হবে।
- সঠিক ফিড (০.৫ মি.মি-০.৭ মি.মি) ব্যবহার করতে হবে।
- ওয়াকপিসের ব্যাস মাঝে মাঝে পরীক্ষা করতে হবে।
- ডেপথ অনুযায়ী কাটের সংখ্যা নির্বাচন করতে হবে।
- কাটিং স্পিড ব্যবহার করতে হবে।

ফিনিস টার্নিং এর বিবেচ্য বিষয়গুলো হলো-

- ওয়াকপিসকে দৃঢ়ভাবে বাঁধতে হবে।
- সঠিক ফিড (০.১ মি.মি.-০.৩ মি.মি.) ব্যবহার করতে হবে।
- ডেপথ অব কাট ০.১ মি.মি. হইতে ০.২৫ মি.মি. রাখতে হবে।
- কাটিং টুল সঠিকভাবে গ্রাইন্ডিং করে সঠিক কোণে টুল হোল্ডারে বাঁধতে হবে।
- কাটিং ফ্লুইড ব্যবহার করতে হবে।

ফেসিং বা ফেস টার্নিং (Facing or Face Turning) :

কার্যবস্তুর যে কোন প্রান্ত বা ধারকে কেন্দ্রের বা অক্ষের সাথে ৯০° কোণে সমতল সারফেস তৈরি করার মেশিনিং পদ্ধতি হলো ফেসিং বা ফেস টার্নিং।



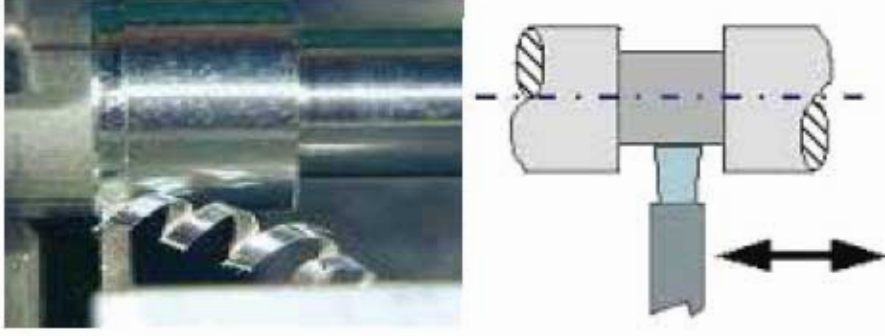
চিত্র-৫.২৪ ফেস টার্নিং বা ফেসিং

ফেসিং বা ফেস টার্নিং করার সময় নিম্নলিখিত বিষয়গুলো বিবেচনা করা উচিত। যথা-

- ক) লেদ অপারেটরের ডান হাতের দিকে ফেসিং অপারেশন করতে ডানহাতি ফেসিং টুল নির্বাচন করা এবং বাম দিকে ফেসিং করতে বামহাতি ফেসিং টুল নির্বাচন করতে হবে।
- খ) ফেসিং টুল ৩০ থেকে ৫০ পর্বত এন্টারিং এঙ্গেলে সেট করতে হবে।
- গ) সঠিক সেন্টার হাইটে ফেসিং টুল পয়েন্ট সেট করতে হবে।
- ঘ) ওয়াকপিসের ম্যাটারিয়ালের বৈশিষ্ট্য অনুযায়ী কাটিং টুল নির্বাচন করতে হবে এবং সে অনুযায়ী মেশিনের স্পিড ও ফিড নির্ধারণ করতে হবে।
- ঙ) স্পিন্ডল স্পিড = গ্রেইন টার্নিং এর জন্য যে স্পিড নির্বাচন করা হয় তার দ্বিগুণ।
- চ) ফিড = ০.৩ থেকে ০.৭ মি.মি. (রাফ ফেসিং)
= ০.১ থেকে ০.৩ মি.মি. (ফিনিস ফেসিং)
- ছ) ডেপথ অব কাট = ২ থেকে ৫ মি.মি. (রাফ ফেসিং)
= ০.৭ থেকে ১ মি.মি. (ফিনিস ফেসিং)
- জ) মেশিনের গায়ে সংযুক্ত চার্ট অনুযায়ী আর.পি.এম ও ফিডের জন্য লিভার সেট করতে হবে।

পার্টিং অফ (Parting off) :

মেশিনিং অপারেশন করার পর কোন নির্দিষ্ট স্থানে গুয়াকপিস কেটে ফেলাকে পার্টিং অফ বলা হয় অর্থাৎ সেদে বাঁখা ঘুরন্ত গুয়াকপিসকে পার্টিং টুলের সাহায্যে দ্বিখণ্ডিত করাকে পার্টিং অফ বলা হয়।



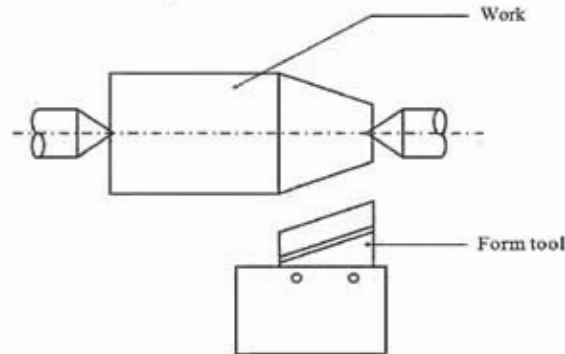
চিত্র-৫.৩ঃ পার্টিং অফ

পার্টিং এর বিবেচ্য বিষয়গুলো হলো-

- পার্টিং করার স্থানটি বখাসম্ভব চাকের নিকটবর্তী হওয়া উচিত।
- টার্নিং এর কাটিং স্পিড এর তুলনায় পার্টিং এর কাটিং স্পিড প্রায় অর্ধেক হওয়া উচিত।
- পার্টিং এ স্ল্যাক এঙ্গেল বিশিষ্ট কাটিং টুল ব্যবহার করা উচিত।
- পার্টিং টুলের কাটিং পয়েন্ট অবশ্যই সেন্টার হাইটে হওয়া উচিত।
- গুয়াকপিসের অক্ষের সাথে 30° কোণে কাটিং টুল বাঁখা উচিত।

টোপার টার্নিং (Taper Turning) :

যদি কোন কার্ববন্ডর গ্রন্থ বা ব্যাস অর্ধবা পরিমাপ সমহায়ে কমে বা বাড়ে তখন তাকে টোপার বলে। সেদ মেশিনের সাহায্যে মেশিনিং করে কার্ববন্ডর ব্যাস বা গ্রন্থ সমহায়ে কেটে কমানোর পদ্ধতিকে টোপার টার্নিং বলা হয়। একটি সিগিড্রিক্যাল কার্ববন্ডকে টার্নিং করে এক প্রান্ত থেকে অন্য প্রান্তের দিকে এর ব্যাস ক্রমাঘরে ও সমভাবে পরিবর্তন করাই টোপার টার্নিং। সেদে টোপার কাটিতে হলে কাটিং টুলের এক কার্ববন্ডর অক্ষের সহিত ঠিকমত স্থাপন করতে হয়। অন্যথায় নির্ভুলভাবে টোপার পাওয়া যায় না।



Taper turning by form tool method

চিত্র-৫.৪ঃ টোপার টার্নিং

লেদ মেশিনে নিম্নলিখিত পদ্ধতিসমূহ অনুসরণ করে টেপার টার্নিং করা যায়। যথা-

- ফর্ম টুলের সাহায্যে (By a Form Tool)
- টেইলস্টক সরাইয়া (By Setting off the Tailstock Center)
- কম্পাউন্ড রেস্টকে ঘুরাইয়া (By Swiveling the Compound Rest)
- টেপার অ্যাটাচমেন্টের সাহায্যে (By Taper Attachment)

টেপার টার্নিং পদ্ধতি নির্বাচন :

- ❖ অতিশয় সীমিত দৈর্ঘ্যের উপর টেপার কাটতে ফর্ম টুল পদ্ধতি নির্বাচন করা হয়।
- ❖ সীমিত দৈর্ঘ্যের উপর (এক্সটার্নাল ও ইন্টারনাল) শার্প (Sharp) টেপার টার্নিং করতে কম্পাউন্ড রেস্ট সেটিং পদ্ধতি নির্বাচন করা হয়।
- ❖ কম টেপার অ্যাঙ্গেল বিশিষ্ট স্লো (Slow) টেপার (এক্সটার্নাল) টার্নিং করতে টেইল স্টক অফসেটিং পদ্ধতি নির্বাচন করা হয়।
- ❖ কম টেপার অ্যাঙ্গেল বিশিষ্ট স্লো টেপার সূক্ষ্মভাবে টার্নিং করতে টেপার টার্নিং অ্যাটাচমেন্ট পদ্ধতি নির্বাচন করা হয়।

ফর্ম টুল পদ্ধতি :

একটি চওড়া কাটিং টুলকে প্রয়োজনীয় সঠিক কোণে বেঁধে টেপার কাটা যায়। ঠিকমত টেপার কাটতে হলে কাটিং টুলের মুখ (Cutting Edge) সোজা হওয়া একান্ত বাঞ্ছনীয় তবে কাটিং টুলকে এমনভাবে স্থাপন করতে হবে যেন উহা কার্যবস্তুর অক্ষের সহিত অর্ধ টেপার কোণ α উৎপন্ন করে। অর্ধ টেপার কোণ অর্থাৎ α কোণে কাটিং টুল স্থাপন করার সময় 90° থেকে সাইড কাটিং এজ কোণ বাদ দিতে হবে। এ ছাড়া কাটিং টুলকে একটি নির্দিষ্ট কোণে গ্রাইন্ডিং করে কার্যবস্তুর অক্ষের সহিত 90° কোণে অর্থাৎ লম্বভাবে উহাকে অগ্রসর করিয়ে টার্নিং করলে উহা কার্যবস্তুর উপর টেপার কোণের সৃষ্টি করে। এ ক্ষেত্রে কার্যবস্তুর অক্ষের সহিত সৃষ্টি কোণের পরিমাণ 90° থেকে কাটিং টুলের কোণের অর্ধেক বিয়োগ করলে পাওয়া যায়। এই পদ্ধতিতে শুধু অল্প দৈর্ঘ্যের টেপার কাটা সম্ভব কারণ এই পদ্ধতিতে লম্বা দৈর্ঘ্যের টেপার কাটলে কার্যবস্তুটি কাঁপতে থাকবে এবং উহা অমসৃণভাবে টেপার কাটা হবে।

কম্পাউন্ড রেস্ট সেটিং পদ্ধতিতে টেপার কাটিং :

এই পদ্ধতিতে যত ডিগ্রিতে টেপার কাটতে হবে টুল স্লাইডকে ঠিক তত ডিগ্রি কোণে বেধে টুল স্লাইডের সাহায্যে কাটিং টুলকে পরিচালিত করে টেপার কাটতে হয়। এই পদ্ধতিতে বাইরের সারফেসের টেপার ও ছিদ্রের মধ্যে টেপার উভয়ই কাটা যায়। এই পদ্ধতিতে বেশি লম্বা কোণ টেপার কাটা যায় না অথচ বৃহৎ টেপার কোণ কাটার পক্ষে বিশেষ উপযোগী। টুল স্লাইড যতটা পথ যাতায়াত করতে পারে সর্বাধিক ততটা দৈর্ঘ্যের টেপারই এই পদ্ধতিতে কাটা সম্ভব। এছাড়া এই পদ্ধতির আর একটি অসুবিধা হলো টুল স্লাইডিং হাতে চালাতে হয় বিধায় টেপার উৎপাদনের গতি অত্যন্ত মন্থর হয় এবং তলের মসৃণতা (Surface Finish) ভালো হয় না। ইহা ছাড়াও মেশিন চালকের হাত শীঘ্র ক্লান্ত হয়ে যায়। কম্পাউন্ড রেস্টের ওপর চিহ্নিত স্কেল থেকে পড়ে নির্দিষ্ট কোণে উহাকে সেট করতে হয়।

নিম্নের সূত্র ব্যবহার করে অর্ধ টেপার কোণ α বের করা হয় :

$$\tan \alpha = \frac{D-d}{2L} \text{ এর সাহায্যে টেপার কোণ নির্ণয় করা হয়।}$$

এখানে,

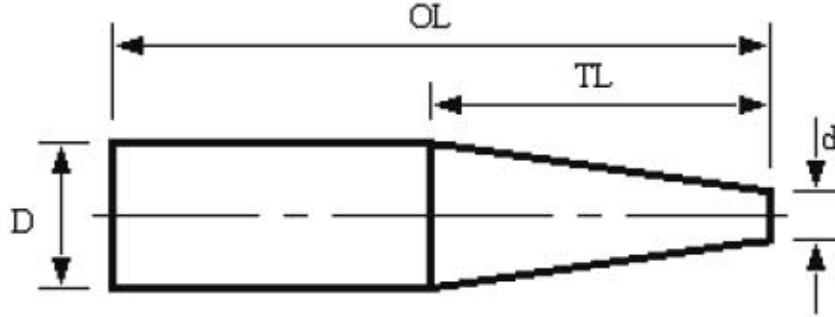
D = টেপার জবের বৃহত্তর ব্যাস

d = টেপার জবের ক্ষুদ্রতর ব্যাস

L = অক্ষ বরাবর টেপার অংশের দৈর্ঘ্য

α = অর্ধ টেপার অ্যাঙ্গেল (কম্পাউন্ড রেস্ট সেটিং অ্যাঙ্গেল)

টেইলস্টক অফসেট করার সূত্র :



$$OFFSET = \frac{OL}{TL} \times \frac{(D-d)}{2} = \frac{tpf \times OL}{24}$$

OL = overall length

TL = taper length

D = the large taper diameter

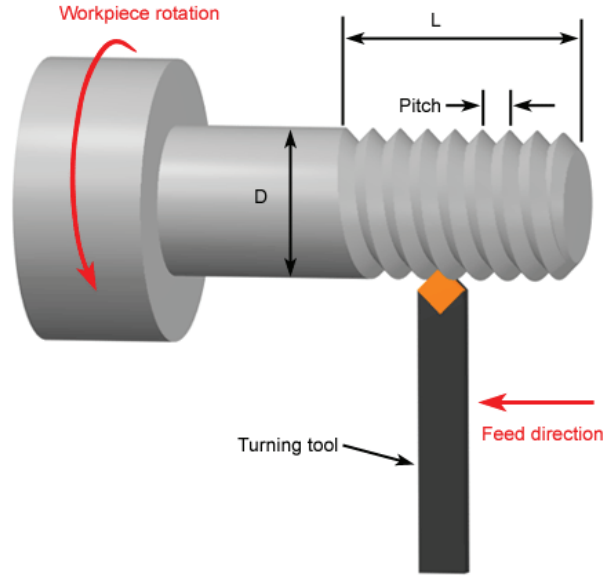
d = the small taper diameter

tpf = taper per foot (in.)

OFFSET = the distance to move the tailstock from the zero setting

৫.২ সেন্টার লেদ মেশিনে শ্লেড কাটিং :

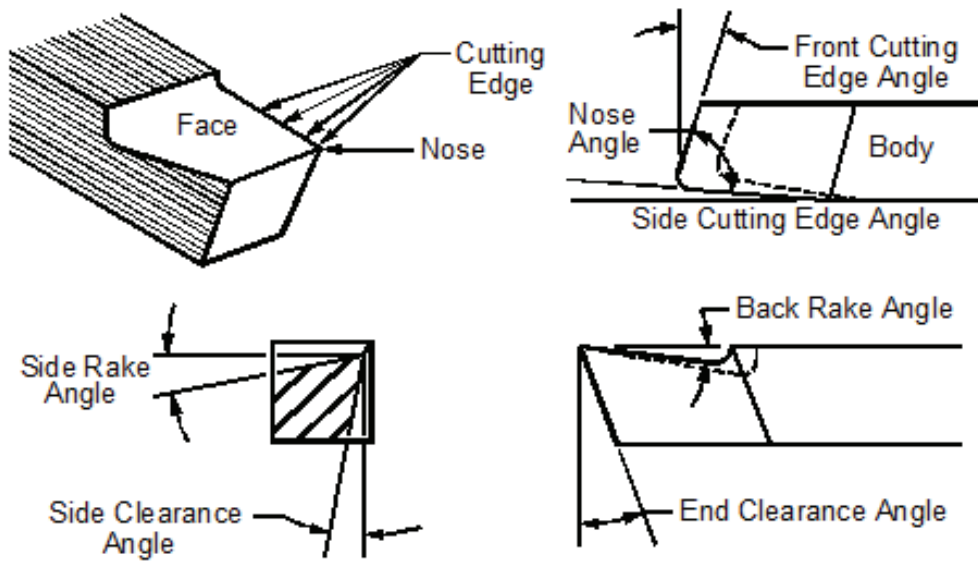
একটি সিলিন্ড্রিক্যাল বা বেলনাকৃতি, কোণাকৃতি বা মোচাকৃতি বস্তুর উপর একই রকম আকৃতি বিশিষ্ট শিরা যদি এরূপভাবে জড়াণ থাকে যে, উহা দৈর্ঘ্য বরাবর একই হারে এগিয়ে যায়, তাহলে উহাকে স্ক্রু বলে এবং জড়ানো শিরাকে শ্লেড বা প্যাঁচ বলে। সেন্টার লেদ মেশিনের সাহায্যে এরূপ প্যাঁচ বা শ্লেড কাটার পদ্ধতিকে বাহ্যিক শ্লেড কাটিং বা শ্লেড টার্নিং বলা হয়। মূলত প্যাঁচ বা শ্লেড টার্নিং হলো হেলিক্স আকারের নির্দিষ্ট আকৃতি বিশিষ্ট শ্লেড কাটার পদ্ধতি। লেদ মেশিনের সাহায্যে শ্লেড কাটার জন্য শ্লেড কাটার নীতি এবং কার্যপ্রণালি সম্পর্কে সম্যক জ্ঞান থাকা প্রয়োজন। শ্লেড কাটার জন্য লেদ স্পিন্ডল এবং লিড স্ক্রুর ঘূর্ণনের মধ্যে অবশ্যই একটি সম্পর্ক তৈরি করতে হবে। স্পিন্ডলের প্রত্যেক ঘূর্ণনের জন্য কাটিং টুলসহ ক্যারেজটি সমভাবে এবং সমহারে কার্যবস্তুর উপরের তলে প্রয়োজনীয় শ্লেডের লিডের সমান দূরত্ব অবশ্যই অতিক্রম করবে। এই জন্য স্পিন্ডলকে গিয়ার ট্রেন দ্বারা লিড স্ক্রুর সাথে সংযুক্ত করা হয়।



চিত্র-৫.৫৪ থ্রেড টার্নিং

৫.৩ লেদ টুলবিট গ্রাইন্ডিং

লেদ টুল গ্রাইন্ডিং করার জন্য প্রথমে টুলবিটের ধাতু অনুযায়ী নিম্নের ছক হতে বিভিন্ন অ্যাঙ্গেল নির্ধারণ করে নিতে হবে। তারপর একটি বেঞ্চ গ্রাইন্ডারের গ্রাইন্ডিং ছইলকে ড্রেসিং করে নিয়ে, গ্রাইন্ডিং গার্ড ও শিল্ড লাগিয়ে টুলবিট গ্রাইন্ডিং করতে হবে।



Material	Side Relief	Front Relief	Side Rake	Back Rake
Aluminum	12	8	16	35
Brass	10	8	5 to -4	0
Bronze	10	8	5 to -4	0
Cast Iron	10	8	12	5
Copper	12	10	20	16
Machine Steel	10 to 12	8	12 to 18	8 to 15
Tool Steel (unhardened)	10	8	12	8
Stainless Steel	10	8	15 to 20	8




লেদ মেশিনে গ্রাইন্ডিং করা :

গ্রাইন্ডিং বলতে সাধারণ অর্থে বুঝায় অ্যাব্রাসিভ ম্যাটারিয়াল দিয়ে ঘষে ধাতু ক্ষয় করা, ঘূর্ণনের মাধ্যমে ধাতু ক্ষয় করা বা টুলস বা বস্ত্রপাতি ক্ষয় করে ধার দেওয়া। অর্থাৎ ঘূর্ণায়মান গ্রাইন্ডিং হইলের সাহায্যে ধাতু ক্ষয় করাকে গ্রাইন্ডিং বলা হয়। লেদ মেশিনে গ্রাইন্ডিং করতে হলে দুই ধরনের গ্রাইন্ডিং অ্যাটাচমেন্ট লাগে। যথা-

(১) ইন্টারনাল গ্রাইন্ডিং অ্যাটাচমেন্ট:


হার্ডেনড ড্রিল জিপ বুশিং এবং অন্যান্য আন্তঃস্থরীপ গ্রাইন্ডিং করার জন্য একটি উচ্চ গতি সম্পন্ন ইন্টারনাল গ্রাইন্ডিং অ্যাটাচমেন্ট সেন্টার লেদে ব্যবহার করা হয়। পাশের চিত্রে একটি কম্পাউন্ড V-কেট ড্রাইভ যুক্ত ইন্টারনাল গ্রাইন্ডিং অ্যাটাচমেন্ট দেখানো হলো যার স্পিন্ডল স্পিড ৩০,০০০ r.p.m.





চিত্র ৫.৬৪ ইন্টারনাল গ্রাইন্ডিং অ্যাটাচমেন্ট

(২) এক্সটারনাল গ্রাইন্ডিং অ্যাটাচমেন্ট :

পাশের চিত্রে একটি উচ্চ গতি সম্পন্ন এক্সটারনাল গ্রাইন্ডিং অ্যাটাচমেন্ট দেখানো হলো যার সাহায্যে লেদ মেশিনে রিমার, মিলিং কাটার ইত্যাদিকে ধার দেওয়া (Sharpening) করা যায়। তাছাড়া হার্ডেনড বুশিং এবং শ্যাফট গ্রাইন্ডিং করা যায়। এই অ্যাটাচমেন্ট ব্যবহার করে লেদ মেশিনে অন্যান্য সাধারণ গ্রাইন্ডিং কাজ ও করা যায়। এক্সটারনাল গ্রাইন্ডিং এর জন্য কমপক্ষে ৪ (চার) ইঞ্চি ব্যাসের গ্রাইন্ডিং হুইল ব্যবহার করতে হয়। গ্রাইন্ডিং হুইল সরাসরি লেদ মেশিনের কম্পাউন্ড রেস্টের সাথে স্থাপন করতে হয়। এই এক্সটারনাল গ্রাইন্ডিং অ্যাটাচমেন্টে একটি বৈদ্যুতিক মোটর বেল্ট দ্বারা গ্রাইন্ডিং হুইলের সাথে সংযুক্ত থাকে।



চিত্র-৫.৭ঃ এক্সটারনাল গ্রাইন্ডিং অ্যাটাচমেন্ট



চিত্র-৫.৮ঃ অ্যান্জুলার কাটার ও স্ট্রাইট রিমার লেদে গ্রাইন্ডিং করা।

৫.৪ কাটিং স্পিড, আর.পি.এম, ফিড ও ডেপথ অব কাট :

কাটিং স্পিড (Cutting Speed) : ঘুরন্ত কার্যবস্তুর পরিধির উপর একটি নির্দিষ্ট বিন্দু প্রতি মিনিটে সরলরেখায় যে দূরত্ব অতিক্রম করে, তাকে কাটিং স্পিড বলা হয়। অর্থাৎ বস্তুটি এক মিনিটে যত পাক ঘুরে সেই কয়েক পাক যদি একটি সমতল ভূমির উপর গড়ায়, তাহলে বস্তুর উপরের একটি বিন্দু একটি সরলরেখায় যত মিটার দূরত্ব এগিয়ে যায়, তাকে কাটিং স্পিড বলে। মূলত টার্নিং এর জন্য কাটিং স্পিড হলো কার্যবস্তুর সারফেস স্পিড যা প্রতি মিনিটে কাটিং টুলকে অতিক্রম করে। কাটিং স্পিড মেট্রিক পদ্ধতিতে মিটার/মিনিট এবং ব্রিটিশ পদ্ধতিতে ফুট/মিনিট এ প্রকাশ করা হয়।

কাটিং স্পিড নির্ণয়ের সূত্র :

$$CS = \frac{\pi DN}{1000} \text{ মিটার/ মিনিট।}$$

যেখানে, CS = কাটিং স্পিড, মিটার / মিনিট

D = কার্যবস্তুর ব্যাস (মিমি)

N = প্রতি মিনিটে ঘূর্ণন সংখ্যা (r.p.m.)।

$$\therefore N = \frac{CS \times 1000}{\pi D}$$

ফিড (Feed) : ওয়ার্কপিসের সারফেস বরাবর উহার প্রতি ঘূর্ণনের ফলে কাটিং টুলের এগিয়ে যাওয়ার হারকে ফিড বলা হয়। ফিডের একক মি.মি./রিভলুশন বা ইঞ্চি/রিভলুশন।

ডেপথ অব কাট (Depth of Cut) : টার্নিং এর ক্ষেত্রে ডেপথ অব কাট বলতে প্রতি কাটে কাটিং টুল যত গভীরতায় কাটে তাকে বোঝায়। ডেপথ অব কাটকে কোপের গভীরতা বলা হয়। রাফ টার্নিং এর জন্য কোপের গভীরতা বেশি এবং ফিনিশিং টার্নিং এর জন্য কোপের গভীরতা কম হয়।

প্রশ্নমালা-৫

অতিসংক্ষিপ্ত প্রশ্ন :

১. স্ট্রেইট টার্নিং কাকে বলে ?
২. ফেসিং কাকে বলে ?
৩. টেপার টার্নিং কাকে বলে ?
৪. ড্রিলিং কাকে বলে ?
৫. বোরিং কাকে বলে ?
৬. থ্রেড টার্নিং কাকে বলে ?
৭. কাটিং স্পিড কাকে বলে ?
৮. ফিড বলতে কী বোঝায় ?
৯. ডেপথ অব কাট কাকে বলে ?
১০. কাটিং স্পিডের একক কী ?

সংক্ষিপ্ত প্রশ্ন :

১. কাটিং স্পিড নির্ণয়ের সূত্রটি বুঝিয়ে লেখ।
২. লেদ মেশিনের কাটিং স্পিড ও ফিড কী কী বিষয়ের উপর নির্ভর করে উল্লেখ কর।
৩. কাটিং স্পিড বলতে কী বোঝায় বর্ণনা কর।
৪. বিভিন্ন প্রকার লেদ অপারেশনগুলোর নাম লেখ।
৫. গ্রাইন্ডিং কাকে বলে ?
৬. লেদের সাহায্যে গ্রাইন্ডিং করার অ্যাটাচমেন্টগুলো কী কী ?
৭. পার্টিং কাকে বলে বুঝিয়ে দাও।
৮. টেপার টার্নিং এর বিভিন্ন পদ্ধতিগুলির নাম লেখ।

রচনামূলক প্রশ্ন :

১. বিভিন্ন প্রকার লেদ অপারেশনগুলোর সংজ্ঞা লেখ।
২. স্ট্রেইট টার্নিং পদ্ধতি বর্ণনা কর।
৩. ফেসিং পদ্ধতি বর্ণনা কর।
৪. পার্টিং পদ্ধতি বর্ণনা কর।
৫. কম্পাউন্ড রেস্ট পদ্ধতিতে টেপার টার্নিং পদ্ধতি বর্ণনা কর।
৬. ফর্ম পদ্ধতিতে টেপার টার্নিং পদ্ধতি বর্ণনা কর।
৭. গ্রাইন্ডিং কাকে বলে ? ইন্টারনাল গ্রাইন্ডিং অ্যাটাচমেন্ট পদ্ধতিতে লেদের সাহায্যে গ্রাইন্ডিং পদ্ধতি বর্ণনা কর।
৮. গ্রাইন্ডিং কাকে বলে ? এক্সটারনাল গ্রাইন্ডিং অ্যাটাচমেন্ট পদ্ধতিতে লেদের সাহায্যে গ্রাইন্ডিং পদ্ধতি বর্ণনা কর।
৯. থ্রেড টার্নিং পদ্ধতি বর্ণনা কর।
১০. কাটিং স্পিড, ফিড ও ডেপথ অব কাট বর্ণনা কর।

অধ্যায়-৬

ডায়াল ইন্ডিকেটর (Dial Indicator)

৬.১ ডায়াল ইন্ডিকেটরের পরিচিতি :

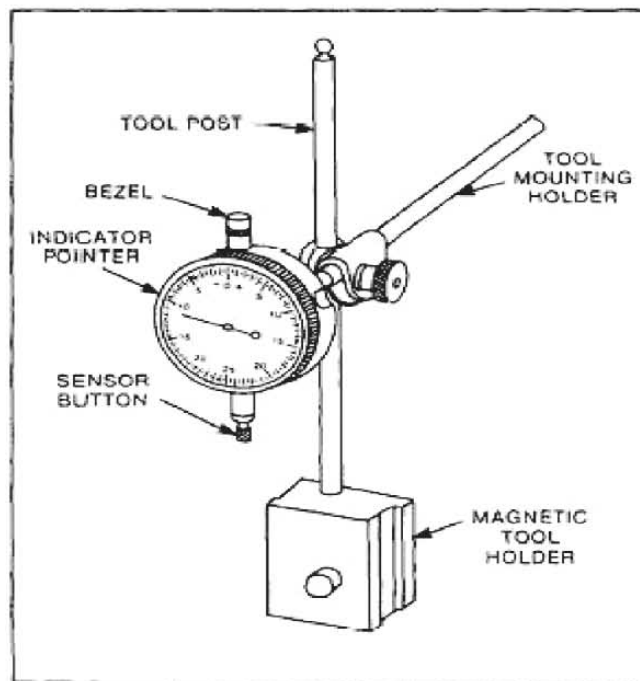
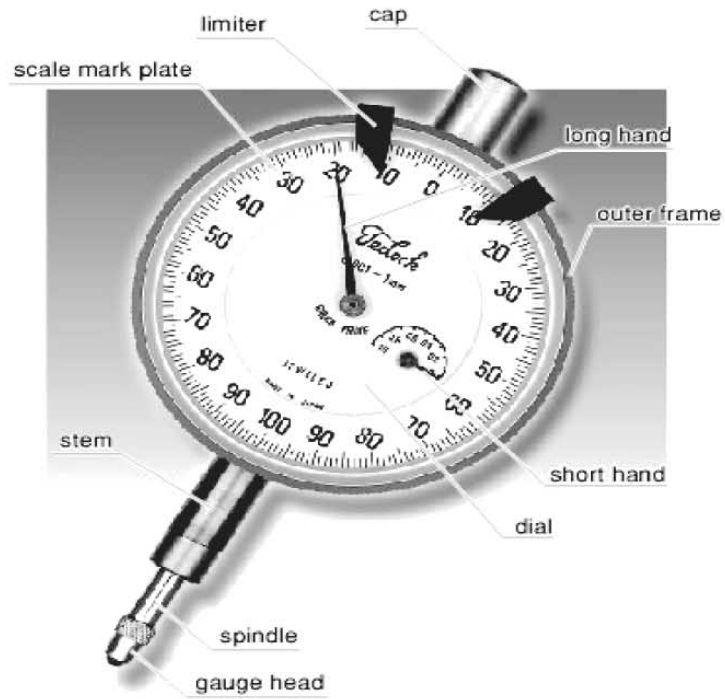
ওয়ার্কশপে ডায়াল ইন্ডিকেটর একটি অতি প্রয়োজনীয় ডিভাইস হিসাবে ব্যবহৃত হয়ে থাকে। এটি দ্বারা কোনো যন্ত্রাংশের সমতলতা (Flatness), মসৃণতা (Smoothness) নিভুলভাবে পরীক্ষা করা যায়, কোন জবকে মেশিনে নিখুঁত ভাবে টাল ভেঙ্গে আবদ্ধ করা যায়, গোলাকার জবের এককেন্দ্রিকতা (Eccentricity) নির্ণয় করা যায়, অতি সূক্ষ্ম ও সঠিকভাবে জবকে কেন্দ্রীভূত করে বাধা যায়। ডায়াল ইন্ডিকেটরের পরিধিতে একটি স্কেল থাকে। স্টাইলাসে চাপ পড়লে ঘড়ির কাটার মত একটি বড় কাটা ঘুড়তে থাকে। এই কাটা বা পয়েন্টারের অবস্থান দেখে স্কেল থেকে পাঠ নেওয়া হয়।

ডায়াল ইন্ডিকেটর ইঞ্চি ও মিলিমিটার উভয় প্রকারের হয়ে থাকে। ইঞ্চি ইন্ডিকেটর দ্বারা এক ইঞ্চির এক হাজার ভাগের এক ভাগ অর্থাৎ ০.০০১ ইঞ্চি এমনকি কোন কোন ইঞ্চি ডায়াল ইন্ডিকেটর দ্বারা দশ হাজার ভাগের এক ভাগ অর্থাৎ ০.০০০১ ইঞ্চি এবং মিলিমিটার ডায়াল ইন্ডিকেটরের সাহায্যে এক মিলিমিটারের এক হাজার ভাগের এক ভাগ অর্থাৎ ০.০০১ মিলিমিটার মাপের তারতম্য জানা যায়।



চিত্র-৬.১ঃ ডায়াল ইন্ডিকেটর

৬.২ ডায়াল ইন্ডিকেটরের বিভিন্ন অংশ :



চিত্র-৬.২ঃ ডায়াল ইন্ডিকেটরের বিভিন্ন অংশ

নিম্নে ডায়াল ইন্ডিকেটরের বিভিন্ন অংশের নাম উল্লেখ করা হলো-

- ১) টুল পোস্ট (Tool Post)
- ২) টুল মাউন্টিং হোল্ডার (Tool Mounting Holder)
- ৩) ম্যাগনেটিক টুল হোল্ডার (Magnetic Tool Holder)
- ৪) স্পিন্ডল (Spindle)
- ৫) ডায়াল (Dial)
- ৬) বেজেল (Bezel)
- ৭) ইন্ডিকেটর পয়েন্টারস (Indicator Pointers)
 - (ক) বড় পয়েন্টার (Long Hand)
 - (খ) ছোট পয়েন্টার (Short Hand)
- ৮) কনটাক্ট পয়েন্ট/সেনসর বাটন (Contact Point/Sensor Button)
- ৯) গেজ হেড (Gauge Head)
- ১০) স্টেম (Stem)
- ১১) স্কেল মার্ক প্লেট (Scale Mark Plate)
- ১২) আউটার ফ্রেম (Outer Frame)
- ১৩) লিমিটার (Limiter)
- ১৪) ক্যাপ (Cap)

৬.৩ ডায়াল ইন্ডিকেটর দিয়ে পরিমাপ গ্রহণ পদ্ধতি :

ডায়াল ইন্ডিকেটরের ডায়ালের উপর '০' (শূন্য) চিহ্নিত রেখাটি মধ্যস্থানে হতে ডান ও বাম দিকে সমান ২৫টি ভাগ থাকে। বাম দিকের ভাগগুলি কনটাক্ট পয়েন্ট নিচে নামার উচ্চতা নির্দেশ করে এবং ডানদিকের ভাগগুলি কনটাক্ট পয়েন্ট উপরে উঠার অর্থাৎ বেশি মাপকে বোঝানোর জন্য ব্যবহৃত হয়। সেই জন্য ডায়ালের বামদিকে বিয়োগ (-) চিহ্ন এবং ডানদিকে যোগ (+) চিহ্ন থাকে।

৬.৪ ডায়াল ইন্ডিকেটরের ব্যবহারিক ক্ষেত্র :

ডায়াল ইন্ডিকেটরকে সাধারণত নিম্ন লিখিত কাজে ব্যবহার করা হয়। যথা-

- ১) কোন বস্তুর সমতলতা পরীক্ষা করার জন্য ব্যবহার করা হয়।
- ২) সমতল বস্তু আনুভূমিক অবস্থায় আছে কিনা তা পরীক্ষা করা যায়।
- ৩) লেদ মেশিনের হেড স্টক এবং টেইল স্টক একই অক্ষে আছে কিনা তা পরীক্ষা করা যায়।
- ৪) বুশ, বিয়ারিং বা অন্য কোন যন্ত্রাংশের বাহিরের তলের বিকেন্দ্রিকতা পরীক্ষা করা যায়।
- ৫) শ্যাফটের বিকেন্দ্রিকতা পরীক্ষা করার জন্য ব্যবহার হয়।
- ৬) ফোর-'জ' বিশিষ্ট লেদ চাকে জবকে বিকেন্দ্রিকতা দূর করে বাঁধার জন্য ব্যবহার করা হয়।

৬.৫ ডায়াল ইন্ডিকেটরের যত্ন ও রক্ষণাবেক্ষণ :

- ১) ডায়াল ইন্ডিকেটর অতিসূক্ষ্ম পরীক্ষণ যন্ত্র বিধায় সকল প্রকার আঘাত হতে মুক্ত রাখতে হবে।
- ২) স্পিন্ডল বা স্টাইলাসটিকে ব্যবহারের আগে ও পরে চাপমুক্ত অবস্থায় রাখতে হবে।
- ৩) খোলা জায়গায় বা ময়লাযুক্ত স্থানে ডায়াল ইন্ডিকেটর রাখা নিষেধ।
- ৪) ব্যবহারের পূর্বে ডায়াল ইন্ডিকেটরের চৌম্বক ভিত (Magnetic Base)-এর তল পরিষ্কার কাপড় দিয়ে ভালো করে মুছে নিতে হবে।

৫) কাজ শেষে পরিষ্কার করে আবার নির্দিষ্ট আধার বা বাক্সের মধ্যে রেখে দিতে হবে।

৬.৬ ডায়াল ইন্ডিকেটরের সাহায্যে সারফেস রাফনেস নির্ণয় করার পদ্ধতি :

প্রথমে যে ওয়ার্কপিস বা বস্তুর তলের মসৃণতা বা সারফেস রাফনেস পরীক্ষা করা হবে সেটিকে একটি সমতল ওয়ার্কবেঞ্চে উপর রক্ষিত সারফেস প্লেটের উপর স্থাপন করতে হবে। তারপর একটি ডায়াল ইন্ডিকেটরকে ভালোভাবে পরিষ্কার করে স্ট্যান্ডের সাথে ক্লাম্পের সাহায্যে আটকাতে হবে। ডায়াল ইন্ডিকেটরের স্ট্যান্ডসহ ম্যাগনেটিক বেইসকে সারফেস প্লেটের উপর স্থাপন করতে হবে। এখন ডায়াল ইন্ডিকেটরের কন্টাক্ট পয়েন্টটিকে স্পর্শ করে কিছুটা চাপ প্রয়োগ করতে হবে যাতে করে ডায়ালের পয়েন্টার '০' দাগ বরাবর থাকে এবং এমন অবস্থায় ক্লাম্প-কে টাইট দিয়ে নিতে হবে। এখন ডায়াল ইন্ডিকেটরের বেইসটিকে আস্তে আস্তে সারফেস প্লেটের উপর এমনভাবে নাড়াতে হবে যাতে ওয়ার্কপিসের উপরিতলের সবদিকে কন্টাক্ট পয়েন্টটি চলাচল করে। ওয়ার্কপিসের তলের উপর দিয়ে ডায়াল ইন্ডিকেটরের নড়াচড়ার সময় যদি ডায়ালের পয়েন্টার একই অবস্থানে থাকে তবে বুঝতে হবে যে ওয়ার্কপিসের তলটি যথাযথ সমতল। কিন্তু যদি ডায়ালের পয়েন্টার পজিটিভ বা নিগেটিভের দিকে সরে আসে তবে বুঝতে হবে যে, ওয়ার্কপিসের উপরিতল উঁচু নিচু আছে।

প্রশ্নমালা-৬

অতি সংক্ষিপ্ত প্রশ্ন :

১. ডায়াল ইন্ডিকেটর কী ধরনের যন্ত্র?
২. ডায়াল ইন্ডিকেটরের প্রধান কয়টি অংশ আছে।
৩. ডায়াল ইন্ডিকেটরের বেইসটি চৌম্বকীয় করা থাকে কেন ?
৪. ডায়াল ইন্ডিকেটরের কাটা '০' দাগ থেকে বাম দিকে ঘুরে গেলে মাপ পজিটিভ না নেগেটিভ হয় ?

সংক্ষিপ্ত প্রশ্নঃ

১. ডায়াল ইন্ডিকেটর বলতে কী বোঝায় ?
২. ডায়াল ইন্ডিকেটরের ব্যবহারিক ক্ষেত্র উল্লেখ কর।
৩. ডায়াল ইন্ডিকেটরের বিভিন্ন অংশগুলোর বর্ণনা দাও।

রচনামূলক প্রশ্নঃ

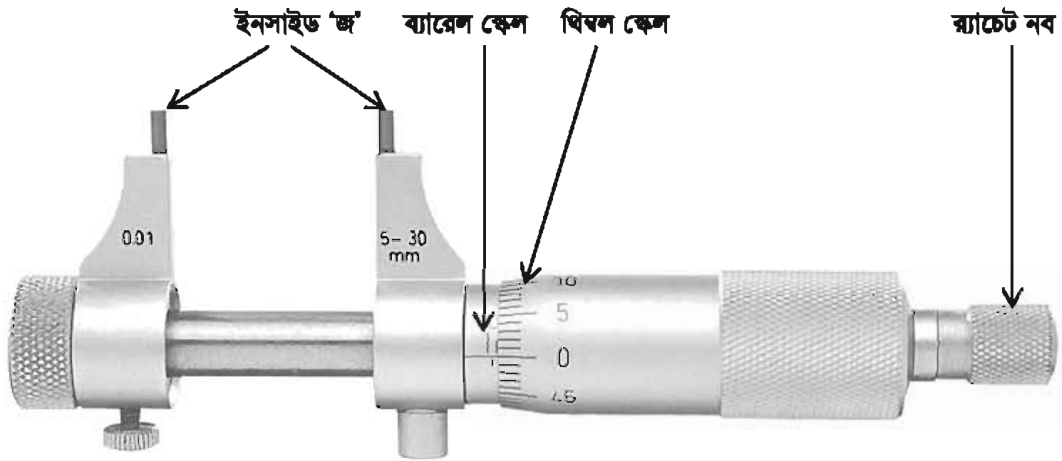
১. ডায়াল ইন্ডিকেটর বলতে কী বোঝায় ? এর ব্যবহারিক ক্ষেত্র বর্ণনা কর।
২. ডায়াল ইন্ডিকেটরের বিভিন্ন অংশের বর্ণনাসহ পরিমাপ গ্রহণ পদ্ধতি বর্ণনা কর।
৩. ডায়াল ইন্ডিকেটরের যন্ত্র ও রক্ষণাবেক্ষণ পদ্ধতি ব্যাখ্যা কর।

অধ্যায়-৭

ইনসাইড মাইক্রোমিটার (Inside Micrometer)

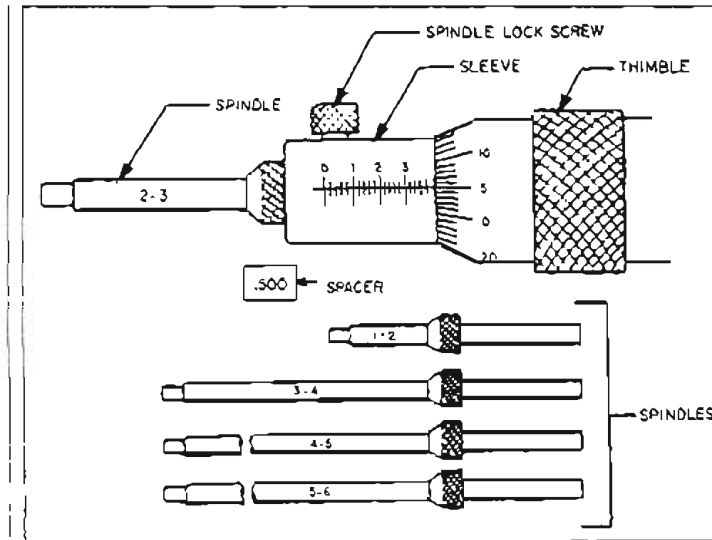
৭.১ ইনসাইড মাইক্রোমিটারের পরিচিতি :

যে মাইক্রোমিটার দ্বারা কোন কার্যবস্তু বা ওয়াকপিসের কোন ছিদ্রের গভীরতা, কোন গ্রভের গভীরতা ও পুরুত্ব, ফাঁপা সিলিন্ডারের আন্তঃরীপ ব্যাস ও গভীরতা সুস্বভাবে পরিমাপ করতে পারে তাকে ইনসাইড মাইক্রোমিটার বলে।



চিত্র-৭.১৪ ইনসাইড মাইক্রোমিটার

৭.২ ইনসাইড মাইক্রোমিটারের বিভিন্ন অংশের নাম :



চিত্র-৭.২ঃ একটি রড টাইপ ইনসাইড মাইক্রোমিটারের বিভিন্ন অংশ

নিম্নে ইনসাইড মাইক্রোমিটারের বিভিন্ন অংশের নাম দেওয়া হলো-

১. থিম্বল (Thimble)
২. ব্যারেল (Barrel/Sleeve)
৩. স্পিন্ডল লক স্ক্রু (Spindle Lock Screw)
৪. এক্সটেনশন রড/স্পিন্ডল (Extension Rods/Spindles)
৫. ইনসাইড 'জ'স (Inside Jaws)
৬. ব্যারেল স্কেল (Barrel Scale)
৭. থিম্বল স্কেল (Thimble Scale)
৮. র্যাচেট নব (Ratchet Knob)

৭.৩ ইনসাইড মাইক্রোমিটারের বিভিন্ন অংশের গঠন ও কার্যাবলী :

ইনসাইড মাইক্রোমিটারের গঠন রীতি আউট সাইড মাইক্রোমিটারের চেয়ে একটু ভিন্ন ধরনের হয়ে থাকে। সাধারণত ইনসাইড মাইক্রোমিটারের একটি মূল বডিসহ কতকগুলো বর্ধিত দণ্ড দ্বারা একটি সেট আকারে থাকে। এটি ক্রোম ইস্পাত দ্বারা তৈরি হয়ে থাকে। আউটসাইড মাইক্রোমিটারের মত থিম্বল স্কেল ও ব্যারেল স্কেল আছে। $\frac{1}{2}$ ইঞ্চি হেডের স্কেলের উপর ২০ টি দাগ ও এক ইঞ্চি মাথার ব্যারেলের উপর ৪০ টি দাগ কাটা থাকে। আন্তর্জাতিক মাপ নেওয়ার জন্য এটির মাথায় দুইটি অ্যানভিল লাগানো থাকে। কোনো বস্তুর মাপ অর্থাৎ দুইটি স্কেলের অন্তর্বর্তী দূরত্ব মাপ গ্রহণ ও পরীক্ষা ও নিরীক্ষা করতে ইনসাইড মাইক্রোমিটার ব্যবহৃত হয়। ইনসাইড মাইক্রোমিটারের পরিমাপ পদ্ধতি আউট সাইড মাইক্রোমিটারের পরিমাপ পদ্ধতির অনুরূপ।

৭.৪ ইনসাইড মাইক্রোমিটারের প্রকারভেদ :

সাধারণত ইনসাইড মাইক্রোমিটার তিন প্রকারের হয়ে থাকে। যথা-

- (১) ক্যালিপার টাইপ ইনসাইড মাইক্রোমিটার।
- (২) সিস্টেম পয়েন্ট রড টাইপ ইনসাইড মাইক্রোমিটার।
- (৩) প্রি-পয়েন্ট রড টাইপ ইনসাইড মাইক্রোমিটার।



চিত্র-৭.৩৪ ক্যালিপার টাইপ ইনসাইড মাইক্রোমিটার (মেকানিক্যাল ও ডিজিটাল)



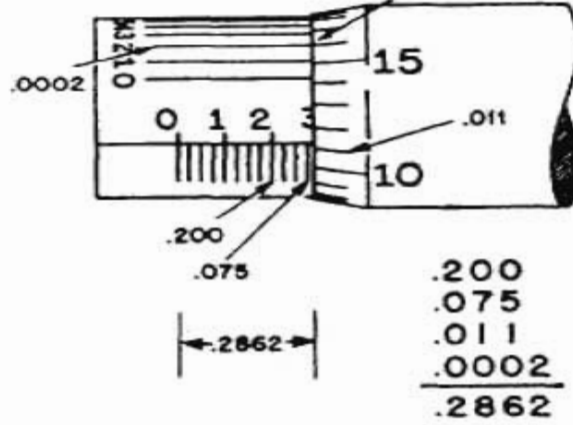
চিত্র-৭.৪ঃ সিলেক্স পয়েন্ট রড টাইপ ইনসাইড মাইক্রোমিটার



চিত্র-৭.৫ঃ থ্রি পয়েন্ট রড টাইপ ইনসাইড মাইক্রোমিটার

৭.৫ ইনসাইড মাইক্রোমিটারের সাহায্যে পরিমাপ গ্রহণ পদ্ধতি :

ইনসাইড মাইক্রোমিটারের পঠন আউটসাইড মাইক্রোমিটারের তুলনায় একটু ভিন্ন রকমের হয়ে থাকে। ব্যারেল স্কেলের এবং থিম্বল স্কেলের প্রান্তস্থিত দুইটি মুখের দূরত্ব দ্বারা ছিন্নের আন্তঃসীমিত ব্যাস, স্কেলের প্রাপ্ততা ইত্যাদি মাপ নেওয়া যায়। এটির ব্যারেলের প্রতিটি বিভাগ ইঞ্চিতে ০.০২৫ ইঞ্চি অর্থাৎ ১৩ মি.মি. স্কেলে ০.৫ মি.মি. অর্থাৎ দাঁপ কাটা থাকে। থিম্বলকে ঘুরালে ব্যারেলের সর্বাধিক ১/২ ইঞ্চি স্থান বা ১৩ মি.মি. স্থান সরে থাকে। ইনসাইড মাইক্রোমিটারের থিম্বল "০" চিহ্নিত রেখাটি যখন ব্যারেলের "০" চিহ্নিত রেখাটির সাথে মিলে যায়, তখন ব্যারেল ও থিম্বলের প্রান্তস্থিত দুইটি মুখের দূরত্ব মাপ ইঞ্চি অর্থাৎ ২ ইঞ্চি এবং মিলিমিটার অর্থাৎ ৫০ মি.মি. হয়। ফলে ইনসাইড মাইক্রোমিটার দ্বারা ২ ইঞ্চি বা ৫০ মি.মি. এর কম ছিন্ন বা নালীর মাপ পাওয়া সম্ভব নয়। অতএব, এর দ্বারা ২ ইঞ্চি হইতে ২ ১/২ ইঞ্চি এবং মিলিমিটারে ৫০ মি.মি. হইতে ৬৩ মি.মি. পর্যন্ত মাপ পাওয়া যায়। এর বেশি মাপ লইতে কয়েকটি অংশ প্রয়োজন মত যোগ করে মাপ নেওয়া যায়। এছাড়া "এক্সটেনশন রড" গুলি প্রয়োজন মত যোগ করে আরও বড় মাপ নেওয়া যায়।



চিত্র-৭.৬৪ ইনসাইড মাইক্রোমিটারের পাঠ গ্রহণ।

৭.৬ ইনসাইড মাইক্রোমিটার-এর বন্ধ ও রক্ষণাবেক্ষণঃ

ইনসাইড মাইক্রোমিটার অতি সূক্ষ্ম মাপ যন্ত্র। ইহা ব্যবহার করার সময় বথেষ্ট সতর্কতা এবং যত্ন নেওয়া প্রয়োজন। ইনসাইড মাইক্রোমিটার টি পরিষ্কার করে ঠিক আছে কিনা তা দেখে নেওয়া দরকার। ব্যবহারের সময় যেন কোন আঘাত প্রাপ্ত না হয় এবং ব্যবহারের পর পরিষ্কার করে নির্দিষ্ট স্থানে রেখে দিতে হয়। ক্যালিপার টাইপ ইনসাইড মাইক্রোমিটার এর 'জ' জলোতে বাতে কোন আঘাত না লাগে সেদিকে খেয়াল রাখতে হবে। রড টাইপ ইনসাইড মাইক্রোমিটার এর রড-সেন্টার প্রক্তিটি রডকে কাজ শেষে পরিষ্কার করে রাখতে হবে। রডগুলোকে একটি প্যাকেটের মধ্যে ভালোভাবে রাখতে হবে যেন কোন আঘাত লেগে পরিমাপের সূক্ষতা নষ্ট হয় না।

প্রশ্নমালা-৭

অতি সংক্ষিপ্ত প্রশ্ন :

১. ইনসাইড মাইক্রোমিটার বলতে কী বোঝায় ?
২. ইনসাইড মাইক্রোমিটার কত প্রকার ?
৩. ইনসাইড মাইক্রোমিটার কী কাজে ব্যবহার করা হয় ?

সংক্ষিপ্ত প্রশ্ন :

১. ইনসাইড মাইক্রোমিটারের বিভিন্ন অংশের নাম লেখ।
২. ইনসাইড মাইক্রোমিটারের বন্ধ ও রক্ষণাবেক্ষণ পদ্ধতি বর্ণনা কর।
৩. ইনসাইড মাইক্রোমিটার কত প্রকার ও কী কী ?

রচনামূলক প্রশ্ন :

১. ইনসাইড মাইক্রোমিটারের বিভিন্ন অংশের গঠন ও কার্যাবলী বর্ণনা কর।
২. ইনসাইড মাইক্রোমিটারের সাহায্যে পরিমাপ পদ্ধতি বর্ণনা কর।

অধ্যায়-৮

কম্বিনেশন সেট (Combination Set)

৮.১ কম্বিনেশন সেট :

ওয়ার্কশপে এটা অত্যন্ত প্রয়োজনীয় ও সুবিধাজনক বহুমুখী অংশ যন্ত্র। এর মধ্যে পাঁচটি প্রধান অংশ আছে। প্রয়োজন বোধে স্বতন্ত্র বা দুইটি অংশকে সংযোগ করে কাজ করা যায়।

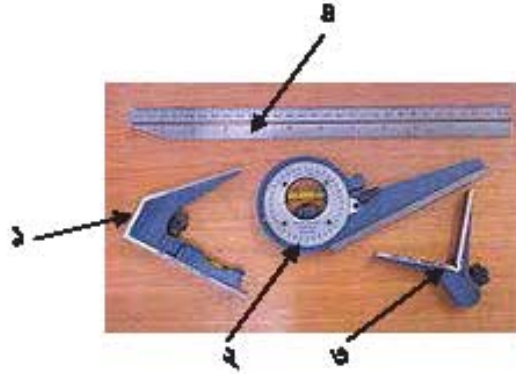


চিত্র-৮.১ঃ কম্বিনেশন সেট

৮.২ কম্বিনেশন সেটের বিভিন্ন অংশের নাম।

নিম্নে কম্বিনেশন সেট-এর বিভিন্ন অংশের নাম দেওয়া হলো-

- ১) স্কয়ার হেড (Square head)
- ২) প্রোট্রাকটর হেড (Protractor head)
- ৩) সেন্টার হেড (Centre head)
- ৪) রুল বা ব্লেড (Rule or Blade)
- ৫) স্কাইবার (Scriber)



চিত্র-৮.২ঃ কম্বিনেশন সেটের বিভিন্ন অংশ

৮.৩ কম্বিনেশন সেটের বিভিন্ন অংশের কার্যাবলী :

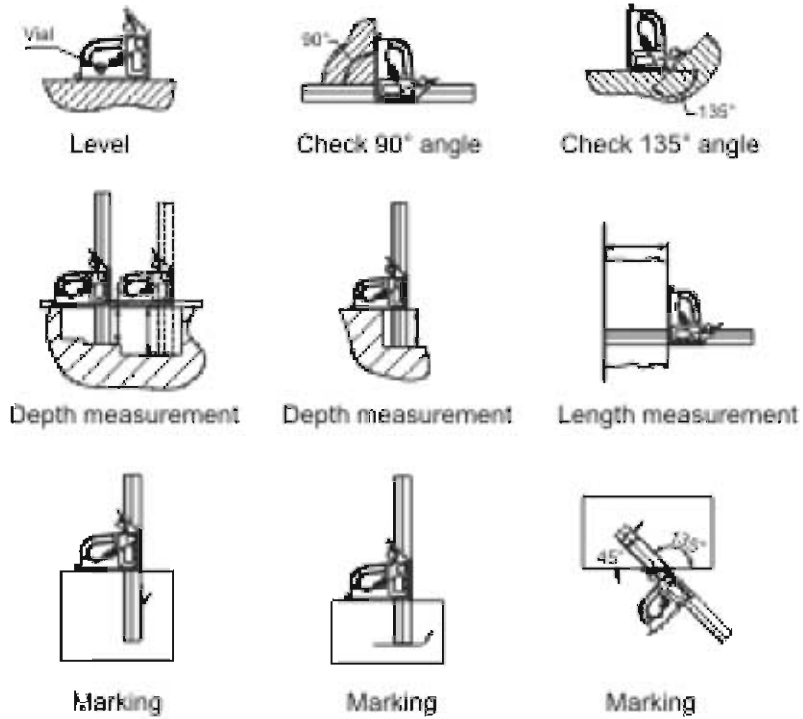
স্কয়ার হেড- ইয়াকে রুলের সাথে সংযোগ করে যে কোন অবস্থায় উহার স্কু ও নাটের সাহায্যে আবদ্ধ করে ব্যবহার করা হয়। এর দ্বারা সমকোণ, সরাসরের কর্ণাকার, ত্রৈকোণাকার ও সমতলতা পরীক্ষা করা যায়।

প্রোট্রাকটর হেড- ইহা সঠিক ভাবে যে কোন আকারের কোণ নির্ণয় করা যায়। টেম্পার কন্ড ডিগ্রি আছে, তা সহজে বের করা যায়।

সেন্টার হেড- ইহার সাহায্যে অতি সহজে গোলাকার সমতলের উপর কেন্দ্র নির্ণয় করা যায়।

রুল বা ব্লেড- ইহা উচ্চমানের ইস্পাত দ্বারা তৈরি। ইহা লম্বায় ১২ ইঞ্চি। উভয় পার্শ্বে ইঞ্চিতে ও মেট্রিক পদ্ধতিতে মাপার জন্য দাগ কাটা থাকে। এর দ্বারা যন্ত্রাংশের আকার মাপা যায়। ইহার পৃষ্ঠে মাঝামাঝি লম্বালম্বি খাঁজ কাটা থাকে যার মধ্য দিয়ে সেটের অন্যান্য অংশগুলি আবদ্ধ করে কাজ করা যায়।

স্কাইবার- এর সাহায্যে রেখা অঙ্কন করা যায়। লম্বায় ২ হইতে ২½ ইঞ্চি হয়। ইহা স্কয়ার হেডের ছিদ্রের মধ্যে আটকে রাখা হয়।



চিত্র-৮.৩ঃ কষিনেশন সেটের বিভিন্ন ব্যবহার

৮.৪ কষিনেশন সেটের যত্ন ও রক্ষণাবেক্ষণ :

- ১) ব্যবহারের সময় অপরিষ্কার ও অপরিচ্ছন্ন স্থানে রেখে কাজ করা যাবে না।
- ২) ব্যবহারের সময় পরিষ্কার নরম কাপড় দিয়ে ভালোভাবে পরিষ্কার করে নিবে।
- ৩) কাজ করার সময় অন্যান্য যন্ত্রের সঙ্গে না রেখে আলাদা ভাবে বিশেষ যত্ন সহকারে রাখবে।
- ৪) ব্যবহারের পর যাতে কোন অংশে মরিচা না পড়ে বা চলনশীল অংশে যাতে সহজে ময়লা না পড়ে, তাই বিভিন্ন অংশে মসৃণ কারক তৈল দিয়ে রাখতে হবে।
- ৫) ব্যবহারের পর উহাকে নির্দিষ্ট বাক্সে নিরাপদে রাখতে হবে।

প্রশ্নমালা-৮

অতিসংক্ষিপ্ত প্রশ্ন :

১. কম্বিনেশন সেট বলতে কী বোঝ?
২. কম্বিনেশন সেট-এর বিভিন্ন অংশের নাম উল্লেখ কর।
৩. কম্বিনেশন সেট-এ স্কয়ার হেড এর কাজ কী ?
৪. কম্বিনেশন সেট-এ প্রোট্রাকটর হেড এর কাজ কী ?
৫. কম্বিনেশন সেট-এ সেন্টার হেড এর কাজ কী ?
৬. কম্বিনেশন সেট-এ ব্লেন্ড বা রুলের কাজ কী ?

সংক্ষিপ্ত প্রশ্ন :

১. কম্বিনেশন সেট বলতে কী বোঝায় ?
২. কম্বিনেশন সেট-এর বিভিন্ন অংশের ব্যবহার লেখ।
৩. কম্বিনেশন সেটের কয়টি অংশ ও কী কী ?

রচনামূলক প্রশ্ন :

১. কম্বিনেশন সেট বলতে কী বোঝায় ? কম্বিনেশন সেটের কয়টি অংশ ও কী কী ? প্রতিটি অংশের বর্ণনা দাও
২. কম্বিনেশন সেটের কয়টি অংশ ও কী কী ? প্রতিটি অংশের কার্যাবলী সংক্ষেপে বর্ণনা কর।
৩. কম্বিনেশন সেট- এর যত্ন ও রক্ষণাবেক্ষণ বিষয়াদি বর্ণনা কর।

অধ্যায়-৯

ডেপথ মাইক্রোমিটার (Depth Micrometer)

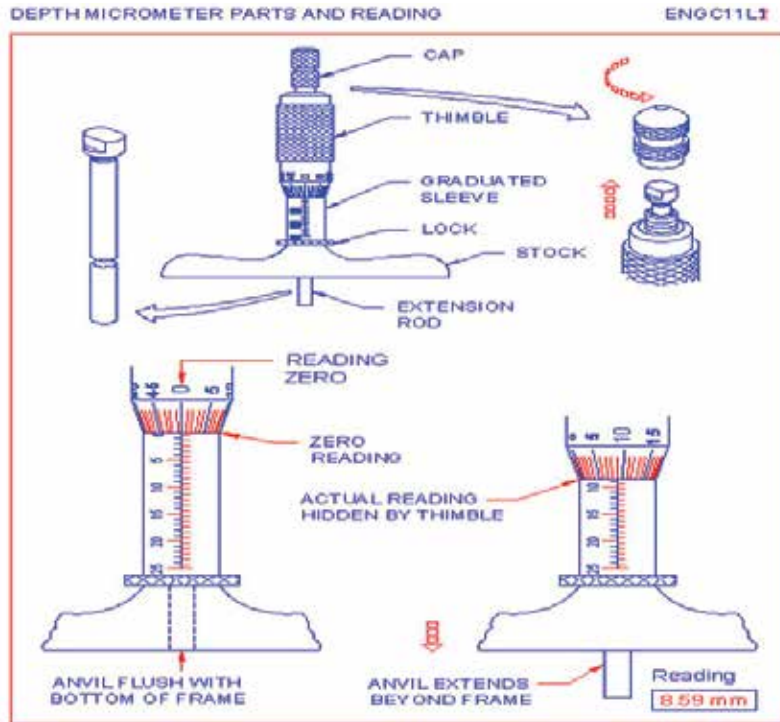
৯.১ ডেপথ মাইক্রোমিটার পরিচিতি :

যে মাইক্রোমিটার দ্বারা সূক্ষ্মভাবে এক হাজার ভাগের একভাগ পর্যন্ত কোন যন্ত্রাংশের গভীরতা, ছিদ্র ও ঘাটের গভীরতা মাপা যায়, তাহাকে ডেপথ মাইক্রোমিটার বলে।



চিত্র-৯.১ঃ ডেপথ মাইক্রোমিটার

৯.২ ডেপথ মাইক্রোমিটারের বিভিন্ন অংশের নাম :



চিত্র-৯.২ঃ ডেপথ মাইক্রোমিটারের বিভিন্ন অংশ ও পাঠ গ্রহণ পদ্ধতি।

ফর্মা-২৯, মেশিন টুলস অপারেশন-১, ৯ম-১০ম শ্রেণি

ডেপথ মাইক্রোমিটারের বিভিন্ন অংশসমূহের নাম নিম্নে দেওয়া হলো-

- ১) বেইস বা স্টক (Base or Stock)
- ২) থিম্বল (Thimble)
- ৩) ব্যারেল (Barrel)
- ৪) এক্সটেনশন রড (Extension rod)
- ৫) র্যাচেট স্টপ (Ratchet stop)

৯.৩ ডেপথ মাইক্রোমিটারের বিভিন্ন অংশের গঠন ও কার্যাবলি :

বেইস (Base) : ইহা বস্তুর উপর স্থাপন করে ছিদ্রের বা নালীর গভীরতা মাপ করতে ব্যবহার হয়।

থিম্বল (Thimble) : ইহা ফাঁপা সিলিন্ডার যার এক প্রান্ত ঢালু এবং সার্কুলার স্কেল যুক্ত।

ব্যারেল (Barrel) : ইহা একটা টিউবের মত যার অভ্যন্তরে ইন্টারনাল থ্রেড যুক্ত এবং বাহিরের গোলাকার তলে স্কেল খচিত থাকে।

এক্সটেনশন রড (Extension rod) : ইহা থিম্বলের সঙ্গে যুক্ত করে গভীরতা মাপ নিতে ব্যবহার করা হয়।

৯.৪ ডেপথ মাইক্রোমিটার-এর সাহায্যে পরিমাপ গ্রহণ পদ্ধতি :

ইনসাইড মাইক্রোমিটারের মত থিম্বল ও ব্যারেল আছে। শুধু ব্যারেলের দাগের উপর যে সংখ্যা লেখা থাকে, তা অন্যান্য মাইক্রোমিটারের তুলনায় বিপরীত দিক থেকে অর্থাৎ উপর হতে সংখ্যাগুলি লেখা থাকে। কারণ থিম্বলকে যতই সামনের দিকে ঘুরান হয়, ততই মাপের গভীরতা বাড়তে থাকে এবং গণনা থেকে করা হয়। এই মাইক্রোমিটারে কতগুলি বর্ধিত আকারের দণ্ড ব্যবহার করা হয়। এই সব দণ্ড ডেপথ মাইক্রোমিটারের পিছনের দিকে র্যাচেট যুক্ত ক্যাপকে খুলিয়া লাগান হয়। ইহা ব্যবহারের সময় বেসের উপর বাম হাতের আঙ্গুল দ্বারা হাল্কা চাপ প্রয়োগ করিয়া ডান হাতে থিম্বলকে ঘুরাতে হয়।



চিত্র-৯.৩ঃ ডেপথ মাইক্রোমিটারের সাহায্যে পরিমাপ গ্রহণ পদ্ধতি (১)

এই মাইক্রোমিটারের আকারের পরিমাপ (Range) হিসেবে বিভিন্ন লম্বা দণ্ড দেওয়া থাকে। যেমন- ০-৩ আকারের ডেপথ মাইক্রোমিটারের তিনটি রড, ০-৬ ইঞ্চিতে ছয়টি রড এবং ০-৯ ইঞ্চিতে নয়টি দণ্ড থাকে। প্রত্যেকটি দণ্ড নিজস্ব লম্বা আকারের সাথে অধিক ২ ইঞ্চি লম্বা থাকে, তা শুধু বিষয়ের স্তিতরে থাকার জন্য। এই দণ্ডগুলি ক্রোম ইস্পাত সুগার ফিনিশিং করিয়া তৈরি করা হয়। ডেপথ মাইক্রোমিটারের সাহায্যে এক ইঞ্চির এক হাজার ভাগের এক ভাগ মাপা যায়।



চিত্র-৯.৪: ডেপথ মাইক্রোমিটারের সাহায্যে পরিমাপ গ্রহণ পদ্ধতি (২)।

৯.৫ ডেপথ মাইক্রোমিটারের যত্ন ও রক্ষণাবেক্ষণ :

ডেপথ মাইক্রোমিটার একটি সুন্দর যন্ত্র। ইহা খুব সাবধানে ও যত্ন সহকারে ব্যবহার করবে। ব্যবহার করার পূর্বে ইহাকে ভালোভাবে পরিষ্কার করে নিবে। ডেপথ মাইক্রোমিটারের কোন অংশে যাতে মরিচা না পড়ে তার জন্য স্তিতরে তু শ্বেড এবং এন্টার্টেনশন রড কিছু দিন পর পর মসৃণ কারক তৈল দিতে হবে। কাজ শেষে নির্দিষ্ট স্থানে অর্থাৎ তার জন্য নির্ধারিত বাক্সে রাখতে হবে।

প্রশ্নমালা-৯

অতিসংক্ষিপ্ত প্রশ্ন :

১. ডেপথ মাইক্রোমিটার বলতে কী বোঝায় ?
২. ডেপথ মাইক্রোমিটারের বিভিন্ন অংশের নাম লেখ।
৩. ডেপথ মাইক্রোমিটার-এর বিবরণ উল্লেখ কর।
৪. ডেপথ মাইক্রোমিটার-এ বেইস এর কাজ কী ?
৫. ডেপথ মাইক্রোমিটার-এ থিম্বল এর কাজ কী ?
৬. ডেপথ মাইক্রোমিটার-এ ব্যারেল এর কাজ কী ?
৭. ডেপথ মাইক্রোমিটার-এ এক্সটেনশন রড এর কাজ কী ?

সংক্ষিপ্ত প্রশ্ন :

১. ডেপথ মাইক্রোমিটার বলতে কী বোঝায় ? ডেপথ মাইক্রোমিটারের বিভিন্ন অংশের নাম লেখ।
২. ডেপথ মাইক্রোমিটারের বিভিন্ন অংশের বর্ণনা দাও।
৩. ডেপথ মাইক্রোমিটার-এ বেইস ও ব্যারেল এর কাজ কী ?
৪. ডেপথ মাইক্রোমিটার-এ থিম্বল ও এক্সটেনশন রড এর কাজ কী ?
৫. ডেপথ মাইক্রোমিটার কেন ব্যবহার করা হয় সংক্ষেপে লেখ।

রচনামূলক প্রশ্ন :

১. ডেপথ মাইক্রোমিটার বলতে কী বোঝায় ? ডেপথ মাইক্রোমিটারের বিভিন্ন অংশের বর্ণনা দাও।
২. ডেপথ মাইক্রোমিটারের বিভিন্ন অংশের গঠন ও কার্যাবলী বর্ণনা কর।
৩. ডেপথ মাইক্রোমিটার-এর সাহায্যে পরিমাপ গ্রহণ পদ্ধতি বর্ণনা কর।
৪. ডেপথ মাইক্রোমিটারের যত্ন ও রক্ষণাবেক্ষণ পদ্ধতি বর্ণনা কর।

অধ্যায়-১০

ভার্নিয়ার বিভেল প্রোট্রাক্টর (Vernier Bevel Protractor)

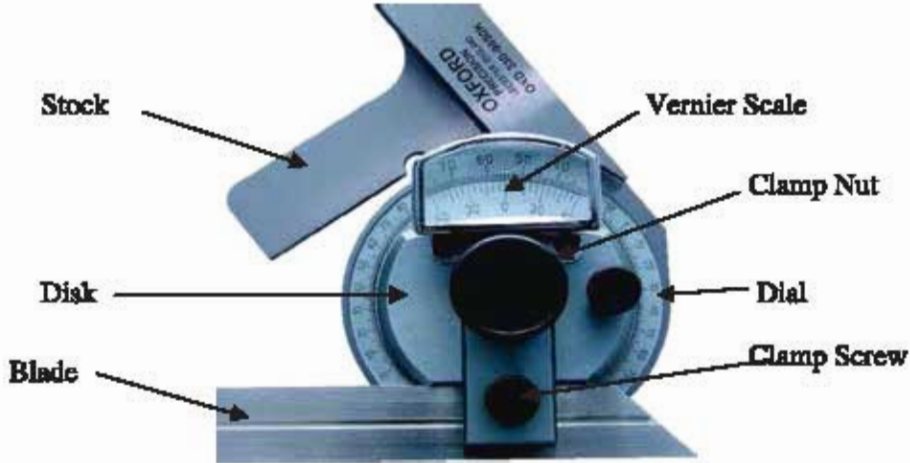
১০.১ ভার্নিয়ার বিভেল প্রোট্রাক্টর-এর পরিচিতি :

সাধারণ বিভেল প্রোট্রাক্টরের-এর সাহায্যে এক ডিগ্রির চেয়ে কম কোন কোণ পরিমাপ করা যায় না। কিন্তু ভার্নিয়ার বিভেল প্রোট্রাক্টর-এর সাহায্যে সাধারণত এক ডিগ্রির $1/12$ অংশ বা ৫ মিনিট কোণ পর্যন্ত পরিমাপ করা যায়। ইহাকে ইউনিভার্সেল বিভেল প্রোট্রাক্টরও বলা হয়। কৌণিক পরিমাপক যন্ত্রের মধ্যে এটি সূক্ষ্ম কোণ পরিমাপক যন্ত্র। ইহা অত্যন্ত মূল্যবান ও প্রয়োজনীয় যন্ত্র।

১০.২ ভার্নিয়ার বিভেল প্রোট্রাক্টর-এর বিভিন্ন অংশের নাম :

নিম্নে ভার্নিয়ার বিভেল প্রোট্রাক্টরের বিভিন্ন অংশের নাম দেওয়া হলো-

- ১) স্টক (Stock)
- ২) ডায়াল (Dial)
- ৩) ভার্নিয়ার স্কেল (Vernier Scale)
- ৪) ব্লেড (Blade)
- ৫) ডিস্ক (Disk)
- ৬) ক্ল্যাম্প নুট (Clamp Nut)
- ৭) ক্ল্যাম্প স্ক্রু (Clamp Screw)



চিত্র-১০.১ : ভার্নিয়ার বিভেল প্রোট্রাক্টরের বিভিন্ন অংশ

১০.৩ ভার্নিয়ার বিভেল প্রোট্রাক্টরের ভার্নিয়ার প্রবন্ধ নির্ণয় :

ভার্নিয়ার বিভেল প্রোট্রাক্টরের প্রধান স্কেলের দুই সরের মান এবং ভার্নিয়ার স্কেলের এক সরের মানের পার্থক্যকে ভার্নিয়ার বিভেল প্রোট্রাক্টরের ভার্নিয়ার প্রবন্ধ বা ভার্নিয়ার কনস্ট্যান্ট বলে।

অর্নিয়ার বিভেল প্রোট্রাক্টরের গঠন অনুযায়ী ডায়ালের প্রধান ফেলের যে ডিগ্রির বিভাগগুলো থাকে, তার ২৩টি বিভাগ অর্নিয়ার ফেলের পরিধিকে ১২টি বিভাগের স্থান দখল করে থাকে। অর্থাৎ প্রধান ফেলের ২৩ ঘর অর্নিয়ার ফেলের ১২ ঘরের সমান।

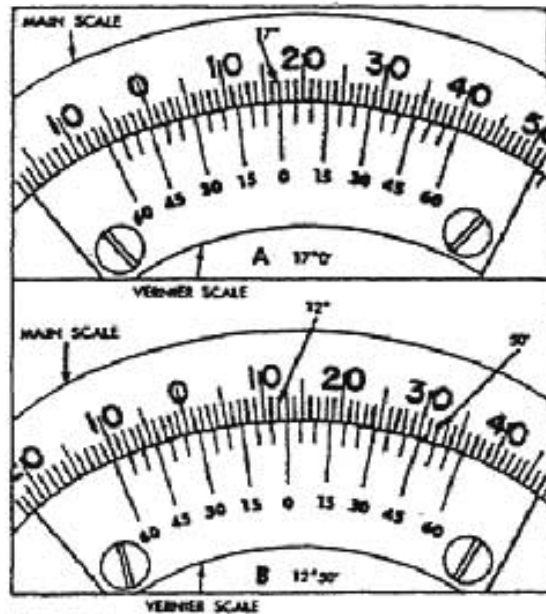
অর্নিয়ার ফেলের ১২ ঘর = প্রধান ফেলের ২৩ ঘর,

সুতরাং অর্নিয়ার ফেলের ১ ঘর = প্রধান ফেলের $23/12$ ঘর

তাই অর্নিয়ার ফেলের ১ অংশ = $(23/12)$ ডিগ্রি = $(23/12) \times 60$ মিনিট = ১১৫ মিনিট

অর্নিয়ার বিভেল প্রোট্রাক্টরের প্রধান ফেলের দুই বছের মাস ২ ডিগ্রি বা (2×60) মিনিট = ১২০ মিনিট

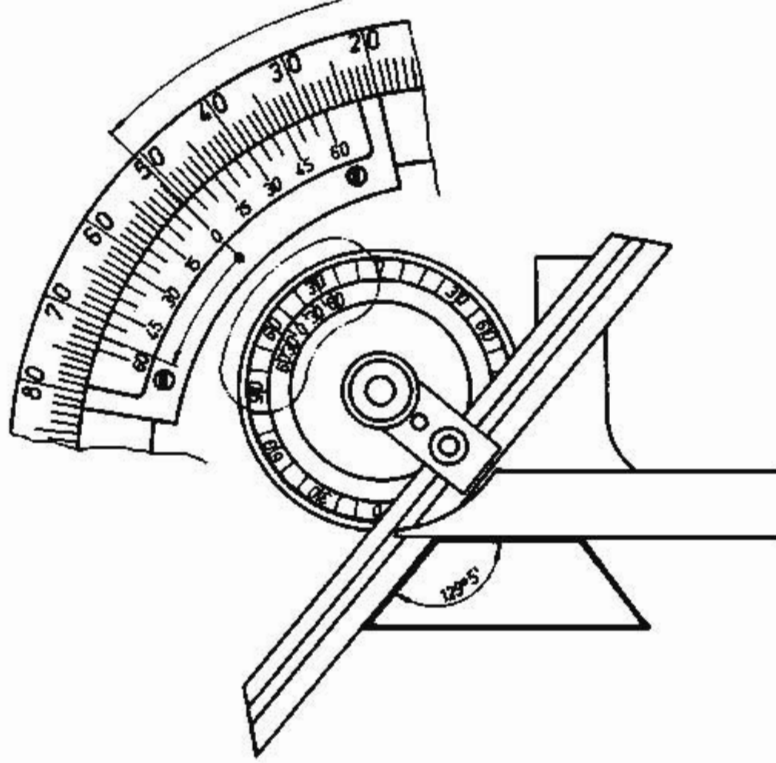
সুতরাং অর্নিয়ার ফেলের প্রম্বক = $(120 - 115)$ মিনিট = ৫ মিনিট।



চিত্র-১০.৩ : অর্নিয়ার বিভেল প্রোট্রাক্টরের প্রম্বক নির্ণয়।

১০.৪ অর্নিয়ার বিভেল প্রোট্রাক্টরের পরিমাপ পাঠ গ্রহণ পদ্ধতি :

কোনো কোণের মাপ নিতে হলে, প্রথমে উহার মাপ অনুমান করে ক্ল্যাম্প নাটিকে তিলা করে ব্রেডটি ডান বা বাম দিকে (কোণ ৯০° -এর বেশি হলে বামদিকে এবং ৯০° -এর কম হলে বাম দিকে) এমনভাবে ঘুরাবে যাতে ঐ কোণ ব্রেডের ডল এবং স্টকের বাম পার্শ্ব এই দুই-এর অন্তর্বর্তী স্থানে মোটামোটি এঁটে যায়। অর্নিয়ারের '০' ডিগ্রির রেখাটি ডায়ালের ৯০° রেখাটির বাম দিকে অথবা ডানদিকে কত সংখ্যক ডিগ্রি বিভাগ অতিক্রম করেছে। তার পর লক্ষ করা দরকার, অর্নিয়ারের কত সংখ্যক রেখার সাথে ডায়ালের বিভাগ করা টিহের সাথে মিলেছে, ঐ সংখ্যক বিভাগকে ৫ দ্বারা গুণ করলে যে গুণফল বাহির হয়, তাই 'অর্নিয়ার বিভেল প্রোট্রাক্টরের' নির্ণয় মাপ। সর্বদা মনে রাখবে '০' ডিগ্রির রেখাটি ডায়ালের ৯০° ডিগ্রির রেখার যে দিকের রেখাকে অতিক্রম করে অর্নিয়ারের ঐ দিকের রেখা দ্বারা মিনিট মাপ সূচিত করে।



চিত্র-১০.৪ : ভার্নিয়ার বিভেল প্রোট্রোক্তরের সাহায্যে পাঠ গ্রহণ।

১০.৫ ভার্নিয়ার বিভেল প্রোট্রোক্তরের ব্যবহার :

প্রোট্রোক্তরের সাথে বর্ধিত অংশ ডিঙ্ক নিয়ন্ত্রণশীল ডায়াল, যার পরিধির উপর দাগাঙ্কন করা থাকে। খাঁজ কাটা একটি ব্লড সংযোজন করা থাকে। ইহার দৈর্ঘ্য ৭ ও ১২ ইঞ্চি হয়ে থাকে। সাধারণত প্রোট্রোক্তরের এক পিঠ সমতল ও চ্যাপ্টা থাকে যার লে-আউট করিতে সুবিধা হয়। ডায়াল এবং ব্লড কে আলাদা ভাবে নিয়ন্ত্রণ করা যায় এবং নার্শিং করা থাম-নাট দ্বারা লকিং করা হয়। মাঝে মাঝে ডিঙ্কের বর্ধিত অংশকে ভার্নিয়ার হাইট গেজে সংযোজন করে কাজের সুবিধা মত ব্যবহার করা যায়। সূক্ষ্ম কোণ মাপার জন্য অপর একটি সংযোগ ব্লড দেওয়া থাকে। ইহার সাহায্যে সূক্ষ্ম ও স্থূল কোণ বিশিষ্ট যন্ত্রাংশ সূক্ষ্ম ও সঠিক ভাবে মাপা যায়।

১০.৬ ভার্নিয়ার বিভেল প্রোট্রোক্তরের যত্ন ও রক্ষণাবেক্ষণ :

- ১) নির্দিষ্ট বাক্স হতে নিয়ে কাজ করে পুনরায় নির্দিষ্ট বাক্সে রাখতে হবে।
- ২) ব্যবহারের পূর্বে এবং পরে ভালোভাবে পরিষ্কার করে নিবে।
- ৩) কাজ করার সময় ইহাকে খালি জায়গায় না রেখে পরিষ্কার কাপড় বা কাগজের উপর রাখতে হবে।
- ৪) খোলা অবস্থায় অন্যান্য যন্ত্রের সাথে রাখবে না।
- ৫) মরিচা বাতে না পড়ে, তার জন্য কটন ওয়েস্ট দিয়ে ভালোভাবে মুছে তৈলের পাতলা আবরণ দিয়ে রাখতে হবে।

প্রশ্নমালা-১০

অতি সংক্ষিপ্ত প্রশ্ন :

১. ভার্নিয়ার বিভেল থ্রেড্র্যাঙ্কটর বলতে কী বোঝ?
২. ভার্নিয়ার বিভেল থ্রেড্র্যাঙ্কটরের বিভিন্ন অংশের নাম লেখ।
৩. ভার্নিয়ার বিভেল থ্রেড্র্যাঙ্কটরের ধ্রুব কত ?

সংক্ষিপ্ত প্রশ্ন :

১. ভার্নিয়ার বিভেল থ্রেড্র্যাঙ্কটর বলতে কী বোঝায় ?
২. ভার্নিয়ার বিভেল থ্রেড্র্যাঙ্কটরের ধ্রুব নির্ণয় কর।
৩. ভার্নিয়ার বিভেল থ্রেড্র্যাঙ্কটরের পরিমাপ পাঠ গ্রহণ পদ্ধতি সংক্ষেপে লেখ।
৪. ভার্নিয়ার বিভেল থ্রেড্র্যাঙ্কটরের ব্যবহার লেখ।
৫. ভার্নিয়ার বিভেল থ্রেড্র্যাঙ্কটরের বিবরণ উল্লেখ কর।

রচনামূলক প্রশ্ন :

১. ভার্নিয়ার বিভেল থ্রেড্র্যাঙ্কটর বলতে কী বোঝায় ? ভার্নিয়ার বিভেল থ্রেড্র্যাঙ্কটরের ধ্রুবক নির্ণয় করার পদ্ধতি বর্ণনা কর।
২. ভার্নিয়ার বিভেল থ্রেড্র্যাঙ্কটরের যত্ন ও রক্ষণাবেক্ষণ পদ্ধতি বর্ণনা কর।
৩. ভার্নিয়ার বিভেল থ্রেড্র্যাঙ্কটরের পরিমাপ পাঠ গ্রহণ পদ্ধতি বর্ণনা কর।

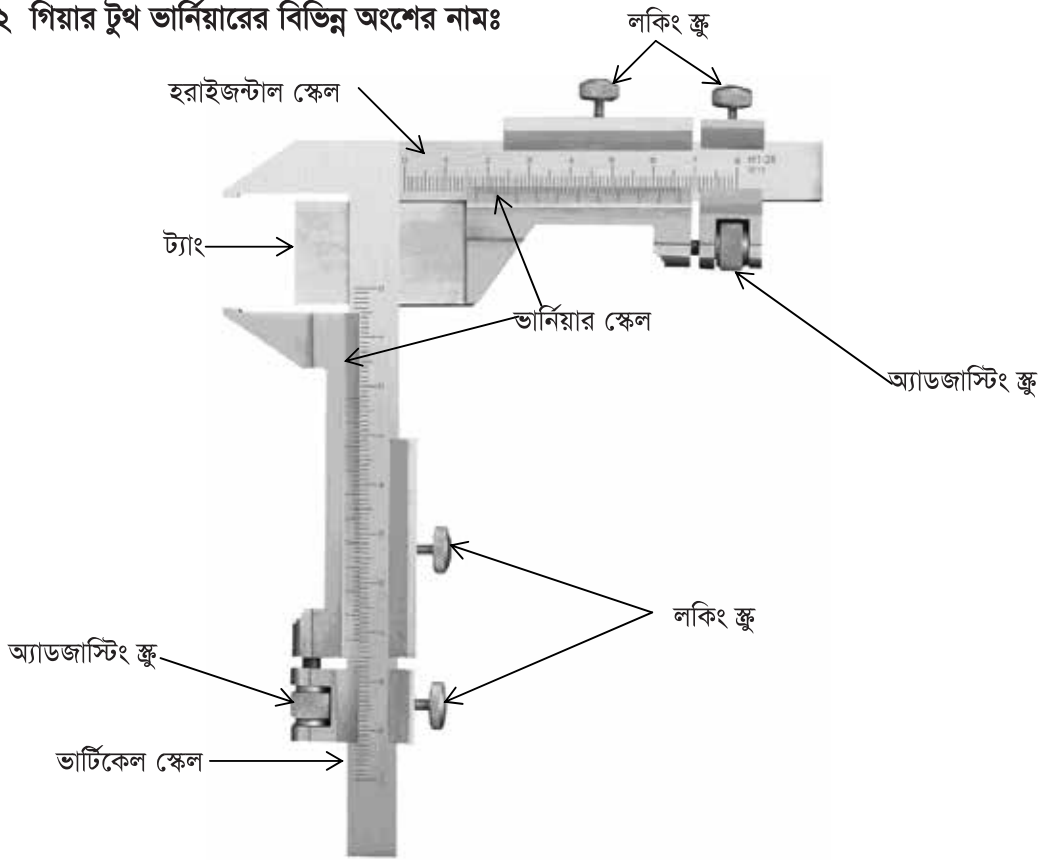
অধ্যায়-১১

গিয়ার টুথ ভার্নিয়ার ক্যালিপার (Gear Tooth Vernier Caliper)

১১.১ গিয়ার টুথ ভার্নিয়ার ক্যালিপার :

এর দ্বারা গিয়ারের দাঁতের পিচ-ডায়ামেটার বরাবর চওড়া বা কর্ডাল থিকনেস এবং দাঁতের উপর থেকে কর্ডাল থিকনেস পর্যন্ত গভীরতা অথবা এডেনডাম মাপা হয়। এটা ব্যতীত হব, ফর্মিং টুল এবং থ্রেড কাটিং টুল মাপার জন্য ব্যবহার হয়। ইহা অত্যন্ত মূল্যবান ও সূক্ষ্ম যন্ত্র। এটা অত্যন্ত যত্নের সাথে ব্যবহার করা হয়।

১১.২ গিয়ার টুথ ভার্নিয়ারের বিভিন্ন অংশের নামঃ



চিত্র-১১.১ঃ গিয়ার টুথ ভার্নিয়ার ক্যালিপারের বিভিন্ন অংশ।

১. ট্যাং (Tang)
২. ভার্টিকেল স্কেল (Vertical Scale)
৩. হরিজন্টাল স্কেল (Horizontal Scale)
৪. ভার্নিয়ার স্কেল (Vernier Scale)
৫. লকিং স্ক্রু (Locking Screw)
৬. অ্যাডজাস্টিং স্ক্রু (Adjusting Screw)

১১.৩ গিয়ার টুথ ভার্নিয়ারের কার্যনীতি :

এর দ্বারা গিয়ারের দাঁতের বিভিন্ন অংশকে সূক্ষ্মভাবে মাপ নিতে ব্যবহার হয় বলে এর নাম 'গিয়ার টুথ ভার্নিয়ার ক্যালিপার'। গঠনের দিক হতে ইহা ক্যালিপারের অন্তর্ভুক্ত। এতে সাধারণ ভার্নিয়ারের ন্যায় বিভাগ করা দুইটি মূলস্কেল এক সমাকোণে একই ধাতুর দ্বারা তৈরি হয় এবং উভয় মূলস্কেলেই ভার্নিয়ার স্কেল যুক্ত থেকে যাতায়াত করে। ইহা ছাড়া, সাধারণ ভার্নিয়ার ক্যালিপার্সে যে রূপ মাপ নেওয়া যায় ইহাকেও ঠিক একই ভাবে মাপ নেওয়া যায়। ইহার একদিকে মূল স্কেলের সাথে দুইটি 'জ' থেকে গিয়ারের দাঁতের বাহিরের মাপ নিতে ব্যবহার হয় ও অন্য মূলস্কেলের স্লাইডিং 'জ' এর পরিবর্তে একটি পাতলা ধাতু খণ্ড 'জ' রূপে ব্যবহার হয়ে গিয়ারের দাঁতের উচ্চতা মাপা যায়।

১১.৪ গিয়ার টুথ ভার্নিয়ারের যত্ন ও রক্ষণাবেক্ষণ :

গিয়ার টুথ ভার্নিয়ার অতিসূক্ষ্ম পরিমাপক যন্ত্র। যথেষ্ট যত্ন ও সতর্কতার সাথে উক্ত যন্ত্রের অর্থাৎ মেজারিং টুলস-এর ব্যবহার করতে হয়। ধূলাবালি বা অপরিচ্ছন্ন স্থানে এই যন্ত্রকে রাখা উচিত নয়। ব্যবহারের পূর্বে পরিষ্কার মসৃণ কাপড়ের টুকরা দিয়ে ভালো ভাবে পরিষ্কার করে, ঠিক আছে কীনা দেখে নিতে হবে। কাজের সময় সাবধানতা অবলম্বন করবে যেন কোন অবস্থাতে গিয়ার টুথ ভার্নিয়ারে কোন প্রকার আঘাত প্রাপ্ত না হয় এবং ব্যবহারের পর ভালোভাবে পরিষ্কার করে পুনরায় তৈল লাগিয়ে নির্দিষ্ট স্থানে যত্ন সহকারে রেখে দিবে।

প্রশ্নমালা-১১

অতিসংক্ষিপ্ত প্রশ্ন :

১. গিয়ার টুথ ভার্নিয়ার বলতে কী বোঝ?
২. গিয়ার টুথ ভার্নিয়ারের কয়টি অংশ ?
৩. ট্যাং এর কাজ কী ?
৪. লকিং স্ক্রু এর কাজ কী ?
৫. হরাইজন্টাল স্কেলের কাজ কী ?
৬. ভার্টিক্যাল স্কেলের কাজ কী ?

সংক্ষিপ্ত প্রশ্ন :

১. গিয়ার টুথ ভার্নিয়ার ক্যালিপার এর ব্যবহার লেখ।
২. গিয়ার টুথ ভার্নিয়ার ক্যালিপার এর কার্যনীতি বর্ণনা কর।
৩. গিয়ার টুথ ভার্নিয়ারের যত্ন ও রক্ষণাবেক্ষণ পদ্ধতি উল্লেখ কর।
৪. গিয়ার টুথ ভার্নিয়ারের বিভিন্ন অংশের নাম লেখ।

রচনামূলক প্রশ্ন :

১. গিয়ার টুথ ভার্নিয়ার ক্যালিপার বলতে কী বোঝায়? গিয়ার টুথ ভার্নিয়ার ক্যালিপার এর ব্যবহার বর্ণনা কর।
২. গিয়ার টুথ ভার্নিয়ার ক্যালিপার এর যত্ন ও রক্ষণাবেক্ষণ পদ্ধতি বর্ণনা কর।
৩. গিয়ার টুথ ভার্নিয়ার ক্যালিপার এর কার্যনীতি বর্ণনা কর।
৪. গিয়ার টুথ ভার্নিয়ার ক্যালিপার এর বিভিন্ন অংশের বর্ণনা কর।

অধ্যায়-১২

গেজ (Gauges)

১২.১ গেজ এর সংজ্ঞা :

গেজ এক প্রকার পরীক্ষণ যন্ত্র যা দ্বারা সাধারণত কোন তৈরি করা বস্তুতে দ্বয়িং এ নির্দেশিত মাপ অনুযায়ী হয়েছে কিনা বা কাজের উপযোগী কিনা বা উহা নির্দিষ্ট মানবিশিষ্ট কিনা তা পরীক্ষা করার জন্য ব্যবহার করা হয়।

১২.২ সচরাচর ব্যবহৃত গেজ সমূহ :

- ১) ফিলার গেজ (Filler Gauge)
- ২) রেডিয়াস এন্ড ফিলেট গেজ (Radius and Fillet Gauge)
- ৩) স্ক্রু-পিচ গেজ (Screw-pitch Gauge)
- ৪) ওয়্যার গেজ (Wire Gauge)
- ৫) টেপার গেজ (Taper Gauge)
- ৬) সেন্টার গেজ (Centre Gauge)
- ৭) টেলিস্কোপিক গেজ (Telescopic Gauge)
- ৮) ব্লক গেজ (Block Gauge)



১) ফিলার গেজ ২) রেডিয়াস এন্ড ফিলেট গেজ ৩) স্ক্রু-পিচ গেজ ৪) টেলিস্কোপিক গেজ



৫) ওয়্যার গেজ ৬) টেপার গেজ ৭) সেন্টার গেজ ৮) ব্লক গেজ

১২.৩ রেডিয়াল গেজের সংক্ষিপ্ত বর্ণনা :

রেডিয়াল ও ফিলেট গেজ সাধারণত পোসাকার, উত্তল ও অবতল সারফেস, বৃত্তিক সিলিন্ড্রিক্যাল সারফেস ইত্যাদির উপরিভাগের অক্ষ ব্যাসার্ধ এর মাপ নির্ণয় করতে ব্যবহার করা হয়। এই ধরনের গেজসমূহ কতকগুলো পাতলা পাত বা ব্লক এর সমন্বয়ে গঠিত এবং একটি সিরিজটিক হোন্ডারের দুই প্রান্তে অবস্থিত থাকে। এক প্রান্তের ব্লকগুলো উত্তল (Convex) মাপের জন্য ও অপর প্রান্তের ব্লকগুলো অবতল (Concave) মাপের জন্য ব্যবহৃত হয়। এগুলো মিলিমিটার ও ইঞ্চি উভয় এককে পাঠরা যায়।



চিত্র-১২.২ : রেডিয়াল গেজ

১২.৪ রেডিয়াল গেজের ব্যবহার :

এই গেজ অতি সরাসর, স্রুত, ও সঠিকভাবে সে-আউট, মেশিনিং করা কার্বকর ইস্পেকশন এবং নয়ুনা তৈরি কাজে ব্যবহার করা হয়। ব্রিটিশ পদ্ধতিতে রেডিয়াল গেজের পাতাগুলোর রেডিয়াল ইঞ্চি পর পর ইঞ্চি থেকে $\frac{1}{2}$ ইঞ্চি পর্যন্ত হয়ে থাকে। মেট্রিক পদ্ধতিতে রেডিয়াল গেজের পাতাগুলোর আকার ০.১৫ মি.মি থেকে ০.২৫ মি.মি. পর পর ৫ মি.মি. পর্যন্ত হয়ে থাকে। কোন কোন রেডিয়াল গেজের একই পাতাতে উত্তল ও অবতল আকারের মাপ পরীক্ষণ করার ব্যবস্থা থাকে।

১২.৫ স্ক্রু-পিচ গেজ (Screw-pitch Gauge) :

কোন বস্তুর বাহিরের বা ভিতরের তলে 'V' আকারের স্ক্রু-থ্রেড করা থাকলে উহার পিচ কত অথবা উহাতে প্রতি ইঞ্চিতে কয়টি স্ক্রু-থ্রেড বর্তমান থাকে, উহা জ্ঞানার জন্য স্ক্রু-পিচ গেজ ব্যবহৃত হয়। এই গেজ দু'টি ইঞ্চি ও মিলিমিটার সর্বোচ্চ উচ্চর এককর প্রেডেরই মাপ নির্ণয় করা যায়। ইহার ব্লকগুলি একটি হোন্ডার এর দুই প্রান্তে অবস্থিত থাকে এবং একই মান বিশিষ্ট প্রেড-এর বিভিন্ন 'পিচ'-এর দাঁত থাকে। এই পিচ বা প্রেড সংখ্যা প্রেডের উপরিভাগে লেখা থাকে। প্রেড গেজ বি.এস.স্ট্রিও (BSW), এন.সি (N.C), বি.এ (B.A) ও মেট্রিক ইত্যাদি স্ট্যান্ডার্ড-এ হয়ে থাকে। বিভিন্ন মাপের স্ট্যান্ডার্ড প্রেড বা প্যাচ বিভিন্ন অ্যান্ডেল ও আবুজির হয়।



চিত্র-১২.৩ : স্ক্রু-পিচ গেজ

ফ্লু-পিচ গেজের ব্যবহার :

বোল্ট ও নাটের থ্রেডের পিচ নির্ণয় করার জন্য ফ্লু-পিচ গেজ ব্যবহার করা হয়। বাহিরের বা ভিতরের থ্রেডের বেলায় কন্ডটির উপর এমনভাবে রাখতে হবে যেন ব্রেডটি অক্ষের সাথে সমান্তরাল থাকে। যদি থ্রেডের দাঁত থ্রেডের সাথে ভালোভাবে না মিলে যায়, তা হলে বুঝতে হবে যে ব্রেড নির্বাচন ঠিক হয় নাই। এমনভাবে স্থান আবার একটি কাছাকাছি সাইজের ব্রেড বিশিষ্ট ব্রেডকে পূর্বের ন্যায় থ্রেডের উপর রেখে পরীক্ষা করতে হবে। এভাবে দুই, তিনবার ব্রেড পরিবর্তন করলেই এমন একটি ব্রেড পাওয়া যাবে যার দাঁত থ্রেডের সাথে সম্পূর্ণ ভাবে মিলবে। তা হলে, যে ব্রেডটির দাঁত মিলে যাবে উহার উপরের লেখা হতে প্রতি ইঞ্চিতে থ্রেডের সংখ্যা (T.P.I) বা পিচ (Pitch) পাওয়া যাবে।

১২.৬ ব্লক গেজ (Block Gauge) :

এই গেজ কতগুলি আয়তাকার ব্লকের সমষ্টি। এই ব্লকগুলি অত্যন্ত সূক্ষ্ম ও সঠিক ভাবে তৈরি করা হয়, যার সূক্ষ্মতা (Accuracy) ০.০০০০০৮ ইঞ্চি, ০.০০০০০৪ ইঞ্চি ও ০.০০০০০২ ইঞ্চি আকারে সীমাবদ্ধ থাকে। এই ব্লকগুলো কার্বন স্টিল বা স্ট্রিক্রোম কার্বাইড অ্যালয় স্টিলের তৈরি যার জন্য ব্যবহারে এদের তলগুলোর কোন ক্ষয় হয় না। এই ব্লকগুলো এমনভাবে হিট ট্রিটমেন্ট করা, যাতে কোন প্রকারে মোচড়িয়ে না যায় বা বাঁকা হয়ে না যায়। এদের পৃষ্ঠগুলো সুপার ফিনিশিং গ্রাইন্ডিং মেশিনে গ্রাইন্ডিং করার পর ল্যাপ মেশিনে বার বার ল্যাপিং করে অতি মসৃণ ও মিহিভাবে সমতল করা হয়, যার ফলে দুইটি ব্লক একসাথে পরিষ্কার করে কসলে তাদের তলের মধ্যে কোন বাতাস থাকে না এবং তাই বাহিরের বাতাসের চাপে ব্লক দুটো পরস্পর দৃঢ়ভাবে লেগে থাকে। এইভাবে দুই বা ততোধিক ব্লক একসাথে পরপর রেখে যে কোন আকারের পরিমাপের পরীক্ষা করা যায়।



চিত্র-১২.৬ : ব্লক গেজ

ব্লক গেজের ব্যবহার :

এর দ্বারা বিভিন্ন প্রকারের মাপযন্ত্র যেমন মাইক্রোমিটার, জার্নিয়াল ক্যালিপার ইত্যাদি পরিমাপ যন্ত্রের সঠিকতা যাচাই করা যায়। ব্লক গেজ দ্বারা এক ইঞ্চির দশ হাজার ভাগের একভাগ বা এক মিলিমিটারের একশত ভাগের এক ভাগ পর্যন্ত সূক্ষ্ম মাপ নেওয়া যায়। যে কোন আকারের মাপ নেওয়ার জন্য কোন কোন ব্লক ছুড়ে এই মাপ পাওয়া যাবে তা প্রথমে কাগজে লিখে নিতে হবে। তার পর এক এক করে ব্লকগুলো এমনভাবে বাছাই করতে হবে যেন তাদের সমষ্টি কাঙ্ক্ষিত মাপের সমান হয়। উদাহরণস্বরূপ ধরা যাক ব্লক গেজ দিয়ে ২.৬৭৫৬ ইঞ্চি পরিমাপ তুলতে হবে। এক্ষেত্রে নিম্নের ধাপসমূহ অনুসরণ করে ব্লক নির্বাচন করতে হবে।

যথা-

সর্বমোট পরিমাপ =	২.৬৭৫৬ ইঞ্চি
প্রথম ব্লক নিতে হবে =	(-) ০.১০০৬ ইঞ্চি
বাকি থাকলো =	২.৫৭৫ ইঞ্চি
দ্বিতীয় ব্লক নিতে হবে =	(-) ০.১০৫ ইঞ্চি
বাকি থাকলো =	২.৪৭০ ইঞ্চি
তৃতীয় ব্লক নিতে হবে =	(-) ০.১২০ ইঞ্চি
বাকি থাকলো =	২.৩৫০ ইঞ্চি
চতুর্থ ব্লক নিতে হবে =	(-) ০.৩৫০ ইঞ্চি
বাকি থাকলো =	২.০০০ ইঞ্চি
পঞ্চম ব্লক নিতে হবে =	(-) ২.০০০ ইঞ্চি

১২.৭ গেজসমূহের যত্ন ও রক্ষণাবেক্ষণ :

ফিলার গেজ :

ফিলার গেজের ব্লেকগুলো অতি সূক্ষ্ম মাপের বলে এদের উপর কোন প্রকার আঘাত দেওয়া বা চাপ দেওয়া উচিত নয়। মাপ পরীক্ষা করার সময় এই গেজের ব্লেকগুলোকে ফাঁকের মধ্যে প্রবেশ করানোর সময় সাবধানতা অবলম্বন করতে হবে, যাতে এগুলো বেঁকে গিয়ে ভাঁজ হয়ে ফাঁকের ভিতরে আটকে না যায়।

ওয়্যার গেজ :

ওয়্যার গেজের প্লেটের চাকতিকে সাবধানে ব্যবহার করতে হবে। ব্যবহারের পর পরিষ্কার নরম ও পাতলা কাপড় দিয়ে ভালোভাবে পরিষ্কার করে উত্তমরূপে তেল বা পাতলা করে খিঁজ লাগিয়ে যথাস্থানে রাখতে হবে।

টেপার গেজ :

টেপার গেজকেও ফিলার গেজের মত সাবধানে ব্যবহার করে ভালোভাবে পরিষ্কার করে তেল বা খিঁজ লাগিয়ে রাখতে হবে।

সেন্টার গেজ :

এটি ফিলার গেজ ও টেপার গেজের চেয়ে অপেক্ষাকৃত মোটা প্লেটের তৈরি। তাই সেন্টার গেজের রক্ষণাবেক্ষণ একটু সহজ। ব্যবহারের পর পরিষ্কার করে তেল বা খিঁজ লাগিয়ে যথাস্থানে রেখে দিতে হবে।

টেলিস্কোপিক গেজ :

এটির ছয়টি গেজ নিয়ে একটি সেট হয়। এদেরকে খুব সাবধানে সতর্কতার সাথে ব্যবহার করতে হয়। ব্যবহারের পর নরম জাতীয় কাপড় দিয়ে ভালোভাবে পরিষ্কার করে পাতলা তেলের আবরণ দিয়ে নির্দিষ্ট আঁধারে রেখে দিতে হয়।

প্রশ্নমালা-১২

অতি সংক্ষিপ্ত প্রশ্ন :

১. গেজ বলতে কী বোঝ?
২. সচরাচর ব্যবহৃত গেজসমূহের নাম লেখ।
৩. ফিলার গেজ (Filler Gauge) বলতে কী বোঝ?
৪. রেডিয়াস এন্ড ফিলেট গেজ (Radius and Fillet Gauge) বলতে কী বোঝ?
৫. স্ক্রু-পিচ গেজ (Screw-pitch Gauge) বলতে কী বোঝ?
৬. ওয়্যার গেজ (Wire Gauge) বলতে কী বোঝ?
৭. টেপার গেজ (Taper Gauge) বলতে কী বোঝ?
৮. সেন্টার গেজ (Centre Gauge) বলতে কী বোঝ?
৯. টেলিস্কোপিক গেজ (Telescopic Gauge) বলতে কী বোঝ?
১০. ব্লক গেজ (Block Gauge) বলতে কী বোঝ?

সংক্ষিপ্ত প্রশ্ন :

১. গেজ বলতে কী বোঝায় ? সচরাচর ব্যবহৃত গেজসমূহের নাম লেখ।
২. ফিলার গেজ (Filler Gauge) এর বর্ণনা দাও।
৩. রেডিয়াস এন্ড ফিলেট গেজ (Radius and Fillet Gauge) এর বর্ণনা দাও।
৪. স্ক্রু-পিচ গেজ (Screw-pitch Gauge) এর বর্ণনা দাও।
৫. ওয়্যার গেজ (Wire Gauge) এর বর্ণনা দাও।
৬. টেপার গেজ (Taper Gauge) এর বর্ণনা দাও।
৭. সেন্টার গেজ (Centre Gauge) এর বর্ণনা দাও।
৮. টেলিস্কোপিক গেজ (Telescopic Gauge) এর বর্ণনা দাও।
৯. ব্লক গেজ (Block Gauge) এর বর্ণনা দাও।
১০. ফিলার গেজ (Filler Gauge) এর ব্যবহার লেখ।
১১. রেডিয়াস এন্ড ফিলেট গেজ (Radius and Fillet Gauge) এর ব্যবহার লেখ।
১২. স্ক্রু-পিচ গেজ (Screw-pitch Gauge) এর ব্যবহার লেখ।
১৩. ওয়্যার গেজ (Wire Gauge) এর ব্যবহার লেখ।
১৪. টেপার গেজ (Taper Gauge) এর ব্যবহার লেখ।
১৫. সেন্টার গেজ (Centre Gauge) এর ব্যবহার লেখ।
১৬. টেলিস্কোপিক গেজ (Telescopic Gauge) এর ব্যবহার লেখ।
১৭. ব্লক গেজ (Block Gauge) এর ব্যবহার লেখ।

রচনামূলক প্রশ্ন :

১. গেজ বলতে কী বোঝায় ? সচরাচর ব্যবহৃত গেজসমূহের সংক্ষেপে বর্ণনা দাও।
২. গেজ বলতে কী বোঝায় ? সচরাচর ব্যবহৃত গেজসমূহের সংক্ষেপে ব্যবহার লেখ।
৩. গেজসমূহের যত্ন ও রক্ষণাবেক্ষণ পদ্ধতি বর্ণনা কর।

অধ্যায়-১৩

সাইন বার (Sine Bar)

১৩.১ সাইন বার :

সাইন বার হলো মজবুত এবং অধিক মাত্রায় ফিনিশ ক্রোমিয়াম স্টিলের তৈরি একটি বার (Bar), যা উভয় প্রান্তে দুইটি সিলিন্ড্রিক্যাল রোলারের উপর ভর করে থাকে। রোলারদ্বয়ের কেন্দ্র দূরত্ব ব্রিটিশ পদ্ধতিতে ৫ ইঞ্চি বা ১০ ইঞ্চি হয়ে থাকে এবং মেট্রিক পদ্ধতিতে ইহা ১০০ মি.মি. বা ২৫০ মি.মি. হয়ে থাকে। রোলারদ্বয়ের কেন্দ্র দূরত্বই হলো সাইন বারের মাপ। সাইন বারের তল রোলারের বটমের সাথে সমান্তরাল, এবং ইহার তলের সূক্ষতা ১ ইঞ্চির মিলিয়ন ভাগের ৫০ ভাগ। ইহা খুব সূক্ষ্ম, সঠিকতা ও যথার্থতার সাথে অ্যাস্কেল, বিভেল ও টেপার মাপতে এবং চিহ্নিত করতে ব্যবহৃত হয়। সাইনবার ব্যবহার নির্ভর করে ত্রিকোণোমিতির সাইনের মানের উপর।



চিত্র-১৩.১ : সাইন বার

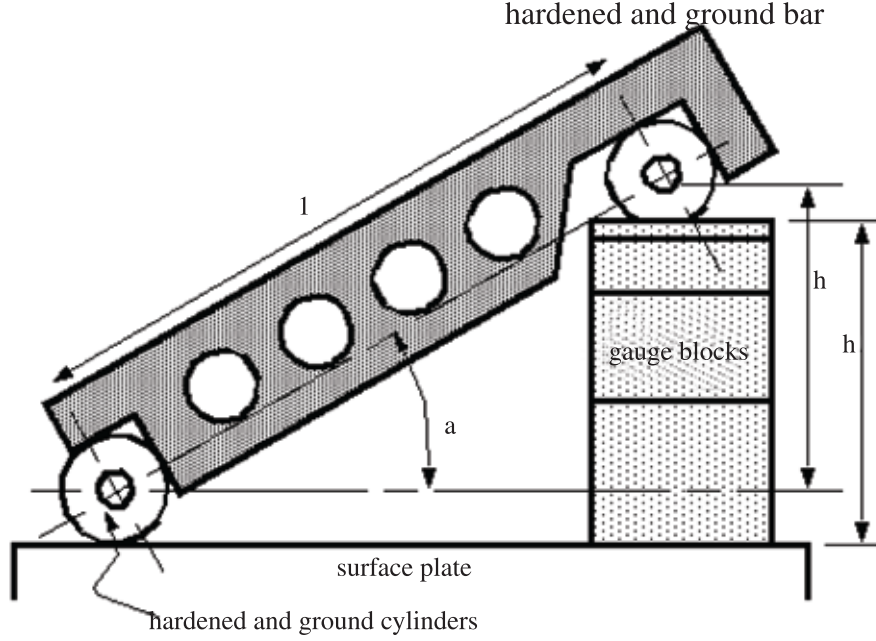
১৩.২ সাইন বার ব্যবহারের প্রয়োজনীয় যন্ত্রপাতি :

নিম্নোক্ত যন্ত্রপাতি সাইন বার ব্যবহারে ব্যবহৃত হয়-

১. সারফেস প্লেট (Surface plate)
২. স্লিপ গেজ (Slip gauge)
৩. ক্ল্যাম্প (Clamp)
৪. ডায়াল ইন্ডিকেটর (Dial Indicator)
৫. অ্যাস্কেল প্লেট (Angle plate)
৬. সাইন সেন্টার (Sine Centre)

১৩.৩ সাইন বারের প্রয়োগ ক্ষেত্র :

সাধারণত প্রোট্র্যাক্টর বা ভার্নিয়ার বিভেল প্রোট্র্যাক্টর-এর সাহায্যে যে সকল বস্তু বা যন্ত্রাংশের কোণের পরিমাপ সূক্ষ্মভাবে নেওয়া সম্ভব নয়, সেখানে সাইনবার ব্যবহৃত হয়। কোন তৈরি করা ওয়াক্‌পিসের টেপার, কোণ, বিভেল ইত্যাদির পরিমাপ অতি সূক্ষ্মতার সাথে যাচাই করার জন্য সাইন বার ব্যবহার করা হয়। মেশিনশপে লেদ, মিলিং, শেপার ইত্যাদি মেশিনে ওয়াক্‌পিসকে সঠিক কোণে বাঁধার জন্য সাইন বার ব্যবহার করা হয়।



l = distance between centres of ground cylinders (typically 5" or 10")
 h = height of the gauge blocks
 a = the angle of the plate

$$a = \sin^{-1}\left(\frac{h}{l}\right)$$

চিত্র-১৩.২ : সাইন বার এর ব্যবহার কৌশল।

নিম্নোক্ত প্রয়োজনে সাইন বার ব্যবহার করা হয় -

- ১। প্রয়োজনীয় অ্যাঙ্গেলে ওয়ার্কপিস সেট করতে।
- ২। টেপার কোণ নির্ণয় করতে।
- ৩। ঢালু ওয়ার্কপিসের ঢাল নির্ণয় করতে।
- ৪। অ্যাঙ্গেলের পরিমাণ নির্ণয় করতে।
- ৫। বেভেল গিয়ার পরীক্ষা করতে।
- ৬। অ্যাঙ্গেল ব্লক পরীক্ষা করতে।
- ৭। টেপার কী পরীক্ষা করতে।
- ৮। টেপার প্লাগ গেজ পরীক্ষা করতে।

১৩.৪ সাইন বারের যত্ন ও রক্ষণাবেক্ষণ :

সাইন বারের যত্ন ও রক্ষণাবেক্ষণ নিম্নে আলোচনা করা হলো-

- ১) দীর্ঘ দিন ব্যবহারের প্রয়োজন না হলে সাইন বারের প্রতিটি অংশে ভালো করে তৈলের পাতলা আবরণ দিয়ে যথাস্থানে রাখতে হবে।

- ২) সাইন বারকে ব্যবহারের পূর্বে ও পরে খালি হাতে না ধরে লেদার গ্লাভস বা টিস্যু পেপার দিয়ে ধরতে হবে।
- ৩) সাইন বারে ব্যবহৃত গ্লিপ গেজের উপর যাতে ধূলাবালি, ময়লা ইত্যাদি না পড়ে এবং যাতে কোন আঘাত না লাগে সেদিকে খেয়াল রাখতে হবে।
- ৪) ব্যবহারের পর প্রত্যেকবার ভালোভাবে পরিষ্কার করে সাইন বার ও তার অ্যাকসেসরিজগুলোকে যথাস্থানে সাজিয়ে রাখতে হবে।
- ৫) সাইন বার গ্লিপ গেজগুলি অতিসূক্ষ্ম পরিমাপক যন্ত্র বিধায়, তাদের যত্নের সাথে ব্যবহার ও সংরক্ষণ করতে হবে।

প্রশ্নমালা-১৩

অতিসংক্ষিপ্ত প্রশ্ন :

১. সাইন বার বলতে কী বোঝায় ?
২. সাইন বার ব্যবহারের সময় অন্যান্য সাহায্যকারী যন্ত্রপাতির নাম লেখ।
৩. সাইন বার দ্বারা কী কী পরিমাপ বা পর্যবেক্ষণ করা যায় ?
৪. সাইন বার দ্বারা পরিমাপের সময় গ্লিপ গেজ কেন ব্যবহার করা হয় ?
৫. সাইন বার দ্বারা পরিমাপের সময় ডায়াল ইন্ডিকেটর কেন ব্যবহার করা হয় ?

সংক্ষিপ্ত প্রশ্ন :

১. সাইন বার কী কী কাজে ব্যবহার করা হয় সংক্ষেপে বর্ণনা কর।
২. সাইন বারের প্রয়োগ ক্ষেত্র উল্লেখ কর।
৩. সাইন বারের বিবরণ ব্যক্ত কর।
৪. সাইন বারের যত্ন ও রক্ষণাবেক্ষণ পদ্ধতি উল্লেখ কর।
৫. সাইন বার ব্যবহারের প্রয়োজনীয়তা বর্ণনা কর।

রচনামূলক প্রশ্ন :

১. সাইন বার বলতে কী বোঝায় ? সাইন বার ব্যবহারের সময় অন্যান্য সাহায্যকারী যন্ত্রপাতির বর্ণনা দাও।
২. সাইন বার বলতে কী বোঝায় ? সাইন বারের যত্ন ও রক্ষণাবেক্ষণ পদ্ধতি উল্লেখ কর।
৩. সাইন বার বলতে কী বোঝায় ? সাইন বারের প্রয়োগ ক্ষেত্র উল্লেখ কর।

অধ্যায়-১৪

ফিট (Fit)

১৪.১ ফিট :

প্রয়োজন অনুসারে যখন একটি যন্ত্রাংশকে অপর একটি যন্ত্রাংশের সহিত সংযোগ করা হয়, তখন উহাদের পরস্পর মিলন অবস্থাকে ফিট বলে। অর্থাৎ দুইটি মিলিত যন্ত্রাংশের সংযোজনের অবস্থাকে (আঁটসাঁট/ঢিলা) ফিট বলা হয়।

১৪.২ ফিটের প্রকারভেদ :

নিম্নে ফিটের প্রকার ভেদ উল্লেখ করা হলো-

- ❖ রানিং ফিট (Running Fit)
- ❖ পুশ ফিট (Push Fit)
- ❖ ড্রাইভিং ফিট (Driving Fit)
- ❖ ফোর্স পিট (Force Fit)
- ❖ শ্রঙ্ক ফিট (Shrink Fit)

১৪.৩ বিভিন্ন প্রকার ফিটের প্রয়োজনীয়তা :

- ১) রানিং ফিট-ইহা এমন ফিট যা দুইটি অংশকে এমন ভাবে পরস্পর মিলন ঘটানো হয় যার একটি অংশ অপর অংশের মধ্যে প্রবেশ করে সহজ ভাবে ঘুরতে সক্ষম হয়।
- ২) পুশ ফিট-গুঁধু হাতের চাপের সাহায্যে একটি অংশকে অপর একটি অংশের মধ্যে প্রবেশ করে মিলন ঘটানোকে 'পুশফিট' বলে। ইহাকে কখনও কখনও 'প্রেসফিট' নামে উল্লেখ করা হয়।
- ৩) ড্রাইভিং ফিট-দুইটি অংশকে যখন হাতুড়ির সাহায্যে আঘাত করে জোর পূর্বক অপর অংশের সাথে মিল ঘটানো হয়, তাকে ড্রাইভিং ফিট বলে।
- ৪) ফোর্স পিট- একটি অংশকে যখন অপর অংশের সাথে মিলন ঘটানোর জন্য প্রচুর শক্তি কিংবা চাপের সাহায্য প্রয়োজন হয়, তখন উহাকে 'ফোর্স ফিট' বলে।
- ৫) শ্রঙ্ক ফিট-যে কোন ধাতুকে উত্তপ্ত করলে উহার আয়তন বৃদ্ধি পায় এবং ঠাণ্ডা হলে সংকুচিত হয়। এ প্রক্রিয়ায় দুইটি অংশকে মিলন ঘটানোকে শ্রঙ্ক ফিট বলে।

১৪.৪ অ্যালাউন্স, ক্লিয়ারেন্স ও ইন্টারফিয়ারেন্স :

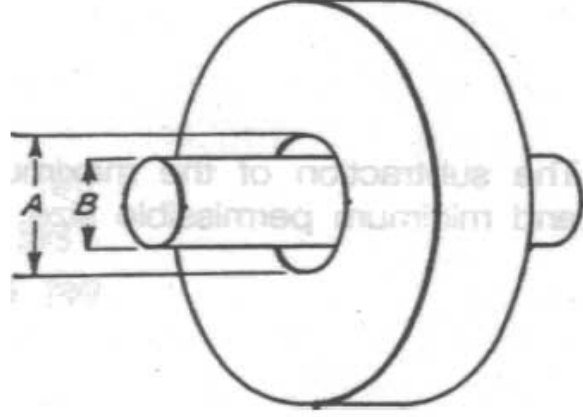
অ্যালাউন্স :

পরস্পর মিলনযোগ্য দুইটি যন্ত্রাংশের মধ্যে যে কোন প্রকার ফিট বা সংযোগ সম্পন্ন করার জন্য মিলনযোগ্য অংশদ্বয়ের মধ্যে যে পরিমাণ মাপ পার্থক্য রাখার প্রয়োজন হয়, উহাকে 'অ্যালাউন্স' বলে। ইহা শাফট ও ছিদ্রের ক্ষেত্রে শাফটের উর্ধ্ব সীমা থেকে নিম্ন সীমাকে বিয়োগ করলে পাওয়া যায়।

ক্লিয়ারেন্স :

ছিদ্রের মধ্যে শ্যাফট একই অক্ষরেখা বরাবর অবস্থান করলে এর চারদিকে যে সমপরিমাণ ফাঁক থাকে তাকে ক্লিয়ারেন্স বলে।

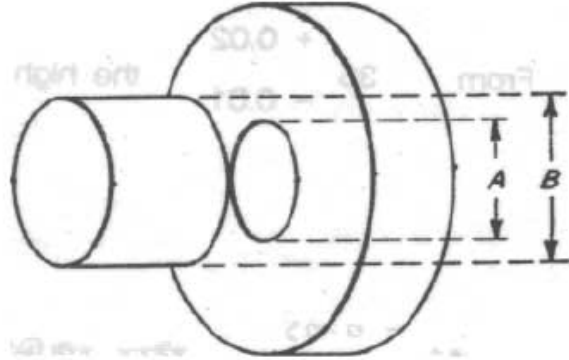
$$\text{ক্রিয়াবেল} = A - B$$



চিত্র-১৪.১ঃ ক্রিয়াবেল

ইন্টারকিয়ামেল :

একটি অংশকে অপর অংশের সাথে হাতুড়ির আঘাতে বা প্রচুর চাপ প্রয়োগ করে কিট করাকে ইন্টারকিয়ামেল কিট বলে।



$$\text{ইন্টারকিয়ামেল} = B - A$$

চিত্র-১৪.২ঃ ইন্টারকিয়ামেল

১৪.৫ বিভিন্ন প্রকার কিট এর প্রয়োগক্ষেত্র :

১. রানিং কিট- শাকট ও বিয়ারিং-এর ক্ষেত্রে ব্যবহৃত হয়।
২. পুশ কিট- সিলার ও পিনিয়নের শাকটের ক্ষেত্রে ব্যবহৃত হয়।
৩. ড্রাইভিং কিট- সেই সব ক্ষেত্রে ব্যবহৃত হয় যেখানে শাকটকে ছিদ্রের ডায়ামেটার অপেক্ষা সামান্য বড় রাখার প্রয়োজন হয়।
৪. শূক কিট- এই প্রক্রিয়ায় বিয়ারিং এর ভিতরের ও বাহিরের চাকাকে যুক্ত করা হয়।
৫. ক্রিয়াবেল কিট- ইহা সম্ভাব্য বৃহত্তম শাকট এবং ক্ষুদ্রতম ছিদ্রের ক্ষেত্রে 'পজিটিভ অ্যালাউন্সের' মাধ্যমে ব্যবহৃত হয়।
৬. ইন্টারকিয়ামেল কিট- ইহা সম্ভাব্য ক্ষুদ্রতম শাকট ও বৃহত্তম ছিদ্রের মাধ্যমে 'নেগেটিভ অ্যালাউন্স' ব্যবহৃত হয়।
৭. ট্রানজিশন কিট- ইহা সম্ভাব্য 'পজিটিভ ও নেগেটিভ'-এর মধ্যবর্তী অবস্থার ব্যবহৃত হয়।

প্রশ্নমালা-১৪

অতি সংক্ষিপ্ত প্রশ্ন :

১. ফিট বলতে কী বোঝ?
২. অ্যালাউন্স কাকে বলে ?
৩. ক্লিয়ারেন্স কাকে বলে ?
৪. ইন্টারফিয়ারেন্স কাকে বলে ?
৫. রানিং ফিট কাকে বলে ?
৬. পুশ ফিট কাকে বলে ?
৭. ড্রাইভিং ফিট কাকে বলে ?
৮. শঙ্ক ফিট কাকে বলে ?
৯. রানিং ফিট কাকে বলে ?
১০. ক্লিয়ারেন্স ফিট কাকে বলে ?
১১. ইন্টারফিয়ারেন্স ফিট কাকে বলে ?
১২. ট্রানজিশন ফিট কাকে বলে ?

সংক্ষিপ্ত প্রশ্ন :

১. ফিট-এর প্রকার ভেদ উল্লেখ কর ।
২. বিভিন্ন প্রকার ফিটের প্রয়োজনীয়তা উল্লেখ কর ।
৩. ফিট কাকে বলে ? ফিট কত প্রকার ও কী কী ?

রচনামূলক প্রশ্ন :

১. অ্যালাউন্স, ক্লিয়ারেন্স, ইন্টারফিয়ারেন্স বলতে কী বুঝায় তা উল্লেখ কর ।
২. বিভিন্ন প্রকার ফিট-এর প্রয়োগক্ষেত্র ব্যক্ত কর ।

অধ্যায়-১৫

টলারেন্স (Tolerance)

১৫.১ টলারেন্স :

কোন যন্ত্রাংশের বা বস্তুর নমিন্যাল সাইজ বা প্রকৃত মাপ হতে গ্রহণযোগ্য ব্যতিক্রমের সীমাকে (Permissible Range of Variation) টলারেন্স বলে।

ধরা যাক, একটি শ্যাফটের নমিন্যাল সাইজ ৪৫ মি.মি.। এরূপ দুইটি শ্যাফট টার্নিং করে তৈরি করার পর মাপ পরীক্ষা করে দেখা গেল যে, একটি শ্যাফটের মাপ ৪৫.০২ মি.মি. এবং অন্যটির মাপ ৪৪.৯৯ মি.মি. হয়েছে। যদি শ্যাফট দুইটিকে বাতিল না করে গ্রহণ করা হয় তাহলে সর্বোচ্চ গ্রহণযোগ্য মাপ হবে ৪৫.০২ মি.মি. এবং সর্বনিম্ন গ্রহণযোগ্য মাপ হবে ৪৪.৯৯ মি.মি.। প্রকৃতপক্ষে, সর্বোচ্চ গ্রহণযোগ্য মাপ ও সর্বনিম্ন গ্রহণযোগ্য মাপের বিয়োগফলই হলো টলারেন্স।

$$\begin{aligned}\text{এখানে উদাহরণ অনুযায়ী টলারেন্স} &= (৪৫.০২ - ৪৪.৯৯) \text{ মি.মি.} \\ &= ০.০৩ \text{ মি.মি.।}\end{aligned}$$

টলারেন্সের প্রকারভেদ :

টলারেন্স দুই প্রকার :

১. ইউনিল্যাটারাল বা একমুখী টলারেন্স (Unilateral tolerance)
২. বাইল্যাটারাল বা দ্বিমুখী টলারেন্স (Bilateral tolerance)

ইউনিল্যাটারাল বা একমুখী টলারেন্স (Unilateral tolerance) - এর অর্থ হলো নমিন্যাল সাইজ হতে মাপের ব্যতিক্রম কেবলমাত্র একদিকে করা হয়।

যেমন-

- $৪৫^{+০.০২}$
- $৪৫^{-০.০১}$

বাইল্যাটারাল বা দ্বিমুখী টলারেন্স (Bilateral tolerance)- বাইল্যাটারাল টলারেন্সের অর্থ হলো নমিন্যাল সাইজ হতে মাপের ব্যতিক্রম উর্ধ্ব বা নিম্নে উভয় দিকে করা হয়।

যেমন-

- $৪৫^{+০.০২}_{-০.০১}$

১৫.২ টলারেন্স প্রকাশের পদ্ধতি :

টলারেন্স দুই প্রকারে প্রকাশ করা হয়। যথা-

১. ছিদ্রের ভিত্তিতে এবং
২. শ্যাফটের ভিত্তিতে।

ছিদ্রের ভিত্তিতে টলারেন্স প্রকাশ :

ছিদ্রের ভিত্তিতে টলারেন্স প্রকাশের ক্ষেত্রে ছিদ্রের মাপকে স্থির রেখে বিভিন্ন প্রকার ফিট অনুযায়ী শ্যাফটের ডায়ামেটারকে প্রয়োজনীয় মাপে টার্নিং করা হয়। এই পদ্ধতি সুবিধাজনক, কারণ ছিদ্র তৈরি করতে স্ট্যান্ডার্ড সাইজের ড্রিল বিট ব্যবহার করা যায়।

শ্যাফটের ভিত্তিতে টলারেন্স প্রকাশ :

শ্যাফটের ভিত্তিতে টলারেন্স প্রকাশের ক্ষেত্রে শ্যাফটের মাপকে স্থির রেখে বিভিন্ন প্রকার ফিট অনুযায়ী ছিদ্রের ব্যাস বা হোল ডায়ামেটারকে প্রয়োজনীয় মাপে বোরিং করা হয়। এই পদ্ধতি বেশি সুবিধাজনক নয়, কারণ ছিদ্র তৈরি করতে স্ট্যান্ডার্ড সাইজের ড্রিল বিট ব্যবহার করার পর বার বার বোরিং করে উদ্দিষ্ট মাপের ছিদ্র তৈরি করতে হয়।

১৫.৩ টলারেন্স রাখার প্রয়োজনীয়তা :

- ❖ টলারেন্স রাখলে যন্ত্রাংশের উৎপাদনশীলতা বেড়ে যায়।
- ❖ যন্ত্রপাতির ক্রটিজনিত মাপের ব্যতিক্রম গ্রহণযোগ্য মাত্রায় রাখা যায়।
- ❖ উৎপাদনে যন্ত্রাংশের বাতিল হওয়ার হার কমে যায়।

যেহেতু বিভিন্ন মেশিনিস্ট-এর কাজের সূক্ষ্মতা ভিন্ন ভিন্ন হয় সেহেতু তাদের উৎপাদিত জবের মাপের তারতম্য ভিন্ন হওয়াও স্বাভাবিক। তবে টলারেন্স এই মাপের ভিন্নতা একটি নির্দিষ্ট সীমার মধ্যে রাখতে সাহায্য করে।

১৫.৪ লিমিট (Limit) :

একজন মেশিনিস্ট যতই দক্ষ হোক না কেন তা পক্ষে একই মাপ বিশিষ্ট বহু সংখ্যক যন্ত্রাংশ বা জব মেশিনিং করা সম্ভব হয় না। মেশিনের ক্রটি এবং তাহার নিজের ক্রটির জন্য কিছু সংখ্যক মাপ প্রয়োজনীয় মাপের চেয়ে বৃহত্তর বা ক্ষুদ্রতর হতে পারে। মাপের পরিবর্তন যদি গ্রহণযোগ্য সীমার মধ্যে থাকে তাহলে যন্ত্রাংশগুলি বা জবগুলি বাতিল হয় না বরং গ্রহণযোগ্য হয়। জবের গ্রহণযোগ্য সর্বোচ্চ বা সর্বনিম্ন মাপের সীমাকে লিমিট বলে।

১৫.৫ হাই লিমিট ও লো লিমিট (High limit and low limit) :

হাই লিমিট (High limit) : বস্তুর বা ওয়ার্কপিসের সর্বোচ্চ গ্রহণযোগ্য মাপকে হাই লিমিট বা উর্ধ্ব সীমা বলে। হাই লিমিট নমিন্যাল সাইজের সাথে পজিটিভ টলারেন্স যোগ করে পাওয়া যায়।

যেমন- $85_{-0.01}^{+0.02}$ এখানে মাপের হাই লিমিট = $85+0.02 = 85.02$ মি.মি.।

লো লিমিট (low limit) : বস্তুর বা ওয়ার্কপিসের সর্বনিম্ন গ্রহণযোগ্য মাপকে লো লিমিট বা নিম্ন সীমা বলে। লো লিমিট নমিন্যাল সাইজ থেকে নেগেটিভ টলারেন্স বিয়োগ করে পাওয়া যায়।

যেমন- $85_{-0.01}^{+0.02}$ এখানে মাপের লো লিমিট = $85-0.01 = 84.99$ মি.মি.।

প্রশ্নমালা-১৫

অতি সংক্ষিপ্ত প্রশ্ন :

১. টলারেন্স বলতে কী বোঝায় ?
২. টলারেন্স কত প্রকার ?
৩. বিভিন্ন প্রকার টলারেন্স এর নাম লেখ।
৪. লিমিট বলতে কী বোঝায় ?
৫. লিমিট কত প্রকার ?
৬. বিভিন্ন প্রকার লিমিটের নাম লেখ।
৭. টলারেন্স প্রকাশের পদ্ধতি কয়টি ?
৮. লো লিমিট কী ?
৯. হাই লিমিট কী ?
১০. ইউনিল্যাটারাল টলারেন্স কাকে বলে ?
১১. বাইল্যাটারাল টলারেন্স কাকে বলে ?

সংক্ষিপ্ত প্রশ্ন :

১. টলারেন্সের সংজ্ঞা দাও।
২. টলারেন্স রাখার প্রয়োজনীয়তা কী ?
৩. শ্যাফটের ভিত্তিতে টলারেন্স কীভাবে প্রকাশ করা হয় ?
৪. ছিদ্রের ভিত্তিতে টলারেন্স কীভাবে প্রকাশ করা হয় ?
৫. হাই লিমিট ও লো লিমিট কাকে বলে ? বুঝিয়ে দাও।
৬. একটি শ্যাফটের মাপ $35_{-0.03}^{+0.03}$ মি.মি. প্রকাশ করা হলো। শ্যাফটের হাই লিমিট ও লো লিমিট কত ?

রচনামূলক প্রশ্ন :

১. টলারেন্স বলতে কী বোঝায় ? টলারেন্স কত প্রকার ও কী কী ? প্রত্যেক প্রকারের বর্ণনা দাও।
২. লিমিট বলতে কী বোঝায় ? লিমিট কত প্রকার ও কী কী ? প্রত্যেক প্রকারের বর্ণনা দাও।
৩. টলারেন্স প্রকাশের পদ্ধতি কয়টি ও কি কি ? প্রত্যেক প্রকারের বর্ণনা দাও।

অধ্যায়-১৬

সারফেস ফিনিশিং (Surface Finishing)

১৬.১ সারফেস ফিনিশিং :

তলের মসৃণতাকে সারফেস ফিনিশিং বলে। তলের বিভিন্ন জায়গায় বিভিন্ন রকম মসৃণতা দরকার। কোথায় কম বা কোথায় বেশি মসৃণতা দরকার তা প্রতীক চিহ্নের মাধ্যমে নির্দেশ করে। প্রতীক চিহ্ন বুঝে সারফেসের ফিনিশিং করতে হয়।

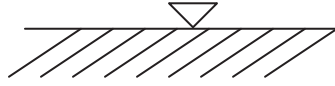
১৬.২ সারফেস ফিনিশিং-এর প্রতীক ব্যবহারের প্রয়োজনীয়তা :

প্রতীকসমূহ সাধারণত ওয়ার্কপিসের ফিনিশিং-এর অবস্থা বিশেষ ভাবে বুঝতে ব্যবহৃত হয়।

- ❖ যেখানে সারফেসের ম্যাট্রিয়াল অপসারণ গ্রহণ যোগ্য নয়।
- ❖ অতিরিক্ত ম্যাট্রিয়াল রাখতে হয় প্রয়োজনীয় সারফেস ফিনিশিং-এর জন্য।
- ❖ সারফেস ফিনিশিং-এর ধরন বুঝার জন্য।
- ❖ প্রয়োজনীয় মেশিনিং রিমিং, ল্যাপিং, গ্রাইন্ডিং, হোনিং ও মিলিং ইত্যাদির প্রতীক বোঝানোর জন্য।

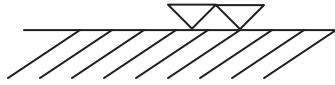
১৬.৩ বিভিন্ন প্রকার স্ট্যান্ডার্ডের ফিনিশিং-এ ব্যবহৃত প্রতীকসমূহঃ

টেকনিক্যাল ড্রয়িং এ ISO প্রতীকগুলি সারফেসের অবস্থা বিশেষভাবে উল্লেখ করতে ব্যবহৃত হয়। রাফ মেশিনিং এ সৃষ্ট সারফেসের অবস্থা বোঝানোর জন্য এক ত্রিভুজ প্রতীক ব্যবহৃত হয়। এই সারফেসে টুলের দ্বারা তৈরি গ্রন্থ স্পর্শ দ্বারা ধরা পড়ে এবং পরিষ্কারভাবে খালি চোখে দেখা যায়।



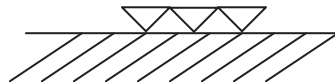
চিত্র-১৬.১ঃ রাফ ফিনিশিং-এর জন্য এমন প্রতীক

মিডিয়াম ফিনিশিং মেশিনিং এ সৃষ্ট সারফেসের অবস্থা ইঙ্গিত করতে দুই ত্রিভুজ প্রতীক ব্যবহৃত হয়। এই সারফেসে খালিচোখে গ্রন্থ দেখা যেতেও পারে।



চিত্র-১৬.২ঃ মেডিয়াম ফিনিশিং-এর জন্য এমন প্রতীক

ফাইন ফিনিশিং অপারেশনে সৃষ্ট সারফেসের অবস্থা ইঙ্গিত করতে তিন ত্রিভুজ প্রতীক ব্যবহৃত হয়। এই সারফেসে খালি চোখে গ্রন্থ দেখা যায় না।



চিত্র-১৬.৩ঃ ফাইন ফিনিশিং-এর জন্য এমন প্রতীক

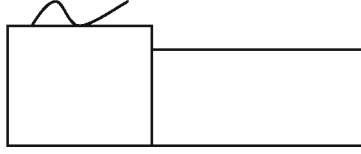
ফর্মা-৩২, মেশিন টুলস অপারেশন-১, ৯ম-১০ম শ্রেণি

সুপার ফিনিশিং অপারেশন (হোনিং/ল্যাপিং)-এ সৃষ্ট সারফেসের অবস্থা বোঝাতে চার ত্রিভুজ প্রতীক ব্যবহার করা হয়।



চিত্র-১৬.৪৪ সুপার ফিনিশিং-এর জন্য এমন প্রতীক

রোলিং, ফোর্জিং এবং কাস্টিং এ তৈরি সারফেসের অবস্থা বোঝানোর জন্য ওয়েভ লাইন প্রতীক ব্যবহার করা হয়।



চিত্র-১৬.৫৪ রোলিং, ফোর্জিং এবং কাস্টিং এ তৈরি সারফেসের প্রতীক

অনুশীলনী-১৬

অতি সংক্ষিপ্ত প্রশ্ন :

১. সারফেস ফিনিশিং কী ?
২. মিডিয়াম ফিনিশিং কী ?
৩. ফাইন ফিনিশিং কী ?
৪. সুপার ফিনিশিং কী ?

সংক্ষিপ্ত প্রশ্ন :

১. সারফেস ফিনিশিং বলতে কী বোঝায় ?
২. মিডিয়াম ফিনিশিং কী ? প্রতীক এঁকে দেখাও।
৩. ফাইন ফিনিশিং কী ? প্রতীক এঁকে দেখাও।
৪. সুপার ফিনিশিং কী ? প্রতীক এঁকে দেখাও।
৫. রোলিং, ফোর্জিং এবং কাস্টিং এ তৈরি সারফেসের অবস্থা বোঝানোর জন্য প্রতীক এঁকে দেখাও।
৬. সারফেস ফিনিশিং-এর প্রতীক ব্যবহারের প্রয়োজনীয়তা ব্যক্ত কর।

রচনামূলক প্রশ্ন :

১. সারফেস ফিনিশিং কী? সারফেস ফিনিশিং-এর প্রতীক ব্যবহারের প্রয়োজনীয়তা ব্যক্ত কর।
২. বিভিন্ন প্রকার ফিনিশিং-এ ব্যবহৃত স্ট্যান্ডার্ড প্রতীকসমূহ লিপিবদ্ধ কর।

অধ্যায়-১৭

কার্বন স্টিল (Carbon Steel)

১৭.১ কার্বন স্টিল :

বিশুদ্ধ লোহাকে পেটা লোহা বা Wrought Iron বলা হয়। পেটা লোহা দ্বারা যন্ত্রপাতি বা ব্যবহার্য সরঞ্জাম প্রস্তুত করা যায় না কারণ ইহা খুবই নরম। বাস্তব জীবনে বিভিন্ন যন্ত্রপাতির অংশ বা ব্যবহার্য বস্তু তৈরির কাজে লোহাকে ব্যবহার উপযোগী করার জন্য উহার সাথে কিছু পরিমাণ কার্বন মিশ্রিত করে শক্ত ও ব্যবহার উপযোগী করা হয়। এই কার্বন মিশ্রিত লোহাকে কার্বন স্টিল বলা হয়। সাধারণত কার্বন স্টিলে ০.০৩৫% থেকে ১.৫% পর্যন্ত কার্বন মিশ্রিত থাকে। পেটা লোহার সাথে কার্বন যোগ করে অথবা ঢালাই লোহা (Cast Iron) থেকে কার্বন অপসারণ করে কার্বন স্টিল তৈরি করা হয়।

১৭.২ কার্বন স্টিলের প্রকারভেদ :

কার্বনের পরিমাণ অনুসারে ইহা তিন ভাগে বিভক্ত হয়-

- ❖ লো-কার্বন স্টিল
- ❖ মিডিয়াম কার্বন স্টিল
- ❖ হাই কার্বন স্টিল

১৭.৩ বিভিন্ন প্রকার কার্বন স্টিলের উপাদান :

লো-কার্বন স্টিল : ইহা খুব নরম স্টিল এবং কার্বনের হার প্রায় ০.০৩৫ ভাগ হতে ০.২৫ ভাগ পর্যন্ত মিশ্রিত অবস্থায় থাকে।

মিডিয়াম কার্বন স্টিল : ইহা মাইল্ড স্টিল অপেক্ষা শক্ত হয় এবং কার্বনের হার শতকরা ০.২৫ ভাগ হতে ০.৭০ ভাগ পর্যন্ত মিশ্রিত অবস্থায় থাকে।

হাই কার্বন স্টিল : ইহা অন্য দুই প্রকার স্টিল অপেক্ষা শক্ত ধাতু। কার্বনের পরিমাণ ০.৭ ভাগ হতে ১.৫ ভাগ পর্যন্ত মিশ্রিত অবস্থায় থাকে।

১৭.৪ বিভিন্ন প্রকার কার্বন স্টিলের গুণাগুণ :

লো-কার্বন স্টিল :

- ১) নমনীয় এবং বাঁকানো যায়।
- ২) হাতুড়ির আঘাত সহ্য করতে পারে।
- ৩) সহজেই ফাইলিং এবং গায়ে আচড় টানা যায়।
- ৪) ভালোভাবে মেশিনিং করা যায়।
- ৫) টেম্পারিং ও কেইস-হার্ডেনিং করা যায়।
- ৬) সহজেই ওয়েল্ডিং এবং ফোর্জিং করা যায়।
- ৭) গলনাঙ্ক ১৩৭০ ডিগ্রি সে.গ্রো.
- ৮) পীড়ন ৪ থেকে ৫ টন প্রতি বর্গ সেন্টিমিটার।
- ৯) ব্রিনেল হার্ডনেস নং ১২৬-১৫০।

মিডিয়াম কার্বন স্টিল :

- ১) না ভেঙ্গে হাতুড়ির আঘাত সহ্য করতে পারে।
- ২) কষ্ট হলেও ফাইল দ্বারা ঘষা যায়।
- ৩) সহজেই মেশিনিং করা যায়।
- ৪) টেম্পারিং ও হার্ডেনিং করা যায়।
- ৫) সহজেই ওয়েল্ডিং এবং ফোর্জিং করা যায়।
- ৬) গলনাঙ্ক ১৪০০° সেন্টিগ্রেড
- ৭) পীড়ন ৫-৭ টন/বর্গ সেন্টিমিটার।
- ৮) ব্রিনেল হার্ডনেস নং ১৫০-১৮০।

হাই-কার্বন স্টিল :

- ১) হাতুড়ির আঘাতে ভেঙ্গে যায়।
- ২) অত্যন্ত শক্ত ও ভঙ্গুর।
- ৩) গায়ে আঁচড় টানা যায় না।
- ৪) সাধারণ কাটিং টুলের সাহায্যে মেশিনিং করা কষ্টকর।
- ৫) হিট ট্রিটমেন্ট করা যায়।
- ৬) ওয়েল্ডিং ও ফোর্জিং করা যায়।
- ৭) গলনাঙ্ক ১৪০০° সেন্টিগ্রেড
- ৮) পীড়ন ৯-১০ টন/বর্গ সেন্টিমিটার
- ৯) ব্রিনেল হার্ডনেস নং-৭৫০

১৭.৫ বিভিন্ন প্রকার কার্বন স্টিলের ব্যবহার :

- ১) লো-কার্বন স্টিল-বিভিন্ন নির্মাণ কাজে, নাট-বোল্ট, পাত, রড ইত্যাদি তৈরি করতে ব্যবহার হয়।
- ২) মিডিয়াম কার্বন স্টিল-ইহা দ্বারা রেইল, এক্সেল, হাত যন্ত্র, ওয়্যার রোপ প্রভৃতি তৈরিতে ব্যবহার হয়।
- ৩) হাই কার্বন স্টিল-ইহা দ্বারা মেশিনের কাটিং টুলস, ড্রিল, ট্যাপ, ডাই, ফাইল, স্প্রিং, গেজ প্রভৃতি যন্ত্র তৈরি করা হয়।

প্রশ্নমালা-১৭

অতি সংক্ষিপ্ত প্রশ্ন :

১. কার্বন স্টিল কাকে বলে ?
২. কার্বনের পরিমাণ অনুসারে কার্বন স্টিল কত প্রকার ও কী কী ?
৩. লো কার্বন স্টিল কাকে বলে ?
৪. মিডিয়াম কার্বন স্টিল কাকে বলে ?
৫. হাই কার্বন স্টিল কাকে বলে ?

সংক্ষিপ্ত প্রশ্ন :

১. লো কার্বন স্টিলের গুণাগুণ বর্ণনা কর।
২. মিডিয়াম কার্বন স্টিলের গুণাগুণ বর্ণনা কর।
৩. হাই কার্বন স্টিলের গুণাগুণ বর্ণনা কর।
৪. কার্বন স্টিলের ব্যবহার বর্ণনা কর।
৫. বিভিন্ন প্রকার কার্বন স্টিলের উপাদানগুলোর নাম লিখ।

রচনামূলক প্রশ্ন :

১. কার্বন স্টিল বলতে কী বোঝায় তা ব্যক্ত কর। কার্বন স্টিলের ব্যবহার বর্ণনা কর।
২. কার্বন স্টিল কত প্রকার ও কী কী ? প্রত্যেক প্রকারের বর্ণনা দাও।
৩. বিভিন্ন প্রকার কার্বন স্টিলের গুণাগুণ বর্ণনা কর।

অধ্যায়-১৮

অলৌহজাত সংকর ধাতু (Non Ferrous Alloy)

১৮.১ সংকর ধাতু :

দুই বা ততোধিক ধাতব পদার্থের সংমিশ্রণে তাপ ও চাপের সাহায্যে যে নতুন ভৌতধর্ম বিশিষ্ট পদার্থ তৈরি করা হয় তাকে সংকর ধাতু বা অ্যালয় বলা হয়। শুধু অলৌহজাত ধাতুর ব্যবহার সীমিত। তাই বিশেষ গুণ বা শক্তি (Strength) পাওয়ার উদ্দেশ্যে দুই বা ততোধিক ধাতুকে সংমিশ্রণ করে যে মিশ্র ধাতু উৎপন্ন করা হয়, তাকে অ্যালয় বা সংকর ধাতু বলে। যেমন- পিতল, বিয়ারিং মেটাল, স্টেইনলেস স্টিল, ডুরালুমিন ইত্যাদি সংকর ধাতুর উদাহরণ।

১৮.২ মেশিনশপে বহুল ব্যবহৃত অলৌহজাত সংকর ধাতু :

নিম্নে কতকগুলো অলৌহজাত সংকর ধাতুর নাম দেওয়া হলো-

- ১) আলফা ব্রাস (α Brass)
- ২) আলফা-বিটা ব্রাস (α - β Brass)
- ৩) কার্টিজ ব্রাস (Cartridge Brass)
- ৪) হলুদ ব্রাস/মুনজ মেটাল (Yellow Metal/Montz Metal)
- ৫) ফসফার ব্রোঞ্জ (Phosphor Bronze)
- ৬) গান মেটাল (Gun Metal)
- ৭) বেল মেটাল (Bell Metal)
- ৮) জার্মান সিলভার (German Silver)
- ৯) হোয়াইট মেটাল (White Metal)
- ১০) ডুরালুমিন (Duralumin)
- ১১) গিল্ডিং মেটাল (Gilding Metal)
- ১২) ওয়াই অ্যালয় (Y-alloys)

১৮.৩ মেশিনশপে বহুল ব্যবহৃত অলৌহজাত সংকর ধাতুগুলোর উপাদান :

নিম্নে অলৌহজাত সংকর ধাতুর উপাদানসমূহ দেওয়া হলো-

অলৌহজাত সংকর ধাতুর নাম	উপাদান	অলৌহজাত সংকর ধাতুর নাম	উপাদান
আলফা ব্রাস	তামা - ৬১% - ৯৫% দস্তা - ৩৯% - ৫%	গান মেটাল	কপার - ৮৮% টিন - ১০% দস্তা - ২%
আলফা-বিটা ব্রাস	তামা - ৫৩.৪% - ৬১% দস্তা - ৪৬.৬% - ৩৯%	বেল মেটাল	কপার - ৮০% টিন - ২০%

অলৌহজাত সংকর ধাতুর নাম	উপাদান	অলৌহজাত সংকর ধাতুর নাম	উপাদান
কার্টিজ ব্রাস	তামা - ৭০% দস্তা - ৩০%	জার্মান সিলভার	কপার - ৬০% জিঙ্ক - ২২% নিকেল - ১৮%
হলুদ ব্রাস/মুনজ মেটাল	তামা - ৬০% দস্তা - ৪০%	হোয়াইট মেটাল/ব্যাবিট	টিন - ৮৯% এন্টিমনি - ৭.৪% কপার - ৩.৬%
লাল ব্রাস	তামা - ৬৯% - ৮৬% দস্তা - ২০% - ৫% সীসা - ৬% - ৫% টিন - ৫% - ৪%	ডুরালুমিন	কপার - ৩.৫% - ৪.৫% ম্যাঙ্গানিজ - ০.৪% - ০.৭% টিন - ০.৪% ম্যাগনেসিয়াম - ০.৪% - ০.৭% আয়রন - ০.৫ এর নীচে
ফসফার ব্রোঞ্জ	টিন - ৫% - ২০% ফসফরাস - ০.১% - ১.৫% কপার - অবশিষ্ট	গিলডিং মেটাল	কপার - ৯০% - ৯৫% জিঙ্ক - ১০% - ৫%

১৮.৪ সচরাচর ব্যবহৃত অলৌহজাত সংকর ধাতুসমূহের গুণাগুণ :

নিম্নে অলৌহজাত সংকর ধাতুসমূহের গুণাগুণ উল্লেখ করা হলো-

ব্রাস :

- ❖ এর বর্ণ উজ্জ্বল ও হরিদ্রা বর্ণের হয়।
- ❖ উৎকৃষ্টমানের ঢালাই হয়।
- ❖ ভালোভাবে কাটিং করা যায়।
- ❖ আবহাওয়া কর্তৃক আক্রান্ত হয় না বলে উজ্জ্বল থাকে।
- ❖ ঠাণ্ডা অবস্থায় তামার চেয়ে শক্ত।
- ❖ সাধারণত ৯৩০০ সেঃ গ্রেঃ তাপমাত্রায় গলে যায়।

ব্রোঞ্জ :

- ❖ উজ্জ্বল ও সোনালি বর্ণের হয়।
- ❖ ব্রোঞ্জ, ব্রাস অপেক্ষা শক্ত এবং দেখতে লাল আভাযুক্ত হরিদ্রা বর্ণের হয়।
- ❖ তরল হয় বলে ঢালাই করা সহজ।
- ❖ উত্তম রূপে কাটিং করা যায়।
- ❖ হঠাৎ কম্পন সহ্য করতে পারে।
- ❖ ড্রয়িং করা যায়।
- ❖ ইহা প্রায় ১০৭৫০ সেঃ গ্রেঃ তাপমাত্রায় গলে যায়।

গান মেটাল :

- ❖ ইহা সমুদ্রের লবণাক্ত পানিতে আক্রান্ত হয় না।
- ❖ ইহা শক্ত ও দীর্ঘস্থায়ী অলৌহজাত ধাতু।
- ❖ প্রায় ৬২০° সেঃ গ্রেঃ তাপমাত্রায় তাপ প্রয়োগ করে তাতে ফোর্জিং করা যায়।
- ❖ ইহা সামুদ্রিক নৌযানের বিভিন্ন ফিটিংস তৈরিতে ব্যবহৃত হয়।
- ❖ প্রায় ৭০০° সেঃ গ্রেঃ তাপ মাত্রায় গলে যায়।

বেল মেটাল :

- ❖ ইহা কাঁসা নামে পরিচিত এবং শক্ত ও ভঙ্গুর।
- ❖ আঘাত করিলে প্রতিধ্বনির সৃষ্টি হয়।

জার্মান সিলভার :

- ❖ প্রকৃত পক্ষে এর সিলভারের সঙ্গে কোন সম্পর্ক নাই।
- ❖ নিকেল যুক্ত থাকে বলে মাঝে মাঝে নিকেল সিলভারও বলা হয়।
- ❖ ইহা প্রায় ৬২৫° সেঃ গ্রেঃ তাপমাত্রায় গলে যায়।

হোয়াইট মেটাল :

- ❖ ইহাকে আবার ব্যাবিট মেটাল ও বলে।
- ❖ সহজেই ইহা ঢালাই হয়।
- ❖ ব্রাস ও গান মেটালের তুলনায় ইহা ঘর্ষণরোধ করতে সক্ষম।
- ❖ ইহা প্রায় ২৩০° সেঃ গ্রেঃ থেকে ৩০০° সেঃ গ্রেঃ তাপমাত্রায় গলে যায়।

১৮.৫ মেশিনশপে বহুল ব্যবহৃত অলৌহজাত সংকর ধাতুসমূহের ব্যবহার :

ব্রাস এর ব্যবহার : ইহা কজা, গৃহস্থালীর বাসন পত্র, বয়লারের টিউব, তার, পাত, ছোট মেশিনের বুশ, বেয়ারিং এবং ক্ষুদ্র ক্ষুদ্র বস্তু ঢালাই ইত্যাদিতে ব্রাস যথেষ্ট পরিমাণে ব্যবহৃত হয়।

ব্রোঞ্জ এর ব্যবহার : স্প্রিং, বিয়ারিং, বেল্ট, স্ক্রু, চেইন, ওয়েল্ডিং রড, কন্ডেনসার টিউব, বাসন পত্র, উপহার সামগ্রী, সৌখিন ও কৃত্রিম গহনাদি তৈরিতে ব্রোঞ্জ বহুল পরিমাণে ব্যবহৃত হয়।

গান মেটাল এর ব্যবহার : কামান, বন্দুক, জাহাজের বিভিন্ন অংশ তৈরিতে, বয়লারের সরঞ্জামাদি, বুশ, বেয়ারিং, ভালভ, ভালভ সিট, ইত্যাদি তৈরিতে গান মেটাল ব্যবহৃত হয়।

বেল মেটাল এর ব্যবহার : গৃহস্থালীর বাসন পত্র, ঘন্টা ইত্যাদি তৈরিতে উক্ত ধাতু ব্যবহৃত হয়। তাছাড়া বুশিং, বীব কক, স্টপ কক ইত্যাদি তৈরিতেও বেল মেটাল ব্যবহার করা হয়।

জার্মান সিলভার : বৈদ্যুতিক রেজিস্টান্স তার, ঘড়ির আধার, চামচ এবং গৃহস্থালির অনেক ক্ষুদ্র ক্ষুদ্র বস্তু তৈরি করা হয়।

হোয়াইট মেটাল এর ব্যবহার : ব্রাস এবং গান মেটালের তুলনায় ইহা উত্তম রূপে বেয়ারিং এর ঘর্ষণ রোধ করতে সক্ষম হয় বলে বিয়ারিং এর উপরিভাগে পাতলা প্রলেপ দেওয়ার কাজে ইহার ব্যবহার বেশি। তাছাড়া স্টোরেজ ব্যাটারির প্লেট, গাড়ির জ্বালানী ট্যাংক, ছাপার অক্ষর তৈরি, বৈদ্যুতিক ফিউজ, বয়লার প্লাগ ইত্যাদি ব্যবহৃত হয়।

প্রশ্নমালা-১৮

অতি সংক্ষিপ্ত প্রশ্ন :

১. সংকর ধাতু বলতে কী বোঝায় ?
২. মেশিন শপে বহুল ব্যবহৃত ৫টি অলৌহজাত সংকর ধাতুর নাম লেখ।
৩. আলফা ব্রাস এর উপাদানগুলির শতকরা হারসহ নাম লেখ।
৪. আলফা-বিটা ব্রাস এর উপাদানগুলির শতকরা হারসহ নাম লেখ।
৫. কার্টিজ ব্রাস এর উপাদানগুলির শতকরা হারসহ নাম লেখ।
৬. হলুদ ব্রাস (Montz Metal) এর উপাদানগুলির শতকরা হারসহ নাম লেখ।
৭. লাল ব্রাস (Red Brass) এর উপাদানগুলির শতকরা হারসহ নাম লেখ।
৮. গান মেটাল এর উপাদানগুলির শতকরা হারসহ নাম লেখ।
৯. জার্মান সিলভার এর উপাদানগুলির শতকরা হারসহ নাম লেখ।
১০. বেল মেটাল এর উপাদানগুলির শতকরা হারসহ নাম লেখ।
১১. হোয়াইট মেটাল এর উপাদানগুলির শতকরা হারসহ নাম লেখ।

সংক্ষিপ্ত প্রশ্ন :

১. ব্রাসের ব্যবহার বর্ণনা কর।
২. ব্রোঞ্জের ব্যবহার বর্ণনা কর।
৩. গান মেটালের ব্যবহার বর্ণনা কর।
৪. বেল মেটালের ব্যবহার বর্ণনা কর।
৫. হোয়াইট মেটালের ব্যবহার বর্ণনা কর।
৬. গান মেটালের ব্যবহার বর্ণনা কর।
৭. জার্মান সিলভারের ব্যবহার বর্ণনা কর।

রচনামূলক প্রশ্ন :

১. ব্রাসের গুণাগুণ বর্ণনা কর।
২. ব্রোঞ্জের গুণাগুণ বর্ণনা কর।
৩. গান মেটালের গুণাগুণ বর্ণনা কর।
৪. বেল মেটালের গুণাগুণ বর্ণনা কর।
৫. হোয়াইট মেটালের গুণাগুণ বর্ণনা কর।
৬. গান মেটালের গুণাগুণ বর্ণনা কর।
৭. জার্মান সিলভারের গুণাগুণ বর্ণনা কর।
৮. অলৌহজাত সংকর ধাতুসমূহের গুণাগুণ বর্ণনা কর।
৯. অলৌহজাত সংকর ধাতুসমূহের ব্যবহার বর্ণনা কর।

মেশিনেবিলিটি (Machinability)

১৯.১ মেশিনেবিলিটি :

কোন কোন ম্যাটারিয়ালকে সম্ভাবজনক তলমসৃণতা সহকারে সহজেই মেশিনিং করা যায়। যেমন খুব ভালো তলমসৃণতা সহকারে অ্যালুমিনিয়ামকে সহজেই মেশিনিং করা যায়। আবার কোন কোন ম্যাটারিয়ালকে সম্ভাবজনক তলমসৃণতা সহকারে মেশিনিং করা খুবই কঠিন। যেমন কার্বন স্টিল মেশিনিং। অতএব, ন্যূনতম খরচে সম্ভাবজনক তলমসৃণতা সহকারে কোন ম্যাটারিয়ালকে নির্বিঘ্নে মেশিনিং করার যোগ্যতাকে ঐ ম্যাটারিয়ালের মেশিনেবিলিটি বলে।


১৯.২ মেশিনেবিলিটির জন্য প্রভাব বিস্তারকারী উপাদান :

নিম্নোক্ত বিষয়াদি মেশিনেবিলিটিকে প্রভাবিত করে। যেমনঃ


- ১) কাটিং টুলের আকৃতি
- ২) কাটিং টুলের জীর্ণতা
- ৩) কাটিং টুলের ম্যাটারিয়ালের ধরন
- ৪) কাটিং স্পিড
- ৫) ডেপথ অব কাট ও ফিড
- ৬) ওয়াকপিস বঁধার ধরন
- ৭) ওয়াকপিস ম্যাটারিয়ালের শক্ততা ও উপাদান
- ৮) ওয়াকপিস ম্যাটারিয়ালের আন্তঃক্রমণ গঠন ও টানা শক্তি।

১৯.৩ বিভিন্ন প্রকার চিপস :

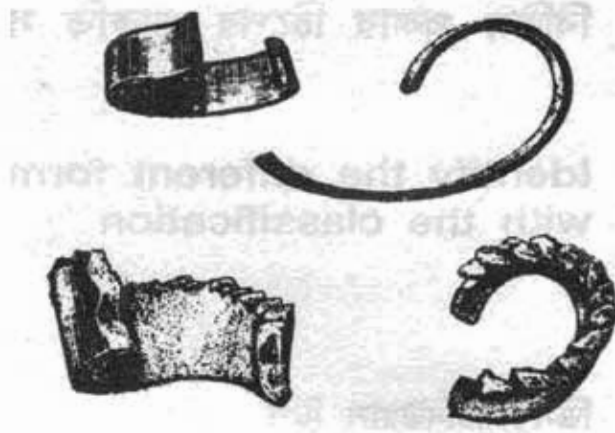
১. ডিস কন্টিনিউয়াল চিপস (Dis continious chips) :



২. কন্টিনিউয়াল চিপস (Continious chips) :




৩. হেভি ডিউটি চিপস (Heavy duty chips) :



৪. চ্যাটার চিপস (Chatter chips) :



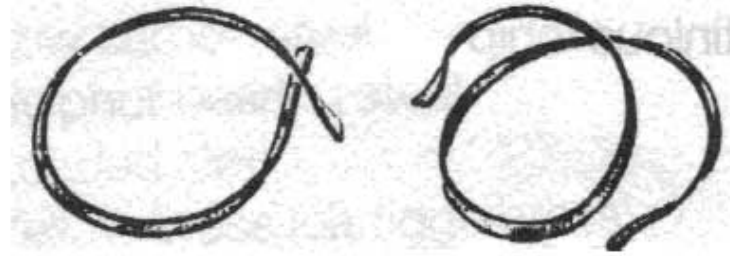
৫. ফিগার নাইন চিপস (Figure nine chips) :



৬. হেলিক্স চিপস (Helix chips) :



৭. স্নার্ল চিপস (Snarl chips) :



৮. ওভার ব্রোকেন চিপস (Over broken chips) :



১১.৪ চিপস উৎপাদনকারী ও চিপস বিহীন মেশিনসমূহঃ

নিম্নে চিপস উৎপাদনকারী মেশিনসমূহের নাম দেওয়া হলো-

- ১) লেদ মেশিন (Lathe Machine)
- ২) মিলিং মেশিন (Milling Machine)
- ৩) শেপার মেশিন (Shaper Machine)
- ৪) প্লেনার মেশিন (Planer Machine)
- ৫) ড্রিলিং মেশিন (Drilling Machine)
- ৬) রীমিং মেশিন (Reaming Machine)
- ৭) হবিং মেশিন (Hobing Machine)
- ৮) গ্রাইন্ডিং মেশিন (Grinding Machine)
- ৯) বোরিং মেশিন (Boring Machine)
- ১০) রুটিং মেশিন (Routing Machine)
- ১১) পাওয়ার হ্যাক্স-স মেশিন (Power Hacksaw Machine)

চিপস বিহীন মেশিনসমূহ :

- ১) শিয়ার মেশিন (Shear Machine)
- ২) ফর্মিং মেশিন (Forming Machine)

- ৩) রোলিং মেশিন (Rolling Machine)
- ৪) ফোর্জিং মেশিন (Forging Machine)

১৯.৪ কাটিং টুলস থেকে চিপস রিমুভ করার উপায় :

হাই স্পিড মেশিনিং অপারেশন চলার সময় চিপস নিয়ন্ত্রণ করা অপারেটর এবং টুল উভয়ের জন্য গুরুত্বপূর্ণ। চিপসের গঠন নিয়ন্ত্রণ করতে চিপ ব্রেকার ব্যবহৃত হয়। চিপ ব্রেকার চিপকে বক্রাকার করে এবং চিপের উপর চাপ প্রয়োগ করে, ফলে চিপ ক্ষুদ্র ক্ষুদ্র দৈর্ঘ্যে ভেঙ্গে যায়। তখন মেশিন হতে চিপস অপসারণ করা সহজ হয়।

নিম্নে বিভিন্ন মেশিনিং অপারেশনে কাটিং টুলস হতে চিপস রিমুভ করার উপায় উল্লেখ করা হলো-

- ১) গ্রাইন্ডিং হুইলের চিপস রিমুভ করার জন্য হুইল ড্রেসার ব্যবহার করতে হবে।
- ২) লেদ মেশিনের লেদ কাটিং টুলস এর চিপস রিমুভ করার জন্য চিপ-ব্রেকার ব্যবহার করতে হবে। সাথে সাথে কাটিং ফ্লুইডও ব্যবহার করতে হবে।
- ৩) মিলিং কাটারের চিপস রিমুভ করার জন্য কাটিং ফ্লুইড ব্যবহার করতে হবে।
- ৪) শেপার কাটারের চিপস রিমুভ করার জন্য চিপস ব্রেকার ও কাটিং ফ্লুইড ব্যবহার করতে হবে।
- ৫) ড্রিল বিটের চিপস রিমুভ করার জন্য কাটিং ফ্লুইড ব্যবহার করতে হবে।

অনুশীলনী-১৯

অতি সংক্ষিপ্ত প্রশ্ন :

১. মেশিনেবিলিটি বলতে কী বোঝায় ?
২. চিপস কত প্রকার ?
৩. ৪টি চিপস উৎপাদনকারী মেশিনের নাম লেখ।
৪. ৪টি চিপস বিহীন মেশিনের নাম লেখ।

সংক্ষিপ্ত প্রশ্ন :

১. চিপস কত প্রকার ও কী কী ?
২. চিপস উৎপাদনকারী ও চিপস বিহীন মেশিনের নাম লেখ।
৩. মেশিনেবিলিটির জন্য প্রভাব বিস্তারকারী উপাদানসমূহ লিপিবদ্ধ কর।

রচনামূলক প্রশ্ন :

১. মেশিনেবিলিটি বলতে কী বোঝায় ? মেশিনেবিলিটির জন্য প্রভাব বিস্তারকারী উপাদানসমূহ লিপিবদ্ধ কর।
২. কাটিং টুলস হতে চিপস রিমুভ করার উপায় বর্ণনা কর।

অধ্যায়-২০

কাটিং টুলস (Cutting Tools)

২০.১ সিঙ্গেল পয়েন্ট লেদ টুলের পরিচিতি :

ধাতু বা মেটালকে সঠিক ভাবে, সূক্ষতার সাথে ও দক্ষতার সাথে মেশিনিং করার জন্য সঠিক কোণে গ্রাইন্ডিং করা, দৃঢ়ভাবে বাধা কাটিং এজ বিশিষ্ট লেদ টুলের একান্ত দরকার যা ঐ ধাতু কাটার উপযোগী ও উহা সঠিক উচ্চতায় ধাতু কাটার জন্য সেট করা আছে। লেদ মেশিনের ক্ষেত্রে মোটর থেকে উৎপাদিত যান্ত্রিক শক্তিকে প্রধানত দুইটি কাজে ব্যবহার করা হয়। প্রথমত কার্যবস্তুর ঘূর্ণন গতি প্রদান এবং দ্বিতীয়ত স্থির কাটিং টুলকে ক্যারিজের মাধ্যমে বিভিন্ন দিকে ও গতিতে চালনা করা। মূলত কাটিং টুলই কার্যবস্তুর কেটে বা ক্ষয় করে বিভিন্ন আকার ও আকৃতি প্রদান করে। যে টুলের তীক্ষ্ণ ধার দ্বারা লেদ মেশিনে বিভিন্ন কার্যবস্তু থেকে অতিরিক্ত ও অপ্রয়োজনীয় ধাতু কেটে বা ক্ষয় করে কাঙ্ক্ষিত আকার, আকৃতি ও মসৃণতা প্রদান করা হয়, তাকে লেদ কাটিং টুল বলা হয়। কেবলমাত্র ভালো লেদ মেশিন হলেই ভালো কাজ পাওয়া যায় না। লেদের উৎপাদনের পরিমাণ এবং নির্ভুলতা (Accuracy) কাটিং টুলের কাটার দক্ষতার উপর অনেকাংশে নির্ভর করে।

কাটিং টুলের দক্ষতা নিম্নলিখিত বিষয়গুলির উপর নির্ভর করে :


- ❖ কাটিং টুলের উপাদান
- ❖ কাটিং টুলের ডিজাইন
- ❖ কার্যবস্তুর উপাদান
- ❖ কাটিং স্পিড
- ❖ কাটিং ফিড ও ডেপথ অব কাট
- ❖ কাটিং ফ্লুইডের ব্যবহার

কাটিং টুল প্রধানত দুই প্রকার। যথা-

- ❖ সিঙ্গেল পয়েন্ট কাটিং টুল
- ❖ মাল্টি পয়েন্ট কাটিং টুল।

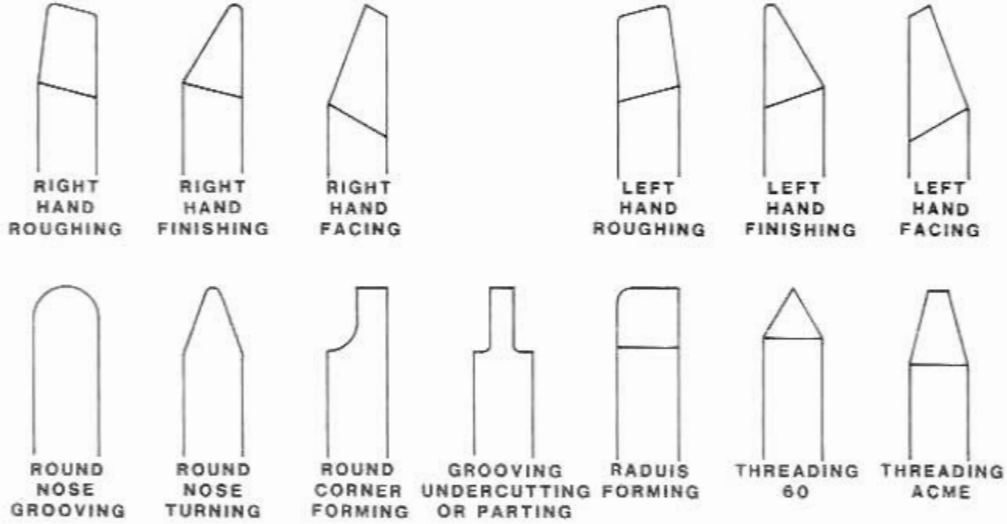
সিঙ্গেল পয়েন্ট কাটিং টুল :

যে সকল কাটিং টুলে একটি মাত্র কাটিং পয়েন্ট বা কাটিং এজ থাকে, তাকে সিঙ্গেল পয়েন্ট কাটিং টুল বলে।



চিত্র-২০.১ঃ সিঙ্গেল পয়েন্ট কাটিং টুল (টুল হোল্ডার সহ)

সিমেন্ট পয়েন্ট লেন কাটিং টুলের প্রকারভেদ :



চিত্র-২০.২(ক)ঃ বিভিন্ন প্রকার সিমেন্ট পয়েন্ট কাটিং টুল

বিভিন্ন আকৃতির সিমেন্ট পয়েন্ট লেন কাটিং টুলের নাম নিম্নে উল্লেখ করা হলো-

১. বাম হাতি ফেসিং টুল (Left hand facing tool)
২. ডান হাতি ফেসিং টুল (Right hand facing tool)
৩. বাম হাতি রাফ টার্নিং টুল (Left hand rough turning tool)
৪. ডান হাতি রাফ টার্নিং টুল (Right hand rough turning tool)
৫. বাম হাতি ফিনিশ টার্নিং টুল (Left hand finish turning tool)
৬. ডান হাতি ফিনিশ টার্নিং টুল (Right hand finish turning tool)
৭. রাউন্ড নোজ টুল (Round nose tool)
৮. স্ট্রেইট পার্টিং টুল (Straight parting tool)
৯. রেডিয়াস পার্টিং টুল (Radius parting tool)
১০. রেডিয়াস গ্রাভিং টুল (Radius grooving tool)
১১. অ্যাঙ্গুলার পার্টিং টুল (Angular parting tool)
১২. বেন্ট টাইপ পার্টিং টুল (Bent type parting tool)
১৩. ভি-থ্রেড কাটিং টুল (V-thread cutting tool)
১৪. স্কয়ার থ্রেড কাটিং টুল (Square thread cutting tool)
১৫. একমি থ্রেড কাটিং টুল (Acme thread cutting tool)
১৬. বাটটরেন্স থ্রেড কাটিং টুল (Buttress thread cutting tool)
১৭. কনকেইভ ফর্ম টুল (Concave form tool)
১৮. কনভেক্স ফর্ম টুল (Convex form tool)

১৯. বোরিং টুল (Boring tool)

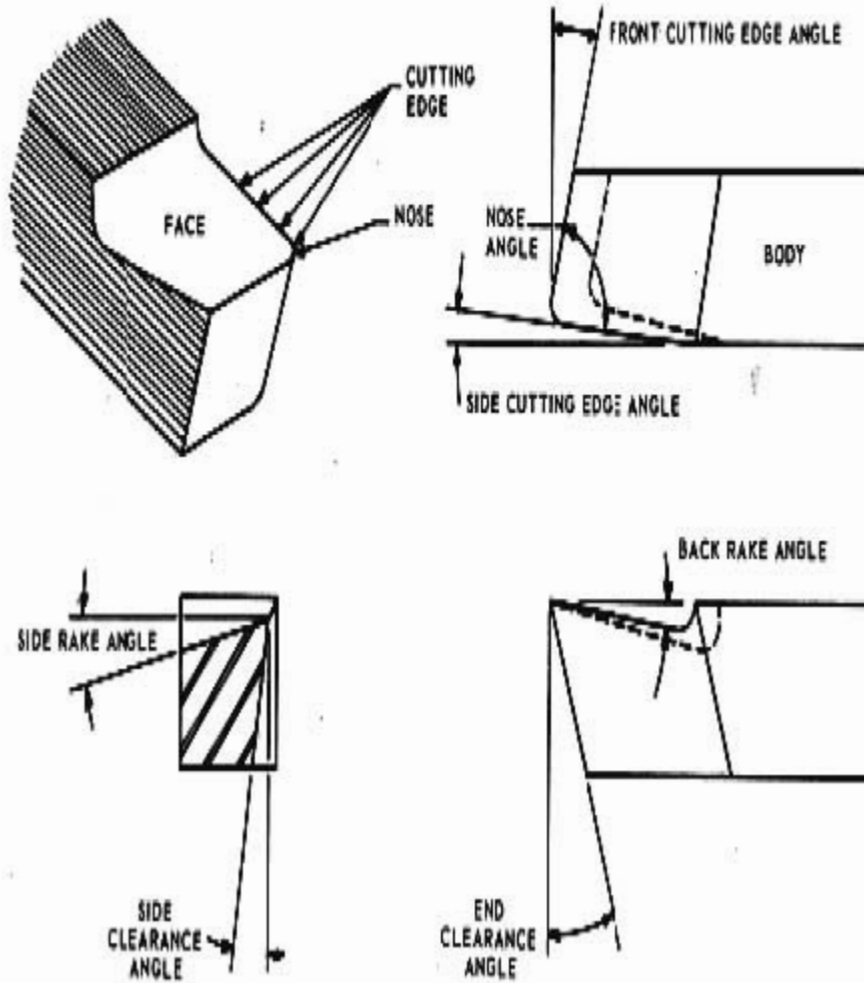


বোরিং টুল

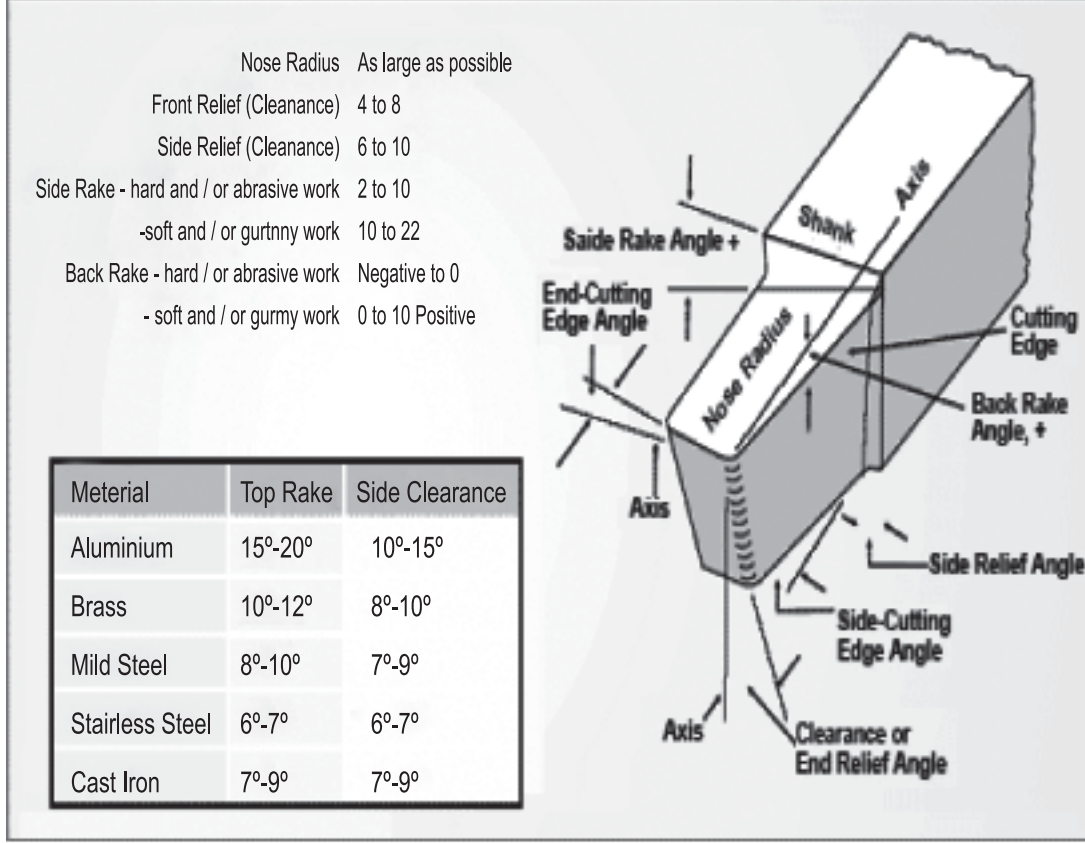
কাটিং অফ টুল

চিত্র-২০.২(খ): বিভিন্ন প্রকার সিলেবল পয়েন্ট কাটিং টুল

২০.২ সিলেবল পয়েন্ট সেম টুলের গঠন :



চিত্র-২০.৩ঃ সিলেবল পয়েন্ট কাটিং টুলের গঠন



চিত্র-২০.৪ঃ সিঙ্গেল পয়েন্ট লেদ টুল-এর বিভিন্ন অংশ

সিঙ্গেল পয়েন্ট লেদ কাটিং টুলের বিভিন্ন অংশের বর্ণনা :

শ্যাংক (Shank) : শ্যাংক হলো টুল বিটের গ্রাইন্ডিং বিহীন অংশ যাহা কাটিং টুলকে টুল পোস্টে অথবা টুল হোল্ডারে আটকাতে ব্যবহৃত হয়। শ্যাংকের নিম্নের সমতলকে বেইস বা ভূমি বলা হয়।

ফেইস (Face) : এটি সিঙ্গেল পয়েন্ট কাটিং টুলের একটি তল যা কাটিং সৃষ্টি করে এবং এটির উপর দিয়ে উৎপন্ন ধাতুর চিপসগুলো উপরের দিকে ছুটে যায়।

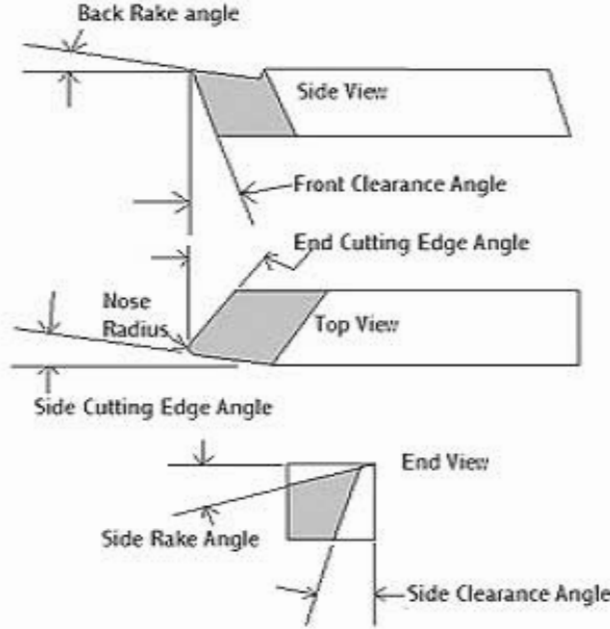
ফ্ল্যাংক (Flank) : কাটিং টুলের যে অংশ কার্যবস্তুর মুখোমুখি থাকে তাকে ফ্ল্যাংক বলে। অর্থাৎ কাটিং প্রান্তের পার্শ্বে অবস্থিত তলকে ফ্ল্যাংক বলা হয়। এটি এন্ড ফ্ল্যাংক এবং সাইড ফ্ল্যাংক এই দুই প্রকারের হয়ে থাকে। ফ্ল্যাংকের সাহায্যে কাটিং এজ সৃষ্টি হয়।

নোজ রেডিয়াস (Nose Radius) : সাইড কাটিং এজ এবং এন্ড কাটিং এজের সংযোগ স্থলকে নোজ বলা হয় এবং দীর্ঘ টুল লাইফ ও মসৃণ তল পাওয়ার জন্য নোজে প্রায় ১.৫ মি.মি. এর মত রেডিয়াস রাখা হয়, তখন এই অংশকে নোজ রেডিয়াস বলে।

কাটিং এজ (Cutting Edge) : ফেইস এবং ফ্ল্যাংক পরস্পর যে রেখায় মিলিত হয় তাকে কাটিং এজ বলে। কাটিং এজের সাহায্যে কার্যবস্তুর কাটা হয়।

সিসেল পয়েন্ট কাটিং টুলের বিভিন্ন অ্যাঙ্গেলের বর্ণনা :

Tool Bit Geometry



চিত্র-২০.৫ঃ সিসেল পয়েন্ট সেল টুল-জিওমেট্রি

ব্যাক রেক অ্যাঙ্গেল (Back rake angle) :

ব্যাক রেক অ্যাঙ্গেল জব হতে চিপ ধ্বংসের দিক নিয়ন্ত্রণ করে। সাধারণত নরম ধাতুর জন্য অধিক পরিমাণ ব্যাক রেক অ্যাঙ্গেল ব্যবহৃত হয়। ব্যাক রেক অ্যাঙ্গেল পজিটিভ, নিউট্রাল অথবা নেগেটিভ হতে পারে। টুল কেইস যখন কাটিং এজ হতে শ্যাংকের দিকে চালু হয় তখন ধনাত্মক ব্যাক রেক অ্যাঙ্গেল পাওয়া যায়। হালকা কাজের জন্য এ ধরনের অ্যাঙ্গেল উপযোগী এবং এ অ্যাঙ্গেল চিপসকে বেশি সারকেস হতে দূরে নিয়ে যায়। আবার টুল কেইস যখন শ্যাংক হতে কাটিং এজের দিকে চালু হয় তখন ঋণাত্মক ব্যাক রেক অ্যাঙ্গেল পাওয়া যায়।

সাইড রেক অ্যাঙ্গেল (Side rake angle) :

টুল কেইস যদি সাইড কাটিং এজের দিকে উর্ধ্বমুখী হয়ে চালু হয় তবে ধনাত্মক সাইড রেক অ্যাঙ্গেল তৈরি হয়। এ অ্যাঙ্গেল ঠাইজিং করার ফলে সাইড কাটিং এজ ধারালো হয় এবং খাতু কাটতে সক্ষম হয়। সাধারণত সাইড টুলে সাইড রেক অ্যাঙ্গেল ঠাইজিং করা হয়। সাইড রেক অ্যাঙ্গেল জব হতে চিপ ধ্বংসের দিক নিয়ন্ত্রণ করে। সাধারণত 6° - 15° পরিমাণ সাইড রেক অ্যাঙ্গেল ঠাইজিং করা হয়।

সাইড রিলিফ অ্যাঙ্গেল/সাইড ক্লিয়ারেন্স অ্যাঙ্গেল :

সুর্নয়ত ওয়াকপিসের পার্শ্বকে ভেদ করে ভিতরে ঢুকে যাওয়ার জন্য সাইড রিলিফ অ্যাঙ্গেল কাটিং টুলকে সাহায্য করে। ফলে ঘর্ষণ ব্যতিরেকে কাটিং টুল খাতু কাটতে সমর্থ হয়। সাধারণত 6° - 8° সাইড রিলিফ

অ্যাংগেল গ্রাইন্ডিং করা হয়। সাইড রিলিক অ্যাংগেল খুব কম হলে টুলকে কিড দিতে অসুবিধা হয়, টুল জবের মধ্যে সহজে ঢুকে না, জবের সাথে টুলের ঘর্ষণ হয়, টুল অধিক পরিমাণে উত্তপ্ত হয়, টুল তাড়াতাড়ি জোঁতা হয়ে যায় এবং জবের ডলের মসৃণতা বিনষ্ট হয়।

এন্ড রিলিক বা ক্রস্ট ক্লিয়ারেন্স অ্যাংগেল :

এন্ড রিলিক অ্যাংগেল জব ও টুলের মধ্যে ঘর্ষণ রোধ করে। সাধারণতঃ ৮° - ১৫° এন্ড রিলিক অ্যাংগেল গ্রাইন্ডিং করা হয়। এন্ড রিলিক অ্যাংগেল খুব কম হলে জবের সাথে টুল ক্লিয়ারেন্স ঘর্ষণ লাগবে, টুল খাত্তু কম কঠিবে এবং জবের ডলের মসৃণতা নষ্ট হবে। আবার এন্ড রিলিক অ্যাংগেল খুব বেশি হলে টুল পয়েন্ট ও কাটিং এজ দুর্বল হয়ে ভেঙ্গে যাবে।

সাইড কাটিং এজ অ্যাংগেল :

সাইড কাটিং এজ এবং কাটিং টুলের রৈখিক অক্ষের মধ্যে যে কোণ তাকে সাইড কাটিং এজ অ্যাংগেল বলা হয়। ইহা কিন্ট-আপ এজ রোধ করে চিপ প্রবাহের দিক নিয়ন্ত্রণ করে এবং সমস্ত কাটিং এজের মধ্যে কাটিং বল ও ডাশ বিতৃত করে দেয়। এ অ্যাংগেল কম হলে জবের সাথে টুলের ঘর্ষণ হয় বলে খাত্তু কাটি বিলম্বিত হয়। সাইড কাটিং এজ অ্যাংগেল ১৫° হলো আদর্শ কোণ। এর খুব বেশি সাইড কাটিং এজ অ্যাংগেল রাখলে কাটিং টুল দুর্বল হয়।

এন্ড কাটিং এজ বা ক্রস্ট কাটিং এজ অ্যাংগেল

টুল কেইস টুল শ্যাঙ্কের পার্শ্বতলের লব রেখার সাথে যে কোণ সৃষ্টি করে তাকে এন্ড কাটিং এজ অ্যাংগেল বলে। গুয়াকলিস এবং টুলের কিনারার সাথে ঘর্ষণ পরিহার করার জন্য এ অ্যাংগেল রাখা হয়। সাধারণত এন্ড কাটিং এজ অ্যাংগেল ৫° হতে ১৫° এর মধ্যে সীমাবদ্ধ রাখা হয়।

২০.৩ লেকট হ্যান্ড ও রাইট হ্যান্ড লেন কাটিং টুল শনাক্ত করণ :

কিড দেওয়ার দিক অনুসারে কাটিং টুলকে দুই ভাগে ভাগ করা যায়। যথা-

- ক) লেকট হ্যান্ড কাটিং টুল বা বাম হাতি কাটিং টুল,
- খ) রাইট হ্যান্ড কাটিং টুল বা ডান হাতি কাটিং টুল।

ডান হাতি কাটিং টুলকে ডান দিক থেকে বাম দিকে কিড দেওয়া হয় অর্থাৎ লেনের টেইল স্টকের দিক থেকে হেড স্টকের দিকে। সুতরাং ডান হাতি কাটিং টুলের কাটিং এজ থাকে বাম দিকে।



বাম হাতি ডান হাতি
চিত্র-২০.৬ঃ টুল শনাক্ত করণ

অপরপক্ষে বাম হাতি কাটিং টুলে বামদিক থেকে ডানদিকে কিড দেওয়া হয় অর্থাৎ লেনের হেডস্টক থেকে টেইলস্টকের দিকে কিড দেওয়া হয়। সুতরাং এর প্রধান কাটিং এজ ডান দিকে থাকে। কোন কাটিং টুল ডানহাতি না বাম হাতি তাহা শনাক্ত করার জন্য প্রথমে কাটিং টুলকে, কাটিং এজ ওপর দিক রাখা অবস্থায় টেবিলে রেখে উহার ওপর হাত এমনভাবে স্থাপন করতে হবে যেন হাতের আঙ্গুলগুলো কাটিং টুলের মুখের দিকে নির্দিষ্ট হয় (চিত্র-২০.৬)। বাম হাতের বৃদ্ধাঙ্গুলি যদি কাটিং টুলের প্রধান কাটিং এজ নির্দেশ করে তবে উহা বাম হাতি লেন টুল বুঝতে হবে। অপরপক্ষে ডিয়ানুয়ারী ডান হাত কাটিং টুলের ওপর স্থাপন করলে যদি

বৃদ্ধাঙ্গুলি কাটিং টুলের প্রধান কাটিং এজ নির্দেশ করে তবে উহা ডান হাতি লেদ কাটিং টুল বুঝতে হবে। ডান হাতি কাটিং টুলের মাধ্যমে টেইল স্টকের দিকে এবং বাম হাতি কাটিং টুলের মাধ্যমে হেডস্টকের দিকে তল উৎপন্ন হয়।



বাম হাতি লেদ কাটিং টুল



ডান হাতি লেদ কাটিং টুল

চিত্র-২০.৭ ডান হাতি ও বাম হাতি কাটিং টুল (টুল হোল্ডার সহ)

২০.৪ লেদ কাটিং টুল পদার্থসমূহ (Lathe cutting tool materials) :

কাটিং টুলের ধাতু সর্বাত্মে শক্ত হওয়া প্রয়োজন কারণ কাটিং টুলকে অপর ধাতুকে ছেদ করে কর্তন করার ক্ষমতা থাকতে হবে। এ ছাড়াও কাটিং টুল যাতে ধাক্কা সহ্য করতে পারে তার জন্য দুচ্ছেদ্য (Tough) হওয়া প্রয়োজন এবং ক্ষয়রোধ ক্ষমতা (Wear resistance) বিশিষ্ট হতে হয়। সাধারণত লেদ কাটিং টুল তৈরি করতে নিম্নলিখিত পদার্থগুলি ব্যাপকভাবে ব্যবহৃত হয়-

- ❑ হাই কার্বন স্টিল (High Carbon Steel)
- ❑ হাই স্পিড স্টিল (High Speed Steel)
- ❑ কাস্ট নন-ফেরাস অ্যালয় (Cast Non-Ferrous Alloy)
- ❑ সিমেন্টেড কার্বাইড (Cemented Carbide)
- ❑ সিরামিক বা সিন্টারড অক্সাইড (Ceramic or Sintered Oxide)
- ❑ ডায়মন্ড (Diamond)

২০.৫ মাল্টি পয়েন্ট লেদ কাটিং টুল :

যে সকল কাটিং টুলে দুই বা ততোধিক কাটিং পয়েন্ট বা কাটিং এজ থাকে, তাকে মাল্টি পয়েন্ট কাটিং টুল বলা হয়। যথা-

- ❖ নার্লিং টুল (Knurling Tool)
- ❖ সেন্ট্রাল ড্রিল বিট (Centre Drill Bit)
- ❖ টুইস্ট ড্রিল বিট (Twist Drill Bit)
- ❖ রিয়ার (Reamer)



চিত্র-২০.৮ঃ নার্লিং টুল



চিত্র-২০.৯ঃ সেন্টার ড্রিল

- ◆ ট্যাপ (Tap)
- ◆ থ্রেড চেসার (Thread Chaser)/থ্রেডিং টুল
- ◆ ডাই (Die)



চিত্র-২০.১০ঃ টুইস্ট ড্রিল বিট



চিত্র-২০.১১ঃ রিমাৰ



চিত্র-২০.১২ঃ ট্যাপ



চিত্র-২০.১৩ঃ থ্রেডিং টুল/থ্রেড চেসার



চিত্র-২০.১৪ঃ ডাই

প্রশ্নমালা-২০

অতি সংক্ষিপ্ত প্রশ্ন :

১. কাটিং টুল কাকে বলে ?
২. কাটিং টুল প্রধানত কত প্রকার ও কী কী ?
৩. সিঙ্গেল পয়েন্ট কাটিং টুল কাকে বলে ?
৪. মাল্টি পয়েন্ট কাটিং টুল কাকে বলে ?
৫. কাটিং টুলের শ্যাংক কাকে বলে ?
৬. কাটিং টুলের ফ্ল্যাংক কাকে বলে ?
৭. কাটিং এজ কাকে বলে ?
৮. সিঙ্গেল পয়েন্ট কাটিং টুলের সর্বনিম্ন অংশের নাম লেখ।
৯. এন্ড রিলিফ অ্যাংগেলের পরিমাণ সাধারণত কত ডিগ্রি হয় ?
১০. সাইড রেক অ্যাংগেলের পরিমাণ সাধারণত কত ডিগ্রি হয় ?
১১. লেফট হ্যান্ড লেদ টুল কাকে বলে ?
১২. রাইট হ্যান্ড লেদ টুল কাকে বলে ?
১৩. সবচেয়ে শক্ত কাটিং টুল কোন পদার্থ দিয়ে তৈরি করা হয় ?
১৪. সিঙ্গেল পয়েন্ট কাটিং টুলের বিভিন্ন অংশের নাম লেখ।
১৫. ৫টি মাল্টি পয়েন্ট কাটিং টুলের নাম লেখ।

সংক্ষিপ্ত প্রশ্ন :

১. কাটিং টুল বলতে কী বোঝায় উল্লেখ কর।
২. কাটিং টুলের ধাতু কাটার দক্ষতা কী কী বিষয়ের উপর নির্ভর করে।
৩. সিঙ্গেল পয়েন্ট ও মাল্টি পয়েন্ট কাটিং টুল বলতে কী বোঝায় ?
৪. বিভিন্ন প্রকার মাল্টি পয়েন্ট কাটিং টুলের নাম লেখ।
৫. সিঙ্গেল পয়েন্ট কাটিং টুলের চিত্র অঙ্কন করে বিভিন্ন অংশ দেখাও।
৬. সিঙ্গেল পয়েন্ট কাটিং টুলের বিভিন্ন কোণ গুলোর নাম লেখ।
৭. ডান হাতি এবং বাম হাতি কাটিং টুল কাকে বলে ?
৮. কী কী পদার্থ দ্বারা লেদ কাটিং টুল তৈরি হয় ?
৯. বিভিন্ন প্রকার সিঙ্গেল পয়েন্ট কাটিং টুলের নাম লেখ।

রচনামূলক প্রশ্ন :

১. লেদ কাটিং টুল বলতে কী বোঝায় চিত্রসহ বর্ণনা কর।
২. লেদ কাটিং টুলের বৈশিষ্ট্য ব্যাখ্যা কর।
৩. লেদ মেশিনে ব্যবহৃত সিঙ্গেল পয়েন্ট ও মাল্টি পয়েন্ট কাটিং টুলগুলোর নাম লিখে বর্ণনা কর।
৪. সিঙ্গেল পয়েন্ট কাটিং টুলের টুল জিওমেট্রি বর্ণনা কর।
৫. সিঙ্গেল পয়েন্ট কাটিং টুলের বিভিন্ন অংশগুলোর বর্ণনা কর।
৬. সিঙ্গেল পয়েন্ট কাটিং টুলের বিভিন্ন অ্যাংগেলগুলোর বর্ণনা কর।
৭. লেফট হ্যান্ড ও রাইট হ্যান্ড লেদ টুলের কাজ ও শনাক্তকরণ প্রক্রিয়া বর্ণনা কর।
৮. লেদ কাটিং টুল পদার্থগুলোর গুণাবলী বর্ণনা কর।

অধ্যায়-২১

লুব্রিক্যান্টস (Lubricants)

২১.১ লুব্রিকেন্ট এর পরিচিতি :

ইহা এক প্রকার চটচটে প্রাকৃতিক পিচ্ছিলকারক পদার্থ যাহা প্রধানত মেশিনের জীবনীশক্তি রূপে মেশিন ও উহার চলমান বিভিন্ন অংশকে ঘর্ষণজনিত ক্ষয়ক্ষতির হাত হতে যথাযথ ভাবে রক্ষা করে ইহাদের কার্য ক্ষমতাকে অক্ষুন্ন রাখতে এবং ঘর্ষণ জনিত কারণে উৎপন্ন তাপকে কমিয়ে মসৃণ ভাবে চালনা করতে ব্যবহার করা হয়।

২১.২ লুব্রিকেন্টের প্রয়োগ ক্ষেত্র :

লুব্রিকেন্ট সাধারণত নিম্ন লিখিত ক্ষেত্রে ব্যবহৃত হয়ে থাকে। যেমন-

- ক) মিলিত অংশ দুইটির মধ্যে ঘর্ষণ হেতু যে ক্ষয়ক্ষতি হয়, তাকে কমাতে সাহায্য করে।
- খ) দুইটি চালিত অংশ সমূহের মধ্যে ঘর্ষণ জনিত উৎপন্ন তাপকে প্রতিরোধ করিতে সাহায্য করে।
- গ) একটি অংশ অপর অংশের উপর মসৃণ ভাবে চলতে সাহায্য করে।
- ঘ) একটি অংশ অপর অংশের উপর মসৃণ ভাবে ঘুরতে বা চলাচল করতে সাহায্য করে।
- ঙ) মেশিনকে উহার অংশগুলিকে মরিচা বা ক্ষয়জনিত ক্ষয় রোধ করতে সাহায্য করে।

২১.৩ লুব্রিকেন্টের প্রকারভেদ :

প্রয়োগ বিধি অনুযায়ী লুব্রিকেন্টকে প্রধানত তিন শ্রেণিতে ভাগ করা যায়। যেমন-

লিকুইড লুব্রিকেন্টস (Liquid Lubricants)

- ◆ সেমি লিকুইড লুব্রিকেন্টস (Semi-liquid Lubricants)
- ◆ সলিড লুব্রিকেন্টস (Solid Lubricants)

বিভিন্ন প্রকার লিকুইড লুব্রিকেন্টস আবার নিম্নলিখিত নামে বাজারে পাওয়া যায়। যথা-

স্ট্রেইট মিনারেল অয়েল (Straight Mineral Oil)

- ▶ স্পিন্ডেল অয়েল (Spindle Oil)
- ▶ হাইড্রলিক অয়েল (Hydraulic Oil)
- ▶ স্লাইডওয়ে অয়েল (Slideway Oil)
- ▶ গিয়ার অয়েল (Gear Oil)

স্ট্রেইট মিনারেল অয়েল (Straight Mineral Oil) :

এটি এক প্রকার খনিজ তেল যার সাথে মরিচা ও ক্ষয়রোধী রাসায়নিক পদার্থ মিশ্রিত থাকে। বিয়ারিং, গিয়ার, স্লাইডওয়ে এবং পিড-ব্লু যা অল্প চাপে বা বলে ঘুরতে থাকে তাকে তৈলাক্ত করতে স্ট্রেইট মিনারেল অয়েল ব্যবহৃত হয়।

স্পিন্ডেল অয়েল (Spindle Oil) :

এটি অল্প আঠালো এক প্রকার খনিজ তেল। এটির মধ্যে যন্ত্রপাতির ব্যবহারজনিত ও আবহাওয়াজনিত ক্ষয়রোধী ক্ষমতা আছে। সকল প্রকার স্পিন্ডেল এবং বিয়ারিং তৈলাক্ত করতে স্পিন্ডেল অয়েল ব্যবহৃত হয়।

হাইড্রলিক অয়েল (Hydraulic Oil) :

এটি উত্তমরূপে শোধন করা এক প্রকার খনিজ তেল। এটির ব্যবহার এবং আবহাওয়াজনিত কারণে ক্ষয়রোধ গুণ আছে। হাইড্রলিক অয়েল প্রধানত হাইড্রলিক পদ্ধতি চালনা করার জন্য ব্যবহৃত হয়। তবে এটিকে স্পিন্ডেল, স্লাইডওয়ে এবং গিয়ার তৈলাক্ত করতেও ব্যবহার করা হয়ে থাকে।

স্লাইডওয়ে অয়েল (Slideway Oil) :

এটি উত্তমরূপে বিশুদ্ধকৃত এক প্রকার খনিজ তেল। এটি যন্ত্রাংশের গায়ে উত্তমরূপে পিচ্ছিলকারী এবং ঘর্ষণজনিত কারণে ক্ষয়রোধী গুণসম্পন্ন।

গিয়ার ওয়েল (Gear Oil) :

এটিও উত্তমরূপে বিশুদ্ধকৃত এক প্রকার লুব্রিকেটিং অয়েল যা অপেক্ষাকৃত ঘন। এর সাথে মরিচা এবং ক্ষয়রোধকারী রাসায়নিক পদার্থ মিশ্রিত থাকে। অধিক ভারসহ কার্যরত গিয়ারকে প্রেসার বা বাথ লুব্রিকেশন পদ্ধতিতে তৈলাক্ত করতে গিয়ার অয়েল ব্যবহৃত হয়।

২১.৪ সচরাচর ব্যবহৃত লুব্রিকেটের বাণিজ্যিক নাম :

নিম্নে বিভিন্ন প্রকার লুব্রিকেটের বাণিজ্যিক নাম দেওয়া হলো :

- ◆ গালফ গালফওয়ে-৫২ (Gulf Gulfway-52)
- ◆ গালফ হারমনি-৫৩ (Gulf Harmony-53)
- ◆ গালফ হারমনি-৪৩ এডব্লিউ (Gulf Harmony-43 AW)
- ক্যালটেক্স ওয়েললুব্রিকেন্ট (Caltex Waylubricant)
- ক্যালটেক্স অয়েল এইচডিএ (Caltex Oil HDA)
- ক্যালটেক্স র্যান্ডো অয়েল এইচডিসি (Caltex Rando Oil HDC)
- ক্যালটেক্স রিগ্যাল অয়েল এ আর এন্ড ও (Caltex Regal Oil A R & O)
- ◆ শেল টেলাস অয়েল-২৭ (Shell Tellus-27)
- ◆ শেল টেলাস অয়েল-২৯ (Shell Tellus-29)
- ◆ শেল টোনা অয়েল-৩৩ (Shell Tonna Oil-33)
- ক্যাস্ট্রল মেঘনা বিডি (Castrol Meghna BD)
- ক্যাস্ট্রল হিসপিন-৮০ (Castrol Hypsin-80)
- ক্যাস্ট্রল হিসপিন-১০০ (Castrol Hypsin-100)
- ◆ মবিল ভ্যাকট্রা অয়েল-২ (Mobil Vactra Oil-2)
- ◆ মবিল ভ্যাকট্রা অয়েল হেভি মিডিয়াম (Mobil Vactra Oil Heavy Medium)
- ◆ মবিল ডিটিই-২৫ (Mobil DTE-25)
- ◆ বিডি ইনারগল এইচপি ২০সি (BD Energol HP 20C)
- ◆ বিডি ইনারগল এইচএলপি ৮০ (BD Energol HLP 80)
- ◆ বিডি ইনারগল এইচএলপি ১০০ (BD Energol HLP 100)

- ▣ এসো ফেবিস কে-৫৩ (Esso Febis K-53)
- ▣ এসো নুটো এইচ-৫৪ (Esso Nuto H-54)
- ▣ এসো ইউনিভিস জে-৫৮ (Esso Univis J-58)
- ▣ টেকসাকো ওয়েলুব্রিকেন্ট ডি (Texaco Waylubricant D)
- ▣ টেকসাকো রিগ্যাল অয়েল পিসি আর-৮০ (Texaco Regal Oil PC R-80)
- ▣ টেকসাকো রিগ্যাল অয়েল এ আর ৮০ (Texaco Regal Oil A R-80)
- ▣ টেকসাকো র্যান্ডো অয়েল এইচডিসি (Texaco Rando Oil HDC)
- ▣ টেকসাকো র্যান্ডো অয়েল এইচডিএ (Texaco Rando Oil HDA)
- ◆ নাইনাস টিডি-৩৩ ওএ (Nynus TD-33 OA)
- ◆ নাইনাস টিডি-২৭ ইএক্স (Nynus TD-27 EX)

তাছাড়া নিম্নলিখিত বিভিন্ন গ্রেডের গ্রিজ ব্যবহার হয় :

- ১) শেল অ্যাভলেনিয়া গ্রিজ-৩ (Shell Avlania Grease-3)
- ২) মবিল পেক্সনং ৪৮ (Mobil Plex No 48)
- ৩) বিডি ইনারগ্রিজ (BD Energrease)
- ৪) ক্যালটেক্স রিগ্যাল স্টারফাক প্রিমিয়াম (Caltex Regal Starfak Premium)
- ৫) নাইনাস এফএল৩-৪২ (Nynus FL3-42)
- ৬) এসো অ্যানডক এম২৭৫ (Asso Andok M275)
- ৭) গালফ ইউনিভারসেল গ্রিজ ইপি-টাইপ (Gulf Universal Grease EP-Type)
- ৮) কাস্ট্রল স্ফিয়ারল এপি-৩ (Castrol Spheeral AP3)

প্রশ্নমালা-২১

অতি সংক্ষিপ্ত প্রশ্ন :

১. লুব্রিকেন্ট বলতে কী বোঝ?
২. প্রধানত লুব্রিকেন্ট কত প্রকার ও কী কী ?
৩. লিকুইড লুব্রিকেন্টস কী কী নামে বাজারে পাওয়া যায় ?
৪. স্ট্রেইট মিনারেল অয়েল (Straight Mineral Oil) এর ব্যবহার লেখ।
৫. স্পিন্ডেল অয়েল (Spindle Oil) এর ব্যবহার লেখ।
৬. হাইড্রলিক অয়েল (Hydraulic Oil) এর ব্যবহার লেখ।
৭. স্লাইডওয়ে অয়েল (Slideway Oil) এর ব্যবহার লেখ।
৮. গিয়ার অয়েল (Gear Oil) এর ব্যবহার লেখ।

সংক্ষিপ্ত প্রশ্ন :

১. লুব্রিকেন্টের প্রয়োগক্ষেত্র উল্লেখ কর।
২. সচরাচর ব্যবহৃত ৫টি লুব্রিকেন্টের বাণিজ্যিক নাম গুলি উল্লেখ কর।
৩. সচরাচর ব্যবহৃত পাঁচ প্রকার গ্রীজের নাম লিখ।

রচনামূলক প্রশ্ন :

১. লুব্রিকেন্ট বলতে কি বোঝায় ? লুব্রিকেন্ট কত প্রকার ও কী কী ? বর্ণনা দাও।
২. লুব্রিকেন্ট কাকে বলে ? লুব্রিকেন্টের প্রয়োগক্ষেত্র বর্ণনা কর।
৩. সচরাচর ব্যবহৃত ১০টি লুব্রিকেন্টের বাণিজ্যিক নাম উল্লেখ কর।

ধাতুর উপর তাপ প্রক্রিয়াকরণ (Heat Treatment of Metals)

২২.১ ধাতুর উপর তাপ প্রক্রিয়াকরণ :

ধাতু বা সংকর ধাতুকে কঠিন অবস্থায় এর ভৌত গুণাবলী যেমন- দানার গঠন, কাঠিন্য, ভঙ্গুরতা, ক্ষয়রোধী ক্ষমতা ইত্যাদি ইঙ্গিত মাত্রায় পরিবর্তন করতে ধাতু বা সংকর ধাতুকে সঠিক উপায়ে উত্তপ্ত ও ঠাণ্ডা করার কাজকে তাপ প্রক্রিয়াকরণ বা হিট ট্রিটমেন্ট অব মেটাল বলা হয়। তাপ প্রক্রিয়াকরণের ফলে ইস্পাতে কাটিং অ্যাকশান ও ক্ষয়রোধী ক্ষমতা বৃদ্ধি পায় আবার সহজে মেশিনিং কার্য সমাধানের জন্য নরমও করা যায়। ধাতু বা সংকর ধাতুর উপর সঠিক তাপ প্রক্রিয়াকরণের ফলে আভ্যন্তরীণ পীড়ন দূর হয়, দানার আকৃতি ছোট হয় এবং দুর্দ্বন্দ্ব্যতা (Toughness) বৃদ্ধি পায়। তাপ প্রক্রিয়াকরণের ফলে পদার্থের পৃষ্ঠতলের অভ্যন্তরভাগ তান্তবতা গুণসম্পন্ন হয়। ইস্পাতের উপাদানসমূহের ধর্ম তাপ প্রক্রিয়াকরণের পূর্বে জানা আবশ্যিক।

তাপ প্রক্রিয়াকরণ পদ্ধতিগুলি হলো-

১. অ্যানিলিং (Annealing)
২. টেম্পারিং (Tempering)
৩. নরমলাইজিং (Normalizing)
৪. হার্ডেনিং (Hardening)
৫. কোয়েঞ্চিং (Quenching)
৬. কার্বোরাইজিং (Carburizing)
৭. সায়ানাইডিং (Cyaniding)
৮. নাইট্রাইডিং (Nitriding)
৯. কেইস হার্ডেনিং (Case Hardening)

তাপ প্রক্রিয়াকরণের প্রয়োজনীয়তা :

সাধারণভাবে তৈরি ধাতু বা সংকর ধাতু প্রয়োজনীয় ভৌত বা যান্ত্রিক গুণাবলীর অভাবে সব সময় ব্যবহার করা সম্ভব হয় না। ধাতু বা ধাতু সংকরের অভ্যন্তরস্থ খাদ (Impurities) এবং গ্যাস ইত্যাদি ধাতুর মধ্যে বিভিন্ন প্রকার ত্রুটি সৃষ্টি করে। ধাতুকে ত্রুটিমুক্ত করতে হলে হিট ট্রিটমেন্ট বা তাপ প্রক্রিয়াকরণের প্রয়োজন হয়। তাপ প্রক্রিয়াকরণের প্রয়োজনীয়তা নিম্নে উল্লেখ করা হলো-

১. স্টিল বা সংকর ধাতুকে প্রয়োজনীয় মাত্রায় নরম করতে।
২. স্টিল বা সংকর ধাতুর কাঠিন্যতা (Hardness) বৃদ্ধি করতে।
৩. স্টিলের নমনীয়তা বা তান্তবতা (Ductility) বৃদ্ধি করতে।
৪. অতিরিক্ত শক্ত হওয়ার দরুন ভঙ্গুরতা (Brittleness) দূর করতে বা কমাতে।
৫. স্টিলের ধাতু কাটার যোগ্যতা বৃদ্ধি করতে।
৬. স্টিল বা সংকর ধাতুর শক্তি (Strength) বৃদ্ধি করতে।
৭. স্টিল বা সংকর ধাতুর আভ্যন্তরীণ দানা (Crystal) সূক্ষ্ম ও স্বাভাবিক করতে।
৮. স্টিল বা সংকর ধাতুর বহিরাবরণ শক্ত ও ক্ষয়রোধী (Wear Resistant) করতে।
৯. স্টিল বা সংকর ধাতুর ঘাত সহতা (Toughness) বৃদ্ধি করতে।
১০. স্টিল বা সংকর ধাতুর মেশিনেবিলিটি (Machinability) বৃদ্ধি করতে।

২২.২ অ্যানিলিং প্রক্রিয়া (Annealing Process) :

ধাতু বা ধাতু সংকরকে আকাজ্জিত মাত্রায় কঠিন অবস্থায় নরম করার প্রক্রিয়াকেই অ্যানিলিং বলে। ধাতুর গাঠনিক পরিবর্তন সীমা অর্থাৎ উর্ধ্ব ক্রিটিক্যাল তাপমাত্রা হতে 500 সেঃ উর্ধ্ব পর্যন্ত ধাতুকে উত্তপ্ত করে ধীরে ধীরে চুল্লির ভিতরে রেখে ঠাণ্ডা করার প্রক্রিয়াকে অ্যানিলিং বলা হয়। ঠাণ্ডা অবস্থায় রোল করা, কাটা, পেটা বা অন্য যে কোন অপারেশনের ফলে ধাতু কিছুটা শক্ত হতে পারে। ধাতুর এ কাঠিন্যতা দূর করতে হলে অ্যানিলিং করতে হয়। অ্যানিলিং করার সময় ধাতুর সকল স্থানে সমান তাপ প্রয়োগ করতে হয় এবং একই তাপমাত্রায় নির্দিষ্ট সময় পর্যন্ত রেখে ধীরে ধীরে ঠাণ্ডা করতে হয়। এই রকম ভাবে ধাতুকে একই তাপমাত্রায় কিছুক্ষণ রাখাকে সোaking (Soaking) বলা হয়। ধাতুকে কাজের উপযোগী নরম, আভ্যন্তরীণ পীড়ন অপসারণ, তান্তবতা, বৈদ্যুতিক, চুম্বকীয়, ও যান্ত্রিক গুণাগুণের পরিবর্তন, দানার সূক্ষতা বৃদ্ধি, নির্দিষ্ট মাইক্রোস্ট্রাকচারযুক্ত স্টিলকে পরবর্তী প্রক্রিয়ার জন্য প্রস্তুত করতে অ্যানিলিং করা হয়।

অ্যানিলিং প্রধানত তিন প্রকার-

১. প্রসেস অ্যানিলিং (Process Annealing)
২. পেটেনটিং অ্যানিলিং (Patenting Annealing)
৩. ফুল অ্যানিলিং (Full Annealing)

অ্যানিলিং এর উদ্দেশ্য :

১. মেশিনিং ও ফর্মিং করার জন্য স্টিল, ধাতু ও ধাতু সংকর নরম করতে অ্যানিলিং করা হয়।
২. স্টিল, ধাতু ও ধাতু সংকর এর দানার গঠন সূক্ষ বা মিহি করতে অ্যানিলিং করা হয়।
৩. স্টিল, ধাতু ও ধাতু সংকর এর আভ্যন্তরীণ পীড়ন মুক্ত করতে অ্যানিলিং করা হয়।

অ্যানিলিং তাপমাত্রা :

১. স্টিল (০.১২% পর্যন্ত কার্বন) = $750^{\circ}\text{C} - 900^{\circ}\text{C}$
২. স্টিল (০.১৩% হতে ০.২৯% পর্যন্ত কার্বন) = $780^{\circ}\text{C} - 890^{\circ}\text{C}$
৩. স্টিল (০.৩০% হতে ০.৪৯% পর্যন্ত কার্বন) = $820^{\circ}\text{C} - 880^{\circ}\text{C}$
৪. স্টিল (০.৫০% হতে ১.০০% পর্যন্ত কার্বন) = $950^{\circ}\text{C} - 820^{\circ}\text{C}$
৫. হাই স্পিড স্টিল = 900°C

২২.৩ নরমালাইজিং প্রক্রিয়া :

স্টিলকে উর্ধ্ব ক্রিটিক্যাল তাপমাত্রার উপরে 50°C থেকে 100°C পর্যন্ত তাপমাত্রায় উত্তপ্ত করে কিছু সময় পর চুল্লি থেকে বের করে চুল্লির বাইরে মুক্ত অবস্থায় শীতল করাকে নরমালাইজিং বলে। নরমালাইজিং এর অর্থ হলো ধাতুকে সাধারণ এবং সুষম অবস্থায় আনা। স্টিলকে হার্ডেনিং এর আগে নরমালাইজিং করে নিতে হয়। নরমালাইজিং এর তাপমাত্রা স্টিলের মধ্যে কার্বনের পরিমাণের উপর নির্ভর করে। নরমালাইজিং করার ফলে রোলিং, স্ট্যাম্পিং প্রভৃতি অপারেশন করার পর স্টিলে যে বড় দানাসমূহ (Crystal) সৃষ্টি হয় তা অনেকাংশে ক্ষুদ্রতর হয়ে সুষম আকার ধারণ করে। মিডিয়াম কার্বন স্টিলের শক্তি বৃদ্ধি হয়, লো-কার্বন স্টিলের মেশিনেবিলিটি বাড়ে, ওয়েল্ডিং করা বস্তুর গাঠনিক পরিবর্তন ও আভ্যন্তরীণ পীড়ন হ্রাস পায়।

২২.৪ কোয়েঞ্চিং প্রক্রিয়া (Quenching Process) :

উর্ধ্ব ক্রিটিক্যাল তাপমাত্রা থেকে কিছু উপরের তাপমাত্রায় স্টিলকে উত্তপ্ত করে লবণাক্ত পানি বা তৈল প্রভৃতির

সাহায্যে অতি দ্রুত শীতল করাকে কুয়েঞ্চিং বলে। উত্তপ্ত স্টিলকে পানিতে ডুবিয়ে ঠাণ্ডা করলে খুব অল্প সময়ে ঠাণ্ডা হয় এবং বাতাসে ঠাণ্ডা করলে দেরিতে ঠাণ্ডা হয়। কোয়েঞ্চিং মিডিয়াম হিসাবে পানি ছাড়াও ব্রাইন, কস্টিক সোডার দ্রবণ, তেল প্রভৃতি ব্যবহার করা হয়। ধাতুকে কতটুকু শক্ত করতে হবে তার উপর কোয়েঞ্চিং মিডিয়াম এর ব্যবহার নির্ভর করে। সময় ও তাপমাত্রার উপর গাঠনিক পরিবর্তন নির্ভরশীল। অতি দ্রুত শীতল করলে স্টিলের শক্ততা বৃদ্ধি পায়।

২২.৫ টেম্পারিং প্রক্রিয়া (Tempering Process) :

দ্রুত কোয়েঞ্চিং করে স্টিলকে শক্ত করা হলে উহা ভঙ্গুর ও কাজের অনুপযুক্ত হয়। টেম্পারিং হলো অন্যতম তাপ প্রক্রিয়াকরণ পদ্ধতি যা স্টিলের কাঠিন্য ও ভঙ্গুরতা প্রয়োজনীয় মাত্রায় কমাতে এবং উহাকে কার্যোপযোগী করতে ব্যবহৃত হয়। টেম্পারিং স্টিলের টানা শক্তি কমায় কিন্তু নমনীয়তা ও শক্ততা বৃদ্ধি করে। কোয়েঞ্চিং করার ফলে স্টিলের অসম গাঠনিক পরিবর্তন হয়, ভঙ্গুরতা বৃদ্ধি পায় এবং সমানভাবে সকল অংশ শক্ত হয় না। এই অসুবিধা দূর করার জন্য সাধারণ ইম্পাতকে কার্বনের হার অনুযায়ী ২২০° সেঃ থেকে ৫০০° সেঃ পর্যন্ত তাপমাত্রায় পুন উত্তপ্ত করে লবণাক্ত পানি বা তৈলের মধ্যে ডুবিয়ে শীতল করা হয়। টেম্পারিং করার ফলে স্টিলের টাফনেস বাড়ে এবং ভঙ্গুরতা কমে। শিল্প ক্ষেত্রে ব্যবহারের জন্য স্টিলের তৈরি নানা প্রকার জিনিসপত্র ও যন্ত্রপাতি টেম্পারিং করা হয়। সাধারণভাবে ব্যবহৃত টেম্পারিং করা দ্রব্যগুলো হলো- ডিভাইডার, পাঞ্চ, ট্যাপ, ডাই, রিমার, ফাইল, ভাইসের 'জ', হ্যামারের মুখ, লেদ কাটিং টুল, শেপার কাটিং টুল, মিলিং কাটার, ড্রিল বিট, হ্যাক'স ব্লেন্ড, শিয়ারিং ব্লেন্ড, বাটালি, পাঞ্চ ইত্যাদি।

২২.৬ হার্ডেনিং প্রক্রিয়া (Hardening Process) :

হার্ডেনিং হলো অন্যতম তাপ প্রক্রিয়াকরণ প্রক্রিয়া যা স্টিলকে কার্বনের পরিমাণ বৃদ্ধি করে ইচ্ছিত মাত্রায় শক্ত করে। এই প্রক্রিয়ায় স্টিলকে ক্রিটিক্যাল তাপমাত্রা সীমার অনেক উর্ধ্ব তাপমাত্রায় উত্তপ্ত করা হয় তারপর দ্রুত পানি, বা তৈলে ঠাণ্ডা করা হয়।

হার্ডেনিং এর প্রকারভেদ :

হার্ডেনিং প্রক্রিয়াকে নিম্নলিখিত কয়েক ভাগে ভাগ করা যায়। যেমন-

১. কার্বোরাইজিং
২. কেস হার্ডেনিং
৩. সায়ানাইডিং
৪. নাইট্রাইডিং
৫. ফ্লাইম হার্ডেনিং
৬. ইনডাকশন হার্ডেনিং

প্রশ্নমালা-২২

অতি সংক্ষিপ্ত প্রশ্ন :

১. হিট ট্রিটমেন্ট কী ?
২. ফেটি তাপ প্রক্রিয়াকরণ পদ্ধতির নাম লেখ।
৩. অ্যানিলিং কী ?
৪. অ্যানিলিং প্রধানত কয় প্রকার ও কী কী ?
৫. নরমালাইজিং কী ?
৬. কোয়েচিং কী ?
৭. টেম্পারিং কী ?
৮. হার্ডেনিং কী ?

সংক্ষিপ্ত প্রশ্ন :

১. তাপ প্রক্রিয়াকরণ বা হিট ট্রিটমেন্ট বলতে কী বোঝায় ?
২. তাপ প্রক্রিয়াকরণ পদ্ধতিগুলির নাম লেখ।
৩. তাপ প্রক্রিয়াকরণ এর প্রয়োজনীয়তা সংক্ষেপে বর্ণনা কর।
৪. অ্যানিলিং বলতে কী বোঝায় ?
৫. নরমালাইজিং বলতে কী বোঝায় ?
৬. কোয়েচিং বলতে কী বোঝায় ?
৭. টেম্পারিং বলতে কী বোঝায় ?
৮. হার্ডেনিং বলতে কী বোঝায় ?
৯. অ্যানিলিং এর উদ্দেশ্য বর্ণনা কর।
১০. হার্ডেনিং এর উদ্দেশ্য বর্ণনা কর।
১১. বিভিন্ন স্টীলের ক্ষেত্রে অ্যানিলিং তাপমাত্রাগুলি লিখ।
১২. হার্ডেনিং কত প্রকার ও কী কী ?

রচনামূলক প্রশ্ন :

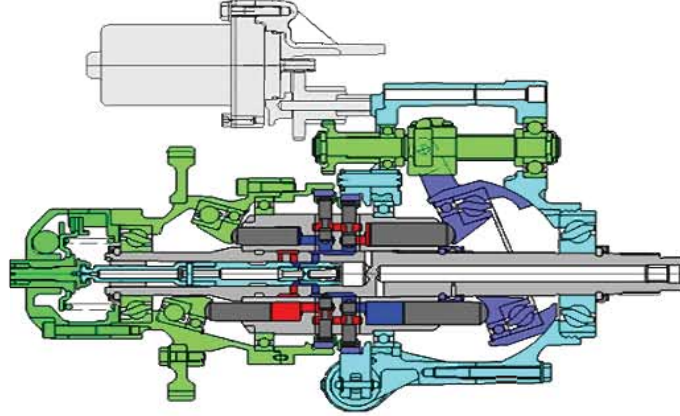
১. তাপ প্রক্রিয়াকরণ বলতে কী বোঝায় ? তাপ প্রক্রিয়াকরণ এর প্রয়োজনীয়তা বর্ণনা কর।
২. তাপ প্রক্রিয়াকরণ কত প্রকার ও কী কী ? প্রত্যেক প্রকারের বর্ণনা দাও।
৩. হার্ডেনিং কাকে বলে ? ইহা কত প্রকার ও কী কী ? হার্ডেনিং এর উদ্দেশ্য বর্ণনা কর।
৪. অ্যানিলিং কাকে বলে ? ইহা কত প্রকার ও কী কী ? অ্যানিলিং এর উদ্দেশ্য বর্ণনা কর।
৫. টেম্পারিং পদ্ধতির বর্ণনা দাও।

অধ্যায়-২৩

হাইড্রলিক ট্রান্সমিশন (Hydraulic Transmission)

২৩.১ হাইড্রলিক ট্রান্সমিশন :

কোন মেশিন পরিচালনা করার জন্য হাইড্রলিক অয়েল দ্বারা পাওয়ার ট্রান্সমিশন করার ব্যবস্থাকে হাইড্রলিক ট্রান্সমিশন বলে। বর্তমানে অটোমেটিক মেশিনসমূহ হাইড্রলিক পাওয়ার ট্রান্সমিশন পদ্ধতিতে পরিচালিত হয়। কন্ট্রোল ভালব দ্বারা ফুইড পরিচালিত করে জব বা টুলকে চালানো হয় আবার কোথাও কোথাও প্রেসারের সাহায্যে টর্ক সঞ্চালন করা হয়। মেশিন টুলের উন্নয়নের মুখ্য উদ্দেশ্য লাভজনক মেশিনিং অপারেশন।



চিত্র-২৩.১: হাইড্রলিক ট্রান্সমিশনের একটি মডেল।

২৩.২ হাইড্রলিক ট্রান্সমিশন পরিচালিত মেশিন সমূহ :

- ১) লেদ মেশিন (Lathe Machine)
- ২) শেপার মেশিন (Shaper Machine)
- ৩) মিলিং মেশিন (Milling Machine)
- ৪) ড্রিলিং মেশিন (Drilling Machine)
- ৫) গ্রাইন্ডিং মেশিন (Grinding Machine)
- ৬) সারফেস গ্রাইন্ডিং মেশিন (Surface Grinding Machine)
- ৭) বোরিং ও হোনিং মেশিন (Boring & Honing Machine)

২৩.৩ হাইড্রলিক ট্রান্সমিশনের সুবিধা :

- ◆ কাটিং ডাটা নির্বাচন ও সেটিং এর সময় কমাতে।
- ◆ টুল পরিষ্কারের সময় কমাতে।
- ◆ ট্রান্সফরমার মেশিনিং।

এটা জব সেটিং-এ আটকানো এবং খোলা অটোমেটিক ভাবে করার ফলে উৎপাদন খরচ অনেক কম হয়। বিভিন্ন অসুবিধাসমূহ অতিক্রম করে অনেক বেশি জটিল কাজ একজন অপারেটর খুব সহজেই করতে পারে বলেই ট্রান্সমিশনের গুরুত্ব অনেক বেশি।

প্রশ্নমালা-২৬**অতি সংক্ষিপ্ত প্রশ্ন :**

১. হাইড্রলিক ট্রান্সমিশন বলতে কী বুঝ?
২. হাইড্রলিক ট্রান্সমিশন পরিচালিত ৫টি মেশিনের নাম লেখ।

সংক্ষিপ্ত প্রশ্ন :

১. হাইড্রলিক ট্রান্সমিশন বলতে কী বোঝায়? সংক্ষেপে লেখ।
২. হাইড্রলিক ট্রান্সমিশন ব্যবহারের সুবিধা সংক্ষেপে বর্ণনা কর।

রচনামূলক প্রশ্ন :

১. হাইড্রলিক ট্রান্সমিশন বলতে কী বোঝায়? হাইড্রলিক ট্রান্সমিশন পরিচালিত মেশিনসমূহের নাম লেখ।

অধ্যায়-২৪

সিএনসি মেশিন

২৪.১ সিএনসি (CNC):

যখন কোন মেশিন বা মেশিনসমূহ পাঞ্চ করা টেপ বা কার্ডে রেকর্ডকৃত সংখ্যা সংক্রান্ত তথ্য বা নিউমেরিক্যাল ডাটা (Numerical Data) বা তথ্য দ্বারা নিয়ন্ত্রিত হয়, তখন উক্ত মেশিন বা মেশিনসমূহকে নিউমেরিক্যাল কন্ট্রোল মেশিন টুলস (Numerical Control Machine Tools) বা এনসি (NC) মেশিন টুলস বলা হয়। এই এনসি মেশিন যখন কম্পিউটার দ্বারা নিয়ন্ত্রিত হয়, তখন তাকে সিএনসি বা কম্পিউটার নিউমেরিক্যাল কন্ট্রোল (Computer Numerical Control) মেশিন বলা হয়।



চিত্র-২৪.১ঃ সিএনসি মেশিন

প্রকৃতপক্ষে, এই পদ্ধতিতে সংরক্ষিত নিউমেরিক্যাল ডাটা বা তথ্যাদি স্বয়ংক্রিয়ভাবে পঠিত হয় এবং উহা বৈদ্যুতিক সংকেতে রূপান্তরিত হয়ে সার্ভো পদ্ধতিকে চালনা করে। এই সার্ভো পদ্ধতিই মেশিন স্লাইডকে পরিচালনার দ্বারা প্রয়োজনীয় মেশিনিং অপারেশন সম্পাদনে সচেষ্ট হয়।

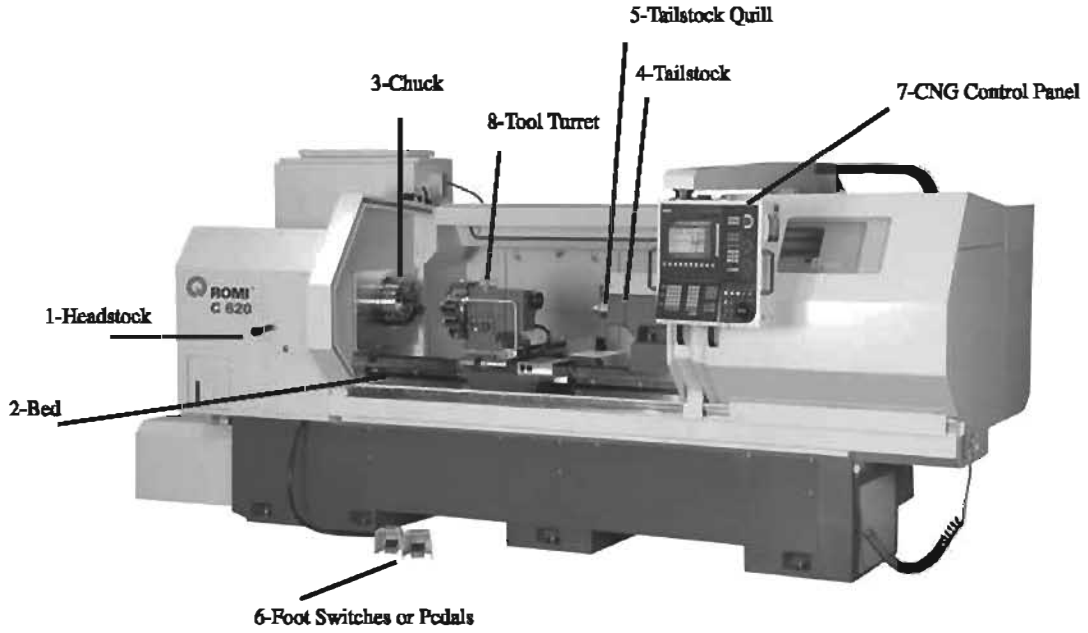
২৪.২ সিএনসি মেশিনের সুবিধাসমূহঃ

- সিএনসি মেশিন দৈনিক ২৪ ঘন্টা বছরে ৩৬৫ দিনই নিরবচ্ছিন্ন ভাবে কাজ করতে পারে। খুব কদাচিৎ মেইনট্যানেন্স কাজের জন্য মেশিন বন্ধ করতে হয়।
- সিএনসি মেশিনে প্রোগ্রাম এমনভাবে ডিজান করা হয় যাতে একই মাপের হাজার হাজার প্রডাক্ট নিখুঁতভাবে প্রস্তুত করা যায়।
- অপেক্ষাকৃত কম দক্ষ টেকনিসিয়ান দ্বারা সিএনসি মেশিন চালনা করা যায়।
- সিএনসি মেশিনের সফটওয়্যার অতি সহজেই আপডেট করা যায়।
- একজন টেকনিসিয়ান একাধিক সিএনসি মেশিন পরিচালনা করতে পারে, ফলে মেশিন পরিচালনা খরচ কমে যায়।

২৪.৩ মেশিনশপে ব্যবহৃত সিএনসি মেশিনসমূহঃ

- ১) সিএনসি লেদ মেশিন
- ২) সিএনসি মিলিং মেশিন
- ৩) সিএনসি রাউটার
- ৪) সিএনসি প্লাজমা কাটার
- ৫) সিএনসি লেজার কাটার

২৪.৪ সিএনসি লেদ মেশিনের বিভিন্ন অংশসমূহঃ



চিত্র-২৪.২৪ সিএনসি লেদ মেশিনের বিভিন্ন অংশসমূহ

CNC Lathe Main Parts:

- 1 – Headstock
- 2 – CNC Lathe Bed
- 3 – Chuck
- 4 – Tailstock
- 5 – Tailstock Quill
- 6 – Foot Switch or Foot Pedals
- 7 – CNC Control Panel
- 8 – Tool Turret

২৪.৫ সিএনসি লেদ মেশিনের প্রোগ্রামিং কোডসমূহঃ

Common G-Codes for CNC Lathes

G00 - Rapid Positioning	G61 - Exact Stop Check Mode
G01 - Linear Interpolation	G62 - Automatic Corner Override
G02 - Circular Interpolation CW	G63 - Tapping Mode
G03 - Circular Interpolation CCW	G64 - Cutting Mode
G04 - Dwell	G65 - User Simple Macro Call
G07 - Feedrate Sine Curve Control	G66 - User Modal Macro Call
G10 - Data Setting	G67 - User Modal Macro Call Cancel
G11 - Data Setting Cancel	G70 - Finishing Cycle
G17 - XY Plane Selection	G71 - Turning Cycle
G18 - XZ Plane Selection	G72 - Facing Cycle
G19 - YZ Plane Selection	G73 - Pattern Repeating Cycle
G20 - Input in Inches	G74 - Drilling Cycle
G21 - Input in Metric	G75 - Grooving Cycle
G22 - Stored Stroke Check ON	G76 - Threading Cycle
G23 - Stored Stroke Check OFF	G80 - Canned Cycle Cancel
G27 - Reference Point Return Check	G83 - Face Drilling Cycle
G28 - Automatic Zero Return	G84 - Face Tapping Cycle
G29 - Return from Zero Position	G85 - Face Boring Cycle
G30 - 2nd Reference Point Return	G87 - Side Drilling Cycle
G31 - Skip Function	G88 - Side Tapping Cycle
G32 - Thread Cutting	G89 - Side Boring Cycle
G36 - Automatic Tool Compensation	G90 - Absolute Positioning
G40 - Tool Compensation Cancel	G91 - Incremental Positioning
G41 - Tool Compensation Left	G92 - Threading Cycle
G42 - Tool Compensation Right	G94 - Face Turning Cycle
G46 - Automatic Tool Compensation	G96 - Constant Surface Speed Control On
G50 - Coordinate System Setting	G97 - Constant Surface Speed Control Off
G52 - Local Coordinate System Setting	G98 - Feedrate Per Time
G53 - Machine Coordinate System Setting	G99 - Feedrate Per Revolution
G54 - Workpiece Coordinate Setting 1	G107 - Cylindrical Interpolation
G55 - Workpiece Coordinate Setting 2	G112 - Polar Coordinate Interpolation Mode On

G56 - Workpiece Coordinate Setting 3	G113 - Polar Coordinate Interpolation Mode Off
G57 - Workpiece Coordinate Setting 4	G250 - Polygonal Turning Mode Cancel
G58 - Workpiece Coordinate Setting 5	G251 - Polygonal Turning Mode
G59 - Workpiece Coordinate Setting 6	

Common M-Codes for CNC Lathes

M00 - Program Stop	M07 - Coolant 1 On
M01 - Optional Program Stop	M08 - Coolant 2 On
M02 - Program End	M09 - Coolant Off
M03 - Spindle Clockwise	M30 - End Program, Return to Start
M04 - Spindle Counter Clockwise	M98 - Call Subprogram
M05 - Spindle Stop	M99 - Cancel Subprogram

২৪.৬ সিএনসি লেন মেশিনের প্রোগ্রামিং এর প্রয়োজনীয়তাঃ

সিএনসি মেশিন টুলসকে কার্য অনুযায়ী পরিচালনার জন্য যখন বিভিন্ন ডাটা কম্পিউটারের ভাষা অনুযায়ী প্রয়োগ করা হয়, তখন কার্যনির্বাহণে প্রস্তুতকৃত ডাটাকে প্রোগ্রামিং বলে। কার্যকর প্রক্রিয়া বা নক্সা অনুযায়ী একজন প্রোগ্রামার প্রসেস শিট প্রস্তুত করে। প্রোগ্রামারকে জবের আকৃতি, খাড়া, মেশিনটুলের বোল্ডতা প্রকৃতি বিবেচনা করে প্রোগ্রাম শিট তৈরি করতে হয়। প্রোগ্রাম শিটে অপারেশনের লোকেশন নং, অপারেশনের ক্রম, প্রয়োজনীয় টুলস, স্পিন্ডল স্পিড, ফিড, কুল্যান্ট কন্ট্রোল ইত্যাদি প্রয়োজনীয় তথ্য উল্লেখ থাকে।

২৪.৭ মেশিন জিরো রিটার্ন (MZR) :

জিরো রিটার্ন হলো এক প্রকার পদ্ধতি যার সাহায্যে সিএনসি মেশিনের ওয়ার্ক টেবিল ও ওয়ার্কহেড ক্যারিজকে তাদের জিরো পজিশনে বা হোম পজিশনে সেট করা হয়। জিরো পজিশন হতে সর্বদা প্রোগ্রাম শুরু হয়ে থাকে এবং প্রতি প্রোগ্রাম সাইকেলের শুরুতে জিরো পজিশন সেট করতে হয়। সিএনসি মেশিন স্টার্ট করার পর X, Y and Z অক্ষকে জিরো পজিশনে সেট করতে হয়।

২৪.৮ অটো টুল চেঞ্জার (ATC) :

অটোমেটিক টুল চেঞ্জার সিএনসি মেশিনের টুল ক্যারিয়ারিং ক্যাপাসিটি ও প্রডাকশন বৃদ্ধি করার জন্য ব্যবহার করা হয়ে থাকে। অটো টুল চেঞ্জার খুব দ্রুত বিভিন্ন টুলসকে পরিবর্তন করতে পারে, কলে নন প্রডাক্টিভ টাইম কমে যায়। এটি স্কেলে যাওয়া বা ব্যক্তিগত টুলসকে পরিবর্তন করতেও ব্যবহৃত হয়ে থাকে।



চিত্রঃ অটোমেটিক টুল চেঞ্জার

২৪.৯ সিএনসি লেদ মেশিনের যত্ন ও রক্ষণাবেক্ষণঃ

- মেশিন চালনা কালে সঠিক পোশাক পরিধান করতে হবে।
- মেশিনের চলন্ত বা ঘুরন্ত অংশ পরিষ্কার করা যাবে না।
- ওয়াকপিস বা জবকে সর্বদা মেশিন ভাইস, ফিক্সচার বা টেবিলে শক্তভাবে বাঁধতে হবে।
- চলন্ত অংশের লুব্রিকেশন প্রতিদিন যাচাই করতে হবে।
- বৈদ্যুতিক প্রবাহের কেবল সঠিকভাবে আছে কীনা তা নিশ্চিত হতে হবে।
- স্পিন্ডলের জন্য সঠিক লুব্রিক্যান্ট ব্যবহার করতে হবে।
- কুল্যান্টকে অতিরিক্ত উত্তপ্ত করা যাবে না।
- মেশিন অনেকদিন অব্যবহৃত থাকলে মেশিন স্পিন্ডলকে মাঝে মাঝে হাত দিয়ে ঘুরিয়ে দিতে হবে।

দ্বিতীয় পত্র (ব্যবহারিক)

অধ্যায়-১


ভার্নিয়ার হাইট গেজ ব্যবহারে দক্ষতা অর্জন (Develop Skill to use Vernier Height Gauge)

উদ্দেশ্য :

- (১) ভার্নিয়ার হাইট গেজের বিভিন্ন অংশের সাথে পরিচিত হওয়া।
- (২) ভার্নিয়ার হাইট গেজের বিভিন্ন অংশের ব্যবহার কৌশল জানা।
- (৩) ভার্নিয়ার হাইট গেজের যান্ত্রিক ত্রুটি নিরূপণ।
- (৪) ভার্নিয়ার প্রুবক নির্ণয় করণ।
- (৫) ভার্নিয়ার হাইট গেজের সাহায্যে একটি জবের উচ্চতা নির্ণয় করণ।


যন্ত্রপাতি নির্বাচন :

১) একটি ভার্নিয়ার হাইট গেজ (মেট্রিক) : ভার্নিয়ার হাইট গেজ একটি প্রত্যক্ষ, সূক্ষ্ম ও সরল মাপক, লে-আউট ও মার্কিং যন্ত্র। কোন ধাতব কার্যবস্তুর মধ্যে সূষ্ঠভাবে মার্কিং এর কাজ সম্পাদন করতে বিশেষভাবে ব্যবহৃত হয়। এ মাপক যন্ত্রে একটি বিম স্কেল বা ব্রেড থাকে যা একটি বিশেষ আকৃতির স্থায়ী বেস (Fixed Base) এর সাথে সংযুক্ত থাকে এবং প্রয়োজনীয় মাপ গ্রহণের সুবিধাসহ একটি ভার্নিয়ার স্কেল সংযুক্ত স্লাইডিং হেড থাকে। কোন কার্য বস্তু বা উহার অংশের উচ্চতার মাপ গ্রহণে এবং মার্কিং এর কাজে ভার্নিয়ার হাইট গেজ ব্যবহার করা হয়।




চিত্র-১.১ঃ ভার্নিয়ার হাইট গেজ

২) একটি সারফেস প্লেট :

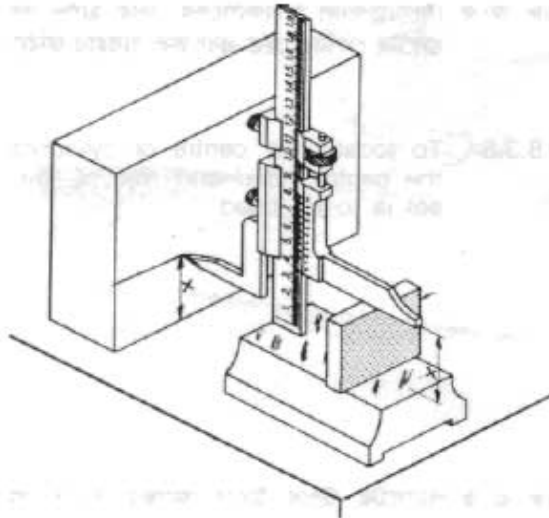


চিত্র-১.২ :

৩) একটি মাইন্ড স্টিল এর আয়তাকার ঘন (Solid Cuboid) কার্ববন্ড ব্যার উচ্চতা মাপতে হবে :



১.১ ডার্নিয়ার হাইট গেজ দ্বারা নিখুঁতভাবে বস্তুর উচ্চতা পরিমাপ করা :



চিত্র-১.৩ : ডার্নিয়ার হাইট গেজের সাহায্যে উচ্চতা নির্ণয় ও মার্কাঙ্ক করা ।

- ◆ প্রথমে ডার্নিয়ার হাইট গেজটিকে সংরক্ষিত বাক্স হতে বের করে পরিষ্কার কাপড় দিয়ে গায়ে লাগানো তেল, খুলা ময়লা, মরিচা ইত্যাদি ভালোভাবে পরিষ্কার করে নাও ।
- ◆ তারপর একটি পরিষ্কার সারফেস প্লেটের উপর স্থাপন করে পরীক্ষা করে দেখ যে গেজের সকল অংশ সঠিকভাবে কাজ করছে কিনা ।
- ◆ ক্রাইভিং নাইফ এজকে ব্লাইন্ডিং হেডের সাথে সঠিকভাবে সংযুক্ত করে সেট জু-এর সাহায্যে শক্তভাবে ক্ল্যাম্প কর ।

- ◆ বেসের নিচের সমতল এবং ক্রাইবিং নাইফ এজের সমতল অংশদ্বয়কে একই সমতলে এনে বিম স্কেলের শূন্য দাগ এবং ভার্নিয়ার স্কেলের শূন্য দাগ এবং ভার্নিয়ার স্কেলের শূন্য দাগ দুইটি পর্যবেক্ষণ করে দেখ যে যান্ত্রিক ত্রুটি আছে কী না। যান্ত্রিক ত্রুটি থাকলে তা বের করে পুনরায় স্লিপ গেজ ব্যবহার করে তার শুদ্ধতা পরীক্ষা কর।
- ◆ এখন কার্যবস্ত্রটিকে বেসের উপর রেখে স্লাইডিং 'জ' কে আস্তে আস্তে নিচের দিকে নামাতে হবে যেন কার্যবস্ত্রটিকে স্পর্শ করে। এমন অবস্থায় লকিং নাট টাইট দিয়ে ফাইন অ্যাডজাস্টমেন্ট স্ক্রু দিয়ে ফাইন অ্যাডজাস্ট করতে হবে।
- ◆ এ অবস্থায় প্রধান স্কেল ও ভার্নিয়ার স্কেল পাঠ গ্রহণ কর।

গাণিতিক হিসাব :

কার্যবস্ত্র বা জবের উচ্চতা = (প্রধান স্কেল পাঠ + ভার্নিয়ার স্কেল পাঠ x ভার্নিয়ার ধ্রুবক) ± যান্ত্রিক ত্রুটি।

১.২ ভার্নিয়ার হাইট গেজের যান্ত্রিক ত্রুটি নিরূপণ :

- ☞ প্রথমে ভার্নিয়ার হাইট গেজটিকে একটি পরিষ্কার ওয়ার্কবেঞ্চার উপর রক্ষিত সারফেস প্লেটের উপর রাখ।
- ☞ তারপর বেসের নিচের সমতল এবং ক্রাইবিং নাইফ-এজ এর নিচের দিকের সমতল অংশদ্বয়কে একই সমতলে এনে বিম স্কেলের শূন্য দাগ এবং ভার্নিয়ার স্কেলের শূন্য দাগ দুইটি পর্যবেক্ষণ কর।
- ☞ যদি শূন্য দাগ দুইটি একই সরলরেখায় এসে মিলে যায় তবে গেজটির যান্ত্রিক ত্রুটি নাই বুঝতে হবে। যদি ভার্নিয়ার স্কেলের শূন্য দাগ প্রধান স্কেলের শূন্য দাগ হতে নিচে থাকে তবে যান্ত্রিক ত্রুটি ঋণাত্মক হবে। আবার যদি ভার্নিয়ার স্কেলের শূন্য দাগ প্রধান স্কেলের শূন্য দাগ হতে উপরে থাকে তবে যান্ত্রিক ত্রুটি ধনাত্মক হবে।

১.৩ ভার্নিয়ার হাইট গেজের ভার্নিয়ার ধ্রুবক নির্ণয় :

ভার্নিয়ার স্কেলের ৫০ ভাগের দৈর্ঘ্য = প্রধান বা বিম স্কেলের ৪৯ ভাগের সমান
= ৪৯ মি.মি.

∴ ভার্নিয়ার স্কেলের ১ ভাগের দৈর্ঘ্য = (৪৯ ÷ ৫০) মি.মি.
= ০.৯৮ মি.মি.

∴ ভার্নিয়ার ধ্রুবক = (প্রধান স্কেলের ক্ষুদ্র ১ ভাগের দৈর্ঘ্য - ভার্নিয়ার স্কেলের ক্ষুদ্র ১ ভাগের দৈর্ঘ্য)
= (১ - ০.৯৮) মি.মি.
= ০.০২ মি.মি.

অতএব, নির্ণেয় ভার্নিয়ার ধ্রুবক = ০.০২ মি.মি.।

অধ্যায়-২

সারফেস গেজ ব্যবহারে দক্ষতা অর্জন (Develop Skill to use Surface Gauge)

উদ্দেশ্য :


- ক) সারফেস গেজের বিভিন্ন অংশের সাথে পরিচিত হওয়া।
- খ) সারফেস প্লেট সম্পর্কে জানা ও তার ব্যবহার শেখা।
- গ) সারফেস গেজ দিয়ে একটি যন্ত্রাংশের অ্যালাইনমেন্ট পরীক্ষা করা।

যন্ত্রপাতি নির্বাচন :

- ক) সারফেস প্লেট
- খ) সারফেস গেজ
- গ) কার্যবস্ত্র বা যন্ত্রাংশ যার অ্যালাইনমেন্ট পরীক্ষা করতে হবে।

২.১ সারফেস প্লেট (Surface Plate) এর সাথে পরিচিত হওয়া :

সারফেস প্লেটের ওপর সারফেস গেজ, মার্কিং ব্লক, ইত্যাদি যন্ত্র রেখে বস্তুর উপরিভাগের সমতলতা পরীক্ষা করা যায়। তাছাড়া ওয়ার্কপিসকে সাধারণত সারফেস প্লেটের ওপর রেখে মার্কিং করা হয়। কোন বস্তুকে স্কেপিং করার সময় ও পরে উহার ওপরের সমতলতা পরীক্ষা করার জন্য, কোন যন্ত্রাংশের অ্যালাইনমেন্ট পরীক্ষা করার জন্য সারফেস প্লেট ব্যবহার করা হয়।



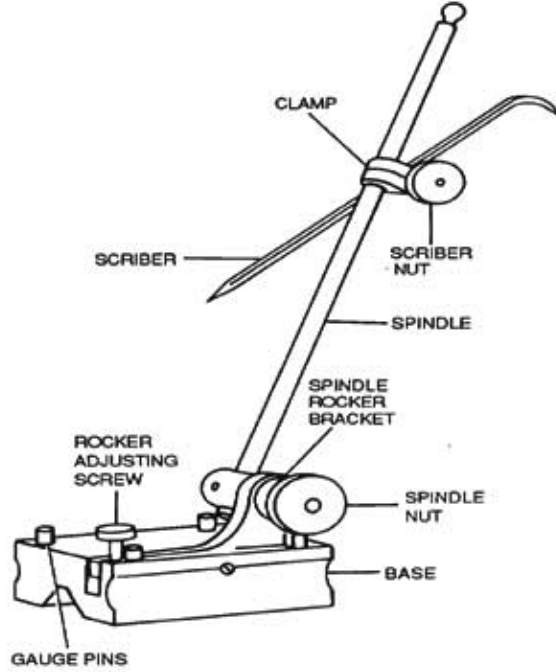
চিত্র-২.১ : সারফেস প্লেট

সারফেস গেজ-এর পরিচিতি :

সারফেস গেজ হলো সূক্ষ্মভাবে নিয়ন্ত্রিত এক প্রকার লে-আউট বা মার্কিং টুলস। প্রকৃতপক্ষে গঠনের দিক থেকে এটি একটি স্কেইবারকে বিভিন্ন প্রকারে সূক্ষ্মভাবে নিয়ন্ত্রণ করার ব্যবস্থা মাত্র। ভার্টিক্যাল সারফেসের ওপর হরাইজন্টাল বা ভূমির সঙ্গে সমান্তরাল লাইন টানার জন্য এবং কোন তলের উপরিভাগের উচ্চতা বা উহার বৈষম্য পরীক্ষা করার জন্য প্রধানত সারফেস গেজ ব্যবহৃত হয়। এ ছাড়া কোন জবের সমতল পৃষ্ঠ যথার্থ সমান ও সমতল আছে কিনা এবং গোলাকার পৃষ্ঠ বিশিষ্ট বস্তু (যেমন-শ্যাফট, পুলি, বিয়ারিং, বিয়ারিং ক্যাব, ইত্যাদি)-এর গোলাকার পৃষ্ঠ যথার্থ গোলাকার কিনা তাহা পরীক্ষা করতেও সারফেস গেজ ব্যবহৃত হয়। ইহার

ফর্মা-৩৭, মেশিন টুলস অপারেশন-১, ৯ম-১০ম শ্রেণি

ভারী ভিত্ত (Base)- এর ওপর একটি খাড়া দণ্ড বা স্পিন্ডল থাকে এবং দণ্ডের সাথে একটি ক্লাইবার লাগানো থাকে যা ক্ল্যাম্প ও স্ক্রু-এর সাহায্যে বিভিন্ন কোণে সেট করা যায়। ভিত্ত (Base)- এর সাথে সংযুক্ত এডজাস্টিং স্ক্রুকে ঘুরিয়ে ক্লাইবারের মুখকে সূক্ষ্মভাবে নিয়ন্ত্রণ করা যায়। প্রকৃতপক্ষে দুই তল বা সারফেসের মধ্যে তুলনা বা উত্থানের সম্পর্ককে কাজে লাগিয়ে এই গেজ ব্যবহৃত হয় বিখ্যাত এই গেজের নাম হলো সারফেস গেজ।

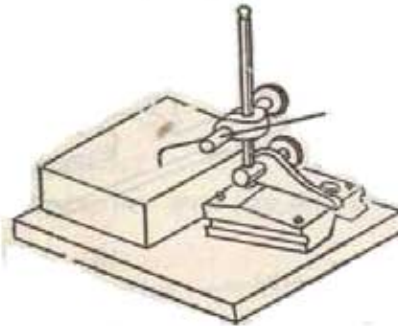


চিত্র-২.২ : সারফেস গেজ

২.২ সারফেস গেজ দিয়ে যন্ত্রাংশের অ্যানালাইসিসেট পরীক্ষাকরণ :

(ক) আয়তাকার ওয়াকবলিসের অ্যানালাইসিসেট পরীক্ষা করা-

- ১) প্রথমে একটি পরিষ্কার ওয়াকবলিসের ওপর একটি সারফেস প্রেট রাখ।
- ২) সারফেস প্রেটটি পরিষ্কার নরম কাপড় দিয়ে পরিষ্কার করে নাও।
- ৩) সারফেস গেজটির তল ঐ একই কাপড় দিয়ে পরিষ্কার করে সারফেস প্রেটের ওপর রাখ।




চিত্র-২.৩৪ সারফেস গেজ দিয়ে কার্ববল্লর মাপ গ্রহণ

- ৪) কার্ভবন্ড বা যন্ত্রাংশটিকে সারফেস প্রেটের ওপর রাখ।
- ৫) কার্ভবন্ডের উপরিভাগের মধ্যে স্পর্শ করা অবস্থায় সারফেস গেঞ্জের ক্রাইবারের পয়েন্টটি স্থাপন করে ক্ল্যাম্প নাট টাইট দাও।
- ৬) এখন সারফেস গেঞ্জের বেসটিকে ঠেলে এমনভাবে সরায় যেন কার্ভবন্ডের ওপর দিয়ে ক্রাইবারের পয়েন্টার সরে যায়। যদি ক্রাইবারের পয়েন্টার এর সাথে কার্ভবন্ডের তলের দূরত্ব কম বেশি না হয় তবে বুঝতে হবে যে কার্ভবন্ডটি সঠিক অ্যালাইনমেন্টে আছে।

(খ) সিলিন্ড্রিক্যাল কার্ভবন্ডের অ্যালাইনমেন্ট পরীক্ষা করণ :

- ১) কার্ভবন্ডটিকে লেদ চাকে চিত্রানুযায়ী বাঁধ।
- ২) সারফেস গেঞ্জের বেস-এর ডি-ক্রেন্ডের সাথে সিলিন্ড্রিক্যাল কার্ভবন্ডের প্রান্ত স্থাপন কর।
- ৩) কার্ভবন্ডটির উপর চক বা মার্কিং কালারের প্রলেপ দাও।
- ৪) ক্রাইবারের পয়েন্টারটিকে কার্ভবন্ডের পরিধির উপর স্পর্শ করা অবস্থায় ক্রাইবার নাট টাইট দাও।
- ৫) এখন হাত দিয়ে লেদ চাকটিকে আন্তে আন্তে ঘুরায়।
- ৬) লক্ষ কর যে, কার্ভবন্ডের পরিধির উপর সুস্বভাবে দাগ পড়েছে কিনা।
- ৭) যদি সমানভাবে পরিধির সম্পূর্ণ অংশ দাগাঙ্কিত হয়ে থাকে তবে বুঝতে হবে যে, কার্ভবন্ডের অ্যালাইনমেন্ট সঠিক হয়েছে।



চিত্র-২.৩ঃ সারফেস গেঞ্জ দিয়ে কার্ভবন্ডের অ্যালাইনমেন্ট পরীক্ষাকরণ।

অধ্যায়-৩

ডায়াল ইন্ডিকেটর ব্যবহারে দক্ষতা অর্জন (Develop Skill to use Dial Indicator)

কাজের উদ্দেশ্য :

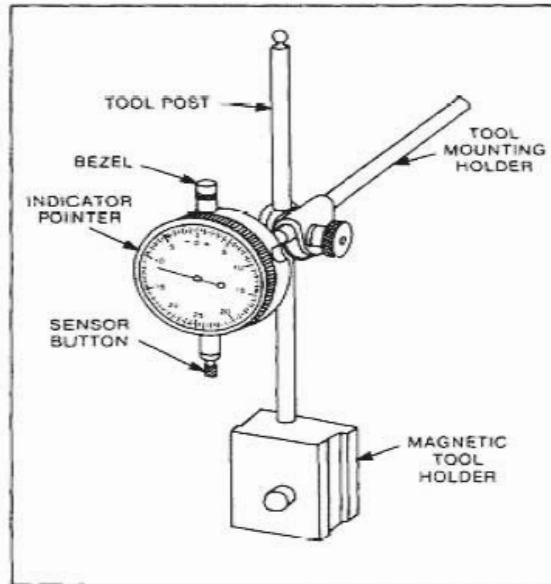
- ডায়াল ইন্ডিকেটরের বিভিন্ন অংশের সাথে পরিচিত হওয়া।
- ডায়াল ইন্ডিকেটরের সাহায্যে পরিমাপ গ্রহণে দক্ষতা অর্জন।
- ডায়াল ইন্ডিকেটরের সাহায্যে সারফেস রাফনেস পরীক্ষা করার দক্ষতা অর্জন।

বহুপাতি নির্বাচন :

- ডায়াল ইন্ডিকেটর
- ডায়াল ইন্ডিকেটর স্ট্যান্ড
- কার্ভবন্ড বা যন্ত্রাংশ যার সারফেস রাফনেস পরীক্ষা করতে হবে।

৩.১ ডায়াল ইন্ডিকেটরের সাহায্যে পরিমাপ গ্রহণ :

ডায়াল ইন্ডিকেটরের ডায়ালের উপর '০' (শূন্য) চিহ্নিত রেখাটি মধ্যস্থান হতে ডান ও বাম দিকে সমান ২৫টি ভাগ থাকে। প্রতিটি ভাগ আবার ২টি উপভাগে বিভক্ত থাকে। তাই প্রকৃতপক্ষে ইন্ডিকেটরের ডায়াল সমান ১০০ ভাগে বিভক্ত থাকে। বাম দিকের ভাগগুলি কনটাক্ট পয়েন্টের নিচে নামার উচ্চতা নির্দেশ করে এবং ডানদিকের ভাগগুলি কনটাক্ট পয়েন্টের উপরে উঠার অর্থাৎ বেশি মাপকে বোঝানোর জন্য ব্যবহৃত হয়। সেই জন্য ডায়ালের বামদিকে বিয়োগ (-) চিহ্ন এবং ডানদিকে যোগ (+) চিহ্ন থাকে। ডায়াল ইন্ডিকেটরের প্রধান অংশগুলো হলো- প্লাজার, ডায়াল, বেজেল, বেজেল ক্ল্যাম্প এবং প্লাজার স্টপ বা সেনসর বাটন।



চিত্র-৩.১ঃ ডায়াল ইন্ডিকেটরের বিভিন্ন অংশ

ব্রিটিশ পদ্ধতিতে ডায়াল ইন্ডিকেটরের ডায়ালের প্রতিটি ভাগ প্রাঞ্জারের ০.০০১ ইঞ্চি চলাচল প্রকাশ করে। মেট্রিক পদ্ধতিতে ডায়ালের প্রত্যেকটি ভাগ প্রাঞ্জারের ০.০১ মি.মি. চলাচল প্রকাশ করে। ইন্ডিকেটরের ডায়াল ব্যালেন্স টাইপ (১) অথবা কন্টিনিউয়াস টাইপ (২) হয়ে থাকে।



চিত্র-৩.২৪ ব্যালেন্স টাইপ ডায়াল



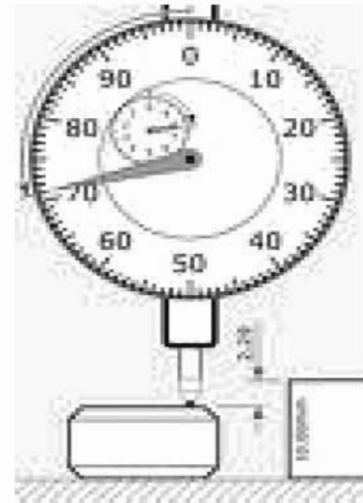
চিত্র-৩.২৯ কন্টিনিউয়াস টাইপ ডায়াল

ব্যালেন্স টাইপ ডায়ালে শূন্যের বাম অথবা ডান উভয় দিকে পরিমাপ পাঠ করা হয়। প্রাঞ্জারের প্রান্তে চাপ পড়লে এটি বড়ির মধ্যে ঢুকে যায় এবং চাপ কমে গেলে বডি হতে বের হয়ে আসে।

প্রাঞ্জার বড়ির মধ্যে প্রবেশ করলে বড় পয়েন্টার (কাঁটা) ডান পাকে ঘোরে এবং প্রাঞ্জার বডি হতে বাইরে এলে বড় পয়েন্টার বাম পাকে ঘোরে। ডায়ালের উপর প্রত্যেকটি বিভাগ দ্বারা নির্দেশিত মান ডায়াল ফেসে উল্লেখ করা থাকে (০.০০১ ইঞ্চি বা ০.০১ মি.মি.)। সাধারণত ইন্ডিকেটর পয়েন্টারের রেঞ্জ পাক হয়ে থাকে। বড় পয়েন্টার পূর্ণ একপাক ঘুরলে ছোট পয়েন্টারে তা নির্দেশিত হয়।

ডায়াল ইন্ডিকেটর দ্বারা পরিমাপ পাঠকরণ :


- ১) সারফেস প্লেটের উপর ওয়ার্কপিস এবং ডায়াল ইন্ডিকেটর স্ট্যান্ডসহ বসাও।
- ২) ডায়াল ইন্ডিকেটরের প্রাঞ্জার সারফেস প্লেট স্পর্শ করা অবস্থায় পয়েন্টার '০' তে সেট কর।
- ৩) এখন ডায়াল ইন্ডিকেটর স্ট্যান্ডের ক্ল্যাম্প টিলা করে উপরে আস্তে আস্তে এমনভাবে উঠাও যেন প্রাঞ্জার কার্ভবন্ডর উপরের ভলকে স্পর্শ করে।
- ৪) ছোট পয়েন্টার দ্বারা নির্দেশিত পরিমাপ জেনে নাও।
- ৫) বড় পয়েন্টার দ্বারা নির্দেশিত পরিমাপ জেনে নাও।
- ৬) দুই পয়েন্টারের পরিমাপ যোগ করে কার্ভবন্ডর উচ্চতা বের কর।



চিত্র-৩.৪ঃ ডায়াল ইন্ডিকেটরের সাহায্যে পরিমাপ গ্রহণ

৩.২ ডায়াল ইন্ডিকেটরের সাহায্যে সারফেস রাফনেস নির্ণয় করার পদ্ধতি :

- ১) প্রথমে যে ওয়ার্কপিস বা বস্তুর তলের মসৃণতা বা সারফেস রাফনেস পরীক্ষা করা হবে সেটিকে একটি সমতল ওয়ার্কবেকের উপর রাখিত সারফেস প্রেটের উপর চিত্রানুযায়ী লম্বভাবে ক্লাম্প দিয়ে স্থাপন কর।
- ২) তারপর একটি ডায়াল ইন্ডিকেটরকে ভালোভাবে পরিষ্কার করে স্ট্যান্ডের সাথে ক্লাম্পের সাহায্যে আটকাও।
- ৩) ডায়াল ইন্ডিকেটরের স্ট্যান্ডসহ ম্যাগনেটিক বেইসকে সারফেস প্রেটের উপর স্থাপন কর।
- ৪) এখন ডায়াল ইন্ডিকেটরের কন্টাক্ট পয়েন্টটিকে স্পর্শ করে কিছুটা চাপ প্রয়োগ কর যাতে করে ডায়ালের পয়েন্টার '০' দাগ বরাবর থাকে এবং এমন অবস্থায় ক্লাম্প-কে টাইট দিয়ে নাও।
- ৫) এখন ডায়াল ইন্ডিকেটরের বেইসটিকে আন্তে আন্তে সারফেস প্রেটের উপর এমনভাবে সরাতে থাক যাতে ওয়ার্কপিসের উপরিভাগের সবদিকে কন্টাক্ট পয়েন্টটি চলাচল করে।
- ৬) ওয়ার্কপিসের তলের উপর দিয়ে ডায়াল ইন্ডিকেটরের নড়াচড়ার সময় যদি ডায়ালের পয়েন্টার একই অবস্থানে থাকে তবে বুঝতে হবে যে ওয়ার্কপিসের তলটি বর্ধায সমতল। কিন্তু যদি ডায়ালের পয়েন্টার পজিটিভ বা নিগেটিভের দিকে সরে আসে তবে বুঝতে হবে যে, ওয়ার্কপিসের উপরিভাগ উঁচু নিচু আছে।



চিত্র-৩.৫৪ ডায়াল ইন্ডিকেটরের সারফেস রাফনেস পরীক্ষাকরণ।

অধ্যায়-৪

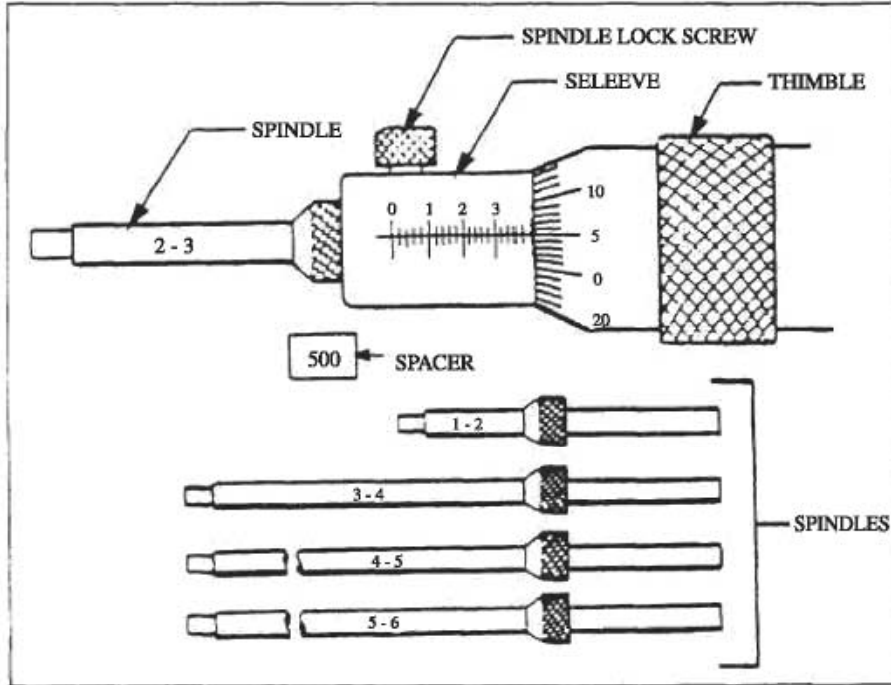
ইনসাইড মাইক্রোমিটার ব্যবহারে দক্ষতা অর্জন (Develop Skill to use Inside Micrometer)

কাজের উদ্দেশ্য :

- (ক) ইনসাইড মাইক্রোমিটারের বিভিন্ন অংশের ব্যবহার জানা।
- (খ) ইনসাইড মাইক্রোমিটারের যান্ত্রিক ক্রটি নিরূপণ।
- (গ) ইনসাইড মাইক্রোমিটারের গ্রুবক নির্ণয়।
- (ঘ) ইনসাইড মাইক্রোমিটারের সাহায্যে কোন ছিদ্রের আভ্যন্তরীণ ব্যাস নির্ণয়।

ইনসাইড মাইক্রোমিটার :

যে মাইক্রোমিটার দ্বারা কোন কার্যবস্তু বা ওয়াক্‌পিসের কোন ছিদ্রের গভীরতা, কোন গ্রুভের গভীরতা ও পুরুত্ব, ফাঁপা সিলিন্ডারের আভ্যন্তরীণ ব্যাস ও গভীরতা সূক্ষ্মভাবে পরিমাপ করতে পারে তাকে ইনসাইড মাইক্রোমিটার বলে।



চিত্র-৪.১৪ ইনসাইড মাইক্রোমিটারের বিভিন্ন অংশ

৪.১ ইনসাইড মাইক্রোমিটারের যান্ত্রিক ক্রটি নিরূপণ :

যান্ত্রিক ক্রটি নিরূপণের জন্য ব্যারেল স্কেলের শূন্য দাগ স্পিন্ডল স্কেলের শূন্য দাগের সাথে মিলানো অবস্থায় যদি ব্যারেল ও থিম্বলের প্রান্তস্থিত দুইটি মুখের দূরত্ব ২ ইঞ্চি বা ৫০ মি.মি. হয় তবে বুঝতে হবে এটির কোন

যান্ত্রিক ক্রটি নাই। যদি ব্যারেল ও থিম্বলের প্রান্তের দূরত্ব ২ ইঞ্চি বা ৫০ মিমি রাখার পর ব্যারেলের শূন্য দাগ যদি স্পিনডলের শূন্য দাগ হতে এগিয়ে থাকে তবে যান্ত্রিক ক্রটি ঋণাত্মক হয় আবার ব্যারেলের শূন্য দাগ যদি স্পিনডলের শূন্য দাগ হতে পিছিয়ে থাকে তবে যান্ত্রিক ক্রটি ধনাত্মক হয়।

ইনসাইড মাইক্রোমিটারের পাঠ = এক্সটেনশন রডের দৈর্ঘ্য + ব্যারেল স্কেলের পাঠ x ব্যারেল স্কেলের অনুভূমিক রেখার সাথে মিলে যাওয়া থিম্বল স্কেলের দাগসংখ্যা ± যান্ত্রিক ক্রটি

৪.২ ইনসাইড মাইক্রোমিটারের ভার্নিয়ার ধ্রুবক নির্ণয় :

মেট্রিক পদ্ধতিতে মাপ নেওয়ার জন্য ব্যবহৃত ইনসাইড মাইক্রোমিটারের প্রধান স্কেলে রৈখিক দাগ ও দাগের মান উপর ও নিচে দুই দিকে থাকে। উপরের ও নিচের রৈখিক স্কেলের মাঝে ব্যারেলের অক্ষ বরাবর একটি সরলরেখা বা দাগ থাকে। উপরের রৈখিক স্কেলের ক্ষুদ্র এক ভাগের মান ১ মি.মি.। আবার নিচের স্কেলে উপরের প্রতি ঘরের মাঝ বরাবর দাগ কাটা থাকে যাতে করে উপরের প্রতি ঘরের দৈর্ঘ্যের অর্ধেক মাপ নেওয়া সহজ হয়।

ফলে রৈখিক স্কেল হতে সর্বনিম্ন ০.৫ মি.মি. মাপ নেওয়া যায়। বৃত্তাকার স্কেলের থিম্বলকে এক পাক ঘুরালে রৈখিক দাগ বরাবর ০.৫ মি.মি. অগ্রসর হয় বা পিছিয়ে আসে। সুতরাং রৈখিক স্কেলের ০.৫ মি.মি. দূরত্ব বৃত্তাকার স্কেলের ৫০ ভাগের সমান।

$$\begin{aligned} \text{অতএব, বৃত্তাকার স্কেলের এক ভাগের মান} &= \frac{০.৫}{৫০} \text{ মি.মি.} \\ &= ০.০১ \text{ মি.মি.} \end{aligned}$$

$$\therefore \text{ইনসাইড মাইক্রোমিটার কনস্ট্যান্ট} = ০.০১ \text{ মি.মি.}$$

এখন লক্ষ কর যে,

$$\text{ভার্নিয়ার স্কেলের ১০ ভাগ} = \text{থিম্বল স্কেলের ৯ ভাগের সমান} = ৯ \times ০.০১ \text{ মি.মি.} = ০.০৯ \text{ মি.মি.}$$

$$\therefore \text{ভার্নিয়ার স্কেলের ১ ভাগ} = \text{মি.মি.} = ০.০০৯ \text{ মি.মি.}$$

$$\begin{aligned} \therefore \text{ভার্নিয়ার ধ্রুবক} &= \text{থিম্বল স্কেলের ১ ভাগ} - \text{ভার্নিয়ার স্কেলের ১ ভাগ} \\ &= (০.০১ - ০.০০৯) \text{ মি.মি.} \\ &= ০.০০১ \text{ মি.মি.} \end{aligned}$$

$$\therefore \text{ইনসাইড মাইক্রোমিটারের ভার্নিয়ার ধ্রুবক} = ০.০০১ \text{ মি.মি.} \text{।}$$

৪.৩ ইনসাইড মাইক্রোমিটার দ্বারা ছিদ্রের আভ্যন্তরীণ ব্যাস নির্ণয় :

ইনসাইড মাইক্রোমিটারের গঠন রীতি আউট সাইড মাইক্রোমিটারে চেয়ে একটু ভিন্ন ধরনের হয়ে থাকে। সাধারণত ইনসাইড মাইক্রোমিটারের একটি মূল বডিসহ কতকগুলো বর্ধিত দণ্ড দ্বারা একটি সেট আকারে থাকে। এটি ক্রোম ইস্পাত দ্বারা তৈরি হয়ে থাকে। আউটসাইড মাইক্রোমিটারের মত থিম্বল স্কেল ও ব্যারেল স্কেল আছে। $\frac{১}{২}$ ইঞ্চি হেডের স্লিভের উপর ২০ টি দাগ ও এক ইঞ্চি মাথার ব্যারেলের উপর ৪০ টি দাগ কাটা থাকে। আভ্যন্তরীণ মাপ নেওয়ার জন্য এটির মাথায় দুইটি অ্যানভিল লাগানো থাকে। কোন বস্তুর মাপ অর্থাৎ দুইটি তলের অন্তর্বর্তী দূরত্ব মাপ গ্রহণ, পরীক্ষা ও নিরীক্ষা করতে ইনসাইড মাইক্রোমিটার ব্যবহৃত হয়।

পার্শ্বের চিত্রে দেখানো পদ্ধতিতে ইনসাইড মাইক্রোমিটার রিডিং দেখে মোট পাঠ বের কর।

ফলাফল :

$$\text{এক্সটেনশন রডের দৈর্ঘ্য} = ২৫.০০ \text{ মি.মি.}$$

$$\text{প্রধান স্কেলের ৫ ভাগের মান} = ৫ \times ১ = ৫.০০ \text{ মি.মি.}$$

$$\text{প্রধান স্কেলের ক্ষুদ্রতম ৩ ভাগ} = ৩ \times ০.৫ = ১.৫০ \text{ মি.মি.}$$

$$\text{বৃত্তীয় স্কেলের ৯ ভাগের মান} = ৬ \times ০.০১ = ০.০৬ \text{ মি.মি.}$$

$$\text{মোট পাঠ} = ৩১.৫৬ \text{ মি.মি.}$$



∴ বিয়ারিং এর আভ্যন্তরীণ ব্যাস = $৩১.৫৬ \pm$ যান্ত্রিক ত্রুটি

ইনসাইড ভার্নিয়ার মাইক্রোমিটার দিয়ে পাঠ নেওয়ার সময় থিম্বলের বিভেল প্রান্ত ব্যারেল স্কেলের কত দাগ অতিক্রম করেছে। অতিক্রান্ত দাগের মাপ নির্ণয় করে এর সাথে সার্কুলার স্কেলের যে দাগ ডেটাম লাইনের সাথে মিলেছে অর্থাৎ প্রায় একই সরলরেখায় এসেছে সেই দাগ সংখ্যাকে মাইক্রোমিটার কনস্ট্যান্ট দিয়ে গুণ করে গুণফলকে যোগ করতে হবে। তারপর ভার্নিয়ার স্কেলের যে লাইনটি থিম্বলের একটি লাইনের সাথে মিলে গিয়েছে সেটি লিখে রাখ। এবং এই দাগ সংখ্যাকে ০.০০১ দিয়ে গুণ করে গুণফলকে পূর্বের যোগফলের সাথে যোগ কর। সর্বমোট যোগফলই হবে নির্ণয় পরিমাপ।

অধ্যায়-৫

কম্বিনেশন সেট ব্যবহারে দক্ষতা অর্জন (Develop Skill to use Combination Set)

উদ্দেশ্য :

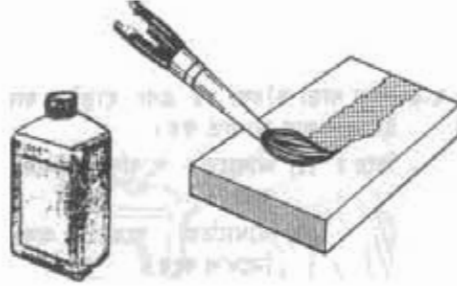
- (১) কম্বিনেশন সেটের বিভিন্ন অংশের ব্যবহার দেখা।
- (২) কার্ভবন্ডের উপর লে-আউট করণ।
- (৩) কম্বিনেশন সেটের সাহায্যে সিলিন্ড্রিক্যাল বন্ডের কেন্দ্র নির্ণয় করা।

বস্তুপাতি নির্বাচন :

- (১) সারফেস প্রেট
- (২) ক্রাইবার
- (৩) ডট পাঞ্চ
- (৪) মেশিনিস্ট হ্যামার
- (৫) কম্বিনেশন সেট

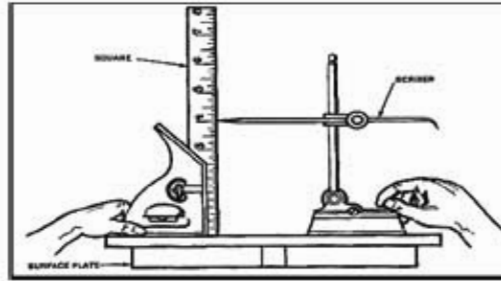
৫.১ কম্বিনেশন সেট এর সাহায্যে কার্ভবন্ডের উপর লে-আউট করণ :

- ১) ওয়াকবন্ডের উপর চক পেঙ্গিল বা মার্কিং কালার এর প্রলেপ দাও।



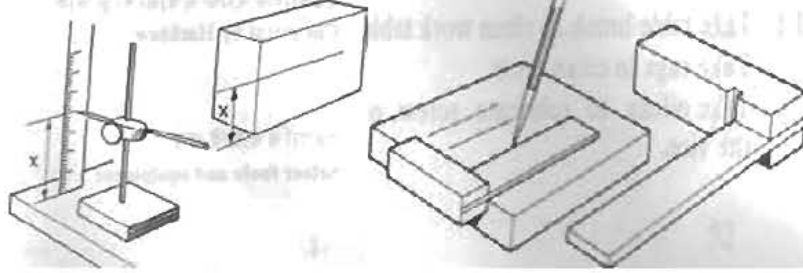
চিত্র-৫.১৪ জবের উপর মার্কিং কালারের প্রলেপ দেওয়া।

- ২) চিহ্নানুযায়ী সারফেস প্রেটের উপর কম্বিনেশন স্কয়ার ও সারফেস পেজ বসিয়ে কার্ভবন্ডের মাপ অনুযায়ী সারফেস পেজের ক্রাইবার সেট কর।



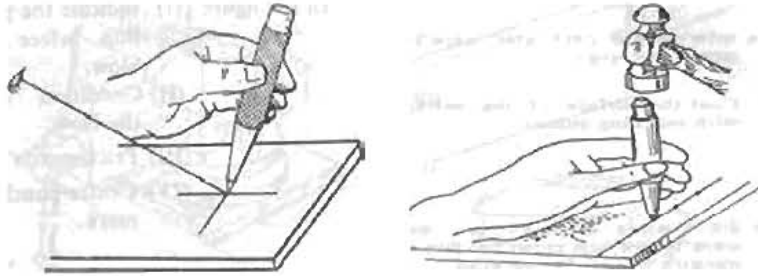
চিত্র-৫.২৪ কম্বিনেশন সেট দিয়ে ক্রাইবার নির্দিষ্ট মাপে সেট করণ।

- ৩) কমিনেশন সেট এর স্কাইবারের সাহায্যে ওয়াকপিসের ভলের সোজা কিনারার সাথে সমকোণে প্রয়োজনীয় দাগ দাও।



চিত্র-৫.৩ঃ জবের উপর স্কাইবার দিয়ে মার্কিং করণ।

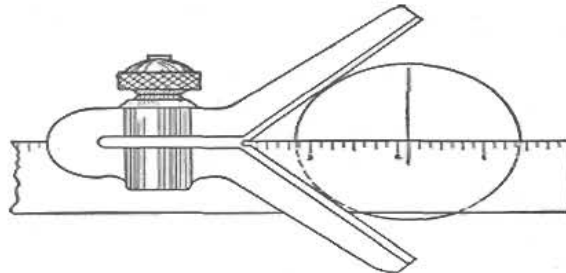
- ৪) দাগ বরাবর ডট পাঞ্চের সাহায্যে কিছু দূর পর পর পাঞ্চিং করে চিহ্নিত কর।



চিত্র-৫.৪ঃ জবের উপর সেন্টার পাঞ্চ দিয়ে মার্কিং করণ।

৫.২ কমিনেশন সেটের সাহায্যে সিলিন্ড্রিক্যাল বস্তুর কেন্দ্র নির্ণয় :

- (১) একটি শ্যাফট লও।
- (২) শ্যাফট লেদে ফেসিং কর।
- (৩) ফেসিং করা শ্যাফটের মুখে চক দিয়ে প্রলেপ দাও বা মার্কিং কালায়ের প্রলেপ দাও।
- (৪) কমিনেশন সেটের স্কয়ার হেডটিকে চিত্রানুযায়ী দৃঢ় ভাবে ধর এবং ব্যাস বরাবর দাগ দাও।



চিত্র-৫.৫ঃ কমিনেশন সেটের সাহায্যে সিলিন্ড্রিক্যাল বস্তুর কেন্দ্র নির্ণয়।

- (৫) আবার একই পদ্ধতিতে পূর্বের দাগের সমকোণে শ্যাফটের প্রস্থচ্ছেদ বরাবর আরও একটি দাগ দাও।
- (৬) সমকোণে অঙ্কিত দাগ দুইটির পরস্পর ছেদ করা বিন্দুটিই নির্ণেয় কেন্দ্র।

অধ্যায়-৬

ডেপথ মাইক্রোমিটার ব্যবহারে দক্ষতা অর্জন (Develop Skill to use Depth Micrometer)

উদ্দেশ্য :

- (১) ডেপথ মাইক্রোমিটারের বিভিন্ন অংশের ব্যবহার শেখা।
- (২) কার্যবস্তুর উপর লে-আউট করণ।
- (৩) ডেপথ মাইক্রোমিটারের সাহায্যে কোন যন্ত্রাংশের বা জবের ছিদ্রের গভীরতা নির্ণয় করা।

যন্ত্রপাতি নির্বাচন :

- (১) ওয়াকিং টেবিল
- (২) সারফেস প্রেট
- (৩) ওয়াকপিঙ্গ বা জব
- (৪) ডেপথ মাইক্রোমিটার
- (৫) ওয়েস্ট কটন



চিত্র-৬.১ঃ ডেপথ মাইক্রোমিটার

৬.১ ডেপথ মাইক্রোমিটারের যান্ত্রিক ত্রুটি নিরূপণ :

- (১) প্রথমে প্রয়োজনীয় যন্ত্রপাতিসমূহ সংগ্রহ করে একটি পরিষ্কার ওয়াকিং টেবিলের ওপর রাখ।
- (২) ডেপথ মাইক্রোমিটারটিকে ওয়েস্ট কটন দ্বারা পরিষ্কার কর।
- (৩) সারফেস প্রেটের উপর ডেপথ মাইক্রোমিটার এমনভাবে স্থাপন কর যেন স্টক এবং স্পিডল ফেস একই সমতলে থেকে সারফেস প্রেটকে স্পর্শ করে।
- (৪) এমনভাবে স্থায়ি থিম্বল স্কেলের শূন্য দাগ ও প্রধান (স্লিভ/ব্যারেল) স্কেলের শূন্য দাগ যদি মিলে যায়, তবে বুঝতে হবে যে কোন যান্ত্রিক ত্রুটি নাই।
- (৫) যদি থিম্বল স্কেলের শূন্য দাগ ও প্রধান (স্লিভ/ব্যারেল) স্কেলের শূন্য দাগের চেয়ে এগিয়ে থাকে তবে যান্ত্রিক ত্রুটি +ve (পজিটিভ) হবে। এ ক্ষেত্রে নির্ভুল পরিমাপ পেতে হলে ডেপথ মাইক্রোমিটারের পাঠ হতে ঐ ভুল পরিমাপ বিয়োগ করে নাও।

- (৬) যদি বিদ্যল কোলের শূন্য দাগ ও প্রধান (মিড) কোলের শূন্য দাগ থেকে শিহিয়ে থাকে তবে যান্ত্রিক জট -৭৫ (নেগেটিভ) হবে। একেই নির্ভুল পরিমাপ পেতে হলে মাইক্রোমিটারের মাপের সাথে ঐ তুল পরিমাপ যোগ করে মাও।
- (৭) সূত্রমাং ত্রেপথ মাইক্রোমিটারের একক পাঠ হবে = আপাত পাঠ ± যান্ত্রিক জট

৬.২ ত্রেপথ মাইক্রোমিটারের আর্নিয়ার ক্রমক নির্ণয়।

এখান কোলের বা ব্যারেল কোলের সূত্রতম ১ তাপের মান = ০.৫ মি.মি.

বিদ্যল কোলের মোট জাগ সংখ্যা = ৫০

বিদ্যল এক পাক ঘুরানো ব্যারেল অবনয় হয় = ০.৫ মি.মি.

অর্ধ পিচ = ০.৫ মি.মি.

অতএব, মাইক্রোমিটার কনস্ট্যান্ট = ত্রেচের পিচ + বিদ্যল কোলের মোট জাগ সংখ্যা

$$= \frac{০.৫}{৫০} = ০.০১ \text{ মি.মি.}$$

আর্নিয়ার কোলের ১০ জাগ = বিদ্যল কোলের ৯ জাগ

আর্নিয়ার কোলের ১ জাগ = বিদ্যল কোলের জাগ = ০.৯ জাগ = ০.৯ × ০.০১ = ০.০০৯ মি.মি.

আর্নিয়ার ক্রমক = বিদ্যল কোলের ১ তাপের মান - আর্নিয়ার কোলের ১ তাপের মান

$$= (০.০১ - ০.০০৯) \text{ মি.মি.}$$

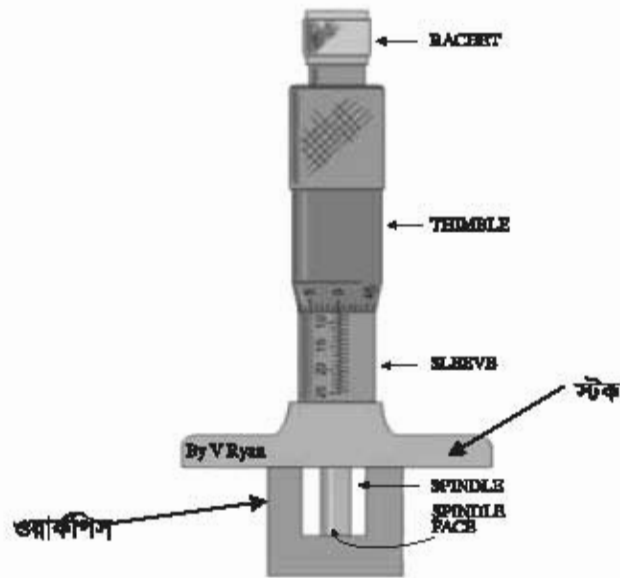
$$= ০.০০১ \text{ মি.মি.}$$

৬.৩ ত্রেপথ মাইক্রোমিটার দ্বারা হিফের পঞ্জীকৃত পরিমাপ করণ :

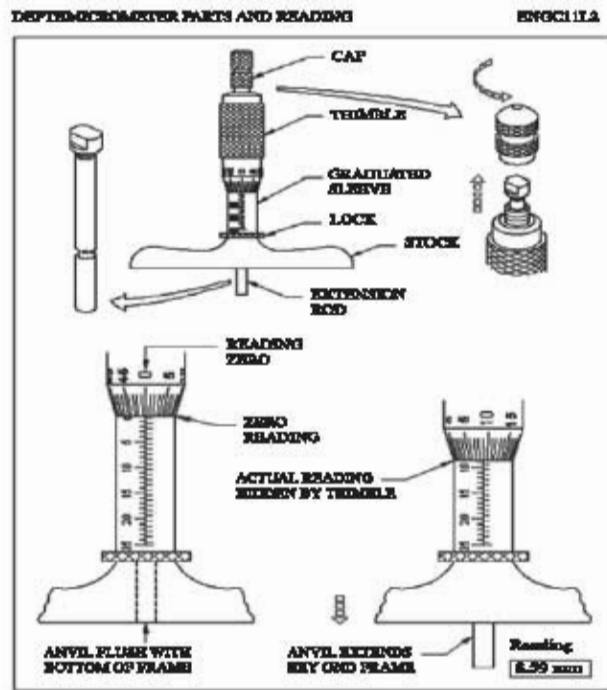
- ১) ওয়াকপিসটিকে সারকেন্স প্রেটের ওপর লগ।
- ২) পার্শ্বের চিক্রের মত করে ত্রেপথ মাইক্রোমিটারের স্পিন্ডল ও স্টক ওয়াকপিসলের মধ্যে স্থাপন কর।
- ৩) এখন ব্যারেল কোলের পাঠ লগ।
- ৪) বিদ্যল কোলের পাঠ লগ।
- ৫) আর্নিয়ার কোলের পাঠ লগ।



চিত্র-৬.২। ত্রেপথ মাইক্রোমিটার ওয়াকপিসলের মধ্যে স্থাপন কৌশল



চিত্র-৬.৩ঃ ডেপথ মাইক্রোমিটার দিয়ে জবের গভীরতার মাপ নেওয়ার কৌশল



চিত্র-৬.৪ঃ ডেপথ মাইক্রোমিটার দিয়ে পাঠ গ্রহণ প্রক্রিয়া

ফলাফল : ওয়াকপিসের প্রকৃত গভীরতা = ব্যালেন স্কেল পাঠ + থিম্বল স্কেল পাঠ x মাইক্রোমিটার প্রসবক + থিম্বল স্কেলের যে কোন দাশের সবচেয়ে কাছাকাছি ডার্নিয়ার স্কেলের দাগ সংখ্যা x ডার্নিয়ার প্রসবক ± ব্যাবিক ভ্রটি

অধ্যায়-৭

ভার্নিয়ার বিভেল প্রোট্রাক্টর ব্যবহারে দক্ষতা অর্জন (Develop Skill to use Vernier Bevel Protractor)

উদ্দেশ্য :

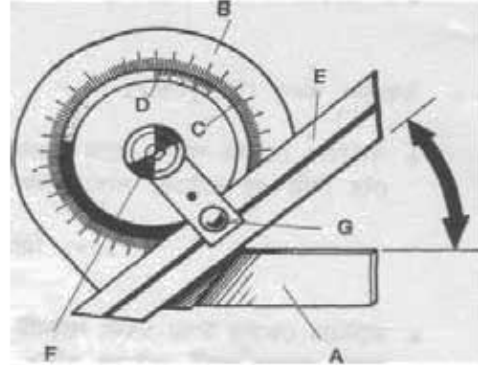
- (১) ভার্নিয়ার বিভেল প্রোট্রাক্টরের বিভিন্ন অংশের ব্যবহার শেখা।
- (২) ভার্নিয়ার বিভেল প্রোট্রাক্টরের কনস্ট্যান্ট বা ক্রম্বক নির্ণয় করা।
- (৩) ভার্নিয়ার বিভেল প্রোট্রাক্টরের সাহায্যে টেম্পার বক্সর টেম্পার নির্ণয় করা।
- (৪) ভার্নিয়ার বিভেল প্রোট্রাক্টরের সাহায্যে চালু তলের ঢাল নির্ণয় করা।
- (৫) ভার্নিয়ার বিভেল প্রোট্রাক্টরের সাহায্যে নির্দিষ্ট কোণ পরিমাপ করতে পারা।

যন্ত্রশক্তি নির্বাচন :

- (১) ওয়াকিং টেবিল
- (২) সারফেস প্রেট
- (৩) টেম্পার করা ওয়াকপিস বা জব
- (৪) চালু ওয়াকপিস বা জব
- (৫) ভার্নিয়ার বিভেল প্রোট্রাক্টর
- (৬) ওয়েস্ট কটন

ভার্নিয়ার বিভেল প্রোট্রাক্টরের বিভিন্ন অংশগুলো হলো :

- A = বেস/স্টক (Base/stock)
 B = ডায়াল (Dial)
 C = ডিস্ক (Disk)
 D = ভার্নিয়ার স্কেল (Vernier scale)
 E = ব্লেড (Blade)
 F = ক্ল্যাম্পিং নট (Clamping nut)
 G = ক্ল্যাম্পিং স্ক্রু (Clamping screw)



চিত্র-১৩.১ঃ ভার্নিয়ার বিভেল প্রোট্রাক্টরের বিভিন্ন অংশ

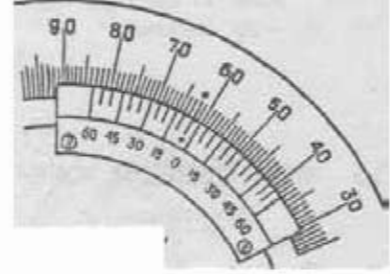
ভার্নিয়ার বিভেল প্রোট্রাক্টরের ক্রম্বক নির্ণয় :

- ক) ভার্নিয়ার বিভেল প্রোট্রাক্টরটি ওয়েস্ট কটন দিয়ে ভালোভাবে পরিষ্কার কর।
- খ) লক্ষ কর যে প্রোট্রাক্টরের সমস্ত স্কেল ডিগ্রিতে দাগাঙ্কিত।
- গ) ডায়ালটি ১৮০ ডিগ্রির দুইটি চাপে বিভক্ত যা শূন্য লাইনের বাম ও ডানে উভয় দিকে ৯০° করে দাগাঙ্কিত। প্রতি ক্ষুদ্রতম ১ ডাগ ১° এর সমান।

- ঘ) ভার্নিয়ার স্কেলটি শূন্য লাইনের উভয়দিকে ১২ ভাগে বিভক্ত।
 ঙ) ভার্নিয়ার স্কেলের ১২ ভাগ প্রধান স্কেলের ২৩টি সূত্র ভাগের স্থান দখল করে।
 চ) ভার্নিয়ার স্কেলের প্রত্যেক ভাগ = $\frac{২৩ \times ৬০}{১২} = ১১৫'$ (মিনিট)
 ছ) প্রধান স্কেলের $২^\circ = ১২০'$ (মিনিট)
 জ) প্রধান স্কেলের প্রত্যেক ২° এবং ভার্নিয়ার স্কেলের ১ ভাগের মধ্যে পার্থক্য হলো = $১২০' - ১১৫' = ৫'$ (মিনিট)। এটিই হলো ভার্নিয়ার বিভেল শ্রেট্র্যাঙ্করের কনস্ট্যান্ট বা প্রমক।

৭.১ ভার্নিয়ার বিভেল শ্রেট্র্যাঙ্করের সাহায্যে টেশার বস্তুর টেশার নির্ণয় :

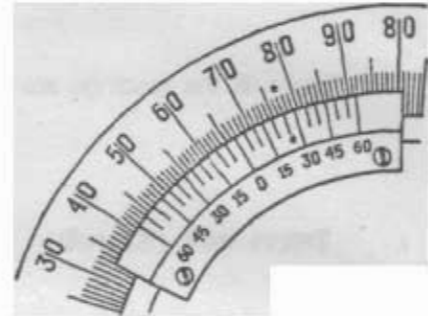
- ক) টেশার বস্তুটি ভার্নিয়ার বিভেল শ্রেট্র্যাঙ্করের বেসের সাথে সেট কর।
 খ) প্রধান স্কেলের পাঠ লও। যদি ভার্নিয়ার স্কেলের শূন্য প্রধান স্কেলের শূন্যের বামদিকে অগ্রসর হয় তবে উভয় স্কেলের শূন্যের বামদিকের পরিমাপের পাঠ লও।
 গ) যদি ভার্নিয়ার স্কেলের শূন্য প্রধান স্কেলের শূন্যের ডানদিকে অগ্রসর হয় তবে উভয় স্কেলের শূন্যের ডানদিকের পরিমাপের পাঠ লও।
 ঘ) ভার্নিয়ার স্কেলের পাঠ লও। ভার্নিয়ার স্কেলের উপর একটি লাইন লক্ষ কর যাতে প্রধান স্কেলের একটি লাইনের সাথে মিলিত হয় এবং এই মিলিত দাগ সংখ্যাকে $৫'$ (মিনিট) দ্বারা গুণ কর।
 ঙ) পরিশেষে সকল পাঠ যোগ কর।



চিত্র-১৩.২ঃ শ্রেট্র্যাঙ্করের পাঠ

৭.২ ভার্নিয়ার বিভেল শ্রেট্র্যাঙ্করের সাহায্যে চালু ডলের চাল নির্ণয় :

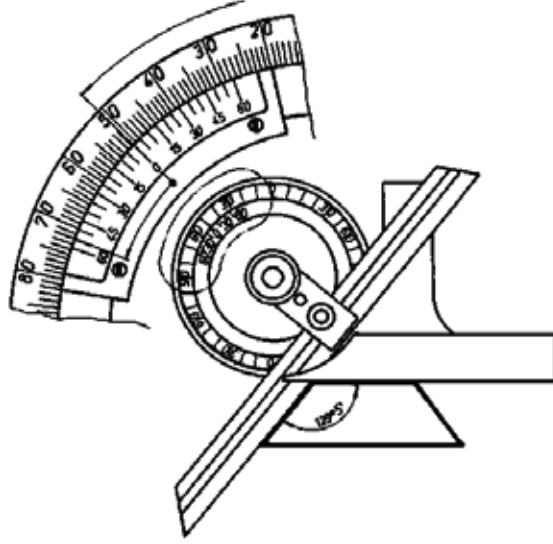
- ক) চালু বস্তুটি ভার্নিয়ার বিভেল শ্রেট্র্যাঙ্করের বেসের সাথে সেট কর।
 খ) প্রধান স্কেলের পাঠ লও। যদি ভার্নিয়ার স্কেলের শূন্য প্রধান স্কেলের শূন্যের বামদিকে অগ্রসর হয় তবে উভয় স্কেলের শূন্যের বামদিকের পরিমাপের পাঠ লও।
 গ) যদি ভার্নিয়ার স্কেলের শূন্য প্রধান স্কেলের শূন্যের ডানদিকে অগ্রসর হয় তবে উভয় স্কেলের শূন্যের ডানদিকের পরিমাপের পাঠ লও।
 ঘ) ভার্নিয়ার স্কেলের পাঠ লও। ভার্নিয়ার স্কেলের উপর একটি লাইন লক্ষ কর যাতে প্রধান স্কেলের একটি লাইনের সাথে মিলিত হয় এবং এই মিলিত দাগ সংখ্যাকে $৫'$ (মিনিট) দ্বারা গুণ কর।
 ঙ) পরিশেষে সকল পাঠ যোগ কর।



চিত্র-১৩.৩ঃ শ্রেট্র্যাঙ্করের পাঠ

৭.৩ ভার্নিয়ার বিভেল প্রোট্র্যাক্টরের সাহায্যে কোণ পরিমাপ করণ :

- ক) যে বস্তুর কোণ মাপতে হবে সেটিকে প্রথমে ভার্নিয়ার বিভেল প্রোট্র্যাক্টরের সাথে ক্ল্যাম্প নাটকে ঢিলা করে ডানদিকে বা বামদিকে ঘুরিয়ে এমনভাবে স্থাপন কর ।
- খ) লক্ষ কর যে, ভার্নিয়ারের '০' চিহ্নিত রেখাটি ডায়ালের ৯০° রেখাটির বামদিকে অথবা ডানদিকে কত সংখ্যক পূর্ণ ডিগ্রির দাগ অতিক্রম করেছে ।
- গ) তারপর লক্ষ কর যে, ভার্নিয়ারের কত সংখ্যক রেখার সাথে ডায়ালের প্রধান স্কেলের যে কোন দাগ মিলে গিয়েছে বা সবচেয়ে কাছাকাছি আছে ।
- ঘ) এই মিলিত দাগ সংখ্যাকে ৫' (মিনিট) দ্বারা গুণ কর ।
- ঙ) পরিশেষে সকল পাঠ যোগ কর ।



চিত্র-১৩.৪ঃ ভার্নিয়ার বিভেল প্রোট্র্যাক্টরের পাঠ

অধ্যায়-৮

গিয়ার টুথ ডার্নিয়ার ব্যবহারে দক্ষতা অর্জন (Develop Skill to use Gear Tooth Vernier)

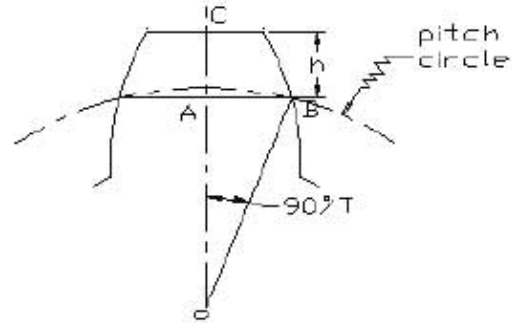
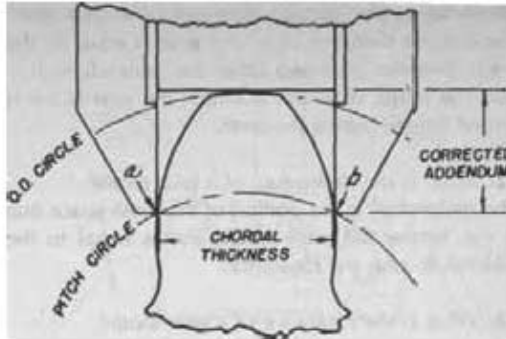
৮.১ গিয়ার টুথ ডার্নিয়ার সাহায্যে বিভিন্ন মেনেক্রেচার পরিমাপকরণ :

উদ্দেশ্য (Aim) :

গিয়ার টুথ ডার্নিয়ার ক্যালিপার ব্যবহার করে গিয়ার টুথের করডাল থিকনেস (Chordal Thickness) পরিমাপ করণ।

তত্ত্ব (Theory) :

ইহা দ্বারা গিয়ারের দাঁতের বিভিন্ন অংশকে সূক্ষ্মভাবে মাপ নিতে সহায়তা করে বলে এর নাম 'গিয়ার টুথ ডার্নিয়ার ক্যালিপার'। এতে সাধারণ ডার্নিয়ারের ন্যায় বিভাগ করা দুইটি মূলস্কেল এক সমাকোণে একই ধাতুর দ্বারা তৈরি হয় এবং উত্তর মূলস্কেলেই ডার্নিয়ার স্কেল যুক্ত থেকে বাতায়িত করে। ইহা ছাড়া, সাধারণ ডার্নিয়ার ক্যালিপারের যে রূপ মাপ নেওয়া যায় ইহাকেও ঠিক একইভাবে মাপ নেওয়া যায়। ইহার একদিকে মূল স্কেলের সাথে দুইটি 'জ' থেকে গিয়ারের দাঁতের বাহিরের মাপ নিতে ব্যবহার হয় ও অন্য মূলস্কেলের স্কাইডিং 'জ' এর পরিবর্তে একটি পাতলা খাতু খন্ড 'জ' রূপে ব্যবহৃত হয়ে গিয়ারের দাঁতের উচ্চতা নির্ণয় করে।



চিত্র-৮.১ঃ গিয়ার টুথ ডার্নিয়ার ক্যালিপারের সাহায্যে স্পার গিয়ারের করডাল থিকনেস পরিমাপ-এর জ্যামিতিক বর্ণনা।

যদি 'm' গিয়ারের মডিউল প্রকাশ করে,

তবে, Addendum = One module = m

অতএব, $m = \text{Pitch circle diameter}/T = 2.(OB/T)$

$$OB = m.(T/2)$$

যেখানে, m = module

$$T = \text{No. of tooth.}$$

$$\begin{aligned} \text{Addendum radius (OC)} &= \text{OB} + \text{Addendum} \\ &= \text{OB} + \text{One module} \\ &= m.T/2 + m \\ &= m.(T/2 + 1) \end{aligned}$$

মডিউলের মান মি.মি. এ স্ট্যান্ডার্ড মডিউল (0.5, 1, 1.25, 1.5, 2.5, 3, 3.5, 4.5) থেকে মিলিয়ে কাছাকাছি মডিউল নির্ধারণ করা হয়।

গিয়ারের কেন্দ্রে অর্ধেক দাঁত দ্বারা উৎপন্ন কোণ, $\angle AOB = 360/4T = 90/T$

সূত্রাং W এর তাত্ত্বিক মান = 2AB

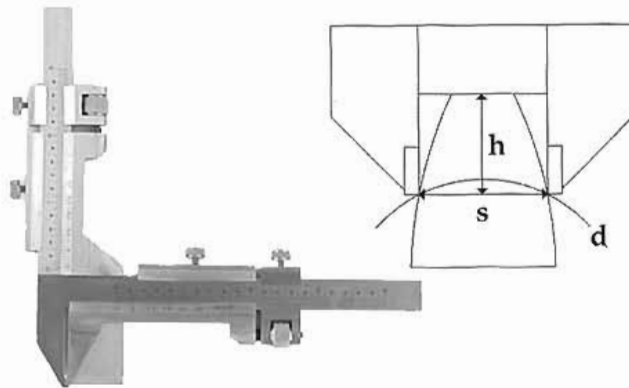
$$\begin{aligned} &= 2OB \sin \angle AOB \\ &= 2 \cdot 1/2 \cdot m.T \sin(90/T) \\ &= m.T \sin 90/T \dots\dots\dots(1) \end{aligned}$$

টাং সেটিং (Tongue setting), $h = OC - OA$

$$\begin{aligned} &= (m.T/2 + m) - 1/2.m.T \cos(90/T) \\ &= m[1 + T/2\{1 - \cos(90/T)\}] \dots\dots\dots(2) \end{aligned}$$

যন্ত্রপাতি নির্বাচন :

- (১) ওয়ার্কিং টেবিল
- (২) সারফেস প্লেট
- (৩) স্পার গিয়ার (ওয়ার্কপিস)
- (৪) গিয়ার টুথ ভার্নিয়ার ক্যালিপার
- (৫) ওয়েস্ট কটন



চিত্র-৮.২ঃ গিয়ার টুথ ভার্নিয়ার ক্যালিপারের সাহায্যে স্পার গিয়ারের কর্ডাল থিকনেস পরিমাপ করণ।

কাজের ধারাবাহিক বিবরণ (Procedure) :

১. সমীকরণ (২) হতে টাং সেটিং (য) হিসাব করে বের কর।
২. গিয়ার টুথ ভার্নিয়ারের টাং (tongue) টি সমীকরণ (২) হতে প্রাপ্ত টাং সেটিং (য) অনুযায়ী সেট কর।

৩. গিয়ার টুথের শীর্ষে টাং (tongue) টি স্থাপন কর।
৪. গিয়ার টুথ ভার্নিয়ার ক্যালিপার ব্যবহার করে প্রধান স্কেলের পাঠ দেখে করডাল থিকনেস (W) এর পাঠ লও।
৫. একই ভাবে কমপক্ষে আরও দুইটি পাঠ লও।
৬. উপরের সমীকরণ (১) ব্যবহার করে তাত্ত্বিক করডাল থিকনেস (W)_{th} বের কর।
৭. নিম্নের ছকটি পূরণ কর।

পর্যবেক্ষণ (OBSERVATION) :

পাঠসংখ্যা (Readings)	গিয়ারের ব্যাস (Dia of gear)	W		(W) _{max}	(W) _{min}	(W) _{mean}
		(W) _{th}	(W) _{pr}			
১						
২						
৩						

উপরের ছক হতে স্পার গিয়ারটির গড় করডাল থিকনেস (W)_{mean} পাওয়া যাবে।

অধ্যায়-৯


ওয়্যার গেজ ব্যবহারে দক্ষতা অর্জন (Develop Skill to use Wire Gauge)

উদ্দেশ্য :

- (১) ওয়্যার গেজ এর সাহায্যে তারের ব্যাসার্ধ পরিমাপ করা।
- (২) ওয়্যার গেজ এর সাহায্যে পাতের পুরুত্ব পরিমাপ করা।
- (৩) ওয়্যার গেজ এর সাহায্যে ক্রিমারেল পরিমাপ করা।

বহুপাতি নির্বাচন :

- (১) ওয়্যার্কিং টেবিল
- (২) সারকেস প্লেট
- (৩) ওয়্যার গেজ
- (৪) তারের স্পেসিমেন বা পরীক্ষণীয় তার
- (৫) পাতলা শিটের স্পেসিমেন বা পরীক্ষণীয় শিট
- (৬) ক্রিমারেল পরিমাপযোগ্য মেইল ও কিমেইল ওয়্যারকলিস
- (৭) স্টি-ব্লক
- (৮) ওয়েস্ট কটন।



চিত্র-৯.১: ওয়্যার গেজ

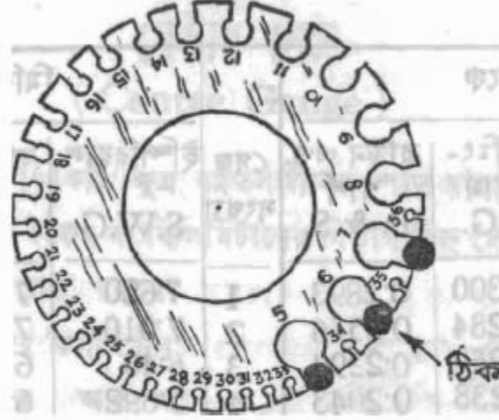


চিত্র-৯.২: ওয়্যার স্পেসিমেন

৯.১ ওয়্যার গেজের সাহায্যে তারের ব্যাসার্ধ পরিমাপকরণ :

- (১) ওয়্যার্কিং টেবিল, সারকেস প্লেট ও ওয়্যার গেজ ওয়েস্ট কটন দিয়ে পরিষ্কার করা।
- (২) পরীক্ষণীয় তার ভালোভাবে পরিষ্কার করা।
- (৩) পরীক্ষণীয় তার সোজা করে ধরে ওয়্যার গেজের সম্ভাব্য সাইজের ছিদ্রের মধ্যে প্রবেশ করাও।

- (৪) ক্রমিক (৩) এর কাজটি কমপক্ষে তিনবার বিভিন্ন ছিদ্রের মধ্যে প্রবেশ করিয়ে দেখে যে কোন ছিদ্রটি দিয়ে খুব টাইট ও না আবার খুব ঢিলা ও না এমন অবস্থায় আসা যাওয়া করতে পারে।

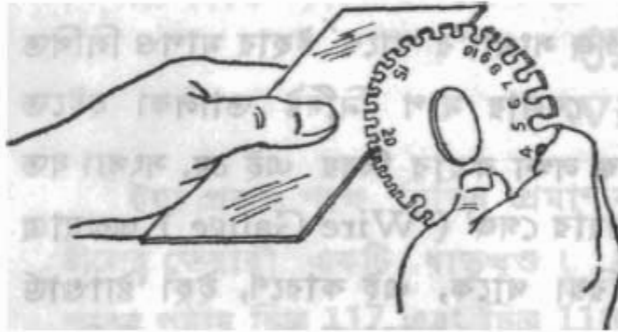


চিত্র-৯.৩ঃ ওয়্যার গেজ-এর ছিদ্রের মধ্যে সঠিকভাবে তার প্রবেশ করানো।

- (৫) উপরের চিত্রের ঠিক চিহ্নিত ছিদ্রের নম্বর দেখে স্ট্যান্ডার্ড ওয়্যার গেজ চার্ট থেকে সংশ্লিষ্ট গেজ নম্বর এর জন্য ব্যাস পাওয়া যাবে।
 (৬) উক্ত ব্যাসের অর্ধেকই পরীক্ষণীয় ডায়ের ব্যাসার্ধ।

৯.২ ওয়্যার গেজের সাহায্যে পাতলা শিটের পুরুত্ব পরিমাপকরণ :

- (১) ওয়্যারিং টেবিল, সারফেস গ্রেট ও ওয়্যার গেজ ওয়েস্ট কটন দিয়ে পরিষ্কার কর।
 (২) পরীক্ষণীয় শিট ভালোভাবে পরিষ্কার কর।
 (৩) পরীক্ষণীয় শিট সোজা করে ধরে ওয়্যার গেজের সম্ভাব্য সাহিজের ছিদ্রের মধ্যে প্রবেশ করাও।

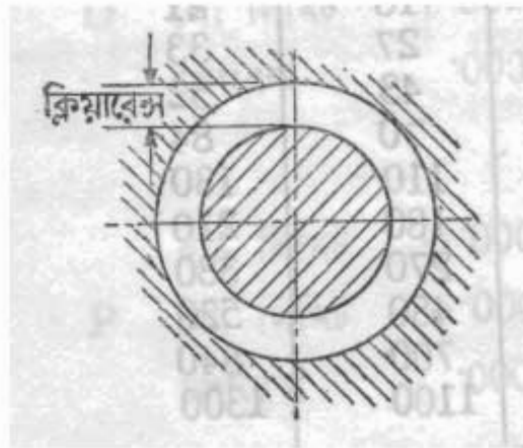
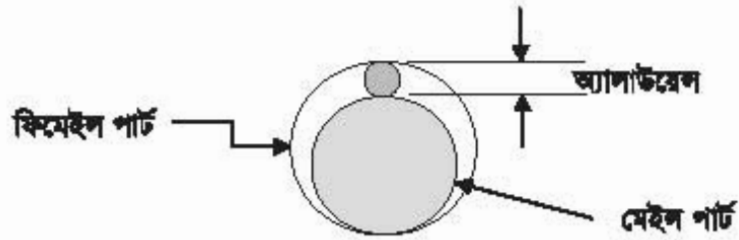


চিত্র-৯.৪ঃ ওয়্যার গেজ-এর ছিদ্রের মধ্যে সঠিকভাবে পাতলা শিট প্রবেশ করানো।

- (৪) ক্রমিক (৩) এর কাজটি কমপক্ষে তিনবার বিভিন্ন ছিদ্রের মধ্যে প্রবেশ করিয়ে দেখে যে কোন ছিদ্রটি দিয়ে খুব টাইট ও না আবার খুব ঢিলা ও না এমন অবস্থায় আসা যাওয়া করতে পারে।
 (৫) ছিদ্রটির পাশের লেখা দেখে শিটের গেজ নম্বর পাওয়া যাবে।
 (৬) উক্ত গেজ নম্বর অনুযায়ী শিটের পুরুত্ব স্ট্যান্ডার্ড গেজ টেবিল থেকে নির্ধারণ কর।

৯.৩ গর্যার গেজের সাহায্যে বক্রাক্রমের ক্রিয়াক্রমের পরিমাপকরণ :

- (১) গর্যাকিং টেবিল, সারকেস প্রেট ও গর্যার গেজ ওয়েস্ট কটন দিয়ে পরিষ্কার কর।
- (২) পরীক্ষণীয় মেইল ও ফিমেইল পার্টের জালোভাবে পরিষ্কার কর।
- (৩) ডি-ব্লকের উপর প্রথমে ফিমেইল পার্ট স্থাপন কর।
- (৪) ফিমেইল পার্টের ভিতর মেইল পার্ট সেট কর।
- (৫) ফিমেইল পার্ট ও মেইল পার্টের মাঝে যে ফাঁকা স্থান রয়েছে সেখানে একটি গর্যার প্রবেশ করাও যাতে গর্যারটি খুব টাইট ও না আবার খুব ঢিলাও না হয়।
- (৬) উক্ত গর্যারটি আবার গর্যার গেজের সঙ্গায় সাইজের হিষ্টের মধ্যে প্রবেশ করাও।
- (৭) সঠিক গর্যার গেজ সাইজ নির্ধারণ কর।
- (৮) স্ট্যান্ডার্ড গর্যার গেজ টেবিল হতে গেজ নম্বর অনুযায়ী ব্যাল নির্ধারণ কর।
- (৯) উক্ত ব্যালই অ্যালাউয়েল।
- (১০) অ্যালাউয়েল এর অর্ধেক দানই নির্ণয় ক্রিয়াক্রমের।



চিত্র-৯.৫ঃ ক্রিয়াক্রম নির্ণয়।

ক্রিয়াক্রম = অ্যালাউয়েল + ২


অধ্যায়-১০

সাইন বার ব্যবহারে দক্ষতা অর্জন (Develop Skill to use Sine Bar)

উদ্দেশ্য :

- (১) সাইন বার ব্যবহার করে টেশার কোণ নির্ণয় করা।
- (২) সাইন বার ব্যবহার করে চালু তলের ঢাল নির্ণয় করা।

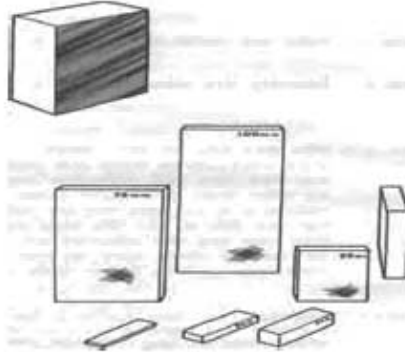
সাইন বার (Sine Bar) - সাইন বার হলো মজবুত এবং অধিক মাত্রায় ফিনিশ ক্রোমিয়াম স্টিলের তৈরি একটি বার বা দণ্ড, যা উভয় প্রান্তে দুইটি সিলিন্ড্রিক্যাল রোলারের উপর স্থাপন করে থাকে। রোলারদ্বয়ের কেন্দ্র দূরত্ব ব্রিটিশ পদ্ধতিতে ৫" বা ১০" হয়ে থাকে এবং মেট্রিক পদ্ধতিতে উহা ১০০ মি.মি. বা ২৫০ মি.মি. হয়ে থাকে। রোলারদ্বয়ের কেন্দ্র দূরত্ব দ্বারা সাইন বারের সাইজ প্রকাশ করা হয়। সাইন বারের তল রোলারের তলের সাথে সমান্তরাল এবং এর তলের সূক্ষতা ১ ইঞ্চির মিলিয়ন ভাগের ৫০ ভাগ।



চিত্র-১০.১ঃ সাইন বার

স্লিপ গেজ (Slip Gauge) শলাকাকরণ :

স্লিপ গেজের অপর নাম প্রিসিশন গেজ ব্লক বা গেজ ব্লক। নির্মাতা কোম্পানীর নামানুসারেও এদের নামকরণ করা হয়। যেমন- ওয়েবার ব্লক বা জোহানশন ব্লক। গেজ ব্লক স্টিল স্টিলের তৈরি এবং এদের সূক্ষতা ১ ইঞ্চির মিলিয়ন ভাগের ২ ভাগ।



চিত্র-১০.২ঃ গেজ ব্লক

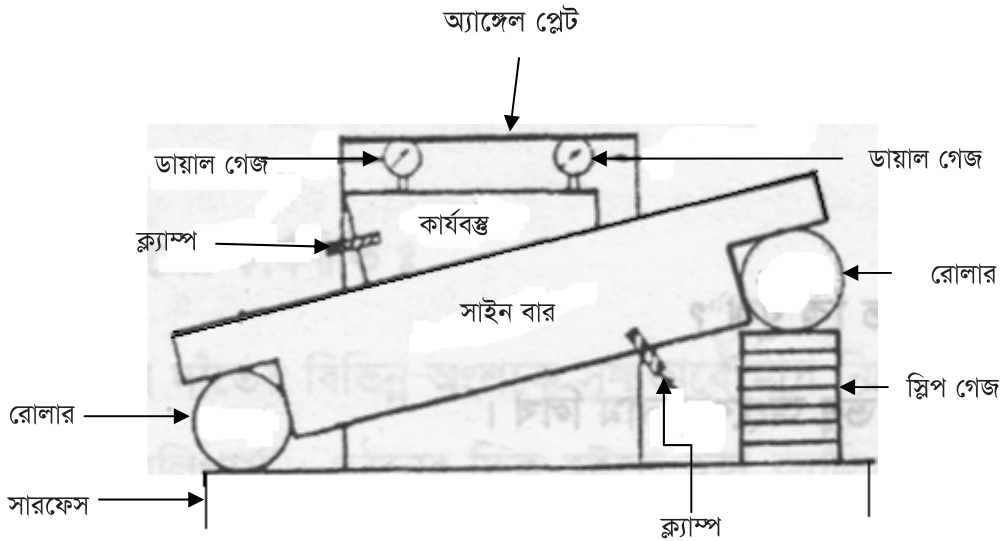
যন্ত্রপাতি নির্বাচন :

- (১) গ্যার্বিং টেবিল।
- (২) সারফেস ফ্লেট।
- (৩) টেশার কোণ পরিমাপের জন্য কার্ভবক্স

- (৪) ঢালু তলের ঢাল পরীক্ষণের জন্য ঢালু তল বিশিষ্ট কার্যবস্তু ।
- (৫) সাইন বার ।
- (৬) স্লিপ গেজ ।
- (৭) ওয়েস্ট কটন ।
- (৮) ডায়াল ইন্ডিকেটর ।
- (৯) অ্যাঙ্গেল প্লেট ।

১০.১ সাইন বার ব্যবহার করে টেপার কোণ নির্ণয় :

- ক) উপরে উল্লেখিত সকল যন্ত্রপাতি ওয়েস্ট কটন দিয়ে ভালোভাবে পরিষ্কার কর ।
- খ) সারফেস প্লেটের উপর সাইন বার রাখ ।
- গ) সাইন বারের ওপর টেপার বস্তুটি ক্ল্যাম্প দিয়ে আটকাও ।
- ঘ) চিত্রানুযায়ী সাইনবারের ডানদিকের রোলারের নিচে প্রয়োজনীয় সংখ্যক স্লিপ গেজ বসাও যাতে টেপার বস্তুটির উপরিতল সারফেস প্লেটের সমান্তরাল হয় ।
- ঙ) টেপার বস্তুটির উপরিতলের সমান্তরালতা পরীক্ষা করার জন্য চিত্রানুযায়ী ডায়াল ইন্ডিকেটর ব্যবহার কর ।

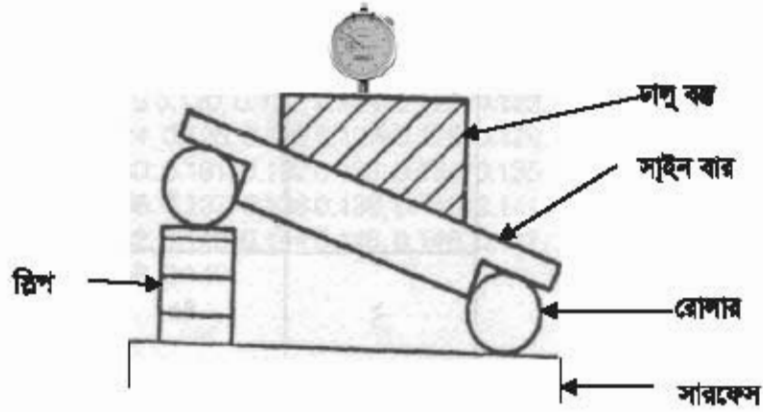


চিত্র-১০.৩ঃ সাইন বারের সাহায্যে টেপার কোণ নির্ণয় ।

১০.২ সাইন বার ব্যবহার করে ঢালু তলের ঢাল নির্ণয় :

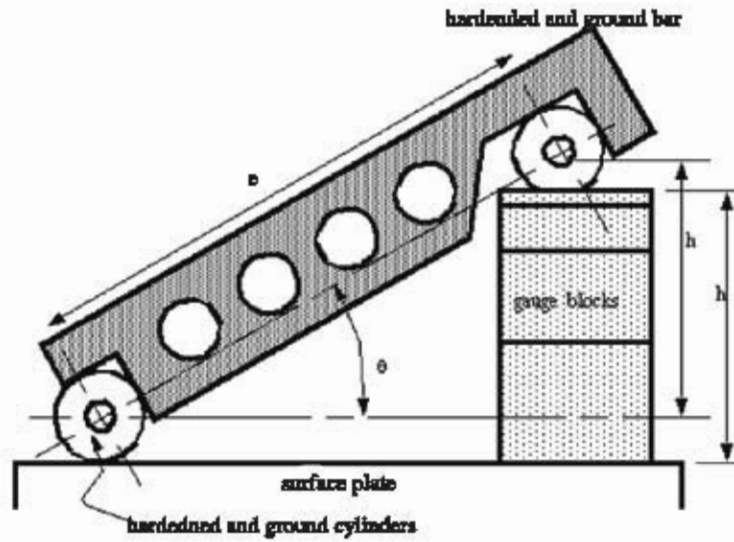
- ক) উপরে উল্লেখিত সকল যন্ত্রপাতি ওয়েস্ট কটন দিয়ে ভালোভাবে পরিষ্কার কর ।
- খ) সারফেস প্লেটের উপর সাইন বার রাখ ।
- গ) সাইন বারের ওপর ঢালু বস্তুটি ক্ল্যাম্প দিয়ে আটকাও ।
- ঘ) চিত্রানুযায়ী সাইনবারের ডানদিকের রোলারের নিচে প্রয়োজনীয় সংখ্যক স্লিপ গেজ বসাও যাতে ঢালু বস্তুটির উপরিতল সারফেস প্লেটের সমান্তরাল হয় ।

- ৩) ঢালু বস্তুটির উপরিতলের সমান্তরালতা পরীক্ষা করার জন্য চিয়ানুবারী ডায়াল ইন্ডিকেটর ব্যবহার করা।



চিত্র-১০.৪: সাইন বারের সাহায্যে ঢাল নির্ণয়।

গাণিতিক হিসাব :



c = distance between centres of ground cylinders (typically 5" or 10")
 h = height of the gauge blocks
 α = the angle of the plate

$$\alpha = \sin^{-1} \left(\frac{h}{c} \right)$$

স্ট্রিপ গেজের হাইট h ও সাইন বারের সৈর্য c জানার পর উপরোক্ত সূত্রের সাহায্যে টেপার কোণ ও ঢাল বের করা।

অধ্যায়-১১

কাটিং টুল নির্বাচন ও ব্যবহারে দক্ষতা অর্জন (Develop Skill to select and use Cutting Tools)

উদ্দেশ্য :

- (১) বিভিন্ন ধাতুর জন্য উপযুক্ত কাটিং টুল নির্বাচন করতে পারা।
- (২) মিলিং মেশিনে কাটার ফিট করতে পারা।
- (৩) পাওয়ার 'স' মেশিনে ব্লেড ফিট করতে পারা।
- (৪) থ্রেড কাটার জন্য ভি-আকৃতির টুল গ্রাইন্ডিং করতে পারা।

যন্ত্রপাতি নির্বাচন :

- (১) বিভিন্ন ধরনের কাটিং টুল সেট।
- (২) মিলিং মেশিন।
- (৩) পাওয়ার 'স' মেশিন।
- (৪) টুল গ্রাইন্ডার।
- (৫) মিলিং কাটার।
- (৬) পাওয়ার 'স' ব্লেড।
- (৭) কাটিং টুল বার।
- (৮) বিভিন্ন সাইজের সকেট রেঞ্চ।
- (৯) অ্যাডজাস্টেবল রেঞ্চ।
- (১০) গগলস।
- (১১) হেড শিল্ড।

১১.১ বিভিন্ন ধাতুর জন্য উপযুক্ত কাটিং টুল নির্বাচন করা :

- (১) প্রথমে কার্যবস্তুটি পরীক্ষা করে দেখে যে এটি কোন ম্যাটারিয়ালের তৈরি।

Cutting speeds for various materials (Based on a plain High Speed Steel cutter) :

Material type	Cutting Speed	
	meters per min	feet per min
Steel (tough)	15 - 18	50 - 60
Mild steel	30-38	100-125
Cast iron (medium)	18-24	60-80
Bronzes	24-45	80-150
Brass (soft)	45-60	150-200
Aluminium	75-105	250-350

- (২) উপরের চার্ট দেখে বোঝা যায় যে, হাইস্পিড স্টিলের কাটার দিয়ে স্টিল, মাইল্ড স্টিল, কাস্ট আয়রন (মেডিয়াম), ব্রোঞ্জ, সফট ব্রাশ, অ্যালুমিনিয়াম মেশিনিং করা যাবে। তবে তালিকা অনুযায়ী কাটিং স্পিড নির্ধারণ করতে হবে।

তাহাজ্জা নিম্নলিখিত কাটিং টুলগুলি বিশেষ বিশেষ ম্যাটারিয়াল বিশেষ বিশেষ সূক্ষতায় মেশিনিং করার জন্য নির্বাচন করা হয়ে থাকে-

মেশিনিং ম্যাটারিয়ালস	নির্ধারিত কাটিং টুল	মন্তব্য
হার্ড স্টিল, কাস্ট আয়রন, ব্রোঞ্জ, ইত্যাদি	স্টেশনারি কাটার বিট	হাইস্পিড স্টিল বিটের চেয়ে অনেক বেশি পতিতে কাজ করা যায় এমনকি বেড হট অবস্থায়ও বিকৃত হয় না।
কাস্ট আয়রন, অ্যালয়েড কাস্ট আয়রন, কপার, ব্রাশ, ব্রোঞ্জ, অ্যালুমিনিয়াম, স্যাভিট মেটাল, অ্যান্টিসিড নন-মেটালিক ম্যাটারিয়াল যেমন- কাঁচা, হার্ড রাবার এবং প্লাস্টিক।	টার্জেন্ট কার্বাইড কাটিং টুল	অতি উচ্চ পতিতে মেশিনিং করার জন্য ব্যবহার করা হয়। এই ধরনের কাটিং টুল বিশেষভাবে তৈরি সূক্ষ প্রাইভার হুইল বিশিষ্ট প্রাইভারে প্রাইভার করে নিতে হবে।
প্রায় সব ধরনের স্টিল	ক্রেন্টালাম কার্বাইড কাটিং টুল	ঐ
প্রায় সব ধরনের স্টিল	টার্জেন্টিনিয়াম কার্বাইড কাটিং টুল	ঐ

TABLE Milling Machine Cutting Speeds for High-Speed Steel Milling Cutters.


MATERIAL	CUTTING SPEED (sfpm) ^{1, 2}			
	PLAIN MILLING CUTTERS		END MILLING CUTTERS	
	Roughing	Finishing	Roughing	Finishing
Aluminum.....	400 to 1,000	400 to 1,000	400 to 1,000	400 to 1,000
Brass, composition.....	125 to 200	90 to 200	90 to 150	90 to 150
Brass, yellow.....	150 to 200	100 to 250	100 to 200	100 to 200
Bronze, phosphor and manganese.....	30 to 80	25 to 100	30 to 80	30 to 80
Cast iron (hard).....	25 to 40	10 to 30	25 to 40	20 to 45
Cast iron (soft and medium).....	40 to 75	25 to 80	35 to 65	30 to 80
Monel metal.....	50 to 75	50 to 75	40 to 60	40 to 60
Steel, hard.....	25 to 50	25 to 70	25 to 50	25 to 70
Steel, soft.....	60 to 120	45 to 110	50 to 85	45 to 100

¹ For carbon steel cutters, decrease values by 50 percent.

² For carbide-tipped Cutters, increase values by 100 percent.

১১.২ মিলিং মেশিনে কাটার কিট করার কৌশল :

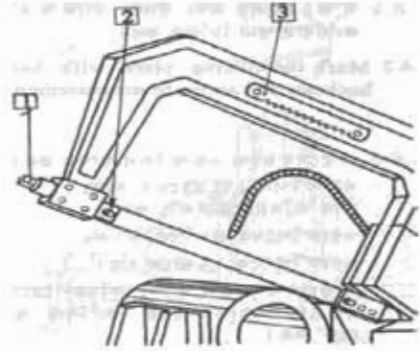
- (১) মিলিং কাটার মাউন্টিং ডিভাইস যেমন- স্টেইট কাটার আরবার, কেইস মিলিং কাটার আরবার, শেল এন্ড মিলিং কাটার অ্যাডাপ্টার, ব্লাই কাটার আরবার, কাটার অ্যাডাপ্টার, ইত্যাদি শনাক্ত কর।
- (২) কাটারকে নির্ধারিত আরবারের সাথে দৃঢ়ভাবে বাঁধ।
- (৩) আরবারকে মেশিনের সাথে দৃঢ়ভাবে সেট কর।



চিত্র-১১.১৪ মিলিং মেশিনে কাটার সেট করা।

পাওয়ার 'স' মেশিনে ব্রেড কিট করার কৌশল :

- (১) পাওয়ার 'স' ফ্রেমে ব্রেড কিট করার জন্য প্রথমে ব্রেডের দাঁতের গতির দিক নিশ্চিত হও। সাধারণত পাওয়ার হ্যাক 'স' এর টানা স্ট্রোকই হলো কাটিং স্ট্রোক। কাটিং স্ট্রোকে ব্রেড নিয়ন্ত্রণ সহকারে অগ্রসর হয়।
- (২) ফ্রেমের গারে ব্রেড সেট করার দিক নির্দেশনা থাকতে পারে। উক্ত নির্দেশনা পরীক্ষা করে অনুসরণ কর।



চিত্র-১১.২ পাওয়ার হ্যাক 'স' মেশিনে ব্রেড সেট করা।

(৩) ব্রেড সেটিং এর জন্য -

- (ক) ব্রেড ক্ল্যাম্পিং জু-বয় (২) খোল।
- (খ) সঠিক সাইজের রেক ব্যবহার কর।
- (গ) ব্রেড টেনশনিং নাট (১) টিলা কর।
- (ঘ) দাঁতের সঠিক দিক বিবেচনা করে ব্রেড সেট কর এবং জু-বয় টাইট দাও।
- (ঙ) ব্রেড টেনশনিং নাট পূর্ণভাবে টাইট দাও।

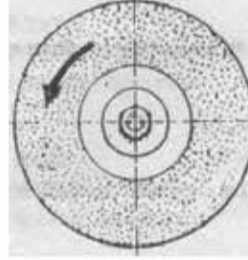
ব্রেড কাটার জন্য ডি-আকৃতির ব্রেড কাটিং টুল গ্রাইন্ডিং করার কৌশল :

- (১) পেডেস্টাল গ্রাইন্ডার পরিষ্কার কর।
- (২) সেকটি গগলস পরিধান কর।
- (৩) হ্যান্ড গ্লাভস পরিধান কর।
- (৪) হেড শিল্ড পরিধান কর।



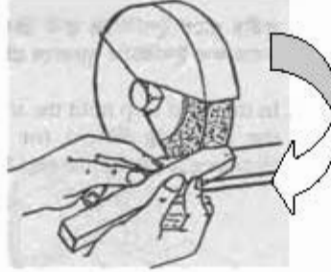
চিত্র-১১.৩ হ্যান্ড গ্লাভস, গগলস ও হেডশিল্ড পরিধান করা।

- (৫) গ্রাইন্ডার চালু কর।
 (৬) গ্রাইন্ডিং হইলের ঘূর্ণনের দিক যেন নিচের দিকে হয় সেটি খেয়াল কর।



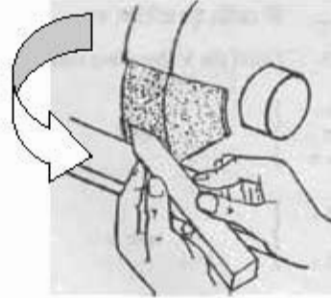
চিত্র-১১.৪ঃ গ্রাইন্ডিং হইলের ঘূর্ণনের সঠিক দিক।

- (৭) প্রথম ধাপে বামপার্শ্ব গ্রাইন্ডিং করার জন্য টুলবিটকে দৃঢ়ভাবে গ্রাইন্ডিং হইলে ধর।



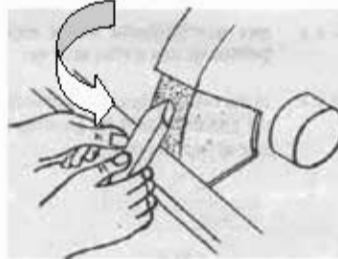
চিত্র-১১.৫ঃ ডি গ্রেডিং টুলের বামপার্শ্ব গ্রাইন্ডিং করা।

- (৮) গ্রাইন্ডিং হইল সম্পর্কে যত্নবান হও। গ্রাইন্ডিং হইলের পূর্ণ চপড় ব্যবহার টুলবিট চলাচল করাও।
 (৯) হইলের পূর্ণ চপড়া ব্যবহৃত না হলে চিত্রে এদর্শিতভাবে গ্রাইন্ডিং হইল করা হবে।
 (১০) দ্বিতীয় ধাপে ডান সাইড ক্লিনারেল অ্যাঙ্গেল গ্রাইন্ডিং করার জন্য টুলবিটকে দৃঢ়ভাবে গ্রাইন্ডিং হইলে ধর।



চিত্র-১১.৬ঃ ডি গ্রেডিং টুলের ডানপার্শ্ব গ্রাইন্ডিং করা।

- (১১) তৃতীয় ধাপে চিত্রে এদর্শিত উপারে ফ্রন্ট ক্লিনারেল অ্যাঙ্গেল গ্রাইন্ডিং করার জন্য টুলবিটকে দৃঢ়ভাবে গ্রাইন্ডিং হইলে ধর।



চিত্র-১১.৭ঃ ডি গ্রেডিং টুলের ফ্রন্ট ক্লিনারেল অ্যাঙ্গেল গ্রাইন্ডিং করা।

অধ্যায়-১২

লুব্রিকেন্ট সম্পর্কে দক্ষতা অর্জন (Develop Skill about Lubricant)

উদ্দেশ্য :

- (১) বিভিন্ন প্রকার লুব্রিকেন্টস সম্পর্কে জানা।
- (২) মেশিন এবং কাজের ধরন অনুযায়ী লুব্রিকেন্টস নির্বাচন করতে পারা।
- (৩) মেশিনের চলমান অংশগুলোতে লুব্রিকেন্টস প্রয়োগে দক্ষতা অর্জন করা।

প্রয়োজনীয় লুব্রিকেন্টসমূহঃ

- ১) গালফ গালফওয়ে-৫২ (Gulf Gulfway-52)
- ২) গালফ হারমনি-৫৩ (Gulf Harmony-53)
- ৩) গালফ হারমনি-৪৩ এডরিউ (Gulf Harmony-43 AW)
- ৪) ক্যালটেক্স ওয়েলুব্রিকেন্ট (Caltex Waylubricant)
- ৫) ক্যালটেক্স অয়েল এইচডিএ (Caltex Oil HDA)
- ৬) ক্যালটেক্স র্যান্ডো অয়েল এইচডিসি (Caltex Rando Oil HDC)
- ৭) ক্যালটেক্স রিগ্যাল অয়েল এ আর এন্ড ও (Caltex Regal Oil A R & O)
- ৮) শেল টেলাস অয়েল-২৭ (Shell Tellus-27)
- ৯) শেল টেলাস অয়েল-২৯ (Shell Tellus-29)
- ১০) শেল টোনা অয়েল-৩৩ (Shell Tonna Oil-33)
- ১১) ক্যাস্ট্রল মেঘনা বিডি (Castrol Meghna BD)
- ১২) ক্যাস্ট্রল হিসপিন-৮০ (Castrol Hypsin-80)
- ১৩) ক্যাস্ট্রল হিসপিন-১০০ (Castrol Hypsin-100)
- ১৪) মবিল ভ্যাকট্রা অয়েল-২ (Mobil Vactra Oil-2)
- ১৫) মবিল ভ্যাকট্রা অয়েল হেভি মিডিয়াম (Mobil Vactra Oil Heavy Medium)
- ১৬) মবিল ডিটিই-২৫ (Mobil DTE-25)
- ১৭) বিডি ইনারগল এইচপি ২০সি (BD Energol HP 20C)
- ১৮) বিডি ইনারগল এইচএলপি ৮০ (BD Energol HLP 80)
- ১৯) বিডি ইনারগল এইচএলপি ১০০ (BD Energol HLP 100)
- ২০) এসো ফেবিস কে-৫৩ (Esso Febis K-53)
- ২১) এসো নুটো এইচ-৫৪ (Esso Nuto H-54)
- ২২) এসো ইউনিভিস জে-৫৮ (Esso Univis J-58)
- ২৩) টেকসাকো ওয়েলুব্রিকেন্ট ডি (Texaco Waylubricant D)
- ২৪) টেকসাকো রিগ্যাল অয়েল পিসি আর-৮০ (Texaco Regal Oil PC R-80)
- ২৫) টেকসাকো রিগ্যাল অয়েল এ আর ৮০ (Texaco Regal Oil A R-80)
- ২৬) টেকসাকো র্যান্ডো অয়েল এইচডিসি (Texaco Rando Oil HDC)

- ২৭) টেকসাকো র্যান্ডো অয়েল এইচডিএ (Texaco Rando Oil HDA)
- ২৮) নাইনাস টিডি-৩৩ ওএ (Nynus TD-33 OA)
- ২৯) নাইনাস টিডি-২৭ ইএক্স (Nynus TD-27 EX)

বিভিন্ন গ্রেডের গ্রিঞ্জ -

- ১) শেল অ্যাভলেনিয়া গ্রিঞ্জ-৩ (Shell Avlania Grease-3)
- ২) মবিল প্লেক্স নং ৪৮ (Mobil Plex No 48)
- ৩) বিডি ইনারগ্রিঞ্জ (BD Energrease)
- ৪) ক্যালটেক্স রিগ্যাল স্টারফাক প্রিমিয়াম (Caltex Regal Starfak Premium)
- ৫) নাইনাস এফএল৩-৪২ (Nynus FL3-42)
- ৬) এসো অ্যানডক এম২৭৫ (Esso Andok M275)
- ৭) গালফ ইউনিভারসেল গ্রিঞ্জ ইপি-টাইপ (Gulf Universal Grease EP-Type)
- ৮) ক্যাস্ট্রল স্ফিয়ারাল এপি-৩ (Castrol Spheeral AP3)

১২.১ মেশিনের চলমান অংশ চিহ্নিত করে লুব্রিকেটিং করা :

- (১) মেশিন শপের যন্ত্রপাতিসমূহের সকল চলমান অংশ চিহ্নিত কর।
- (২) প্রত্যেক মেশিনের লুব্রিকেটিং চার্ট তৈরি করে মেশিনের সামনে ঝুলিয়ে রাখ।
- (৩) লুব্রিকেটিং চার্টে যন্ত্রের লুব্রিকেটিং পয়েন্টসমূহ উল্লেখ কর।
- (৪) লুব্রিকেটিং চার্ট অনুযায়ী সঠিক প্রকারের লুব্রিকেন্টস সংগ্রহ কর।
- (৫) লুব্রিকেটিং চার্ট অনুযায়ী নির্ধারিত লুব্রিকেন্ট প্রয়োগ কর।

-----o-----

২০২০ শিক্ষাবর্ষ
মেশিন টুলস অপারেশন-১

কারিগরি শিক্ষা আত্মনির্ভরশীলতার চাবিকাঠি

তথ্য, সেবা ও সামাজিক সমস্যা প্রতিকারের জন্য '৩৩৩' কলসেন্টারে ফোন করুন

নারী ও শিশু নির্যাতনের ঘটনা ঘটলে প্রতিকার ও প্রতিরোধের জন্য ন্যাশনাল হেল্পলাইন সেন্টারে
১০৯ নম্বর-এ (টোল ফ্রি, ২৪ ঘণ্টা সার্ভিস) ফোন করুন



শিক্ষা মন্ত্রণালয়

২০১০ শিক্ষাবর্ষ থেকে গণপ্রজাতন্ত্রী বাংলাদেশ সরকার কর্তৃক
বিনামূল্যে বিতরণের জন্য